

This file was downloaded from the American Curriculum website



1 Term Test Math الملف

[Almanahj Website](#) → [American curriculum](#) → [2nd Grade](#) → [Math](#) → [Term 1](#) → [The file](#)

More files for 2nd Grade , Subject Math , Term 1

Multi Digit Addition and Subtraction Test	1
Worksheet about multiply numbers	2
Math Diagnostic Test	3
Math Test Term 1	4
Worksheet about Factors Maths	5
Worksheet about Multiplication and length	6
Worksheet about math review	7

Multiple choice: Circle the correct answer.

(Khoanh tròn đáp án đúng).

1. Choose the correct symbol: (Chọn dấu phù hợp)

a. $65 \square 56$

$<$

$=$

$>$

b. $9 + 8 \square 2 \times 9$

$<$

$=$ FROM

$>$

2. Count: (Tính)

a. $3 \times 7 = \dots\dots\dots$

27

24

21

b. $40 \times 0 = \dots\dots\dots$

40

0

1

3. Arrange the numbers from least to greatest: 92 ; 19 ; 62 ; 29

(Sắp xếp các số theo thứ tự từ bé đến lớn)

92 ; 62 ; 29 ; 19

19 ; 29 ; 62 ; 92

19 ; 62 ; 29 ; 92

4. Which picture is quadrangle? (Hình nào là hình tứ giác?)



5. Match: (Nối)

$$4 + 4 + 4 + 4 + 4$$

20

$$3 \times 5$$

$$5 + 5 + 5$$

15

$$5 \times 4$$

6. Calculate vertically: (Đặt tính dọc)

a. $28 + 36$




b. $77 + 9$



c. $92 - 60$

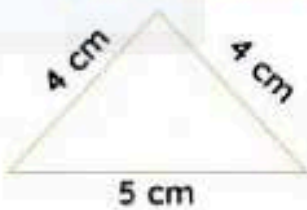


d. $62 - 45$



7. Calculate the perimeter of the shape below:

(Tính chu vi của hình bên dưới)



Chu vi của hình tam giác là:

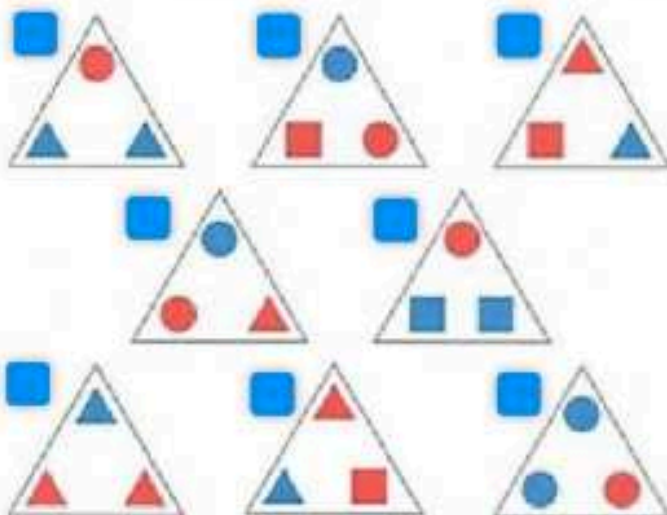
8. Count: (Tính)

a. $6 \times 5 + 38 = \dots$

b. $30 - 6 \times 3 = \dots$

9. Choose the two triangles with the same pattern.

(Chọn 2 hình tam giác có họa tiết giống nhau):



10. Find the missing numbers: (Điền số thích hợp)

a. $72 - \boxed{\dots\dots\dots} = 36$

b. $18 + \boxed{\dots\dots\dots} = 40$

c. $\boxed{\dots\dots\dots} - 9 = 82$

d. $\boxed{\dots\dots\dots} : 5 = 7$

11. Một chiếc xe ô tô có 4 bánh xe. Hỏi 6 chiếc xe ô tô có tất cả bao nhiêu bánh xe?



Trả lời: 6 chiếc xe ô tô có

-----Hết-----