

أسئلة اختبار تشخيصي اختيار من متعدد



تم تحميل هذا الملف من موقع المناهج السعودية

موقع المناهج ← المناهج السعودية ← الصف السادس ← علوم ← الفصل الأول ← ملفات متنوعة ← الملف

تاريخ إضافة الملف على موقع المناهج: 06:49:54 2025-08-12

ملفات اكتب للمعلم اكتب للطالب الاختبارات الكترونية الاختبارات ا حلول ا عروض بوربوينت ا أوراق عمل
منهج انجليزي ا ملخصات وتقارير ا مذكرات وبنوك الامتحان النهائي للمدرس

المزيد من مادة
علوم:

التواصل الاجتماعي بحسب الصف السادس



صفحة المناهج
السعودية على
فيسبوك

الرياضيات

اللغة الانجليزية

اللغة العربية

التربية الاسلامية

المواد على تلغرام

المزيد من الملفات بحسب الصف السادس والمادة علوم في الفصل الأول

تحميل كتاب الطالب طبعة 1447هـ الجزء الأول من المقرر

1

نموذج الاختبار النهائي 1446هـ

2

الاختبار النهائي للفصل الأول 1446هـ

3

إجابة المراجعة العامة النهائية

4

مراجعة عامة نهائية

5

الاسم :

الفصل :

الاختبار التشخيصي مادة العلوم / الصف السادس النموذج (١)

اختر الإجابة الصحيحة بوضع دائرة حول الحرف الدال على الإجابة

| | | |
|-----|--|---|
| ١ | أي العبارات التالية صحيحة للانقسام المتساوي؟ | |
| (أ) | تنفصل أزواج الكروموسومات في بداية الانقسام. | (ب) تصطف أزواج الكروموسومات في المرحلة الأخيرة من الانقسام. |
| (ج) | تضاعفت الكروموسومات نفسها قبل بدء الانقسام. | (د) تصبح الكروموسومات واضحة بواسطة المجهر في المرحلة الأخيرة من الانقسام. |

٢ الجدول التالي يبين وظائف بعض أجزاء الخلية النباتية، ما الوظيفة المناسبة لملء الفراغ:

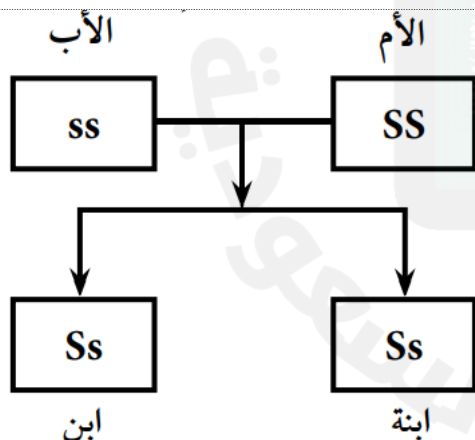
| الوظيفة | اسم الجزء |
|---------------------|---------------|
| يوفر الحماية والدعم | الجدار الخلوي |
| يساعد في صنع الغذاء | الكلوروفيل |
| | النواة |

| | | |
|-----|-------------------------------|-----------------------------|
| (أ) | تنتج الطاقة في الخلية. | (ب) تحتفظ بالماء والفضلات. |
| (ج) | تعطي الخلية شكلا يشبه الصندوق | (د) تتحكم في نشاطات الخلية. |

٣ الصفة التي تتأثر بالبيئة أو التدريب تُعرف ب:

| | | |
|-----|----------------|--------------------|
| (أ) | الصفة المتنحية | (ب) الصفة السائدة |
| (ج) | الصفة المكتسبة | (د) الصفة الموروثة |

٤ في مخطط السلالة التالي، (S) يمثل الجين السائد للشعر المجعد و (s) يمثل الجين المتنحي للشعر الأملس .

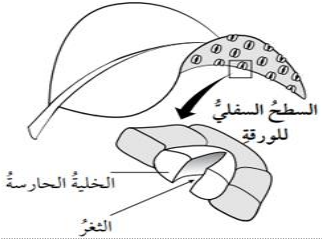


أي الأشخاص التالية شعره أملس؟

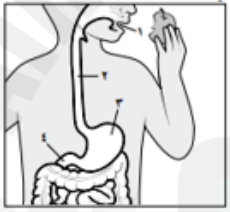
| | | |
|-----|--------|-----------|
| (أ) | الأم | (ب) الأب |
| (ج) | الابنة | (د) الابن |


٥ تتكاثر النباتات اللابذرية عن طريق:

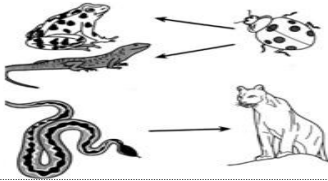
| | | |
|-----|---------|-----------------|
| (أ) | الأبواغ | (ب) البذور |
| (ج) | الزهرة | (د) حبوب اللقاح |

| | | | |
|-----|---|-----|--------------------|
| ٦ | يوضح الشكل التالي ورقة نبات • ما المادة التي تُستعمل في عملية البناء الضوئي، وتدخل الثغر، كما هو موضح بالأسهم؟ | | |
| |  | | |
| (أ) | الماء | (ب) | ثاني أكسيد الكربون |
| (ج) | الأكسجين | (د) | الطاقة الضوئية |

| | | | |
|-----|--|-----|--------------|
| ٧ | يوضح الشكل التالي طريقة للتكاثر بين خليتين بكتيريتين • أي العمليات التالية يوضحها الشكل التالي؟ | | |
| |  | | |
| (أ) | الانشطار الثنائي | (ب) | تكون الأبواغ |
| (ج) | الاقتران | (د) | التبرعم |

| | | | |
|-----|---|-----|---|
| ٨ | يوضح الشكل التالي جهاز الهضم في الإنسان • أي تركيب ليس له دور في تجزئة الغذاء إلى جزيئات أصغر؟ | | |
| |  | | |
| (أ) | ١ | (ب) | ٢ |
| (ج) | ٣ | (د) | ٤ |

| | | | |
|-----|---|-----|-----------------------|
| ٩ | ماذا يوضح الشكل التالي؟ | | |
| |  | | |
| (أ) | دوران الأرض حول محورها | (ب) | دوران الأرض حول الشمس |
| (ج) | خسوف القمر | (د) | كسوف الشمس |

| | | | |
|-----|---|-----|-----------------------|
| ١٠ | انظر إلى الشكل أدناه : أي مما يلي يصف انتقال الطاقة ؟ | | |
| |  | | |
| (أ) | من الخنفساء إلى الضفدع | (ب) | من الضفدع إلى الثعبان |
| (ج) | من الأسد إلى الثعبان | (د) | من الأسد إلى الضفدع |

انتهت الأسئلة