

اختبار الفترة الأولى غير محلول



تم تحميل هذا الملف من موقع المناهج السعودية

موقع المناهج ← المناهج السعودية ← الصف الثالث ← رياضيات ← الفصل الثاني ← اختبارات ← الملف

تاريخ إضافة الملف على موقع المناهج: 2026-04-12 11:20:18

ملفات اكتب للمعلم اكتب للطالب | الاختبارات الكترونية | اختبارات | حلول | عروض بوربوينت | أوراق عمل
منهج انجليزي | ملخصات وتقارير | مذكرات وبنوك | الامتحان النهائي للمدرس

المزيد من مادة
رياضيات:

إعداد: مدارس رياض الإحسان

التواصل الاجتماعي بحسب الصف الثالث



صفحة المناهج
السعودية على
فيسبوك

الرياضيات

اللغة الانجليزية

اللغة العربية

التربية الاسلامية

المواد على تلغرام

المزيد من الملفات بحسب الصف الثالث والمادة رياضيات في الفصل الثاني

إجابة ورقة عمل للأسبوع التاسع قراءة الساعة المجسمات

1

ورقة عمل للأسبوع التاسع قراءة الساعة المجسمات غير محلول

2

الاختبار المحاكي الأول لاختبار نافس غير محلول

3

حلول ملزمة اختبارات نافس التجريبية 1447هـ


4

ملزمة اختبارات نافس التجريبية غير محلولة 1447هـ

5

كم عدد العصافير في الصورة ؟

1



عَصَافِيرَ

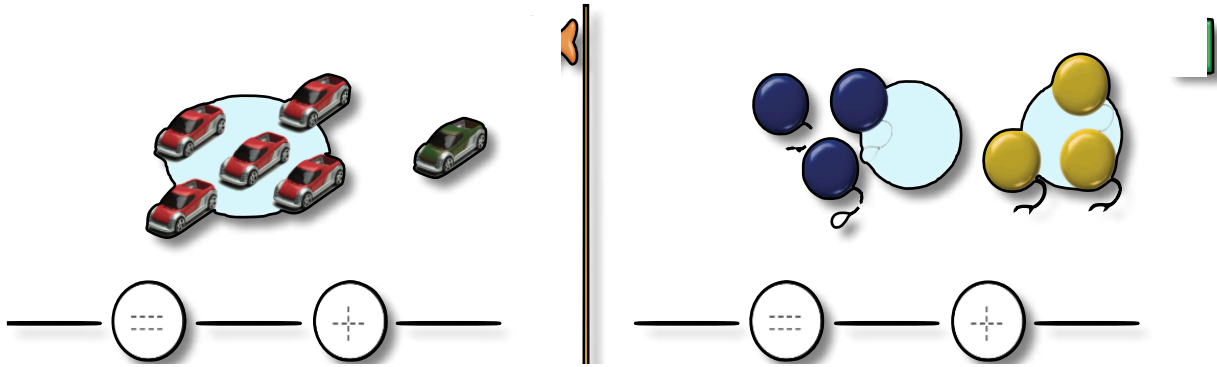
السؤال الخامس : أوجدي مجموع الأجزاء

1

جزء	جزء
١	٢
الكل	
.....	

السؤال السادس : أوجدي جملة الجمع للأشكال التي أمامك

2



أثق بحلكن صغيراتي ...

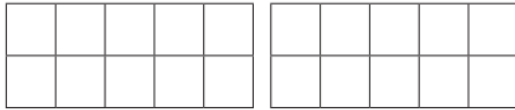
مديرة المدرسة :
أ.وفاء القريعان

المعلمة الأولى للصفوف المبكرة :
أ.منى المويزر

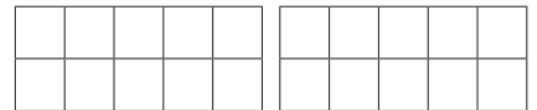
معلمة المادة : نورة البشري

اختبار منتصف الفصل الدراسي الثاني - (الدور الأول) - للعام الدراسي ١٤٤٤هـ.

1 - ارسم كرات :



17

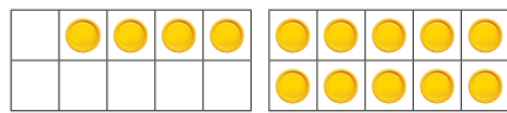


15

2 - أعد الأشكال واكتب العدد :



.....



.....

3 - أعد ثم أحوط العدد الأكبر :



4 - اكتب جملة الجمع المناسبة :



= ١ + ٣



= ١ + ٦

5 - أوجد ناتج الجمع :

..... = 4 + 3

..... = 2 + 2

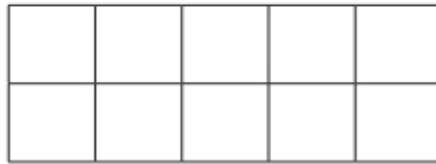
..... = 1 + 8

..... = 5 + 0

6 - كون العدد 6 باستخدام الألوان :

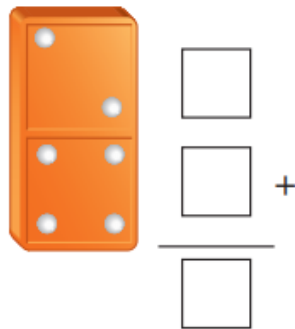
٦	=	—	+	—	○ ○ ○ ○ ○ ○ ○ ○
٦	=	—	+	—	○ ○ ○ ○ ○ ○ ○ ○
٦	=	—	+	—	○ ○ ○ ○ ○ ○ ○ ○

7 - كون العدد 12 ثم اكتب العبارة :

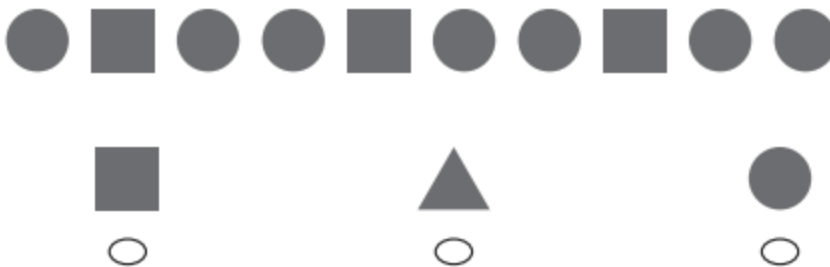


12 = — + —

8 - اكتب عبارة الجمع الأفقي والجمع العمودي :



— = — + —



9 - أعد الأشكال :

انتهت الأسئلة

مـ ع تمنياتنا لكم بالـتـوفـيـق والـنـجـاح
تم العمل من قبل موقع منهجي