

دفتر العلوم للفصل الأول 1447هـ



تم تحميل هذا الملف من موقع المناهج السعودية

موقع المناهج ← المناهج السعودية ← الصف الثاني ← علوم ← الفصل الأول ← ملفات متنوعة ← الملف

تاريخ إضافة الملف على موقع المناهج: 06:18:15 2025-08-31

ملفات اكتب للمعلم اكتب للطالب | اختبارات الكترونية | اختبارات | حلول | عروض بوربوينت | أوراق عمل
منهج انجليزي | ملخصات وتقارير | مذكرات وبنوك | الامتحان النهائي للمدرس

المزيد من مادة
علوم:

التواصل الاجتماعي بحسب الصف الثاني



صفحة المناهج
السعودية على
فيسبوك

الرياضيات

اللغة الانجليزية

اللغة العربية

التربية الاسلامية

المواد على تلغرام

المزيد من الملفات بحسب الصف الثاني والمادة علوم في الفصل الأول

خطة الأسبوع الثاني لدرس حاجات المخلوقات الحية

1

الاختبار التشخيصي للعام 1447هـ

2

نموذج اختبار تشخيصي للمهارات 1447هـ

3

خطة الأسبوع الأول 1447هـ

4

توزيع المقرر للفصل الأول 1447هـ

5

بطاقة متابعة

الفصل الدراسي / الأول..... الجزء الأول

الاسم /

الصف / ثاني

المدرسة /

م	الشهر	الواجبات	المهام الادائية	المشاركة	الاختبارات القصيرة	ملاحظات المعلم/ة	توقيع ولي الامر
١							
٢							
٣							
٤							

مديرة-ة المدرسة /

معلم/ة المادة /

التوقيع /

التوقيع /

التاريخ /

التاريخ /

* الدفتر لا يغني عن الكتاب المدرسي

*الإجابة بيد الطالب-ة فقط بدون تدخل

*الدفتر مساحة حرة لك للإجابة على أهم المهارات بخطك الجميل .



استمارة متابعة مستوى الطالبة في مادة العلوم الصف ثاني الفصل الأول

اسم الطالبة /...../ الصف /...../

ملاحظات وتعزيز	توقيع ولي الامر	توقيع المعلمة	مستوى الاداء				المعيار
			د	ج	ب	أ	
							ممارسة الطريقة العلمية التي يستخدمها العلماء بصورة مبسطة *
							تفسير اعتبار النباتات مخلوقات حية
							تعداد حاجات النباتات *
							وصف مبسط للبذرة مع بيان مصدرها
							ترتيب مجموعة صور لمراحل دورة حياة نبات ما *
							تصنيف الحيوانات والمقارنة بينها تبعاً لصفاتهما الجسمية من خلال قراءة الصور
							ترتيب مراحل دورة حياة حيوان ما من خلال الصور *
							المقارنة بين دورة حياة حيوانين مختلفين من خلال الصور
							ممارسة الطريقة العلمية التي يستخدمها العلماء بصورة مبسطة *
							توضيح كيفية استخدام بعض الحيوانات لمواطنها
							توضيح كيفية استخدام بعض النباتات لمواطنها
							تكوين سلسلة غذائية في موطن ما بترتيب مجموعة من الصور
							تحديد الفريسة والمفترس في السلسلة الغذائية
							تعداد بعض أنواع المواطن
							التمثيل لبعض المخلوقات الحية التي تعيش في مواطن مختلفة
							تسمية بعض أشكال اليابسة
							تعداد بعض مصادر الماء على الأرض
							تقديم كتابة حول ترشيد استهلاك الماء
							معرفة مفهوم (الصخور, المعادن)
							تعداد بعض الأنواع المختلفة من التربة

أقرأ وأتعلم

من خلال قراءتك للصفحات من (٣٢ - ٣٥) ... الفهم القرأني

بادرة

المعادن

الأكسجين

ضع-ي المفردات الآتية أمام ما يناسبها :

١-..... هو الغاز الذي يتنفسه المخلوق الحي .

٢-..... بذرة بداخلها نبات صغير .

٣-..... أجزاء صلبة غير حية من التربة.




ما حاجات المخلوقات الحية ؟

١-.....

٢-.....

٣-.....



ما الذي تحتاج إليه النباتات لكي تنمو؟



نرتب مراحل نمو النبات؟ (بذرة- نبات صغير - نبات كبير)



الدرس الثاني / النباتات تنتج نباتات جديدة

أقرأ وأتعلم

من خلال قراءتك للصفحات من (٤٠-٤٤) ... الفهم القرائي

ضع-ي المفردات الآتية أمام ما يناسبها :

الزهرة
البذرة
حبوب اللقاح
دورة الحياة

- ١-..... مسحوق يتكون داخل الزهرة ينتج البذور.
- ٢-..... جزء من النبات له ألوان مختلفة يكون البذور و الثمار.
- ٣-..... جزء من النبات ينمو ويصير نباتًا جديدًا .
- ٤- تين..... كيف ينمو المخلوق الحي ويعيش ويتكاثر ثم يموت .



ما الذي يساعد في نقل حبوب اللقاح للنبات؟

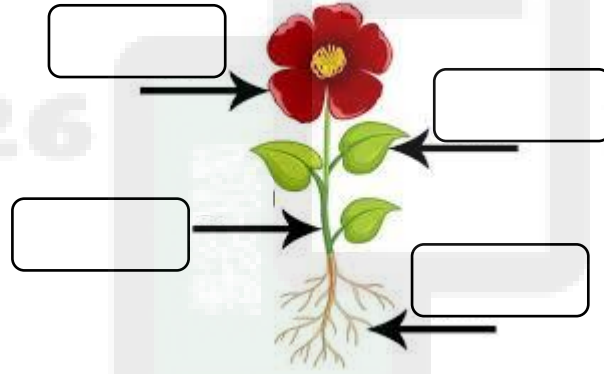


...../٣

...../٢



...../١

أكتب أجزاء النبات ..



دورة حياة شجرة الرمان

تأكد ما إذا تصير بذرة الرمان بعد أن تنمو؟



أقرأ الشغل


أيّن تتكوّن بذور الرمان؟

الزهرة
دورة الحياة
حبوب اللقاح
البذرة

أكمل كلاً من الجمل التالية بالكلمة المناسبة :

- ١- تبين كيف ينمو المخلوق الحي ويعيش، وينتج ثم يموت .
- ٢- جزء النبات له الوان مختلفة يكون البذور يسمى
- ٣- تمنو هذه وتصير نباتاً جديداً .
- ٤- المسحوق الذي تحتاج إليه الأزهار لإنتاج البذور يسمى

أرتب الصور التالية ، بحيث تظهر دورة حياة نبات الفاصوليا ، أستخدم الأرقام من ١-٤ ؟



أختار الإجابة الصحيحة:

تبدأ دورة حياة النبات بـ.....		
الأوراق	الساق	البذرة
الجزء الذي يكون البذور والثمار في النبات هو		
الساق	الزهرة	الجزور
تختلف النباتات عن بقية المخلوقات الحية في أنها تحتاج إلى ..		
ضوء الشمس لتنتج غذاء	الهواء لتنمو	الماء لتعيش



أقرأ وأتعلم

من خلال قراءتك للصفحات من (٥٤-٥٧) الفهم القرأني

ضع-ي المفردات الآتية أمام ما يناسبها من عبارات :

الثدييات

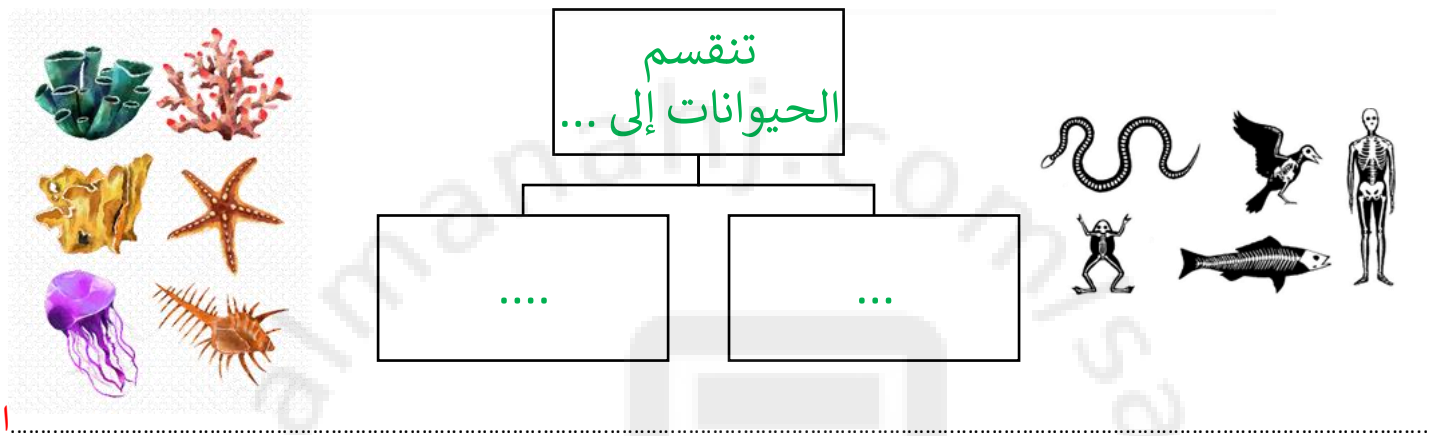
الطيور

الأسماك

١- حيوانات يغطي جسمها الريش ولها منقار .

٢- حيوانات يغطي جسمها الشعر أو الفرو وترضع صغارها .


٣- فقاريات تغطي أجسامها قشور وتعيش في الماء.



اختر الجابة الصحيحة:

من الفقاريات وتبدأ حياتها في الماء ...	البرمائيات	الزواحف
الثدييات		
جلدها خشن ومغطي بالحرشف لحمايتها ...	البرمائيات	الزواحف
الطيور		
حيوانات ليس لها عمود فقري	السحلية	الجرادة
الضفدع		

مجموعة الفقاريات






حيوانات يغطي جسمها الريش
ولها رجلان وجناحان



فقاريات يغطي جسمها
قشور وتعيش في الماء



تبدأ حياتها بالماء وجلدها
رطب



حيوانات يغطي جسمها الشعر أو
الفرو وتتنفس عن طريق الرئتين



حيوانات ليس لها عمود فقري
وتغطي أجسامها بغطاء صلب



أقرأ وأتعلم

من خلال قراءتك للصفحات من (٦٢-٦٥) الفهم القرآني

ضع-ي المفردات الآتية أمام ما يناسبها من عبارات :

اليرقة

العدراء

دورة الحياة

١-.....المراحل التي يمر بها المخلوق الحي في حياته.

٢-..... مرحلة في دورة حياة بعض الحيوانات تمر بها بعد ما تفقس البيض .

٣-..... مرحلة يحاط فيها المخلوق الحي بشرنقة صلبة .

أكتب دورة حياة الماعز:




ماعز صغير

ماعز حديث الولادة

ماعز مكتمل النمو

أكتب دورة حياة الفراشة:



يرقة

عدراء

بيضة

فراشة مكتملة النمو

ثدياً
الحشرة
زواحف
دورة الحياة

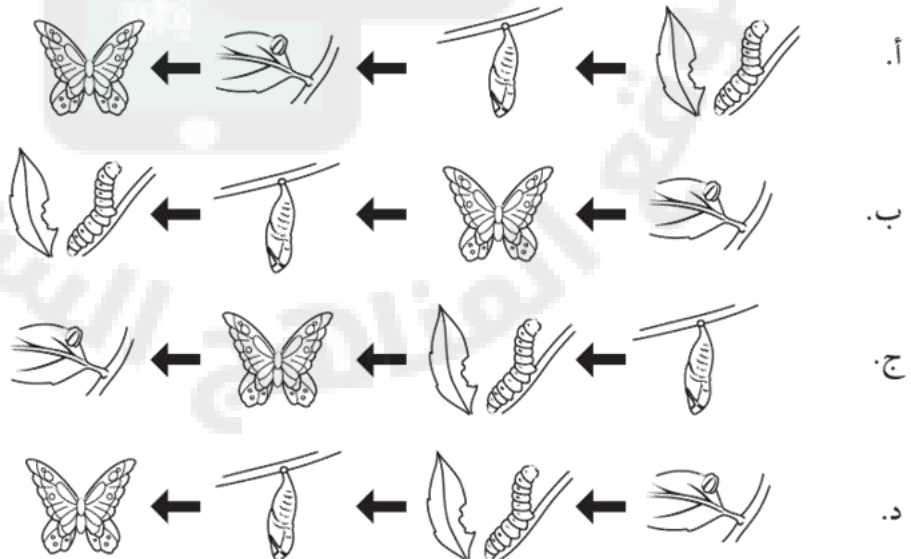
أكمل كلاً من الجمل التالية بما يناسبها من القائمة :

- ١- الحيوان الذي يرضع صغاره الحليب يسمى
- ٢- الحيوانات التي تغطي أجسامها الحراشف تسمى
- ٣- تبين كيف ينمو الحيوان ويتغير .
- ٤- حيوان له ستة أرجل وغطاء خارجي صلب .

أصنف الحيوانات التالية إلى فقاريات ولا فقاريات:

	سلحفاة		نحلة		الحصان
	طائر		حلزون		فراشة



أي مما يلي الترتيب الصحيح لدورة حياة الفراشة؟



أقرأ وأتعلم

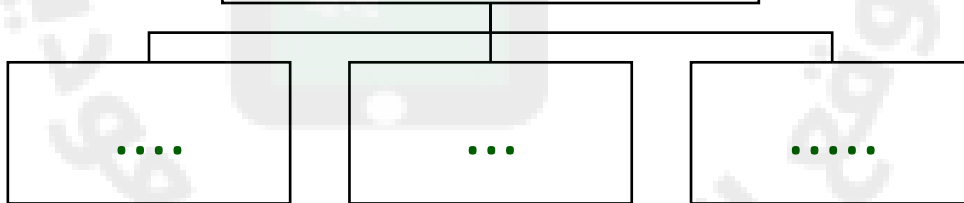
من خلال قراءتك للصفحات من (٧٨-٨١) الفهم القرأئي

في الصورة أمامك أكر أسماء المواطن [عشبي ورطب-عشبي ودافئ-بارد ومثلج - حار ودافئ]؟



ماذا تحتاج المخلوقات الحية لكي تعيش؟

حاجات المخلوق الحي



صح أم خطأ؟

- ١- تحتاج النباتات والحيوانات المختلفة إلى مواطن مختلفة () .
- ٢- النباتات التي تعيش في الأماكن الجافة لا تستطيع الاحتفاظ بالماء () .

أقرأ وأتعلم

من خلال قراءتك للصفحات من (٨٦-٨٨) الفهم القرأني

ضع-ي المفردات الآتية أمام ما يناسبها من عبارات :

الموطن
السلسلة الغذائية
المفترس
الفريسة

- ١- مكان تعيش فيه المخلوقات الحية .
- ٢- الحيوان الذي يصطاده الحيوان المفترس.
- ٣- الحيوان الذي يصطاد حيوان آخر ليتغذى عليه .
- ٤- ترتيب يوضح التابع الذي تحصل عليه المخلوقات الحية على غذائها .

رتب السلسلة الغذائية بوضع الأرقام [١-٥]:









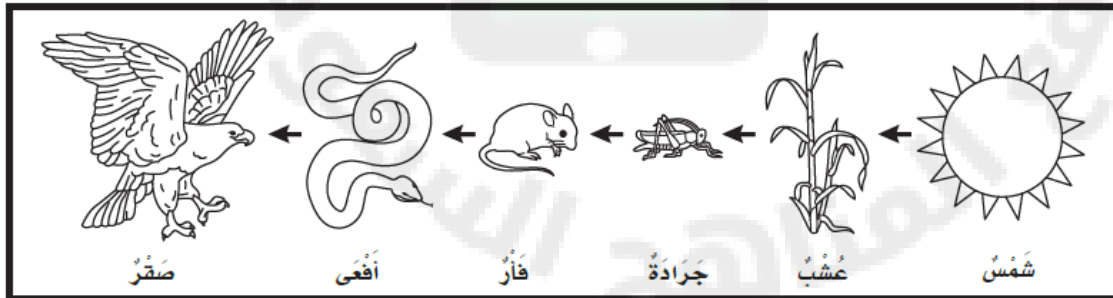




في الصورة أمامك حدد الفريسة – والمفترس

...../ الفريسة /

...../ المفترس /



من خلال الصورة

نجيب عم يلي:

ماذا تأكل الأفعى /

فريسة / ، مفترس /

أكمل كلاً من الجمل التالية بما يناسبها من القائمة :



الموطن- المفترس- سلسلة غذائية- الفريسة



١-..... هو المكان الذي تعيش فيه المخلوقات الحية .

٢-الدودة في الصورة تمثل.....

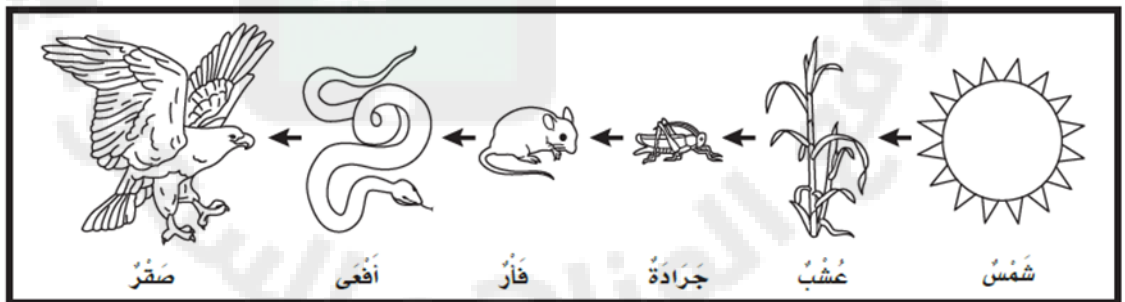
٣-الطائر في الصورة يمثل.....

٤-..... توضح التتابع الذي تحصل به المخلوقات الية على الغذاء.

أرتب ما يلي في سلسلة غذائية /



أضع دائرة حول حيوان مفترس ودائرة حول فريسة؟





أقرأ وأتعلم

من خلال قراءتك للصفحات من (٩٨-١٠١) الفهم القرأني







الصحاري الحارة
المنطقة القطبية

ضع-ي المفردات الآتية أمام ما يناسبها من عبارات :

١-..... صحراء باردة جافة .

٢-..... موطن جاف أمطاره قليلة جداً .

أصنف الحيوانات حسب أماكن العيش [الصحاري الحارة- المنطقة القطبية] :

ما النباتات التي تعيش في الصحراء؟



أقرأ وأتعلم

من خلال قراءتك للصفحات من (١٠٦-١٠٧) الفهم القرائي

ضع-ي المفردات الآتية أمام ما يناسبها من عبارات :

الغابة - الغابة المطير

١- موطن تتوفر فيه الأمطار وضوء الشمس .

٢- موطن تتساقط عليه الأمطار كل يوم تقريباً .

نصل الصورة بالعبارة المناسبة :

لها عينان كبيرتان . ويصطاد في الليل ، مستخدماً حاسة السمع والبصر



له خدود كبيرة تساعد على حمل الكثير من الجوز



له منقار طويل حاد ينقر به الأشجار ، بحثاً عن الحشرات ليأكلها



اختبار الفصل الرابع

الغابة

الغابة المطيرة


الصحراء الحارة

المنطقة القطبية

أكمل كلاً من الجمل التالية بما يناسبها من القائمة :

- ١- موطن حار وجاف .
 ٢- موطن تتوافر فيه الأمطار وتنمو فيه أشجار كثيرة.
 ٣- تتساقط فيها الأمطار كل يوم .
 ٤- نباتات صغيرة وقصيرة وتنمو قريبة من السطح.

من خلال الصور أمامك ما اسم الموطن؟



أختار الإجابة الصحيحة:

ما أفضل خاصية تساعد الدب القطبي على العيش في المنطقة القطبية؟

أ-الفرو السميك	ب-حاسة البصر القوية	ج-اللون الأبيض	د-الأسنان الحادة
كيف حيوانات الصحراء على الماء؟			
تتغذى على كل الحيوانات والنباتات	ب-تشرب الماء من الأنهار	ج-تحفر حفر لتحصل على الماء من باطن الأرض	د-تمتص الماء من الهواء



أقرأ وأتعلم

من خلال قراءتك للصفحات من (١١٨ - ١٢١) الفهم القرأئ

أكمل كلاً من الجمل التالية بما يناسبها من القائمة :

الغلاف الجوي

الغلاف الصخري

الغلاف المائي

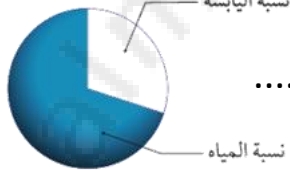
١-..... الغازات المحيطة بالكرة الأرضية .

٢-..... نسبة الماء على كوكب الأرض .

٣-.....نسبة اليابسة على سطح الأرض.

الفجوة المعلوماتية / أكمل الجمل

أكبر- الجبال والتلال-قارات-أشكال اليابسة



١-تبين الصورة أن نسبة الماء على كوكب الأرض

من نسبة اليابسة .

٣-من أشكال اليابسة و

٤-تسمى الأجزاء الكبيرة من اليابسة وهي محاطة بمحيطات .

٥-..... الأشكال المختلفة لسطح الأرض.

أقرأ وأتعلم

من خلال قراءتك للصفحات من (١٢٦-١٢٩) الفهم القرائي

أكمل كلاً من الجمل التالية بما يناسبها من القائمة :

المحيط
الماء العذب

١- ماء غير مالح نستخدمه في الشرب .

٢- تجمع كبير وعميق من الماء المالح .



أجب عما يلي:

أين يوجد الماء العذب؟

١- و٢- ٣-



أين توجد معظم مياه الأرض؟

توجد معظم مياه الأرض في

أختار الإجابة الصحيحة :

الغزال يشرب من ماء النهر. أي أشكال الماء لا يستطيع الغزال أن يشرب منه:

أ- البحيرة	ب- المحيط	ج- الجدول	د- العين
يأتي الماء الجاري في الأنهار والجدول من ذوبان الثلوج على :			
أ- الآبار	ب- الجبال	ج- البحار	د- الأشجار

المحيط

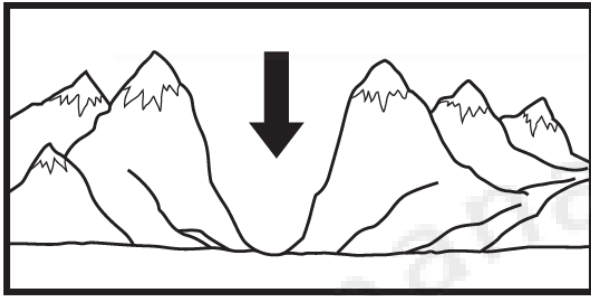
الغلاف الجوي

الغلاف المائي

الماء العذب

أكمل كلاً من الجمل التالية بما يناسبها من القائمة :

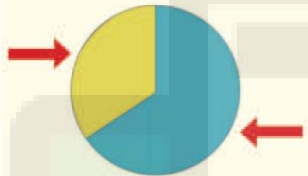
- ١- ماء غير صالح نستخدمه في الشرب .
- ٢- تجمع كبير وعميق من الماء المالح .
- ٣- الغازات المحيطة بالكرة الأرضية .
- ٤- نسبة الماء على كوكب الأرض .



٢- يشير السهم الذي في الصورة:

- أ- أرض مستوية
ب- تل
ج- وادٍ
د- جبل

٣- حدد على الرسم أي الأجزاء يمثل اليابسة ؟



أختار الإجابة الصحيحة :

الغزال يشرب من ماء النهر. أي أشكال الماء لا يستطيع الغزال أن يشرب منه:

أ- البحيرة	ب- المحيط	ج- الجدول	د- العين
يأتي الماء الجاري في الأنهار والجدول من ذوبان الثلوج على :			
أ- الآبار	ب- الجبال	ج- البحار	د- الشجار



أقرأ وأتعلم

من خلال قراءتك للصفحات من (١٤٠ - ١٤٣) الفهم القرأى

أكمل كلاً من الجمل التالية بما يناسبها من القائمة :

١-..... أشياء غير حية موجودة في الأرض. وتختلف في اللون والشكل والحجم

الموارد الطبيعية

الصخور

المعادن


الأرض

٢-..... موارد من الأرض يستعملها الناس في حياتهم اليومية .

٣-..... أجزاء صلبة غير حية تتكون منها الصخور.

٤-تكونت الصخور و المعادن في باطن

ما المعدن المستخدم في صناعة كل مما يلي، نصل القائمة اسم المعدن مع استعمالته :



أقرأ وأتعلم

الدرس الثاني / التربة

من خلال قراءتك للصفحات من (١٤٨ - ١٥١) الفهم القرأئي

أكمل كلاً من الجمل التالية بما يناسبها من القائمة :

التربة.....الدبال

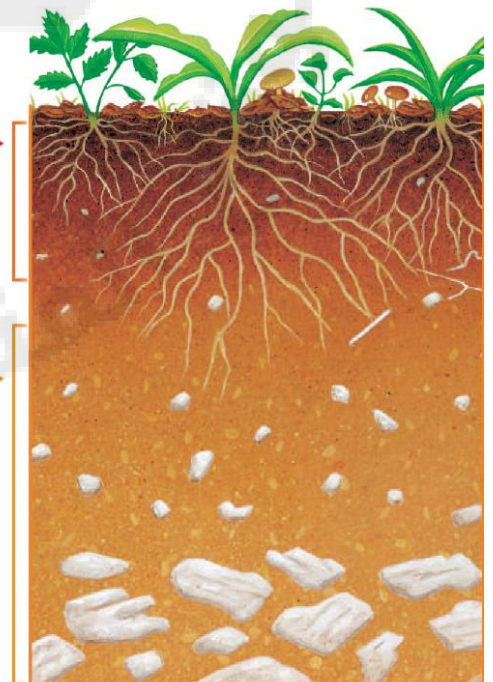

١-..... تربة تحوي الكثير من بقايا النباتات والحيوانات المتحللة .

٢-..... خليط من فتات الصخور وقطع صغيرة من بقايا النباتات والحيوانات الميتة .

صف أنواع التربة [رملية - زراعية- طينية]؟



كيف تكونت التربة . نسمي طبقات التربة (سطحية- تحت سطحية):



التربة

الموارد الطبيعية

المعادن

الدبال

أكمل كلاً من الجمل التالية بما يناسبها من القائمة :

- ١- تختلف..... في لونها وتساعد النباتات على النمو .
- ٢-..... أجزاء صلبة غير حية تتكون منه الصخور.
- ٣- النباتات والماء والصخور والمعادن أمثلة على
- ٤-..... تربة تحوي الكثير من بقايا النباتات والحيوانات المتحللة .

أقارن. فيم تتشابه الصخور، وفيم تختلف؟

الاختلاف	التشابه
اللون والحجم	مورد طبيعي
الشكل والملمس	صلبة غير حية

تعد هذه الطبقة من التربة الأفضل لنمو النباتات لأنها تحتوي على :



- أ-معادن
- ب-الهواء بين حبيباتها
- ج-صخور مفتتة
- د-بقايا نباتات وحيوانات



(الفاقء التعليمي)

أصل بين الصورة والكلمة المناسبة:

الصحراء
البحيرة
الغابة
المنطقة العشبية



١.



٢.





٣.



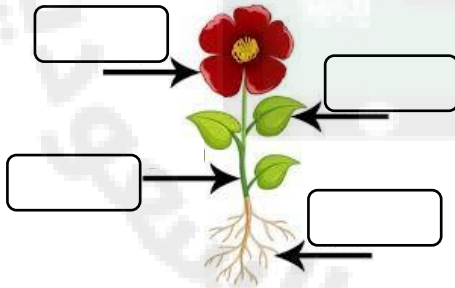
٤.

أصنف الحيوانات إلى (ثدييات - برمائيات - طيور - أسماك - زواحف):



--	--	--	--	--

أكتب أجزاء النبات (جذور - ساق - أوراق - أزهار):



أكمل كلاً من الجمل التالية بما يناسبها من القائمة :






التلوث

التربة

المحيط

- ١-..... هو وجود أشياء ضارة في الماء أو الهواء أو التربة .
- ٢-..... مورد طبيعي مهم للإنسان والحيوان و النبات.
- ٣-..... موطن واسع وعميق من مواطن المياه المالحة.

أصنف الحيوانات حسب أماكن العيش [الصحاري الحارة- المنطقة القطبية] :

ما النباتات التي تعيش في الصحراء؟




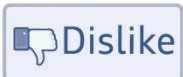



--	--	--

ما الذي تحتاج إليه النباتات لكي تنمو؟



أرتب ما يلي في سلسلة غذائية /



almanahj.com/sa
2026 2025



كتابنا المختار

سائرين إلى درب النجاح بهمة وعزم وطموح

وما توفيقي إلا بالله.... عبير حمد الجناعي