

ورقة عمل الدرس تحليل التمثيلات البيانية للدوال و العلاقات



تم تحميل هذا الملف من موقع المناهج السعودية

موقع المناهج ← المناهج السعودية ← الصف الثالث الثانوي ← رياضيات ← الفصل الأول ← ملفات متنوعة ← الملف

تاريخ إضافة الملف على موقع المناهج: 2025-09-04 15:01:48

ملفات اكتب للمعلم اكتب للطالب الاختبارات الكترونية الاختبارات ا حلول ا عروض بوربوينت ا أوراق عمل منهج انجليزي ا ملخصات وتقارير ا مذكرات وبنوك الامتحان النهائي للمدرس

المزيد من مادة رياضيات:

التواصل الاجتماعي بحسب الصف الثالث الثانوي



صفحة المناهج السعودية على فيسبوك

الرياضيات

اللغة الانجليزية

اللغة العربية

التربية الاسلامية

المواد على تلغرام

المزيد من الملفات بحسب الصف الثالث الثانوي والمادة رياضيات في الفصل الأول

شرح تفصيلي لدرس الاتصال و النهايات

1

أوراق عمل شاملة مرفقة بالحل نظام المسارات مع الأهداف

2

عرض بوربوينت للدرس الأول الدوال

3

دفتر بديل الرياضيات للفصل الأول

4

خطة توزيع منهج الفصل الأول 1447هـ

5



مقرر رياضيات ٢ - ١ الصف الثالث ثانوي

الفصل الأول تحليل الدوال

ورقة عمل

درس

تحليل التمثيلات

البيانية للدوال

والعلاقات ٢ - ١

اليوم:

التاريخ:

أسم الطالب

أختر الأجوبة الصحيحة بوضع علامة صح تحت الحرف الصحيح في الجدول المقابل

الاختيار الصحيح

D C B A

--	--	--	--

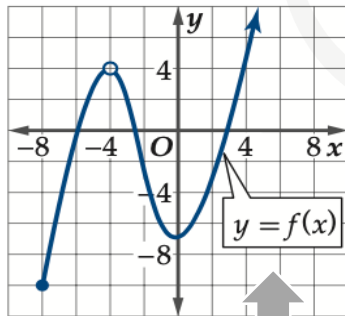
--	--	--	--

1	احدى مقاطع X في الشكل 2 هو					
A	-3	B	3	C	2	D
2	مدى الدالة في الشكل 3 هو					
A	$[-10, \infty)$	B	$[-10, -\infty)$	C	$[10, \infty)$	D
						$[-1, \infty)$

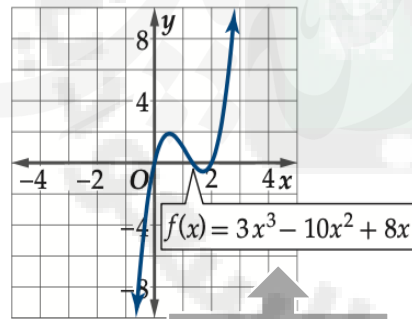


أختر الدائرة الخضراء اذا كانت الاجابة صحيحة والدائرة الحمراء اذا كانت خاطئة

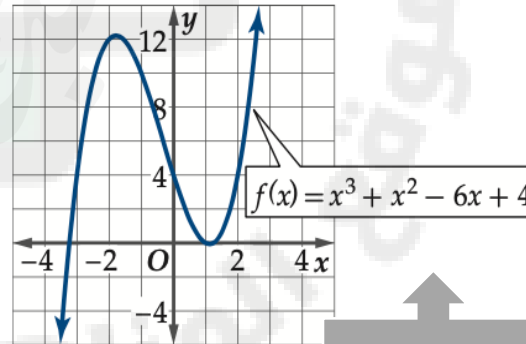
1	المقطع في الشكل 1 هو 4
2	اصفار الدالة في الشكل 2 هي 2.5 , -3



شكل 3



شكل 2.



شكل 1