

## نماذج اختبارات تشخيصية للعام 1447هـ



### تم تحميل هذا الملف من موقع المناهج السعودية

موقع المناهج ← المناهج السعودية ← الصف الأول ← علوم ← الفصل الأول ← ملفات متنوعة ← الملف

تاريخ إضافة الملف على موقع المناهج: 07:39:07 2025-09-09

ملفات اكتب للمعلم اكتب للطالب | اختبارات الكترونية | اختبارات | حلول | عروض بوربوينت | أوراق عمل  
منهج انجليزي | ملخصات وتقارير | مذكرات وبنوك | الامتحان النهائي للمدرس

المزيد من مادة  
علوم:

### التواصل الاجتماعي بحسب الصف الأول



صفحة المناهج  
السعودية على  
فيسبوك

الرياضيات

اللغة الانجليزية

اللغة العربية

التربية الاسلامية




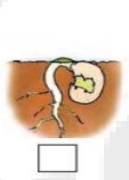
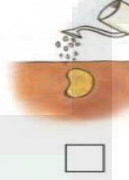



المواد على تلغرام

### المزيد من الملفات بحسب الصف الأول والمادة علوم في الفصل الأول

عرض بوربوينت لدرس النباتات وأجزاؤها	1
الخطة التعليمية الأسبوعية الكاملة للفصل الأول 1447هـ	2
تقييم مهارات علوم استمارة متابعة	3
خطة توزيع المقرر على أسابيع الفصل الأول 1447هـ	4
تحميل كتاب الطالب الجزء الأول طبعة 1447هـ	5

## اختبار تشخيصي مادة العلوم للصف الأول نموذج (١)

الاسم/

<table border="1"> <tr> <td>اجتاز</td> <td><input type="radio"/></td> </tr> <tr> <td>لم يجتاز</td> <td><input type="radio"/></td> </tr> </table>	اجتاز	<input type="radio"/>	لم يجتاز	<input type="radio"/>	<p>س١/ صنف الصور التالية إلى مخلوقات حية وأشياء غير حية: (بالتوصيل)</p> <div style="display: flex; justify-content: space-around;"> <div style="border: 1px solid black; border-radius: 15px; padding: 5px; width: 150px; text-align: center;">أشياء غير حية</div> <div style="border: 1px solid black; border-radius: 15px; padding: 5px; width: 150px; text-align: center;">مخلوقات حية</div> </div> <div style="display: flex; justify-content: space-around; margin-top: 10px;">     </div>	المقارنة بين المخلوقات الحية والأشياء غير الحية وتصنيفها
اجتاز	<input type="radio"/>					
لم يجتاز	<input type="radio"/>					
<table border="1"> <tr> <td>اجتاز</td> <td><input type="radio"/></td> </tr> <tr> <td>لم يجتاز</td> <td><input type="radio"/></td> </tr> </table>	اجتاز	<input type="radio"/>	لم يجتاز	<input type="radio"/>	<p>س٢/ رتب مراحل حياة نبات الفاصوليا بوضع الرقم المناسب (١ - ٢ - ٣ - ٤)</p> <div style="display: flex; justify-content: space-around; margin-top: 10px;">     </div>	وصف دورة حياة نبات.
اجتاز	<input type="radio"/>					
لم يجتاز	<input type="radio"/>					
<table border="1"> <tr> <td>اجتاز</td> <td><input type="radio"/></td> </tr> <tr> <td>لم يجتاز</td> <td><input type="radio"/></td> </tr> </table>	اجتاز	<input type="radio"/>	لم يجتاز	<input type="radio"/>	<p>س٣/ ضع علامة (✓) تحت الموطن الذي تنمو فيه أشجار كثيرة وطويلة :</p> <div style="display: flex; justify-content: space-around; margin-top: 10px;">    </div> <div style="display: flex; justify-content: space-around; margin-top: 20px;"> <input type="checkbox"/> <input type="checkbox"/> <input type="checkbox"/> </div>	وصف مواطن اليابسة.
اجتاز	<input type="radio"/>					
لم يجتاز	<input type="radio"/>					

<table border="1"> <tr> <td>اجتاز</td> <td><input type="radio"/></td> </tr> <tr> <td>لم يجتاز</td> <td><input type="radio"/></td> </tr> </table>	اجتاز	<input type="radio"/>	لم يجتاز	<input type="radio"/>	<p>س٤/ ضع دائرة حول الإجابة الصحيحة: أيّ الحيوانات التالية يعيش في البحيرة:</p> <table border="1"> <tr> <td></td> <td>ج</td> <td></td> <td>ب</td> <td></td> <td>أ</td> </tr> </table>		ج		ب		أ	<p>وصف مواطن الماء</p>
اجتاز	<input type="radio"/>											
لم يجتاز	<input type="radio"/>											
	ج		ب		أ							
<table border="1"> <tr> <td>اجتاز</td> <td><input type="radio"/></td> </tr> <tr> <td>لم يجتاز</td> <td><input type="radio"/></td> </tr> </table>	اجتاز	<input type="radio"/>	لم يجتاز	<input type="radio"/>	<p>س٥/ اختر الإجابة الصحيحة: من الموارد الطبيعية غير الحية: ( الماء - الجمل - الخروف )</p>	<p>التعرف على الموارد الطبيعية ووصفها</p>						
اجتاز	<input type="radio"/>											
لم يجتاز	<input type="radio"/>											
<table border="1"> <tr> <td>اجتاز</td> <td><input type="radio"/></td> </tr> <tr> <td>لم يجتاز</td> <td><input type="radio"/></td> </tr> </table>	اجتاز	<input type="radio"/>	لم يجتاز	<input type="radio"/>	<p>س٦/ أيّ الصور التالية تدل على فصل الشتاء:</p> <table border="1"> <tr> <td></td> <td></td> <td></td> </tr> <tr> <td><input type="radio"/></td> <td><input type="radio"/></td> <td><input type="radio"/></td> </tr> </table>				<input type="radio"/>	<input type="radio"/>	<input type="radio"/>	<p>وصف كيفية تغير الفصول مع تغير الطقس</p>
اجتاز	<input type="radio"/>											
لم يجتاز	<input type="radio"/>											
												
<input type="radio"/>	<input type="radio"/>	<input type="radio"/>										
<table border="1"> <tr> <td>اجتاز</td> <td><input type="radio"/></td> </tr> <tr> <td>لم يجتاز</td> <td><input type="radio"/></td> </tr> </table>	اجتاز	<input type="radio"/>	لم يجتاز	<input type="radio"/>	<p>س٧/ أخط الإجابة الصحيحة: المادة التي تأخذ شكل الوعاء الذي توضع فيه هي: ( الصلبة - السائلة - الغازية )</p>	<p>تحديد بعض خصائص المادة.</p>						
اجتاز	<input type="radio"/>											
لم يجتاز	<input type="radio"/>											

مديرة المدرسة:












اسم المعلمة:

المشرفة التربوية:

\*يرجى الاحتفاظ بالشواهد في ملف خاص بالمعلمة

## اختبار تشخيصي مادة العلوم للصف الأول نموذج (٢)

الاسم/

<table border="1"> <tr> <td>اجتاز</td> <td>0</td> </tr> <tr> <td>لم يجتاز</td> <td>0</td> </tr> </table>	اجتاز	0	لم يجتاز	0	<p>س١/ اختر الإجابة الصحيحة: أي مما يلي يحتاج إلى الغذاء والماء والهواء:</p> <div style="display: flex; justify-content: space-around; align-items: center;"> <div style="text-align: center;">   <input type="checkbox"/> </div> <div style="text-align: center;">   <input type="checkbox"/> </div> <div style="text-align: center;">   <input type="checkbox"/> </div> </div>	<p>المقارنة بين المخلوقات الحية الأشياء غير الحية وتصنيفها</p>
اجتاز	0					
لم يجتاز	0					
<table border="1"> <tr> <td>اجتاز</td> <td>0</td> </tr> <tr> <td>لم يجتاز</td> <td>0</td> </tr> </table>	اجتاز	0	لم يجتاز	0	<p>س٢/ أيّ الصور التالية تمثل بذرة:</p> <div style="display: flex; justify-content: space-around; align-items: center;"> <div style="text-align: center;">   <input type="checkbox"/> </div> <div style="text-align: center;">   <input type="checkbox"/> </div> <div style="text-align: center;">   <input type="checkbox"/> </div> </div>	<p>وصف دورة حياة نبات.</p>
اجتاز	0					
لم يجتاز	0					
<table border="1"> <tr> <td>اجتاز</td> <td>0</td> </tr> <tr> <td>لم يجتاز</td> <td>0</td> </tr> </table>	اجتاز	0	لم يجتاز	0	<p>س٣/ صل الحيوان بمكان عيشه:</p> <div style="display: flex; justify-content: space-around;"> <div style="text-align: center;">   <input type="checkbox"/> </div> <div style="text-align: center;">   <input type="checkbox"/> </div> <div style="text-align: center;">   <input type="checkbox"/> </div> <div style="text-align: center;">   <input type="checkbox"/> </div> </div>	<p>وصف مواطن اليابسة.</p>
اجتاز	0					
لم يجتاز	0					
<table border="1"> <tr> <td>اجتاز</td> <td>0</td> </tr> <tr> <td>لم يجتاز</td> <td>0</td> </tr> </table>	اجتاز	0	لم يجتاز	0	<p>س٤/ ضع دائرة حول الإجابة الصحيحة: من مواطن المياه المالحة. ( المحيط - البحيرة )</p> <div style="text-align: center;">  </div>	<p>وصف مواطن الماء</p>
اجتاز	0					
لم يجتاز	0					

س٥ / صل الصورة بما يناسبها:

التعرف على الموارد الطبيعية  
ووصفها

اجتاز	<input type="radio"/>
لم يجتاز	<input type="radio"/>



س٦ / أكتب الكلمة المناسبة في الفراغ :

( الصيف - الخريف - الشتاء )

١- أشد الفصول برودة فصل .....



وصف كيفية تغير  
الفصول مع تغير الطقس

اجتاز	<input type="radio"/>
لم يجتاز	<input type="radio"/>

س٧ / أكتب رقم كل عبارة في العمود (أ) أمام ما يناسبها في العمود(ب):

تحديد بعض خصائص المادة.

اجتاز	<input type="radio"/>
لم يجتاز	<input type="radio"/>

( ب )	( أ )
 <input type="checkbox"/>	( ١ ) مادة صلبة شكلها ثابت.
 <input type="checkbox"/>	( ٢ ) سوائل تنساب بسرعة.

مديرة المدرسة:











اسم المعلمة:

المشرفة التربوية:

\*يرجى الاحتفاظ بالشواهد في ملف خاص بالمعلمة

### اختبار تشخيصي مادة العلوم للصف الأول نموذج (٣)

الاسم/

<table border="1"> <tr> <td>اجتاز</td> <td>○</td> </tr> <tr> <td>لم يجتاز</td> <td>○</td> </tr> </table>	اجتاز	○	لم يجتاز	○	<p>س١ / اختر الإجابة الصحيحة: أي مما يلي مخلوق حي:</p> <div style="display: flex; justify-content: space-around; align-items: center;"> <div style="text-align: center;">  ○         </div> <div style="text-align: center;">  ○         </div> <div style="text-align: center;">  ○         </div> </div>	<p>المقارنة بين المخلوقات الحية الأشياء غير الحية وتصنيفها</p>
اجتاز	○					
لم يجتاز	○					
<table border="1"> <tr> <td>اجتاز</td> <td>○</td> </tr> <tr> <td>لم يجتاز</td> <td>○</td> </tr> </table>	اجتاز	○	لم يجتاز	○	<p>س٢ / حدد جزء النبات الذي ينبت ثم ينمو ويصبح نباتا جديدا:</p> <div style="display: flex; justify-content: space-around; align-items: center;">    </div>	<p>وصف دورة حياة نبات.</p>
اجتاز	○					
لم يجتاز	○					
<table border="1"> <tr> <td>اجتاز</td> <td>○</td> </tr> <tr> <td>لم يجتاز</td> <td>○</td> </tr> </table>	اجتاز	○	لم يجتاز	○	<p>س٣ / ضع علامة (✓) تحت الموطن الذي يتميز بكثرة أعشابه:</p> <div style="display: flex; justify-content: space-around; align-items: center;">    </div> <div style="display: flex; justify-content: space-around; align-items: center; margin-top: 10px;"> <div style="border: 1px solid black; width: 50px; height: 20px; margin: 0 auto;"></div> <div style="border: 1px solid black; width: 50px; height: 20px; margin: 0 auto;"></div> <div style="border: 1px solid black; width: 50px; height: 20px; margin: 0 auto;"></div> </div>	<p>وصف مواطن اليابسة.</p>
اجتاز	○					
لم يجتاز	○					
<table border="1"> <tr> <td>اجتاز</td> <td>○</td> </tr> <tr> <td>لم يجتاز</td> <td>○</td> </tr> </table>	اجتاز	○	لم يجتاز	○	<p>س٤ / ضع دائرة حول الإجابة الصحيحة: من مواطن المياه العذبة . ( المحيط - البحيرة )</p> <div style="display: flex; align-items: center; margin-top: 10px;"> <div style="font-size: 2em; margin-right: 10px;">←</div>  </div>	<p>وصف مواطن الماء</p>
اجتاز	○					
لم يجتاز	○					

س٥ / اختر الإجابة الصحيحة:  
من الموارد الطبيعية الحية:

( القلم - الحيوانات - الكتاب )

التعرف على الموارد الطبيعية ووصفها

اجتاز	<input type="radio"/>
لم يجتاز	<input type="radio"/>

س٦ / أكتب الكلمة المناسبة في الفراغ:




( الخريف - الشتاء )

١ - يصبح الطقس معتدلاً وتتساقط أوراق بعض النباتات في فصل .....

وصف كيفية تغير الفصول مع تغير الطقس

اجتاز	<input type="radio"/>
لم يجتاز	<input type="radio"/>

س٧ / صل العبارة في العمود (أ) بما يناسبها في العمود(ب):

( ب )	( أ )
	مادة صلبة شكلها ثابت.
	
	

تحديد بعض خصائص المادة.

اجتاز	<input type="radio"/>
لم يجتاز	<input type="radio"/>

مديرة المدرسة:

اسم المعلمة:

المشرفة التربوية:

\*يرجى الاحتفاظ بالشواهد في ملف خاص بالمعلمة