

نموذج اختبار الفترة الثانية للفصل الأول 1447هـ



تم تحميل هذا الملف من موقع المناهج السعودية

موقع المناهج ← المناهج السعودية ← الصف الأول ← رياضيات ← الفصل الأول ← ملفات متنوعة ← الملف

تاريخ إضافة الملف على موقع المناهج: 2025-12-07 15:10:16

ملفات اكتب للمعلم اكتب للطالب | الاختبارات الكترونية | اختبارات | حلول | عروض بوربوينت | أوراق عمل
منهج انجليزي | ملخصات وتقارير | مذكرات وبنوك | الامتحان النهائي للمدرس

المزيد من مادة
رياضيات:

التواصل الاجتماعي بحسب الصف الأول



صفحة المناهج
السعودية على
فيسبوك

الرياضيات

اللغة الانجليزية

اللغة العربية

التربية الاسلامية

المواد على تلغرام

المزيد من الملفات بحسب الصف الأول والمادة رياضيات في الفصل الأول

عرض بوربوينت لدرس مقارنة الأعداد حتى 20

1

اختبار الفترة الأولى المقارنة و التصنيف

2

اختبار فترة أولى 1447هـ

3

أسئلة اختبار تشخيصي 1447هـ

4

نماذج اختبارات تشخيصية للعام 1447هـ

5

التاريخ / / ١٤٤٧ هـ
المادة / رياضيات الصف / الأول
الفصل الدراسي / الأول
العام الدراسي / ١٤٤٧ هـ

بِسْمِ اللَّهِ الرَّحْمَنِ الرَّحِيمِ



المملكة العربية السعودية
وزارة التعليم
الإدارة العامة للتعليم بمنطقة
ابتدائية


٢

اختبار الفترة الثانية من الفصل الدراسي الأول للعام الدراسي ١٤٤٧ هـ


اسم الطالب / رقم الطالب /

السؤال الأول :

أ - عد حبات الفراولة ثم أكتب عددها في المكان المخصص :



ب - عد القوارب التالية ثم أكتب عددها في المكان المخصص له



السؤال الثاني : أرسم دوائر لتمثل العدد المعطى:

١٥



١٣

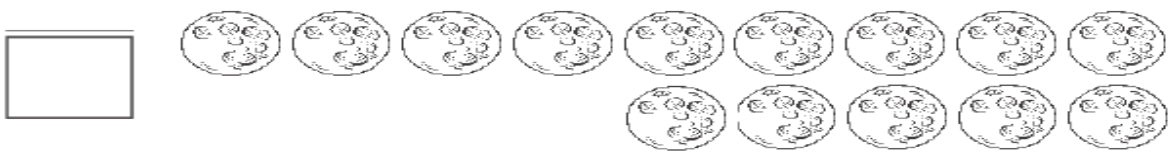


١١




السؤال الثالث :


أ - صل بخطوط بين عناصر المجموعتين ، ثم أكتب عدد كلا منها ، ثم حوط على المجموعة الأكثر وحوط على عددها :



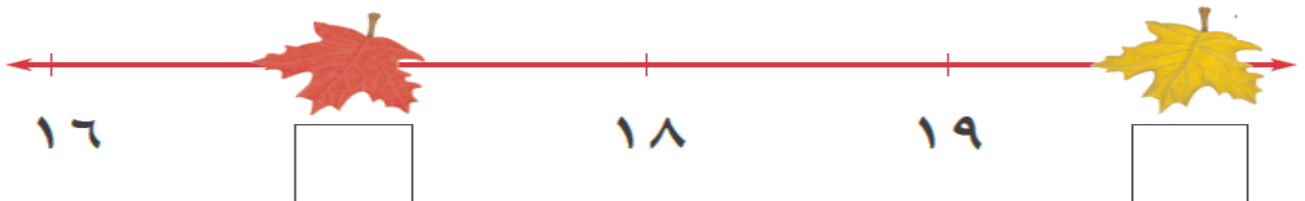
ب - حوط القطة الثالثة و ضع علامة x على القطة السابعة :



السؤال الرابع : عد الفواكة التالية ، ثم أكتب عددها في المكان المخصص لكل فاكهة :



السؤال الخامس : أكتب العدد المغطى بورقة الشجر في الفراغ:



السؤال السادس : أكمل كتابة الأعداد التالية بالترتيب :

٢٠		١٨			١٥				١١
----	--	----	--	--	----	--	--	--	----