

اختبار الرياضيات الفترة الأولى 1447هـ غير محلول



تم تحميل هذا الملف من موقع المناهج السعودية

موقع المناهج ← المناهج السعودية ← الصف الأول ← رياضيات ← الفصل الثاني ← ملفات متنوعة ← الملف

تاريخ إضافة الملف على موقع المناهج: 11:25:27 2026-05-02

ملفات اكتب للمعلم اكتب للطالب الاختبارات الكترونية الاختبارات ا حلول ا عروض بوربوينت ا أوراق عمل منهج انجليزي ا ملخصات وتقارير ا مذكرات وبنوك الامتحان النهائي للمدرس

المزيد من مادة رياضيات:

التواصل الاجتماعي بحسب الصف الأول



صفحة المناهج السعودية على فيسبوك

الرياضيات

اللغة الانجليزية

اللغة العربية

التربية الاسلامية

المواد على تلغرام

المزيد من الملفات بحسب الصف الأول والمادة رياضيات في الفصل الثاني

أوراق عمل فصل الطرح وطرائق الجمع والطرح وفصل القيمة المنزلية والقياس

1

اختبار الفترة الأولى غير محلول

2

ورقة عمل لوحة المئة أنماط الأعداد

3

أوراق عمل فصل القياس مقارنة الأطوال وترتيبها

4

مراجعة فصل القيمة المنزلية الأحاد والعشرات

5



اختبار مادة الرياضيات الفترة الأولى للفصل الدراسي الثاني
لعام ١٤٤٧ هـ



أسم الطالبة / الصف ١ /

المجموع النهائي

٢٠

السؤال الأول / أكتب العدد المناسب في الفراغ المناسب

جزء 	جزء 
٥
الكل	
<u>٨</u>	

جزء 	جزء 
.....	٤
الكل	
<u>٥</u>	

السؤال الثاني / اكتب جمل الطرح المناسبة :-



.....  



.....  

السؤال الثالث / اوجد ناتج طرح مايلي :-

$$= ٥ - ٩$$

$$= ٣ - ٦$$

$$= ١١ - ١١$$

$$= ٠ - ٨$$

السؤال الرابع / عدي تصاعديا لأيجاد ناتج الجمع :-

$$= ١ + ٥$$

$$= ٤ + ٤$$

السؤال الخامس / إستخدمي خط الاعداد لإيجاد ناتج الجمع والطرح



٢

$$\begin{array}{r} 7 \\ - 3 \\ \hline \end{array}$$

$$\begin{array}{r} 9 \\ + 2 \\ \hline \end{array}$$

السؤال السادس / أكتبي الجملة العددية لحل المسألة:-

اشترى فيصل 7 قصص ثم اشترى أخوه 3 قصص أخرى كم قصة اشترى فيصل وأخوه؟

٣

..... ○ ○

السؤال السابع / أضع إكس X على النقاط لأجد ناتج الطرح راسيا وأفقيا: -

٢

$$\begin{array}{r} 8 \\ - 5 \\ \hline \end{array}$$



$$= 2 - 4$$

السؤال الرابع / عدي تنازليا لايجاد ناتج طرح :-

٢

$$= 3 - 4$$

$$= 2 - 6$$