

تقويم ختامي للفصل الثالث



تم تحميل هذا الملف من موقع المناهج السعودية

موقع المناهج ← المناهج السعودية ← الصف الأول ← علوم ← الفصل الثالث ← اختبارات ← الملف

تاريخ إضافة الملف على موقع المناهج: 2025-05-05 17:01:57

ملفات اكتب للمعلم اكتب للطالب | اختبارات الكترونية | اختبارات | حلول | عروض بوربوينت | أوراق عمل
منهج انجليزي | ملخصات وتقارير | مذكرات وبنوك | الامتحان النهائي للمدرس

المزيد من مادة
علوم:

التواصل الاجتماعي بحسب الصف الأول



صفحة المناهج
السعودية على
فيسبوك

الرياضيات

اللغة الانجليزية

اللغة العربية

التربية الاسلامية

المواد على تلغرام

المزيد من الملفات بحسب الصف الأول والمادة علوم في الفصل الثالث

الاختبار التشخيصي القبلي لبرنامج تعزيز المهارات

1

نماذج اختبار تشخيصي للفصل الثالث 1446هـ

2

الخطة الأسبوعية للفصل الثالث

3

ورقة عمل الطقس من حولنا

4

عرض بوربوينت الطقس من حولنا

5

اسم الطالب :

الصف : ١ /

تقويم نهائي لمادة علوم الصف الأول الفصل الدراسي الثالث لعام ١٤٤٦ هـ

السؤال الأول : ضع علامة (✓) أمام العبارة الصحيحة و علامة (x) أمام العبارات الخاطئة ؟

٦

١- الطقس حالة السماء و الجو خلال سنة .

٢- فصل الصيف أكثر الفصول برودة .

٣- الحركة هي تغير موقع الجسم .

٤- الجاذبية قوة تسحب الأشياء في اتجاه الأرض .

٥- الضوء شكل من أشكال الطاقة يمكننا من رؤية الأشياء .

٦- الصوت يحدث نتيجة اهتزاز الأشياء .

السؤال الثاني : أجب عن الأسئلة التالية مستعينا بالصورة أدناه ؟

١- ضع دائرة حول مصدر من مصادر الضوء ؟

٢- ضع خطا حول الصورة التي تمثل قوة الدفع ؟

٣- موقع الكتاب ؟ أعلى الطاولة أسفل الطاولة

٤- موقع المقص ؟ يمين السلة يسار السلة

٥- تدل لوحة الجدار على فصل ؟ الصيف الشتاء



السؤال الثالث : صل كل صورة بالكلمة المناسبة لها ؟



اهتزاز

طقس معتدل

مقياس المطر

يتبع <<<

السؤال الثالث : أختَر الإجابة الصحيحة فيما يلي ؟

٦

٢- تمثل الصورة المجاورة فصل .

٠ الربيع

٠ الشتاء

٠ الخريف




١- يستخدم المقياس المجاور لقياس .

٠ درجة الحرارة

٠ كمية المطر

٠ اتجاه الرياح




٤- نوع حركة المروحة .

٠ متعرجة

٠ دورانية

٠ مستقيمة




٣- نوع القوة المؤثرة .

٠ الدفع

٠ السحب

٠ الاحتكاك

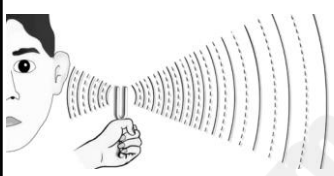


٦- يحدث الصوت نتيجة .

٠ حركة الأشياء

٠ اهتزاز الأشياء

٠ قوة الأشياء




٥- تعتبر الشمس طاقة .

٠ حرارية

٠ كهربائية

٠ صوتية



السؤال الرابع : أكمل الفراغات التالية بالكلمة المناسبة ؟

٦

الحرارة الربيع المسطرة الاحتكاك مصادر الصوت

١- مقدار سخونة الشيء أو برودته .

٢- قوة تبطئ حركة الأشياء .

٣- الحرارة (الشمس - النفط - الغاز) .

٤- تستخدم لقياس المسافة بين بعدين أو جسمين .

٥- يحدث نتيجة اهتزاز الأجسام .

٦- فصل يكون الجو معتدل و تنمو النباتات ويتوفر الطعام للحيوانات .

انتهت الأسئلة