

ورقة عمل تمثيل الدوال التربيعية



تم تحميل هذا الملف من موقع المناهج السعودية

موقع المناهج ← المناهج السعودية ← الصف الثالث المتوسط ← رياضيات ← الفصل الثالث ← أوراق عمل ← الملف

تاريخ إضافة الملف على موقع المناهج: 2025-03-13 14:48:40

ملفات اكتب للمعلم اكتب للطالب ا اختبارات الكترونية ا اختبارات ا حلول ا عروض بوربوينت ا أوراق عمل
منهج انجليزي ا ملخصات وتقارير ا مذكرات وبنوك ا الامتحان النهائي ا للمدرس

المزيد من مادة
رياضيات:

التواصل الاجتماعي بحسب الصف الثالث المتوسط



صفحة المناهج
السعودية على
فيسبوك

الرياضيات

اللغة الانجليزية

اللغة العربية

التربية الاسلامية

المواد على تلغرام

المزيد من الملفات بحسب الصف الثالث المتوسط والمادة رياضيات في الفصل الثالث

حل الاختبار المحاكى لاختبار نافس الأسبوع الأول

1

الاختبار المحاكى لاختبار نافس الأسبوع الأول

2

نماذج تدريب للاختبارات الوطنية نافس

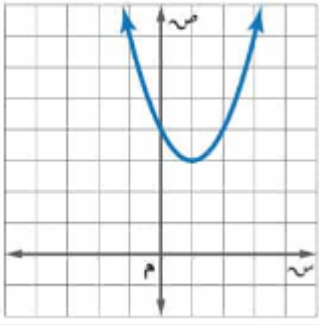
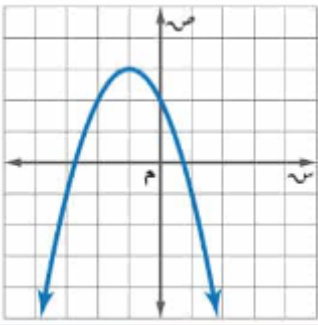
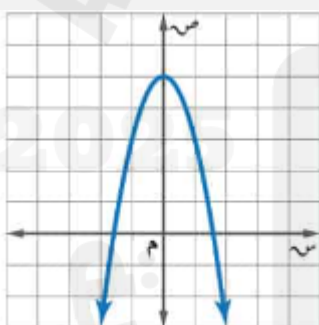
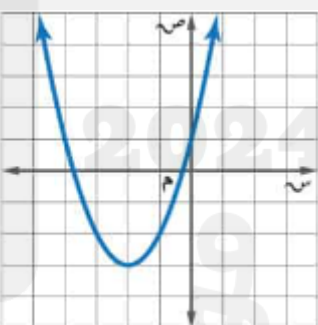
3

عرض بوربوينت مراجعة الفصل الثامن الدوال التربيعية

4

ورقة عمل تمثيل الدوال التربيعية

5

	
اسم الشكل	اسم الشكل
الرأس (,)	الرأس (,)
المقطع الصادي	المقطع الصادي
معادلة محور التماثل س =	معادلة محور التماثل س =
نوع القيمة وهي	نوع القيمة وهي
المجال	المجال
المدى	المدى
هل يقطع الشكل محاور س نعم () لا ()	هل يقطع الشكل محاور س نعم () لا ()
عدد الحلول ان وجد	عدد الحلول ان وجد
	
اسم الشكل	اسم الشكل
الرأس (,)	الرأس (,)
المقطع الصادي	المقطع الصادي
معادلة محور التماثل س =	معادلة محور التماثل س =
نوع القيمة وهي	نوع القيمة وهي
المجال	المجال
المدى	المدى
هل يقطع الشكل محاور س نعم () لا ()	هل يقطع الشكل محاور س نعم () لا ()
عدد الحلول ان وجد	عدد الحلول ان وجد