

## أسئلة الاختبار الفكري للدراسات الإجتماعية 1446هـ



### تم تحميل هذا الملف من موقع المناهج السعودية

موقع المناهج ← المناهج السعودية ← الصف الثالث المتوسط ← اجتماعيات ← الفصل الثالث ← ملفات متنوعة ← الملف

تاريخ إضافة الملف على موقع المناهج: 07:34:29 2025-04-29

ملفات اكتب للمعلم اكتب للطالب ا اختبارات الكترونية ا اختبارات ا حلول ا عروض بوربوينت ا أوراق عمل  
منهج انجليزي ا ملخصات وتقارير ا مذكرات وبنوك ا الامتحان النهائي ا للمدرس

المزيد من مادة  
اجتماعيات:

### التواصل الاجتماعي بحسب الصف الثالث المتوسط



صفحة المناهج  
السعودية على  
فيسبوك

الرياضيات

اللغة الانجليزية

اللغة العربية

التربية الاسلامية

المواد على تلغرام

### المزيد من الملفات بحسب الصف الثالث المتوسط والمادة اجتماعيات في الفصل الثالث

اختبار تشخيصي للفصل الثالث

1

حل كامل كتاب الإجتماعية للفصل الثالث 1446هـ

2

الخطة الأسبوعية كاملة للفصل الثالث 1446هـ

3

أوراق عمل شاملة للفصل الثالث 1446هـ

4

مسرد إعداد دروس الفصل الثالث 1446هـ بصيغة الورد

5



نموذج اختبار منتصف الفترة  
الفصل الدراسي الثالث 1446  
المادة: الدراسات الاجتماعية  
الصف: الثالث المتوسط



وزارة التعليم

إدارة .....

مكتب تعليم .....

مدرسة .....

الدرجة /20

الفصل

إعداد / محمد القرني

اسم الطالب

علم المساحة

خريطة سياسية

الخريطة

خريطة تضاريسية

الاحداثيات

الصور المائلة

**السؤال الأول: مستعينا بالشكل المجاور ضع المصطلح امام ما يناسبه من العبارات ادناه؟**

- ( تمثيل سطح الارض او جزء منع على لوحة مستوية )  
( تقاطع خطوط الطول ودوائر العرض . )  
( هي صور تلتقط بعدسات التصوير في وضع مائل . )  
( العلم الذي يبحث في الطرائق المختلفة لتمثيل سطح الارض . )  
( هي الخرائط التي توضح حدود الدول . )

5 درجات

**السؤال الثاني : ضع الرقم امام المجموعة الاولى امام ما يناسبه من المجموعة الثانية ؟**

الرقم	المجموعة الاولى	الرقم	المجموعة الثانية
1	مقياس الرسم		يحيط بالخريطة من الخارج
2	اطار الخريطة		تقاطع خطوط الطول مع دوائر العرض
3	عنوان الخريطة		النسبة بين البعد على الخريطة ومايقابله على الطبيعة
			اسم وموضوع الخريطة والمكان الذي تمثله

3 درجات

**السؤال الثالث : اكمل خرائط المفاهيم التالية ؟**



4 درجات

**السؤال الرابع : ( أ ) قارن بين الخريطة والصور الجوية وفق الجدول؟**

الخريطة	وجه المقارنة	الصور الجوية
	المفتاح	
	الظاهرة التي تفسرها	

5 درجات

**( ب ) وضع باختصار اهمية نظام ال GPS ؟**

**السؤال الخامس: عزيزي الطالب من خلال دراستك لأنواع الخرائط صنف ما يأتي مستعينا بالشكل المجاور؟**

خريطة سكانية  
خريطة اقتصادية  
خريطة تاريخية  
خريطة مناخية



3 درجات





نموذج اختبار منتصف الفترة  
الفصل الدراسي الثالث 1446  
المادة: الدراسات الاجتماعية  
الصف: الثالث المتوسط



وزارة التعليم

إدارة .....

مكتب تعليم .....

مدرسة .....

اسم الطالب	إعداد / محمد القرني (اجابة)	الفصل	الدرجة / 20
------------	-----------------------------	-------	-------------

علم المساحة  
خريطة سياسية  
الخريطة  
خريطة تضاريسية  
الاحداثيات  
الصور المائلة

**السؤال الأول: مستعينا بالشكل المجاور ضع المصطلح امام ما يناسبه من العبارات ادناه؟**

- ❖ ( الخريطة ) تمثيل سطح الارض او جزء منع على لوحة مستوية
- ❖ ( الاحداثيات ) تقاطع خطوط الطول ودوائر العرض .
- ❖ ( الصور المائلة ) هي صور تلتقط بعدسات التصوير في وضع مائل .
- ❖ ( علم المساحة ) العلم الذي يبحث في الطرائق المختلفة لتمثيل سطح الارض .
- ❖ ( خريطة سياسية ) هي الخرائط التي توضح حدود الدول .

5 درجات

**السؤال الثاني : ضع الرقم امام المجموعة الاولى امام ما يناسبه من المجموعة الثانية ؟**

الرقم	المجموعة الاولى	الرقم	المجموعة الثانية
1	مقياس الرسم	2	يحيط بالخريطة من الخارج
2	اطار الخريطة		تقاطع خطوط الطول مع دوائر العرض
3	عنوان الخريطة	1	النسبة بين البعد على الخريطة ومايقابله على الطبيعة
		3	اسم وموضوع الخريطة والمكان الذي تمثله

3 درجات

**السؤال الثالث : اكمل خرائط المفاهيم التالية ؟**



4 درجات

**السؤال الرابع : ( أ ) قارن بين الخريطة والصور الجوية وفق الجدول؟**

الخريطة	وجه المقارنة	الصور الجوية
تحتاج ويوجد فيها	المفتاح	لا تحتاج اليه
الظواهر الثابتة فقط	الظاهرة التي تفسرها	الظواهر الثابتة والمتحركة

5 درجات

**( ب ) وضع باختصار اهمية نظام ال GPS ؟**

يحدد المواقع بدقة عالية ويفيدنا في تحديد اتجاه القبلة وإرشاد سائقي السيارات الى الاماكن التي يقصدونها

**السؤال الخامس: عزيزي الطالب من خلال دراستك لأنواع الخرائط صنف ما يأتي مستعينا بالشكل المجاور؟**

خريطة سكانية  
خريطة اقتصادية  
خريطة تاريخية  
خريطة مناخية



خريطة سكانية



خريطة اقتصادية



خريطة مناخية

3 درجات

المملكة العربية السعودية وزارة التعليم الإدارة العامة للتعليم بمنطقة مكتب التعليم مدرسة	 <b>وزارة التعليم</b> Ministry of Education	الدرجة	اسم المصحح :	التوقيع
رؤية 2030	..... ٤٠	اسم المراجع :	التوقيع	

أُسئلة اختبار منتصف الفصل الدراسي الثالث	العام الدراسي ١٤٤٦ هـ	الصف الثالث متوسط	رقم الجلوس
اسم الطالب : .....	المادة : اجتماعيات	الزمن : ساعه	عدد الصفحات : ٢

### السؤال الأول

استعن بالله ثم اجب على الاسئلة

٢٠

ضع علامة ( ✓ ) أمام العبارة الصحيحة وعلامة ( X ) أمام العبارة الخاطئة

أ

١	تساعد المساحة على تمثيل مواقع الظواهر الطبيعية.	( )
٢	تتشابه الرموز في كل مفاتيح الخرائط	( )
٣	اختلاف المعلومات التي تقدمها الخرائط أدى إلى تنوعها .	( )
٤	الصور الجوية توضح الظواهر المتحركة	( )
٥	يطلق على المساحة الأرضية المساحة التقليدية	( )

### السؤال الثاني

أربط بين العمود [ أ ] بما يناسبه في العمود [ ب ] بوضع الرقم المناسب في مربع الإجابة :

م	العمود [ أ ]	الإجابة	العمود [ ب ]
١	توضح الهجرات البشرية في العالم.		خريطة سياسية
٢	تمثل الحدود بين الدول		خريطة سكانية
٣	تحوي حقول النفط في منطقة الخليج العربي.		خريطة مناخية
٤	توضح طريق هجرة نبينا محمد من مكة المكرمة إلى المدينة المنورة		خريطة اقتصادية
٥	تمثل مناطق نزول الأمطار صيفا في شبه الجزيرة العربية.		خريطة تاريخية

١- تساعد في معرفة الشهور وأوقات الصلاة وتحديد القبلة .

أ	المساحة الأرضية	ب	المساحة الفلكية	ج	المساحة الملاحية
---	-----------------	---	-----------------	---	------------------

٢- النسبة بين البعد على الخريطة، وما يقابله على الطبيعة:

أ	مفتاح الخريطة	ب	مقياس الرسم	ج	شبكة الاحداثيات
---	---------------	---	-------------	---	-----------------

٣ - مجموعة من المصطلحات والرموز تمثل الظواهر والمعالم التي على الخريطة

أ	مفتاح الخريطة	ب	شبكة الاحداثيات	ج	المساحة
---	---------------	---	-----------------	---	---------

٤-: يبين موضوع الخريطة والمكان الذي تمثله:

أ	عنوان الخريطة	ب	مفتاح الخريطة	ج	إطار الخريطة
---	---------------	---	---------------	---	--------------

٥- تعني تحديد نُقط على سطح الأرض للمساحات الشاسعة،

أ	المساحة الجيوديسية	ب	المساحة المستوية	ج	المساحة الطبوغرافية
---	--------------------	---	------------------	---	---------------------

اكتب اثنين فقط لكل مما يلي :

أ - من أنواع مقاييس الرسم :

١- .....

٢- .....

ب - استعمالات الصور الجوية :

١- .....

٢- .....

ج - مكونات نظام تحديد المواقع العالمي :

١- .....

٢- .....

المملكة العربية السعودية وزارة التعليم الإدارة العامة للتعليم بمنطقة مكتب التعليم مدرسة	 <b>وزارة التعليم</b> Ministry of Education	الدرجة	اسم المصحح :	التوقيع
	 <b>رؤية 2030</b>	..... ٤٠	اسم المراجع :	التوقيع

أُسئلة اختبار منتصف الفصل الدراسي الثالث	العام الدراسي ١٤٤٦ هـ	الصف الثالث متوسط	رقم الجلوس
اسم الطالب : .....	المادة : اجتماعيات	الزمن : ساعه	عدد الصفحات : ٢

### السؤال الأول

استعن بالله ثم اجب على الاسئلة

٢٠

ضع علامة ( √ ) أمام العبارة الصحيحة وعلامة ( X ) أمام العبارة الخاطئة

أ

١	تساعد المساحة على تمثيل مواقع الظواهر الطبيعية.	( )
٢	تتشابه الرموز في كل مفاتيح الخرائط	( )
٣	اختلاف المعلومات التي تقدمها الخرائط أدى إلى تنوعها .	( )
٤	الصور الجوية توضح الظواهر المتحركة	( )
٥	يطلق على المساحة الأرضية المساحة التقليدية	( )

### السؤال الثاني

أربط بين العمود [ أ ] بما يناسبه في العمود [ ب ] بوضع الرقم المناسب في مربع الإجابة :

م	العمود [ أ ]	الإجابة	العمود [ ب ]
١	توضح الهجرات البشرية في العالم.		خريطة سياسية
٢	تمثل الحدود بين الدول		خريطة سكانية
٣	تحوي حقول النفط في منطقة الخليج العربي.		خريطة مناخية
٤	توضح طريق هجرة نبينا محمد من مكة المكرمة إلى المدينة المنورة		خريطة اقتصادية
٥	تمثل مناطق نزول الأمطار صيفا في شبه الجزيرة العربية.		خريطة تاريخية



١- تساعد في معرفة الشهور وأوقات الصلاة وتحديد القبلة .

أ	المساحة الأرضية	ب	المساحة الفلكية	ج	المساحة الملاحية
---	-----------------	---	-----------------	---	------------------

٢- النسبة بين البعد على الخريطة، وما يقابله على الطبيعة:

أ	مفتاح الخريطة	ب	مقياس الرسم	ج	شبكة الاحداثيات
---	---------------	---	-------------	---	-----------------

٣ - مجموعة من المصطلحات والرموز تمثل الظواهر والمعالم التي على الخريطة

أ	مفتاح الخريطة	ب	شبكة الاحداثيات	ج	المساحة
---	---------------	---	-----------------	---	---------

٤-: يبين موضوع الخريطة والمكان الذي تمثله:

أ	عنوان الخريطة	ب	مفتاح الخريطة	ج	إطار الخريطة
---	---------------	---	---------------	---	--------------

٥- تعني تحديد نُقْط على سطح الأرض للمساحات الشاسعة،

أ	المساحة الجيوديسية	ب	المساحة المستوية	ج	المساحة الطبوغرافية
---	--------------------	---	------------------	---	---------------------

## السؤال الرابع

اكتب اثنين فقط لكل مما يلي :

أ - من أنواع مقاييس الرسم :

١- المقياس الخطي .....

٢- المقياس النسبي .....

ب - استعملات الصور الجوية :

١- التعرف على الظواهر الطبيعية والبشرية .

٢- إعداد الخرائط الطبوغرافية .

ج - مكونات نظام تحديد المواقع العالمي :

١- قسم الأقمار الصناعية .....

٢- قسم المستخدم .....



نموذج اختبار منتصف الفترة لمادة الدراسات الاجتماعية للصف الثالث المتوسط

الدرجة:

20

اسم الطالب	الفصل	أ / ب
------------	-------	-------

**السؤال الاول: ضع علامة (√) أمام العبارة الصائبة وعلامة (x) أمام العبارة الخاطئة لما يأتي؟**

5 درجات

1	يحثنا ديننا الاسلامي على العمل والانجاز
2	التطور التقني لم يقلل من الاعتماد على الأيدي العاملة
3	يساعد علم المساحة في تمثيل مواقع الظواهر الطبيعية
4	عندما يكون الانسان منجزا فانه يشعر بالرضا
5	التضخم غير مضر بالاقتصاد

درجتين

**السؤال الثاني:**

البطالة مشكلة اقتصادية واجتماعية، وقامت حكومة وطني بجهود واجراءات لتقليص نسبة البطالة ومن هذه الاجراءات (برنامج جودة الحياة) عبر بأسلوبك ويايجاز عن هذا البرنامج واهدافه؟

4 درجات

**السؤال الثالث: اختر الاجابة الصحيحة في الجدول ادناه؟**

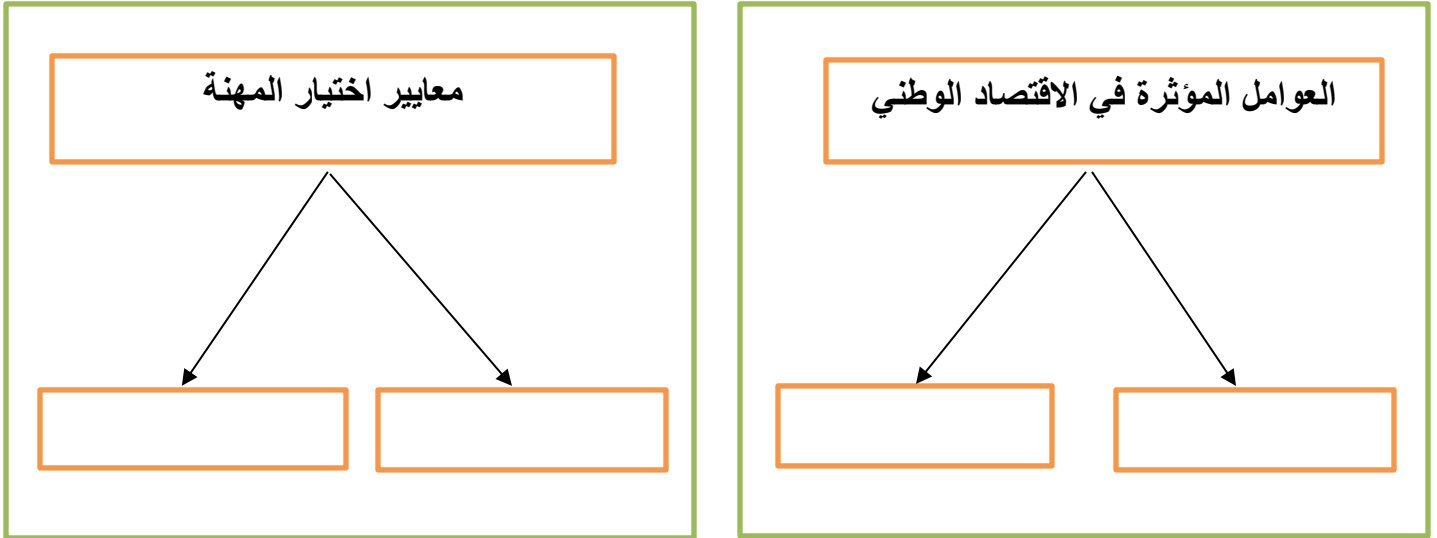
1	نسبة البعد على الخريطة وما يقابله على الطبيعة:	2	كل ما يأتي من اقسام GPS ماعدا :
أ	مقياس الرسم	أ	المستخدم
ب	الاحداثيات	ب	المساحة الارضية
ج	اطار الخريطة	ج	التحكم
د	عنوان الخريطة	د	الاقمار الصناعية
3	الانشطة البشرية في مجال الانتاج والخدمات :	4	من تتوافر لديهم مهارات ولا تتوافر لهم فرص عمل
أ	الانجاز الذاتي	أ	بطالة اختيارية
ب	الانتاج	ب	بطالة هيكلية
ج	التضخم	ج	بطالة مقنعة
د	الاقتصاد الوطني	د	بطالة وظيفية

يتبع



## السؤال الرابع: أكل خرائط المفاهيم التالية ؟

4 درجات



درجتين

## السؤال الخامس: قارن بين الخريطة والصور الجوية وفق الجدول أدناه؟

الخريطة	وجه المقارنة	الصور الجوية
	المفتاح والرموز	
	الظواهر التي تفسرها	

3 درجات

## السؤال السادس: من خلال درستك لأنواع الخرائط ومستعينا بالشكل المجاور حدد أنواع الخرائط أدناه؟

خريطة سياسية  
خريطة مناخية  
خريطة اقتصادية  
خريطة تاريخية



انتهت الاسئلة

نموذج اختبار منتصف الفترة لهادة الدراسات الاجتماعية للصف الثالث المتوسط

الدرجة:

20

اسم الطالب	نموذج اجابة	الفصل	أ / ب
------------	-------------	-------	-------

**السؤال الاول: ضع علامة (✓) أمام العبارة الصائبة وعلامة (x) أمام العبارة الخاطئة لما يأتي؟**

5 درجات

✓	1	يحثنا ديننا الاسلامي على العمل والانجاز
x	2	التطور التقني لم يقلل من الاعتماد على الأيدي العاملة
✓	3	يساعد علم المساحة في تمثيل مواقع الظواهر الطبيعية
✓	4	عندما يكون الانسان منجزا فانه يشعر بالرضا
x	5	التضخم غير مضر بالاقتصاد

درجتين

**السؤال الثاني:**

البطالة مشكلة اقتصادية واجتماعية، وقامت حكومة وطني بجهود واجراءات لتقليص نسبة البطالة ومن هذه الاجراءات (برنامج جودة الحياة) عبر بأسلوبك ويايجاز عن هذا البرنامج واهدافه؟

هو احد برامج رؤية المملكة 2030 ويخدم عدة جوانب منها الجانب الاقتصادي والاجتماعي ويسهم في خفض البطالة وتوفير فرص عمل كثيرة في عدة قطاعات مختلفة

4 درجات

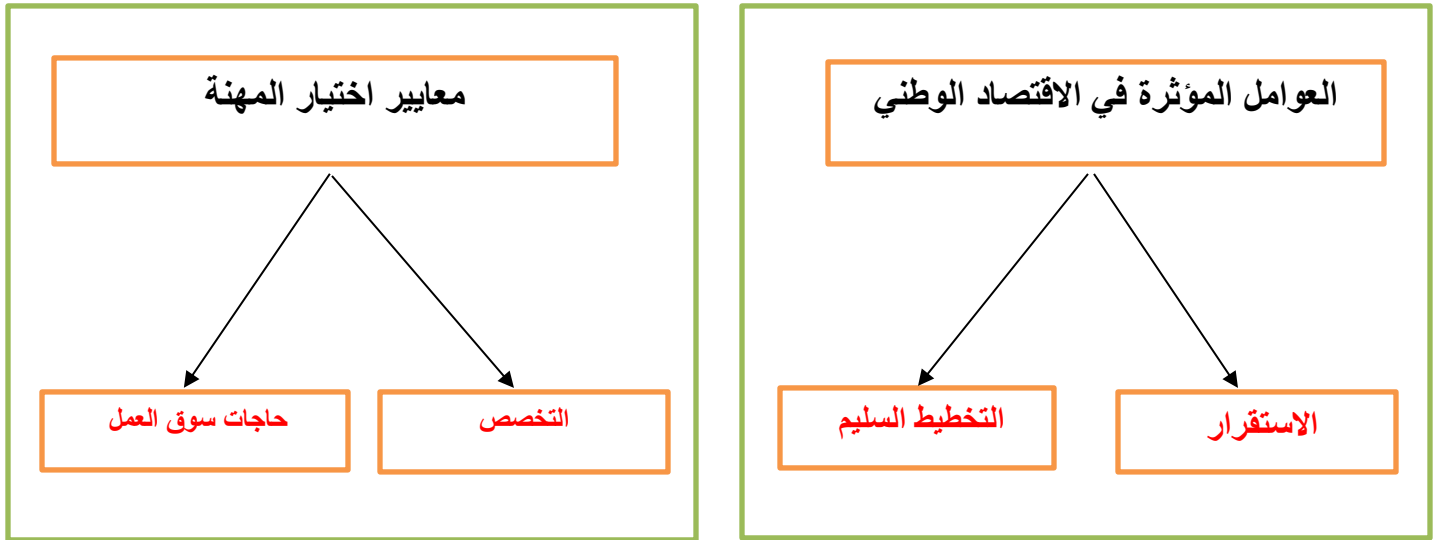
**السؤال الثالث: اختر الاجابة الصحيحة في الجدول ادناه؟**

1	نسبة البعد على الخريطة وما يقابله على الطبيعة:	2	كل ما يأتي من اقسام GPS ماعدا :
أ	مقياس الرسم	أ	المستخدم
ب	الاحداثيات	ب	المساحة الارضية
ج	اطار الخريطة	ج	التحكم
د	عنوان الخريطة	د	الاقمار الصناعية
3	الانشطة البشرية في مجال الانتاج والخدمات :	4	من تتوافر لديهم مهارات ولا تتوافر لهم فرص عمل
أ	الانجاز الذاتي	أ	بطالة اختيارية
ب	الانتاج	ب	بطالة هيكلية
ج	التضخم	ج	بطالة مقنعة
د	الاقتصاد الوطني	د	بطالة وظيفية

يتبع

## السؤال الرابع: أكل خرائط المفاهيم التالية ؟

4 درجات



درجتين

## السؤال الخامس: قارن بين الخريطة والصور الجوية وفق الجدول أدناه؟

الخريطة	وجه المقارنة	الصور الجوية
يوجد بها مفتاح ورموز	المفتاح والرموز	لا يوجد بها مفتاح ورموز
الظواهر الثابتة	الظواهر التي تفسرها	الظواهر الثابتة والمتحركة

3 درجات

## السؤال السادس: من خلال درستك لأنواع الخرائط ومستعينا بالشكل المجاور حدد أنواع الخرائط أدناه؟

خريطة سياسية  
خريطة مناخية  
خريطة اقتصادية  
خريطة تاريخية



خريطة اقتصادية


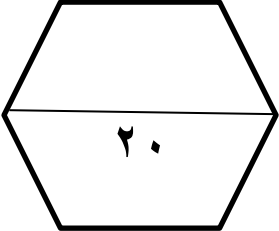


خريطة مناخية



خريطة تاريخية

انتهت الاسئلة / محمد القرني

الدرجة رقماً	السؤال	 <b>وزارة التعليم</b> Ministry of Education	وزارة التعليم الإدارة العامة للتعليم بمحافظة متوسطة		
	س ١		المادة	الصف	زمن الاختبار
	س ٢		اجتماعيات	ثالث متوسط	٤٥ دقيقة
	س ٣		اسم الطالب:		
الصف:					
عزيري الطالب / استعن بالله ثم أجب عن الأسئلة التالية :			أسئلة اختبار منتصف الفصل الدراسي الثالث للعام الدراسي ١٤٤٦ هـ		

السؤال الأول : أجب بعلامة (✓) أمام العبارة الصحيحة وعلامة (X) أمام العبارة الخاطئة :

( )	١) يحدد إطار الخريطة بعد الانتهاء من رسمها .
( )	٢) الخريطة لا توضح الظواهر المتحركة .
( )	٣) الصورة الجوية توضح خطوط الطول ودوائر العرض .
( )	٤) يشير مؤشر اتجاه الخريطة دائماً نحو جهة الشمال .
( )	٥) من فوائد إطار الخريطة تحديد الجزء الذي تمثله الخريطة .
( )	٦) التوقيع هو نقل المعلومات من الخريطة إلى الطبيعة .

السؤال الثاني : اختر الإجابة الصحيحة في الجمل التالية وذلك بوضع علامة (✓) في المربع الذي أمامك :

١	هي وسيلة لتمثيل سطح الكرة الأرضية أو جزء منه بظواهره الطبيعية والبشرية على لوحة مستوية :	٢	هي الخرائط التي تمثل عليها الظواهر الطبيعية التي خلقها الله والتي لا أثر للإنسان في نشأتها :
أ- <input type="checkbox"/>	مقياس الرسم	أ- <input type="checkbox"/>	الخرائط البشرية
ب- <input type="checkbox"/>	الخريطة	ب- <input type="checkbox"/>	الخرائط الطبيعية
ج- <input type="checkbox"/>	علم المساحة	ج- <input type="checkbox"/>	الخرائط التضاريسية
د- <input type="checkbox"/>	الصورة الجوية	د- <input type="checkbox"/>	الخرائط السياسية
٣	توضح طريقة هجرة نبينا محمد صلى الله عليه وسلم من مكة المكرمة إلى المدينة المنورة خريطة :	٤	يقصد بها خطوط الطول ودوائر العرض :
أ- <input type="checkbox"/>	اقتصادية	أ- <input type="checkbox"/>	عنوان الخريطة
ب- <input type="checkbox"/>	مناخية	ب- <input type="checkbox"/>	إطار الخريطة
ج- <input type="checkbox"/>	تاريخية	ج- <input type="checkbox"/>	شبكة الاحداثيات
د- <input type="checkbox"/>	سياسية	د- <input type="checkbox"/>	مقياس الرسم


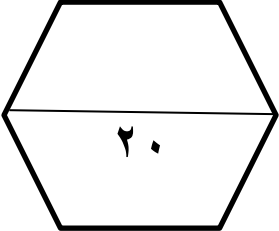
٥	أفضل أنواع المقاييس هو المقياس :		٦	هي صورة لجزء من سطح الأرض تلتقط بالطائرات أو المناطيد المزودة بالكاميرات التصوير :	
أ-	<input type="checkbox"/>	الخطي	أ-	<input type="checkbox"/>	الظواهر الطبيعية
ب-	<input type="checkbox"/>	الكتابي	ب-	<input type="checkbox"/>	الاحداثيات
ج-	<input type="checkbox"/>	النسي	ج-	<input type="checkbox"/>	الخريطة
د-	<input type="checkbox"/>	الكسري	د-	<input type="checkbox"/>	الصور الجوية
٧	من فوائد نظام تحديد المواقع :		٨	المساحة الفلكية تكون لمعرفة الحسابات الفلكية مثل :	
أ-	<input type="checkbox"/>	تحديد المواقع تحديداً دقيقاً	أ-	<input type="checkbox"/>	معرفة الشهور
ب-	<input type="checkbox"/>	تحديد اتجاه القبلة	ب-	<input type="checkbox"/>	أوقات الصلاة
ج-	<input type="checkbox"/>	إرشاد السفن والطائرات	ج-	<input type="checkbox"/>	تحديد القبلة
د-	<input type="checkbox"/>	جميع ما سبق	د-	<input type="checkbox"/>	جميع ما سبق

السؤال الثالث: اكتب الرقم المناسب من المجموعة ( أ ) أمام ما يناسبه من المجموعة ( ب ) :

مجموعة ( أ )	الاجابة	مجموعة ( ب )
١- المساحة الجيوديسية		الغرض منها إنشاء الخرائط التفصيلية وبيان المعالم وبعض التفاصيل .
٢- المساحة المستوية		الغرض منها رسم الخرائط التفصيلية من أجل بيان ما تحويه الأرض من معالم طبيعية وبشرية .
٣- عنوان الخريطة		تعني الأعمال المساحية التي تغطي جزء صغير من سطح الأرض دون الاهتمام بكروية الأرض .
٤- نظام ( GPS )		تعني تحديد نقط على سطح الأرض للمساحات الشاسعة مع الأخذ في الحسبان بكروية الأرض .
٥- المساحة التفصيلية		الاسم الذي يحدد موضوع الخريطة .
٦- المساحة الطبوغرافية		نظام مترابط يساعد على تحديد احداثيات أي مكان على سطح الأرض بدقة عالية وفق خطوط الطول ودوائر العرض .

انتهت الأسئلة

إعداد : خالد الحربي

الدرجة رقمًا	السؤال	 <b>وزارة التعليم</b> Ministry of Education	وزارة التعليم الإدارة العامة للتعليم بمحافظة متوسطة		
	س ١		المادة	الصف	زمن الاختبار
	س ٢		اجتماعيات	ثالث متوسط	٤٥ دقيقة
	س ٣		اسم الطالب:		
الصف:					
عزيزي الطالب / استعن بالله ثم أجب عن الأسئلة التالية :			أسئلة اختبار منتصف الفصل الدراسي الثالث للعام الدراسي ١٤٤٦ هـ		

السؤال الأول : أجب بعلامة (✓) أمام العبارة الصحيحة وعلامة (X) أمام العبارة الخاطئة :

( )	١) يحدد إطار الخريطة بعد الانتهاء من رسمها .
( )	٢) الخريطة لا توضح الظواهر المتحركة .
( )	٣) الصورة الجوية توضح خطوط الطول ودوائر العرض .
( )	٤) يشير مؤشر اتجاه الخريطة دائما نحو جهة الشمال .
( )	٥) من فوائد إطار الخريطة تحديد الجزء الذي تمثله الخريطة .
( )	٦) التوقيع هو نقل المعلومات من الخريطة إلى الطبيعة .

السؤال الثاني : اختر الإجابة الصحيحة في الجمل التالية وذلك بوضع علامة (✓) في المربع الذي أمامك :

١	هي وسيلة لتمثيل سطح الكرة الأرضية أو جزء منه بظواهره الطبيعية والبشرية على لوحة مستوية :	٢	هي الخرائط التي تمثل عليها الظواهر الطبيعية التي خلقها الله والتي لا أثر للإنسان في نشأتها :
أ- <input type="checkbox"/>	مقياس الرسم	أ- <input type="checkbox"/>	الخرائط البشرية
ب- <input type="checkbox"/>	الخريطة	ب- <input type="checkbox"/>	الخرائط الطبيعية
ج- <input type="checkbox"/>	علم المساحة	ج- <input type="checkbox"/>	الخرائط التضاريسية
د- <input type="checkbox"/>	الصورة الجوية	د- <input type="checkbox"/>	الخرائط السياسية
٣	توضح طريقة هجرة نبينا محمد صلى الله عليه وسلم من مكة المكرمة إلى المدينة المنورة خريطة :	٤	يقصد بها خطوط الطول ودوائر العرض :
أ- <input type="checkbox"/>	اقتصادية	أ- <input type="checkbox"/>	عنوان الخريطة
ب- <input type="checkbox"/>	مناخية	ب- <input type="checkbox"/>	إطار الخريطة
ج- <input type="checkbox"/>	تاريخية	ج- <input type="checkbox"/>	شبكة الاحداثيات
د- <input type="checkbox"/>	سياسية	د- <input type="checkbox"/>	مقياس الرسم



٥	أفضل أنواع المقاييس هو المقياس :		٦	هي صورة لجزء من سطح الأرض تلتقط بالطائرات أو المناطيد المزودة بالكاميرات التصوير :	
أ-	<input type="checkbox"/>	الخطي	أ-	<input type="checkbox"/>	الظواهر الطبيعية
ب-	<input type="checkbox"/>	الكتابي	ب-	<input type="checkbox"/>	الاحداثيات
ج-	<input type="checkbox"/>	النسي	ج-	<input type="checkbox"/>	الخريطة
د-	<input type="checkbox"/>	الكسري	د-	<input type="checkbox"/>	الصور الجوية
٧	من فوائد نظام تحديد المواقع :		٨	المساحة الفلكية تكون لمعرفة الحسابات الفلكية مثل :	
أ-	<input type="checkbox"/>	تحديد المواقع تحديداً دقيقاً	أ-	<input type="checkbox"/>	معرفة الشهور
ب-	<input type="checkbox"/>	تحديد اتجاه القبلة	ب-	<input type="checkbox"/>	أوقات الصلاة
ج-	<input type="checkbox"/>	إرشاد السفن والطائرات	ج-	<input type="checkbox"/>	تحديد القبلة
د-	<input type="checkbox"/>	جميع ما سبق	د-	<input type="checkbox"/>	جميع ما سبق

السؤال الثالث: اكتب الرقم المناسب من المجموعة ( أ ) أمام ما يناسبه من المجموعة ( ب ) :

مجموعة ( أ )	الاجابة	مجموعة ( ب )
١- المساحة الجيوديسية		الغرض منها إنشاء الخرائط التفصيلية وبيان المعالم وبعض التفاصيل .
٢- المساحة المستوية		الغرض منها رسم الخرائط التفصيلية من أجل بيان ما تحويه الأرض من معالم طبيعية وبشرية .
٣- عنوان الخريطة		تعني الأعمال المساحية التي تغطي جزء صغير من سطح الأرض دون الاهتمام بكروية الأرض .
٤- نظام ( GPS )		تعني تحديد نقط على سطح الأرض للمساحات الشاسعة مع الأخذ في الحسبان بكروية الأرض .
٥- المساحة التفصيلية		الاسم الذي يحدد موضوع الخريطة .
٦- المساحة الطبوغرافية		نظام مترابط يساعد على تحديد احداثيات أي مكان على سطح الأرض بدقة عالية وفق خطوط الطول ودوائر العرض .

انتهت الأسئلة

إعداد : خالد الحربي

اختبار مادة : الدراسات الاجتماعية	الصف : ثالث متوسط	الفصل الدراسي : الثالث لعام ١٤٤٦ هـ
الاسم: .....	الدرجة	معلم المادة: ..... التوقيع : .....
	٢٠	

السؤال الأول: اختر الاجابة الصحيحة:

١	وسيلة لتمثيل سطح الكرة الأرضية، أو جزء منه بظواهره الطبيعية، والبشرية على لوحة مستوية.	أ	الخارطة	ب	الصور الجوية	ج	المساحة
٢	الخرائط التي تمثل عليها الظواهر الطبيعية التي خلقها الله هي الخرائط	أ	الطبيعية	ب	البشرية	ج	السكانية
٣	الخرائط السياسية التي تمثل الظواهر السياسية مثل	أ	الحدود بين الدول	ب	توزيع السكان	ج	التضاريس
٤	من فوائد إطار الخارطة:	أ	تحديد الجزء الذي تمثله الخارطة	ب	تحديد اتجاه الخارطة	ج	قراءة المعلومات
٥	النسبة بين البعد على الخارطة، وما يقابله على الطبيعة:	أ	مقياس الرسم	ب	اتجاه الخارطة	ج	شبكة الإحداثيات
٦	خارطة دقيقة توضح الظواهر الطبيعية، والبشرية معاً بدقة عالية باستخدام الرموز النقطية، والخطية، والمساحية:	أ	الطبيعية	ب	الطوبوغرافية.	ج	البشرية
٧	من مميزات الخارطة:	أ	لا تحتاج لمفتاح رموز.	ب	تمثيل لما تعبر عنه.	ج	توضح الظواهر المتحركة
٨	الصور الجوية المائلة تلتقط، والعدسات في وضع مائل بحيث تغطي مساحات:	أ	أصغر	ب	أكبر	ج	صغيرة جداً.
٩	يبلغ عدد الأقمار الصناعية المخصصة لنظام تحديد المواقع العالمي: ( GPS ) :	أ	٢٥	ب	٢٤	ج	٢٦
١٠	القسم الذي يقوم بحساب الإحداثيات في مكونات نظم تحديد المواقع العالمي:	أ	الأقمار	ب	قسم التحكم	ج	قسم المستخدم.

السؤال الثاني: ضع علامة ( √ ) أمام العبارة الصحيحة وعلامة ( X ) أمام العبارة الخاطئة في ما يلي :

م	العبارة	الإجابة
١	أصبحت الخرائط اليوم رقمية.	
٢	من عناصر الخارطة عنوان الخارطة	
٣	فائدة شبكة الإحداثيات التي توضع على الخرائط تحديد المواقع	
٤	هناك عدة طرائق لقياس المسافات على الخارطة منها المسطرة.	
٥	لا يوجد مفتاح بالصور الجوية	
٦	قسم المستخدم هو عبارة عن أجهزة استقبال ( GPS ) توجد في الأقمار	
٧	لا توجد فوائد من تحديد المواقع على سطح الأرض	
٨	لا يوجد أنواع للصور الجوية	
٩	اتجاه الخارطة هو المؤشر الذي يبين اتجاه الجنوب	
١٠	الخرائط التاريخية هي التي تتناول جوانب سياسية	

انتهت الأسئلة ،،،، مع تمنياتي لكم بالتوفيق والنجاح ،،،، معلم المادة /

اختبار مادة : الدراسات الاجتماعية	الصف : ثالث متوسط	الفصل الدراسي : الثالث لعام ١٤٤٥ هـ
-----------------------------------	-------------------	-------------------------------------

الاسم: .....	الدرجة	٢٠	معلم المادة: .....	التوقيع: .....
--------------	--------	----	--------------------	----------------

السؤال الأول: اختر الاجابة الصحيحة:

١	وسيلة لتمثيل سطح الكرة الأرضية، أو جزء منه بظواهره الطبيعية، والبشرية على لوحة مستوية.	أ	الخارطة	ب	الصور الجوية	ج	المساحة
٢	الخرائط التي تمثل عليها الظواهر الطبيعية التي خلقها الله هي الخرائط	أ	الطبيعية	ب	البشرية	ج	السكانية
٣	الخرائط السياسية التي تمثل الظواهر السياسية مثل	أ	الحدود بين الدول	ب	توزيع السكان	ج	التضاريس
٤	من فوائد إطار الخارطة:	أ	تحديد الجزء الذي تمثله الخارطة	ب	تحديد اتجاه الخارطة	ج	قراءة المعلومات
٥	النسبة بين البعد على الخارطة، وما يقابله على الطبيعة:	أ	مقياس الرسم	ب	اتجاه الخارطة	ج	شبكة الإحداثيات
٦	خارطة دقيقة توضح الظواهر الطبيعية، والبشرية معاً بدقة عالية باستخدام الرموز النقطية، والخطية، والمساحية:	أ	الطبيعية	ب	الطوبوغرافية	ج	البشرية
٧	من مميزات الخارطة:	أ	لا تحتاج لمفتاح رموز.	ب	تمثيل لما تعبر عنه	ج	توضح الظواهر المتحركة
٨	الصور الجوية المائلة تلتقط، والعدسات في وضع مائل بحيث تغطي مساحات:	أ	أصغر	ب	أكبر	ج	صغيرة جداً.
٩	يبلغ عدد الأقمار الصناعية المخصصة لنظام تحديد المواقع العالمي: ( GPS ) :	أ	٢٥	ب	٢٤	ج	٢٦
١٠	القسم الذي يقوم بحساب الإحداثيات في مكونات نظم تحديد المواقع العالمي:	أ	الأقمار	ب	قسم التحكم	ج	قسم المستخدم.

السؤال الثاني: ضع علامة ( √ ) أمام العبارة الصحيحة وعلامة ( X ) أمام العبارة الخاطئة في ما يلي :

م	العبارة	الإجابة
١	أصبحت الخرائط اليوم رقمية.	√
٢	من عناصر الخارطة عنوان الخارطة	√
٣	فائدة شبكة الإحداثيات التي توضع على الخرائط تحديد المواقع	√
٤	هناك عدة طرائق لقياس المسافات على الخارطة منها المسطرة.	√
٥	لا يوجد مفتاح بالصور الجوية	√
٦	قسم المستخدم هو عبارة عن أجهزة استقبال ( GPS ) توجد في الأقمار	×
٧	لا توجد فوائد من تحديد المواقع على سطح الأرض	×
٨	لا يوجد أنواع للصور الجوية	×
٩	اتجاه الخارطة هو المؤشر الذي يبين اتجاه الجنوب	×
١٠	الخرائط التاريخية هي التي تتناول جوانب سياسية	×

انتهت الأسئلة ،،،، مع تمنياتي لكم بالتوفيق والنجاح ،،،، معلم المادة /

## نموذج اختبار اعمال السنة- لمادة الدراسات الاجتماعية للصف الثالث المتوسط

20

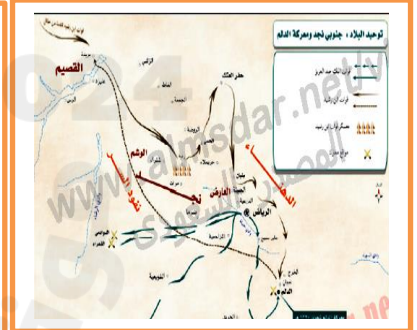
اسم الطالبة :

## السؤال الاول: أ- ضع علامة (✓) أمام العبارة الصائبة وعلامة (x) أمام العبارة الخاطئة لما يأتي؟

١	تتشابه الرموز في كل مفاتيح الخرائط.
٢	يحدد إطار الخريطة بعد الإنتهاء من رسمها.
٣	من أنواع الرموز المستعملة في مفتاح الخريطة نقطية
٤	يشير السهم في الخريطة الى جهة الجنوب
٥	تنقسم انواع الخرائط الى نوعان :طبيعية وبشرية

## ب- من خلال درستك لأنواع الخرائط ومستعينة بالشكل المجاور حددي انواع الخرائط أدناه؟

خريطة سياسية  
خريطة مناخية  
خريطة اقتصادية  
خريطة تاريخية



## السؤال الثاني: أ- قارني بين الخريطة والصور الجوية وفق الجدول أدناه؟

الخريطة	وجه المقارنة	الصور الجوية
	المفتاح والرموز	
	الظواهر التي تفسرها	

ب. اختاري الإجابة الصحيحة في الجدول أدناه؟

١	نسبة البعد على الخريطة وما يقابله على الطبيعة:	٢	من طرق قياس المسافات على الخريطة :
أ	مقياس الرسم	أ	المسطرة
ب	الاحداثيات	ب	العجلة والخيط
ج	اطار الخريطة	ج	جميع ما سبق

السؤال الثالث: أ- مستعينة بالشكل المجاور ضعي المصطلح امام ما يناسبه من العبارات أدناه؟

- ١- ) تمثيل سطح الارض او جزء منه على لوحة مستوية
- ٢- ) تقاطع خطوط الطول ودوائر العرض .
- ٣- ) هي صور تلتقط بعدسات التصوير في وضع مائل .
- ٤- ) هي الخرائط التي توضح حدود الدول .

خريطة سياسية  
الخريطة  
الاحداثيات  
الصور المائلة

ب- اجبي عما يلي :

- ١- عرفي الصورة الجوية :

- ٢- عللي : المقياس الخطي يعد أفضل أنواع مقاييس الرسم على الخريطة؟

انتهت الأسئلة تمنياتي لكن بالتوفيق

اسم الطالب : .....

اختبار منتصف الفصل الثالث للصف ثالث متوسط لمادة الدراسات الاجتماعية

السؤال الأول:

6

ضع علامة (  $\sqrt$  ) أمام الإجابة الصحيحة وعلامة (  $\times$  ) أمام الإجابة الخاطئة:

- ( ) 1) الخرائط الطبيعية تعني تمثيل الظواهر التي خلقها دون تدخل البشر
- ( ) 2) الصور الجوية المائلة تلتقط والعدسات في وضع مائل بحيث تغطي مساحة أكبر
- ( ) 3) من فوائد نظام تحديد المواقع العالمي هو تحديد اتجاه القبلة
- ( ) 4) يعتمد رسم الخريطة على عدة عناصر لابد توفرها بالخريطة
- ( ) 5) شبكة الاحداثيات هي خطوط الطول ودوائر العرض
- ( ) 6) من فوائد عنون الخريطة انه يقوم على قياس المسافات على الخريطة

السؤال الثاني: اختاري الإجابة الصحيحة بوضع دائرة عليها:

6

1	أي من الخيارات التالية من عناصر الخريطة ؟	
أ	نقطية	ب اطار الخريطة
ج	لا شيء	
2	الصورة الجوية تمثل	
أ	ماهو على سطح الارض	ب حقيقة ماهو على سطح الأرض (صورة)
ج	باطن الارض	
3	تصنف خريطة التي تشكل الجبال على سطح الارض	
أ	خريطة طبيعية	ب خريطة بشرية
ج	خريطة الطقس	
4	تمثل خريطة السكان	
أ	الحرياح	ب التوزيع البشري وكثافته
ج	الغابات المطيرة	
5	تصنف الخريطة المناخية	
أ	خريطة بشرية	ب خريطة طبيعية
ج	جميع ماسبق	
6	من اقسام او عناصر GBS	
أ	الجوالات	ب الأقمار الصناعية
ج	جميع ماسبق	



السؤال الثالث: (1) استعين بالكلمات التالية وأكمل الفراغات بما يناسبها

الخريطة	الخرائط النباتات	الخريطة البشرية
شبكة الاحداثيات	علم المساحة	الخريطة السياسية

- (1) هي وسيلة لتمثيل سطح الكرة الأرضية او جزء منه .....
- (2) تمثل توزيع الخرائط الغابات المطيرة .....
- (3) هي شبكة من الخطوط والدوائر تفيد في معرفه تحدد المواقع .....
- (4) هي الخريطة التي تمثل الحدود بين الدول .....
- (5) الخرائط التي تمثل عليها الجوانب التي تتصل بالإنسان ونشاطه.....
- (6) هو العلم الذي يبحث في الطرائق المختلفة لتمثيل سطح الأرض وما عليها.....

2025

2024

(2) عدد 2 من الظواهر الطبيعية على سطح الأرض

- 1 - .....
- 2 - .....

تمت الأسئلة

**الاختبار التحريري القصير لمادة الدراسات الاجتماعية للفصل الدراسي الثالث لعام 1446**

الاسم	الصف	اليوم	التاريخ	الدرجة
	الثالث متوسط			

**السؤال الأول: (أ) ضع علامة صح امام العبارة الصحيحة وعلامة خطأ امام العبارة الخاطئة فيما يلي:**

الأسئلة	الإجابة
1	يحثنا ديننا الإسلامي على العمل والانجاز
2	التطور التقني لم يقلل من الاعتماد على الايدي العاملة
3	يساعد علم المساحة في تمثيل مواقع الظواهر الطبيعية
4	عندما يكون الانسان منجزا فانه يشعر بالرضا
5	التضخم غير مضر بالاقتصاد


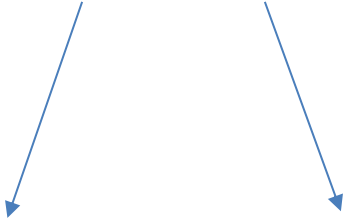
**(ب): اختاري الإجابة الصحيحة في الجدول ادناه:**

1	نسبة البعد على الخريطة وما يقابله على الطبيعة	2	كل ما يأتي من اقسام gps ماعدا:
أ	مقياس الرسم	أ	المستخدم
ب	الاحداثيات	ب	المساحة الأرضية
ج	اطار الخريطة	ج	التحكم
د	عنوان الخريطة	د	الأقمار الصناعية
3	الأنشطة البشرية في مجال الإنتاج والخدمات	4	من تتوافر لديهم مهارات ولا تتوفر لهم فرص عمل
أ	الإنجاز الذاتي	أ	بطالة اختيارية
ب	الإنتاج	ب	بطالة هيكلية
ج	التضخم	ج	بطالة مقنعة
د	الاقتصاد الوطني	د	بطالة وظيفية

**السؤال الثاني: (أ) أكمل خرائط المفاهيم التالية:**

معايير اختيار المهنة

العوامل المؤثرة في الاقتصاد الوطني



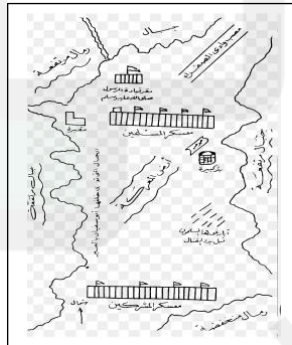
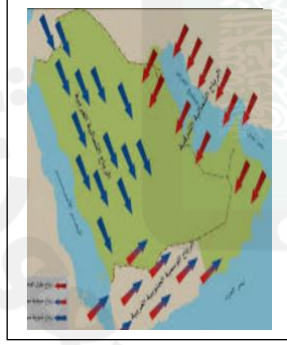




**(ب): قارني بين الخريطة والصور الجوية وفق الجدول ادناه:**

الخريطة	وجه المقارنة	الصور الجوية
1	المفتاح والرموز	
2	الظواهر التي تفسرها	

**(ج): من خلال دراستك لأنواع الخرائط ومستعينة بالشكل المجاور حددي أنواع الخرائط ادناه :**



-خريطة سياسية  
-خريطة مناخية  
-خريطة اقتصادية  
-خريطة تاريخية

انتهت الأسئلة أتمنى لك النجاح