

تم تحميل هذا الملف من موقع المناهج السعودية



\* للحصول على أوراق عمل لجميع الصفوف وجميع المواد اضغط هنا

<https://www.almanahj.com/sa>

\* للحصول على أوراق عمل لجميع مواد الصف الثاني المتوسط اضغط هنا

<https://almanahj.com/sa/8>

\* للحصول على جميع أوراق الصف الثاني المتوسط في مادة رياضيات وجميع الفصول, اضغط هنا

<https://almanahj.com/sa/8math>

\* للحصول على أوراق عمل لجميع مواد الصف الثاني المتوسط في مادة رياضيات الخاصة بـ الفصل الثاني اضغط هنا

<https://www.almanahj.com/sa/8math2>

\* لتحميل كتب جميع المواد في جميع الفصول للـ الصف الثاني المتوسط اضغط هنا

<https://www.almanahj.com/sa/grade8>

للحصول على جميع روابط الصفوف على تلغرام وفيسبوك من قنوات وصفحات: اضغط هنا <https://me.t/sacourse>



قم بتكرار هذا النموذج وابدأ في استخدامه كنموذج خاص بك.

قم بتكرارها

## رياضيات المساحة والحجم ٢

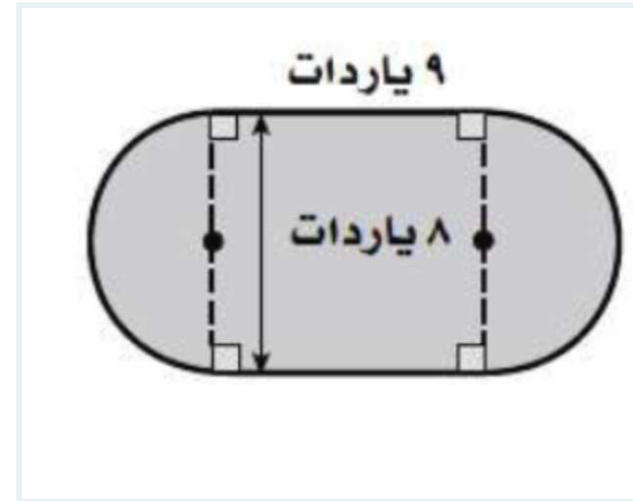
ثاني متوسط الفترة الأولى

...

مطلوب \*

1

\*: اوجد مساحة الشكل المركب التالي  
(نقطة واحدة)



☐ ٥٠,٢ ياردة مربعة

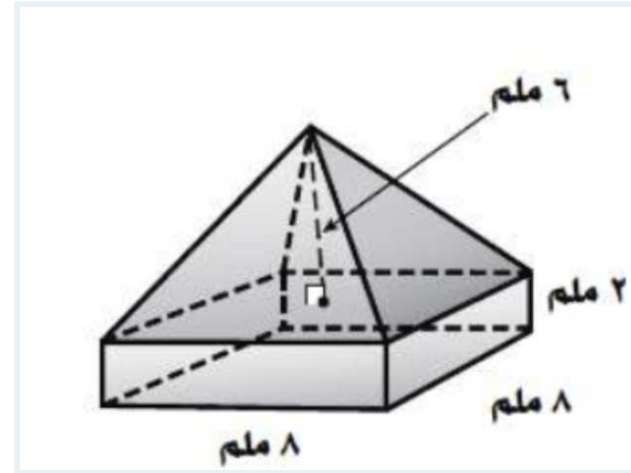
☐ ٧٢ ياردة مربعة

☐ ١٢٢,٢ ياردة مربعة

☐ ١٣٣,٢ ياردة مربعة

2

\* اوجد حجم الشكل التالي  
(نقطة واحدة)



☐ ١٨٠ ملم مكعب

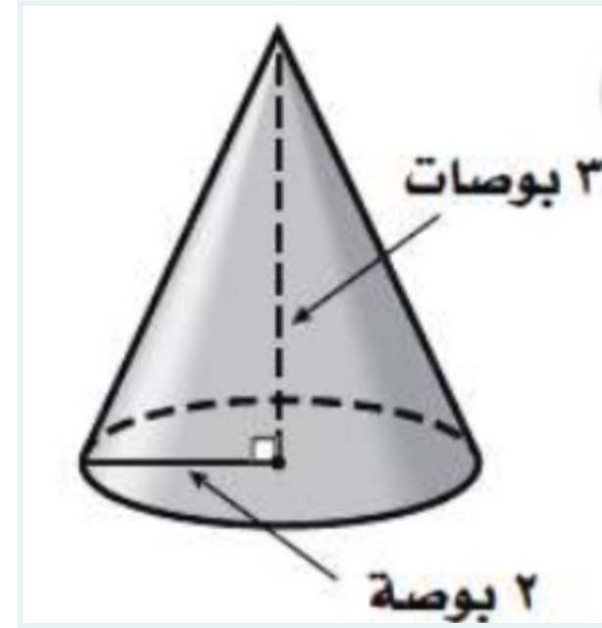
☐ ٢٢٣ ملم مكعب

☐ ١٢٨ ملم مكعب

☐ ٢٥٦ ملم مكعب

3

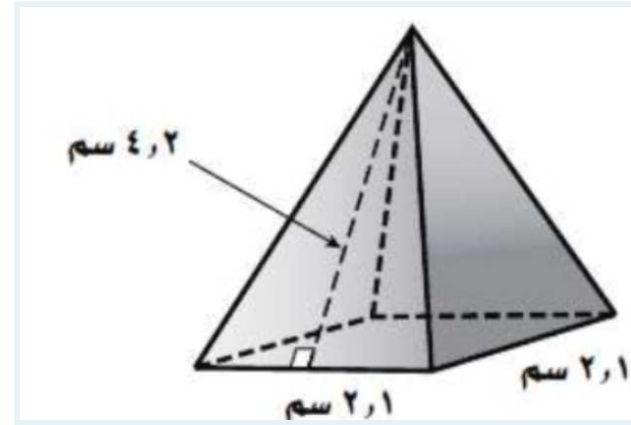
\* اوجد حجم الشكل التالي  
(نقطة واحدة)



- ☐ ٢٨,٦ بوصة مكعبة
- ☐ ٦١,٢ بوصة مكعبة
- ☐ ١٠,٦ بوصة مكعبة
- ☐ ١٢,٦ بوصة مكعبة

4

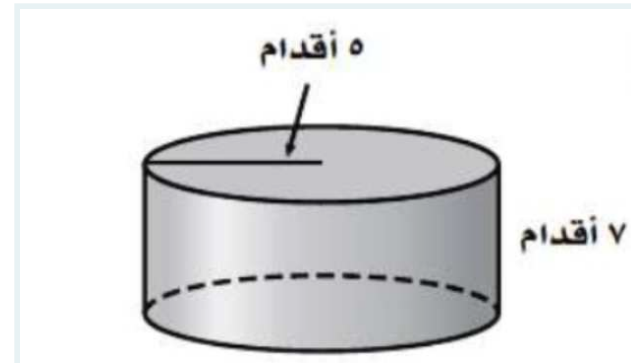
\* اوجد المساحة الكلية للشكل التالي  
(نقطة واحدة)



- ☐ ٢٢ سم مربع
- ☐ ٤,٤١ سم مربع
- ☐ ١٧,٦ سم مربع
- ☐ ١٢ سم مربع

5

\* اوجد حجم الشكل  
(نقطة واحدة)

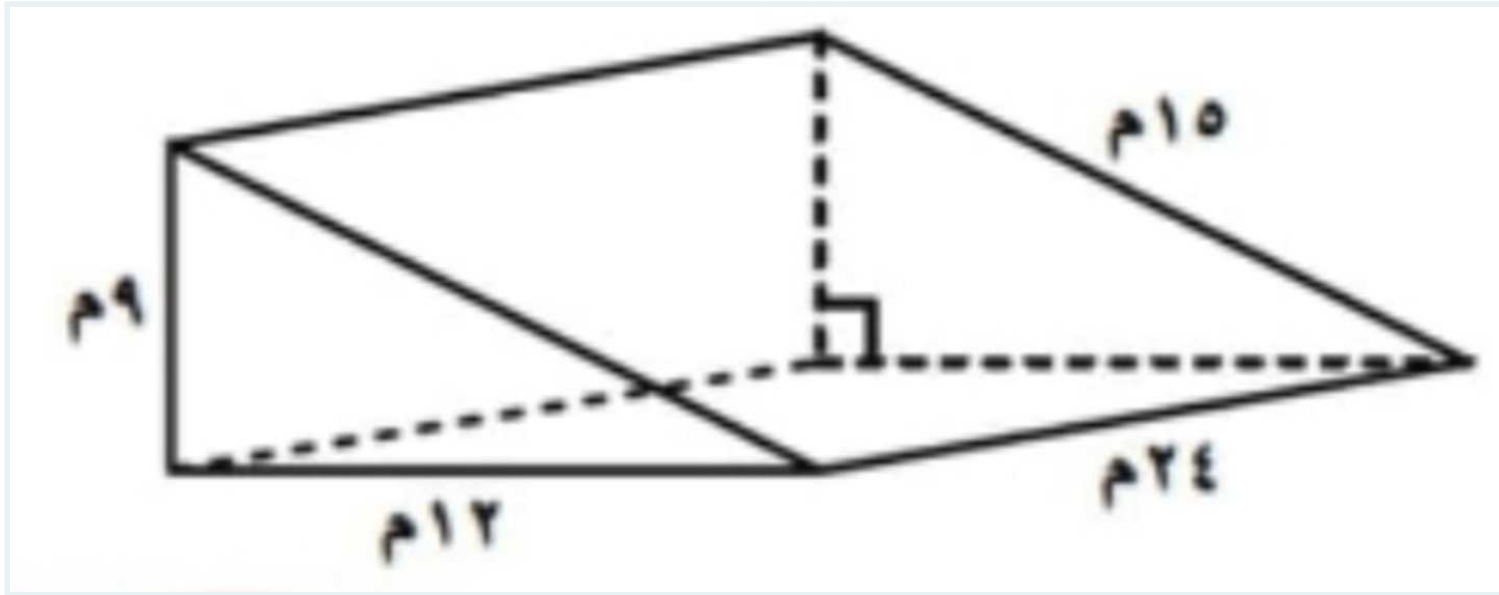


- ☐ ٥٢٢,٣ قدم مكعب
- ☐ ٥٤٩,٥ قدم مكعب

- ☐ ٤٩٥,٥ قدم مكعب
- ☐ ٤٥٩,٥ قدم مكعب

6

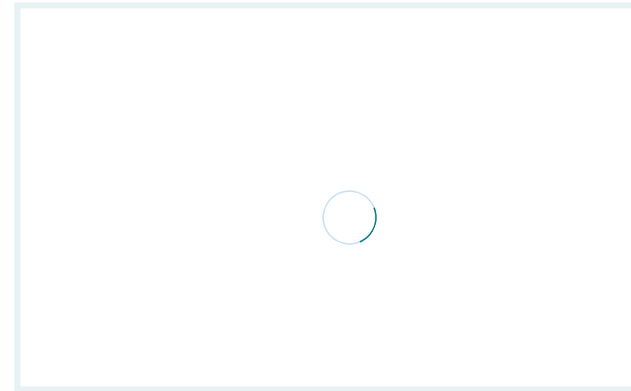
\* اوجد المساحة للشكل  
(نقطة واحدة)



- ☐ ٤٦٤ متر مربع
- ☐ ٦٥٤ متر مربع
- ☐ ١٢٤٥ متر مربع
- ☐ ٨٦٤ متر مربع

7


\* اوجد المساحة الكلية  
(نقطة واحدة)



- ☐ ١٢١٧ سم مربع
- ☐ ٦١٢ سم مربع
- ☐ ١١٧٢ سم مربع
- ☐ ٥٦٠ سم مربع

8

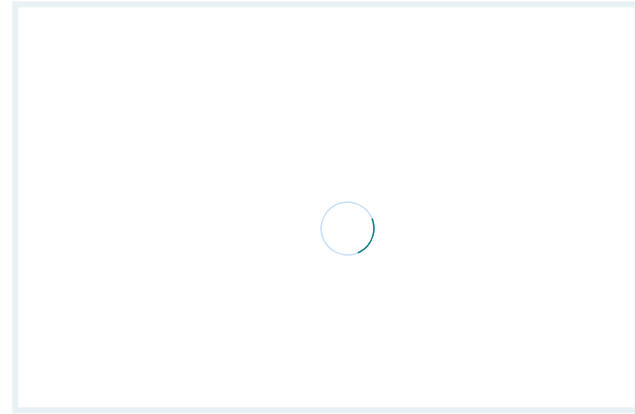
\* الشكل التالي هو  
(نقطة واحدة)



- ☐ مخروط
- ☐ منشور خماسي
- ☐ هرم سداسي
- ☐ هرم خماسي

9

\* المستوي الذي يوازي ب ج و هو  
(نقطة واحدة)



☐ د ج ب

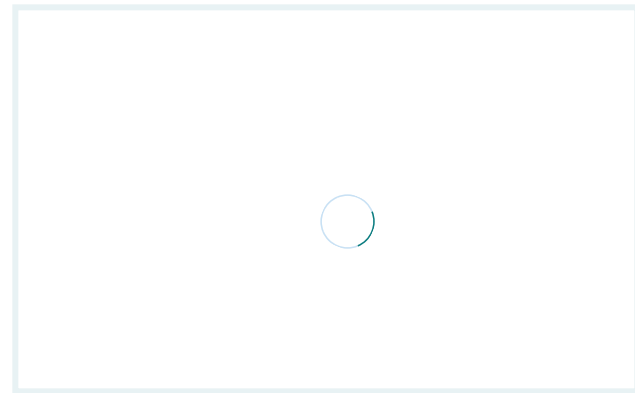
☐ أ د ز

☐ د أ ب

☐ د ج و

10

\* اوجد المساحة الكلية للشكل التالي  
(نقطة واحدة)



☐ ١٢٥,٦ متر مربع

☐ ٢٢٥,٦ متر مربعة

☐ ٢٢٦,١ متر مربعة

☐ ١٠٠,٥ متر مربع

يقدم

Duplicate this form and start to use it as your own. [Duplicate it](#)

ليست مسؤولية عن ممارسات الخصوصية أو Microsoft. تم إنشاء هذا المحتوى من قبل مالك النموذج. سيتم إرسال البيانات التي ترسلها إلى مالك النموذج الأمان لعملائها ، بما في ذلك ممارسات مالك هذا النموذج. لا تعط كلمة مرورك أبدًا

تعليمات الاستخدام | (https://go.microsoft.com/fwlink/?LinkId=521839) الخصوصية وملفات تعريف الارتباط | Microsoft Forms مدعوم من (https://go.microsoft.com/fwlink/?linkid=866263)