

اختبار الفصل الثامن المساحة والحجم غير محلول



تم تحميل هذا الملف من موقع المناهج السعودية

موقع المناهج ← المناهج السعودية ← الصف الثاني المتوسط ← رياضيات ← الفصل الثاني ← ملفات متنوعة ← الملف

تاريخ إضافة الملف على موقع المناهج: 2026-04-26 11:18:13

ملفات اكتب للمعلم اكتب للطالب الاختبارات الكترونية الاختبارات ا حلول ا عروض بوربوينت ا أوراق عمل
منهج انجليزي ا ملخصات وتقارير ا مذكرات وبنوك ا الامتحان النهائي للمدرس

المزيد من مادة
رياضيات:

إعداد: خالد

التواصل الاجتماعي بحسب الصف الثاني المتوسط



صفحة المناهج
السعودية على
فيسبوك

الرياضيات

اللغة الانجليزية

اللغة العربية

التربية الاسلامية

المواد على تلغرام

المزيد من الملفات بحسب الصف الثاني المتوسط والمادة رياضيات في الفصل الثاني

بديل الدفتر مضاف لها الواجب المنزلي 1447هـ

1

كتاب الرياضيات

2

مراجعة المنهج من غير حل

3


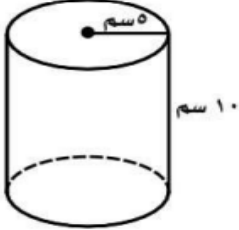


مراجعة شاملة للمنهج محلولة

4

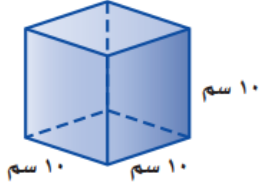
أسئلة مراجعة شاملة جديدة

5

السؤال الأول / اختر الإجابة الصحيحة لما يلي :

١/ مساحة الدائرة :			
(أ) م = نق	(ب) م = طنق ^٢	(ج) م = ق ع	(د) م = طنق ع
٢/ هو مجسم قاعدته الوحيدة مضلع وأوجهه مثلثات :			
(أ) الهرم	(ب) الاسطوانة	(ج) المخروط	(د) المنشور
٣/ حجم المخروط الذي قطر قاعدته ٦ م ، و ارتفاعه ٥ م يساوي :			
(أ) ٤٦ م ^٣	(ب) ٤٧,١ م ^٣	(ج) ٣٠ م ^٣	(د) ٣٨,٥ م ^٣
٤/ يسمى الشكل المجاور :			
			
(أ) منشور رباعي	(ب) هرم ثلاثي	(ج) منشور ثلاثي	(د) مثلث
٥/ أوجد حجم الاسطوانة التالية ؟			
			
(أ) ٧٨٥ سم ^٣	(ب) ٨٧٥ سم ^٣	(ج) ٦٧٥ سم ^٣	(د) ٦٨٠ سم ^٣
٦/ عدد رؤوس الشكل المقابل :			
			
(أ) ٨	(ب) ٦	(ج) ٣	(د) ٩
٧/ ما عدد أوجه المجسم التالي ؟			
			
(أ) ٦	(ب) ٥	(ج) ٨	(د) ٤

١٨ أوجد حجم المجسم التالي ؟



- (أ) 1000 سم^3 (ب) 100 سم^3 (ج) 300 سم^3 (د) 30 سم^3

١٩ يسمى المستقيمان اللذان لا يتقاطعان و لا يقعان في المستوى نفسه :

- (أ) مستقيمين متخالفين (ب) مستقيمين متوازيان (ج) مستقيمين متعامدان (د) مستقيمين متطابقان

١٠ عدد الأحراف للمجسم التالي :



- (أ) ٦ (ب) ١٠ (ج) ٩ (د) ١٢

السؤال الثاني :

(أ) - ضع الرقم المناسب من المجموعة (أ) أمام مايناسبه من المجموعة (ب) لما يلي :

م	المجموعة (أ)	م	المجموعة (ب)
١	مستقيم ناتج عن تقاطع مستويين		الشكل المركب
٢	يتكون من شكلين بسيطين أو أكثر		الرأس
٣	مجسم قاعدته دائرتان متطابقتان و متوازيان		المنشور
٤	قياس الحيز الذي يشغله الجسم في الفضاء و يقاس بالوحدات المكعبة		المخروط
٥	مجسم له وجهان متوازيان و متطابقان يسميان القاعدتين		الاسطوانة
٦	شكل ثلاثي الأبعاد له قاعدة دائرية و سطح منحنى يصل القاعدة بالرأس		الحرف
٧	نقطة تقاطع ثلاثة مستويات أو أكثر		الحجم

(ب) - أوجد مساحة المنطقة المظللة في الشكل التالي ؟

