

اختبار المساحة والحجم 1447هـ غير محلول نسخة 2



تم تحميل هذا الملف من موقع المناهج السعودية

موقع المناهج ← المناهج السعودية ← الصف الثاني المتوسط ← رياضيات ← الفصل الثاني ← ملفات متنوعة ← الملف

تاريخ إضافة الملف على موقع المناهج: 2026-04-26 11:21:17

ملفات اكتب للمعلم اكتب للطالب | اختبارات الكترونية | اختبارات | حلول | عروض بوربوينت | أوراق عمل
منهج انجليزي | ملخصات وتقارير | مذكرات وبنوك | الامتحان النهائي للمدرس

المزيد من مادة
رياضيات:

التواصل الاجتماعي بحسب الصف الثاني المتوسط



صفحة المناهج
السعودية على
فيسبوك

الرياضيات

اللغة الانجليزية

اللغة العربية

التربية الاسلامية

المواد على تلغرام

المزيد من الملفات بحسب الصف الثاني المتوسط والمادة رياضيات في الفصل الثاني

اختبار الفصل الثامن المساحة والحجم 1447هـ غير محلول

1

بديل الدفتر مضاف لها الواجب المنزلي 1447هـ

2

كتاب الرياضيات

3

مراجعة المنهج من غير حل

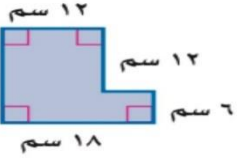

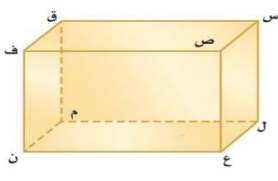

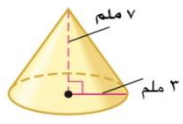

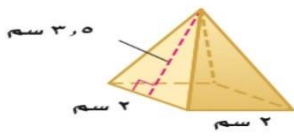
4

مراجعة شاملة للمنهج محلولة

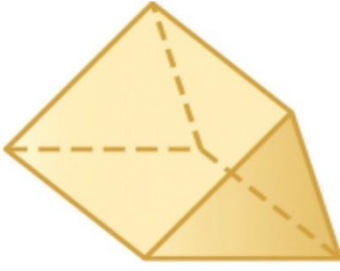
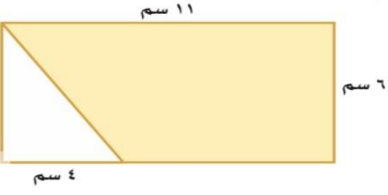
5

اختبار الفترة

السؤال الأول: اختاري الإجابة الصحيحة فيما يلي :

١	مساحة الشكل المجاور =سم ²						
أ	٤٨	ب	١٠٨	ج	١٤٤	د	٢٥٢
٢	عدد الأوجه في الشكل المجاور						
أ	٢	ب	٦	ج	٨	د	١٢
٣	نقطتين تشكلان قطر عند الوصل بينهما						
أ	ل و م	ب	س و ن	ج	م و ع	د	ص و ق
٤	حجم الشكل المجاور =قدم ³						
أ	٣٦	ب	١٨	ج	١٢	د	١١
٥	حجم هرم ارتفاعه ٥ م وقاعدته مربع طول ضلعة ٢ م =م ³						
أ	٦	ب	٦,٧	ج	١٠,٦	د	١٢
٦	حجم الشكل المجاور =ملم ³						
أ	٧٧	ب	٦٦	ج	٢٢	د	١٤
٧	المساحة الجانبية للشكل المجاور = بوصة ²						
أ	١٧٥	ب	٩٤	ج	٧٠	د	٤٧,١
٨	المساحة الكلية لسطح الشكل المجاور =سم ²						
أ	١٤	ب	١٦	ج	١٨	د	٢٠

السؤال الثاني : ضع كلمة (صح) امام العبارة الصحيحة وكلمة (خطأ) امام العبارة الخاطئة فيما يلي

م	العبارة	الاجابة
١	يسمى المجسم المجاور هرم ثلاثي	
٢	(للمنشور قاعدتان و٤ جوانب) عبارة صحيحة دائما	
٣	مساحة المنطقة المظللة في الشكل المجاور = ٥٤ سم ^٢	
٤	يستعمل محمد المنشار لقص أنبوب طويل الى ٣١ قطعة صغيرة ٣٠ مرة	



انتهت الأسئلة مع تمنياتي بالتوفيق للجميع