

نماذج اختبارات نهاية الفصل مع الحلول



تم تحميل هذا الملف من موقع المناهج السعودية

موقع المناهج ← المناهج السعودية ← الصف الثاني المتوسط ← اجتماعيات ← الفصل الثالث ← ملفات متنوعة ← الملف

تاريخ إضافة الملف على موقع المناهج: 09:17:46 2025-06-06

ملفات اكتب للمعلم اكتب للطالب ا اختبارات الكترونية ا اختبارات ا حلول ا عروض بوربوينت ا أوراق عمل
منهج انجليزي ا ملخصات وتقارير ا مذكرات وبنوك ا الامتحان النهائي للمدرس

المزيد من مادة
اجتماعيات:

التواصل الاجتماعي بحسب الصف الثاني المتوسط



صفحة المناهج
السعودية على
فيسبوك

الرياضيات

اللغة الانجليزية

اللغة العربية

التربية الاسلامية

المواد على تلغرام

المزيد من الملفات بحسب الصف الثاني المتوسط والمادة اجتماعيات في الفصل الثالث

المراجعة الشاملة لكامل المقرر مع الحل	1
خطة مراجعة المقرر للاختبار	2
ورقة عمل درس النشاط الاقتصادي	3
نموذج الاختبار الفكري اجتماعيات	4
حل كتاب الفصل الثالث 1446هـ	5

نموذج اسئلة الاختبار النهائي
المادة: الدراسات الاجتماعية
الصف: الثاني المتوسط
الفصل الدراسي الثالث
1446هـ



المملكة العربية السعودية
وزارة التعليم
إدارة التعليم
مكتب تعليم
مدرسة

نموذج اسئلة الاختبار النهائي لمادة الدراسات الاجتماعية للفصل الدراسي الثالث 1446هـ			
الدور	الاول	الزمن	ساعة ونصف
الصف	الثاني المتوسط	عدد الاوراق	4
الدرجة النهائية	40 درجة	عدد الأسئلة	3

درجة السؤال الاول	درجة السؤال الثاني	درجة السؤال الثالث	مجموع درجات الطالب

المصحح	محمد القرني	المراجع	المدقق
التوقيع		التوقيع	التوقيع

اسم الطالب	إعداد / محمد القرني	
رقم الجلوس	الفصل	

- تعليمات هامة**
- ✓ التوكل على الله وتذكر حديث نبينا محمد صلى الله عليه وسلم حيث قال (من غشنا فليس منا)
 - ✓ اكتب اسمك الرباعي كاملا في الصفحة الأولى وفصلك (أ أو ب) فقط
 - ✓ تأكد من عدد الأسئلة انها ثلاثة أسئلة
 - ✓ الكتابة تكون بالقلم الأزرق الجاف
 - ✓ الالتزام بالهدوء في قاعة الاختبار
 - ✓ تأكد من جوابك على جميع الأسئلة
 - ✓ الخروج من قاعة الاختبار بعد مضي نصف الوقت

6 درجات	عزيزي الطالب ممّا درست أكمل الفراغات التالية بكلمات مناسبة ؟	أ
	جهود المملكة العربية السعودية لتنويع الاقتصاد (رؤية المملكة 2030) و.....	1
	من طرائق إدارة الوقت: ادارة الوقت حسب..... وادارة الوقت حسب	2
	اهم اللغات في العالم العربي والاسلامي و	3

درجتين	علل للتالي (بم تفسر) ؟	ب
--------	--------------------------	---

1	أهمية موقع العالم العربي والاسلامي (سبب واحد فقط) :

2	خصوبة التربة في اندونيسيا :

4 درجات	صنّف ما يأتي حسب الجدول أدناه ؟	ج
---------	---------------------------------	---

(كرة الطائرة - القراءة والكتابة - جمع العملات - تصميم المواقع الالكترونية)

هواية منافسة	هواية جمع	هواية تعلم	هواية ابداع



اختر الإجابة الصائبة فيما يأتي بوضع دائرة على الخيار الصائب ؟ 6 درجات

1	ترتيب الاعمال وفق اهميتها مع مراعاة تحديد الزمن لتنفيذها :	أ	الاولويات	ب	التقويم	ج	الهوايات	د	الادارة
2	عاصمة اندونيسيا :	أ	اسلام آباد	ب	أبو ظبي	ج	جاكرتا	د	سورابيا
3	اشراك القطاع الخاص في دعم الاقتصاد في عدد من القطاعات الحكومية :	أ	التنافسية	ب	التخصيص	ج	الجودة	د	التخطيط
4	تنفيذ العملية الانتاجية وفق الاهداف وتحقيق نتائج ايجابية مؤثرة :	أ	الكفاءة	ب	الفعالية	ج	الانجاز	د	الموارد
5	تعاادل مساحة العالم العربي و الاسلامي من مساحة اليابسة :	أ	النصف	ب	الثالث	ج	الرابع	د	الخمس
6	توزيع السكان حسب العمر :	أ	التركيب العمري	ب	التركيب النوعي	ج	الهرم السكاني	د	الكثافة السكانية

وضّح و اشرح (بياجاز) في المواضيع التالية ؟ 4 درجات

1	ضوابط و شروط ممارسة الهوايات (اثنين فقط) :
2	عوامل ترابط العالم العربي و الاسلامي (اثنين فقط) :

عزيزي الطالب من تجاربك الشخصية في التخطيط للواجبات المدرسية أكتب خطوتين فقط ؟ درجتين

مراحل التخطيط للواجبات المدرسية

اقلب الورقة

4 درجات

ضع الرقم المناسب أمام المجموعة الأولى أمام ما يناسبها من المجموعة الثانية؟

الرقم	المجموعة الأولى	الرقم	المجموعة الثانية
1	هضبة نجد		إندونيسيا
2	نهر الفرات		ايران
3	سهول جاوة		المملكة العربية السعودية
4	جبال زاجاروس		باكستان
			العراق

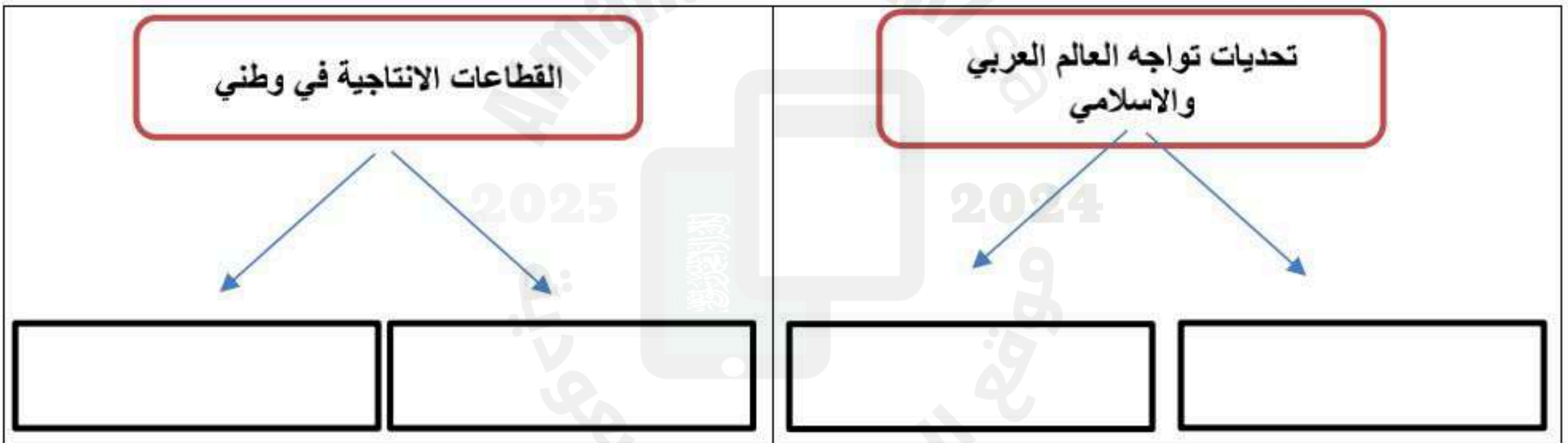
4 درجات

قارن بين نيجيريا و البانيا وفق الجدول أدناه ؟

نيجيريا	وجه المقارنة	البانيا
	العاصمة	
	الموقع	

4 درجات

اكمل خرائط المفاهيم التالية ؟



4 درجات

ضع علامة (✓) أمام العبارة الصائبة و علامة (×) أمام العبارة الخاطئة ؟

1	هدر الوقت و اضاعته لا يؤثر تأثيراً كبيراً في نتائج الأعمال
2	عدد الدول في العالم العربي و الاسلامي 57 دولة
3	يعتمد نجاح التخطيط على حسن إدارة الوقت
4	تسهم ممارسة الهوايات في بناء الشخصية و تنمية القدرات

انتهت الأسئلة

مدير المدرسة: الأستاذ

معلم المادة: الأستاذ

نموذج اسئلة الاختبار النهائي
المادة: الدراسات الاجتماعية
الصف: الثاني المتوسط
الفصل الدراسي الثالث
1446هـ



المملكة العربية السعودية
وزارة التعليم
إدارة التعليم
مكتب تعليم
مدرسة

نموذج اسئلة الاختبار النهائي لمادة الدراسات الاجتماعية للفصل الدراسي الثالث 1446هـ			
الدور	الاول	الزمن	ساعة ونصف
الصف	الثاني المتوسط	عدد الاوراق	4
الدرجة النهائية	40 درجة	عدد الأسئلة	3

درجة السؤال الاول	درجة السؤال الثاني	درجة السؤال الثالث	مجموع درجات الطالب
12	12	16	40
اثنا عشرة درجة	اثنا عشرة درجة	ست عشرة درجة	أربعون درجة

المصحح	محمد القرني	المراجع	المدقق
التوقيع		التوقيع	التوقيع

اسم الطالب	نموذج الإجابة
رقم الطالب	

- تعليمات هامة**
- ✓ التوكل على الله وتذكر حديث نبينا محمد صلى الله عليه وسلم حيث قال (من غشنا فليس منا)
 - ✓ اكتب اسمك الرباعي كاملا في الصفحة الأولى وفصلك (أ أو ب) فقط
 - ✓ تأكد من عدد الأسئلة انها ثلاثة أسئلة
 - ✓ الكتابة تكون بالقلم الأزرق الجاف
 - ✓ الالتزام بالهدوء في قاعة الاختبار
 - ✓ تأكد من جوابك على جميع الأسئلة
 - ✓ الخروج من قاعة الاختبار بعد مضي نصف الوقت

6 درجات	عزيزي الطالب ممّا درست أكمل الفراغات التالية بكلمات مناسبة ؟	أ
	جهود المملكة العربية السعودية لتنويع الاقتصاد (رؤية المملكة 2030) : التنمية البشرية و تطوير الانظمة .	1
	من طرائق إدارة الوقت: إدارة الوقت حسب الفترات وإدارة الوقت حسب الفصول	2
	اهم اللغات في العالم العربي والاسلامي . العربية و الفارسية	3

درجتين	علل للتالي (بم تفسر) ؟	ب
--------	--------------------------	---

1	أهمية موقع العالم العربي والاسلامي (سبب واحد فقط) :
	يقع وسط العالم القديم و مهد الديانات السماوية
2	خصوبة التربة في اندونيسيا :
	بسبب وجود البراكين

4 درجات	صنّف ما يأتي حسب الجدول أدناه ؟	ج
---------	---------------------------------	---

(كرة الطائرة - القراءة والكتابة - جمع العملات - تصميم المواقع الالكترونية)

هواية منافسة	هواية جمع	هواية تعلم	هواية ابداع
كرة الطائرة	العملات	القراءة و الكتابة	تصميم المواقع الالكترونية



اختر الإجابة الصائبة فيما يأتي بوضع دائرة على الخيار الصائب ؟ 6 درجات

1	ترتيب الاعمال وفق اهميتها مع مراعاة تحديد الزمن لتنفيذها :	أ	الاولويات	ب	التقويم	ج	الهوايات	د	الادارة
2	عاصمة اندونيسيا :	أ	اسلام آباد	ب	أبو ظبي	ج	جاكرتا	د	سورابيا
3	اشراك القطاع الخاص في دعم الاقتصاد في عدد من القطاعات الحكومية :	أ	التنافسية	ب	التخصيص	ج	الجودة	د	التخطيط
4	تنفيذ العملية الانتاجية وفق الاهداف وتحقيق نتائج ايجابية مؤثرة :	أ	الكفاءة	ب	الفعالية	ج	الانجاز	د	الموارد
5	تعاادل مساحة العالم العربي و الاسلامي من مساحة اليابسة :	أ	النصف	ب	الثالث	ج	الرابع	د	الخمس
6	توزيع السكان حسب العمر :	أ	التركيب العمري	ب	التركيب النوعي	ج	الهرم السكاني	د	الكثافة السكانية

وضّح و اشرح (بياجاز) في المواضيع التالية ؟ 4 درجات

1	ضوابط و شروط ممارسة الهوايات (اثنين فقط) :
	مناسبة للعمر و غير مؤذية
2	عوامل ترابط العالم العربي و الاسلامي (اثنين فقط) :
	الدين الاسلامي و المصالح المشتركة

عزيزي الطالب من تجاربك الشخصية في التخطيط للواجبات المدرسية أكتب خطوتين فقط ؟ درجتين

مراحل التخطيط للواجبات المدرسية	
تحديد الواجبات	تصميم الجدول

اقلب الورقة

4 درجات

ضع الرقم المناسب أمام المجموعة الأولى أمام ما يناسبها من المجموعة الثانية؟

الرقم	المجموعة الأولى	الرقم	المجموعة الثانية
1	هضبة نجد	3	إندونيسيا
2	نهر الفرات	4	ايران
3	سهول جاوة	1	المملكة العربية السعودية
4	جبال زاجاروس		باكستان
		2	العراق

4 درجات

قارن بين نيجيريا و البانيا وفق الجدول أدناه ؟

نيجيريا	وجه المقارنة	البانيا
أبوجا وسط افريقيا	العاصمة	تيرانا
	الموقع	جنوب شرق اوروبا

4 درجات

اكمل خرائط المفاهيم التالية ؟



4 درجات

ضع علامة (√) أمام العبارة الصائبة و علامة (×) أمام العبارة الخاطئة ؟

1	هدر الوقت و اضاعته لا يؤثر تأثيراً كبيراً في نتائج الأعمال	×
2	عدد الدول في العالم العربي و الاسلامي 57 دولة	√
3	يعتمد نجاح التخطيط على حسن إدارة الوقت	√
4	تسهم ممارسة الهوايات في بناء الشخصية و تنمية القدرات	√

انتهت الأسئلة

مدير المدرسة: الأستاذ

معلم المادة: الأستاذ

اليوم :

التاريخ : / / ١٤٤٦


عدد الأوراق : ٣ ورقات

الزمن : ساعة ونصف

اختبار مادة الدراسات الاجتماعية للصف الثاني المتوسط

الفصل الدراسي الثالث الدور الأول لعام ١٤٤٦ هـ

اسم الطالب : رقم الجلوس : الصف : /



القسم الأول : اختيار من متعدد

أجب على الأسئلة الثلاثة الآتية كما هو مطلوب منك

س ١ : اختار الإجابة الصحيحة فيما يأتي ثم ظلل الحرف المناسب في ورقة الإجابة .

١- تبلغ مساحة العالم العربي والإسلامي نحو			
أ/ ١٤ مليون كم ^٢	ب/ ٣٤ مليون كم ^٢	ج/ ٤١ مليون كم ^٢	د/ ٤٣ مليون كم ^٢
٢- تشكل المظهر السائد في العالم العربي والإسلامي			
أ/ الهضاب	ب/ الجبال	ج/ الأنهار	د/ السهول
٣- توجد في المملكة العربية السعودية			
أ/ جبال أطلس	ب/ جبال زاجروس	ج/ جبال طوروس	د/ جبال الحجاز
٤- هضبة توجد في المملكة العربية السعودية			
أ/ هضبة إفريقية	ب/ هضبة بلوختان	ج/ هضبة نجد	د/ هضبة الأناضول
٥- يشغل العالم العربي والإسلامي نحو			
أ/ ٨٠ دائرة عرضية	ب/ ٨١ دائرة عرضية	ج/ ٨٢ دائرة عرضية	د/ ٨٣ دائرة عرضية
٦- يبلغ عدد الدول الإسلامية دولة			
أ/ ٢٢	ب/ ٥٦	ج/ ٥٧	د/ ٥٨
٧- يبلغ عدد الدول العربية دولة			
أ/ ٢٢	ب/ ٥٦	ج/ ٥٧	د/ ٥٨
٨- تعادل مساحة العالم العربي والإسلامي مساحة اليابسة			
أ/ ربع	ب/ خمس	ج/ ثلث	د/ نصف
٩- أغلب سكان العالم الإسلامي والعربية في قارتي			
أ/ اسيا و أوروبا	ب/ أوروبا و إفريقيا	ج/ اسيا و إفريقيا	د/ اسيا و أمريكا الجنوبية
١٠- أكبر دول العالم الإسلامي من حيث المساحة			
أ/ المملكة العربية السعودية	ب/ الجزائر	ج/ اندونيسيا	د/ كازاخستان

١١- أكبر دول العالم الإسلامي من حيث عدد السكان			
أ/ إيران	ب/ مصر	ج/ كازاخستان	د/ اندونيسيا
١٢- تضم إندونيسيا أكثر من جزيرة			
أ/ ١٦ ألف	ب/ ١٧ ألف	ج/ ١٨ ألف	د/ ٢٠ ألف
١٣- ثاني أكبر بلد منتج للقصدير في العالم هي دولة			
أ/ نيجيريا	ب/ اندونيسيا	ج/ البانيا	د/ المملكة العربية السعودية
١٤- عاصمة إندونيسيا هي			
أ/ جاكرتا	ب/ سورابايا	ج/ لاجوس	د/ تيرانا
١٥- تقع في وسط افريقيا			
أ/ اندونيسيا	ب/ نيجيريا	ج/ البانيا	د/ المانيا
١٦- ماهي العاصمة الحالية لنيجيريا			
أ/ جاكرتا	ب/ أبوجا	ج/ لاجوس	د/ تيرانا
١٧- تقع في جنوب شرق اوربا			
أ/ اندونيسيا	ب/ نيجيريا	ج/ البانيا	د/ اسبانيا
١٨- ماهي عاصمة البانيا			
أ/ جاكرتا	ب/ أبوجا	ج/ تيرانا	د/ لاجوس
١٩- من جزر البحر المتوسط التي دخلها الإسلام			
أ/ مالطا	ب/ صقلية	ج/ قبرص	د/ جميع ما سبق
٢٠- من اثار الأمية في العالم العربي والإسلامي			
أ/ ركود التنمية	ب/ انخفاض الانتاجية	ج/ انتشار الأمراض	د/ جميع ما سبق

س٢ : حدد العبارة الصحيحة باختيار (صواب) والعبارة الخاطئة باختيار (خطأ) ثم ظلل في ورقة الإجابة

- ١- موقع العالم العربي الاسلامي ساعد على نشر الإسلام (.....) .
- ٢- دخل الإسلام الى اوربا عن طريق التجارة (.....) .
- ٣- من اشهر المحاصيل الزراعية في نيجيريا الفول السوداني (.....) .
- ٤- يتركز السكان في المناطق السهلية لخصوبة تربتها (.....) .
- ٥- السهول الفيضية تكونت نتيجة ترسب الرماد البركاني (.....) .
- ٦- الأمية هي فقدان القدرة على القراءة والكتابة (.....) .
- ٧- من نتائج البطالة الحروب (.....) .
- ٨- من أهمية موقع العالم العربي والإسلامي وقوعه في قارات العالم القديم (اسيا ، إفريقيا ، أوروبا) . (.....) .
- ٩- يمتد العالم العربي والإسلامي من المحيط الهندي شرقاً إلى المحيط الأطلسي غرباً (.....) .
- ١٠- تبلغ مساحة العالم العربي نحو ١٤ مليون كم^٢ (.....) .

القسم الثالث : مزاجية

صل العمود الأول بما يناسبه في العمود الثاني ثم ظلل في ورقة الإجابة

العمود الأول		العمود الثاني
١	الدول الأعضاء في منظمة التعاون الإسلامي	أ العالم العربي
٢	الدول الأعضاء في جامعة الدول العربية	ب العالم الإسلامي
٣	هو توزيع السكان إلى ذكور وإناث	ج التركيب العمري
٤	هي تنفيذ العملية الإنتاجية وفق الأهداف	د التركيب النوعي
٥	هو تقسيم السكان إلى فئات حسب أعمارهم	ه الأولويات
٦	ترتيب الأعمال وفق أهميتها مع مراعاة الزمن المطلوب لتنفيذها بحيث تبدأ بالأهم	و الهواية
٧	هي ما يبذل من الجهود لتصنيع السلع وتوفيرها	ز النشاط الاقتصادي
٨	هي القدرة على إنتاج سلع وخدمات تحقق الجودة والفاعلية في الأسواق العالمية	ح الانتاجية
٩	هو نشاط أو اهتمام يمارس في أوقات الفراغ من أجل تلبية الحاجات الذاتية	ط الفاعلية
١٠	هي معدل الإنتاج في زمن معين	ي التنافسية

انتهت الأسئلة

مع تمنياتي لكم بالتوفيق والنجاح

إعداد : خالد الحربي

موقع منهجي
mnhaji.com



نموذج الإجابة

٤٠

أجب على الأسئلة الثلاثة الآتية كما هو مطلوب منك

القسم الأول : اختيار من متعدد

س ١ : اختار الإجابة الصحيحة فيما يأتي ثم ظلل الحرف المناسب في ورقة الإجابة .

١- تبلغ مساحة العالم العربي والإسلامي نحو			
أ/ ١٤ مليون كم ^٢	ب/ ٣٤ مليون كم ^٢	ج/ ٤١ مليون كم ^٢	د/ ٤٣ مليون كم ^٢
٢- تشكل المظهر السائد في العالم العربي والإسلامي			
أ/ الهضاب	ب/ الجبال	ج/ الأنهار	د/ السهول
٣- توجد في المملكة العربية السعودية			
أ/ جبال أطلس	ب/ جبال زاجروس	ج/ جبال طوروس	د/ جبال الحجاز
٤- هضبة توجد في المملكة العربية السعودية			
أ/ هضبة إفريقيا	ب/ هضبة بلوختان	ج/ هضبة نجد	د/ هضبة الأناضول
٥- يشغل العالم العربي والإسلامي نحو			
أ/ ٨٠ دائرة عرضية	ب/ ٨١ دائرة عرضية	ج/ ٨٢ دائرة عرضية	د/ ٨٣ دائرة عرضية
٦- يبلغ عدد الدول الإسلامية دولة			
أ/ ٢٢	ب/ ٥٦	ج/ ٥٧	د/ ٥٨
٧- يبلغ عدد الدول العربية دولة			
أ/ ٢٢	ب/ ٥٦	ج/ ٥٧	د/ ٥٨
٨- تعادل مساحة العالم العربي والإسلامي مساحة اليابسة			
أ/ ربع	ب/ خمس	ج/ ثلث	د/ نصف
٩- أغلب سكان العالم الإسلامي والعربية في قارتي			
أ/ اسيا و أوروبا	ب/ أوروبا و إفريقيا	ج/ اسيا و إفريقيا	د/ اسيا و أمريكا الجنوبية
١٠- أكبر دول العالم الإسلامي من حيث المساحة			
أ/ المملكة العربية السعودية	ب/ الجزائر	ج/ اندونيسيا	د/ كازاخستان



١١- أكبر دول العالم الإسلامي من حيث عدد السكان			
أ/ إيران	ب/ مصر	ج/ كازاخستان	د/ اندونيسيا
١٢- تضم إندونيسيا أكثر من جزيرة			
أ/ ١٦ ألف	ب/ ١٧ ألف	ج/ ١٨ ألف	د/ ٢٠ ألف
١٣- ثاني أكبر بلد منتج للقصدير في العالم هي دولة			
أ/ نيجيريا	ب/ اندونيسيا	ج/ البانيا	د/ المملكة العربية السعودية
١٤- عاصمة إندونيسيا هي			
أ/ جاكارتا	ب/ سورابايا	ج/ لاجوس	د/ تيرانا
١٥- تقع في وسط افريقيا			
أ/ اندونيسيا	ب/ نيجيريا	ج/ البانيا	د/ المانيا
١٦- ماهي العاصمة الحالية لنيجيريا			
أ/ جاكارتا	ب/ أبوجا	ج/ لاجوس	د/ تيرانا
١٧- تقع في جنوب شرق اوربا			
أ/ اندونيسيا	ب/ نيجيريا	ج/ البانيا	د/ اسبانيا
١٨- ماهي عاصمة البانيا			
أ/ جاكارتا	ب/ أبوجا	ج/ تيرانا	د/ لاجوس
١٩- من جزر البحر المتوسط التي دخلها الإسلام			
أ/ مالطا	ب/ صقلية	ج/ قبرص	د/ جميع ما سبق
٢٠- من اثار الأمية في العالم العربي والإسلامي			
أ/ ركود التنمية	ب/ انخفاض الانتاجية	ج/ انتشار الأمراض	د/ جميع ما سبق

س٢ : حدد العبارة الصحيحة باختيار (صواب) والعبارة الخاطئة باختيار (خطأ) ثم ظلل في ورقة الإجابة

- ١- موقع العالم العربي الاسلامي ساعد على نشر الإسلام (✓)
- ٢- دخل الإسلام الى اوربا عن طريق التجارة (✓)
- ٣- من اشهر المحاصيل الزراعية في نيجيريا الفول السوداني (✓)
- ٤- يتركز السكان في المناطق السهلية لخصوبة تربتها (✓)
- ٥- السهول الفيضية تكونت نتيجة ترسب الرماد البركاني (✗)
- ٦- الأمية هي فقدان القدرة على القراءة والكتابة (✓)
- ٧- من نتائج البطالة الحروب (✗)
- ٨- من أهمية موقع العالم العربي والإسلامي وقوعه في قارات العالم القديم (اسيا ، إفريقيا ، أوروبا) (✓)
- ٩- يمتد العالم العربي والإسلامي من المحيط الهندي شرقاً إلى المحيط الأطلسي غرباً (✗)
- ١٠- تبلغ مساحة العالم العربي نحو ١٤ مليون كم^٢ (✓)

القسم الثالث : مزاجية

صل العمود الأول بما يناسبه في العمود الثاني ثم ظلل في ورقة الإجابة

العمود الأول		العمود الثاني
١	الدول الأعضاء في منظمة التعاون الإسلامي	أ العالم العربي ٢
٢	الدول الأعضاء في جامعة الدول العربية	ب العالم الإسلامي ١
٣	هو توزيع السكان إلى ذكور وإناث	ج التركيب العمري ٥
٤	هي تنفيذ العملية الإنتاجية وفق الأهداف	د التركيب النوعي ٣
٥	هو تقسيم السكان إلى فئات حسب أعمارهم	ه الأولويات ٦
٦	ترتيب الأعمال وفق أهميتها مع مراعاة الزمن المطلوب لتنفيذها بحيث تبدأ بالأهم	و الهواية ٩
٧	هي ما يبذل من الجهود لتصنيع السلع وتوفيرها	ز النشاط الاقتصادي ٧
٨	هي القدرة على إنتاج سلع وخدمات تحقق الجودة والفاعلية في الأسواق العالمية	ح الانتاجية ١٠
٩	هو نشاط أو اهتمام يمارس في أوقات الفراغ من أجل تلبية الحاجات الذاتية	ط الفاعلية ٤
١٠	هي معدل الإنتاج في زمن معين	ي التنافسية ٨

انتهت الأسئلة

مع تمنياتي لكم بالتوفيق والنجاح

إعداد : خالد الحربي

موقع منهجي mnhaji.com



نموذج اسئلة الاختبار النهائي لمادة الدراسات الاجتماعية للفصل الدراسي الثالث 1446هـ			
الدور	الاول	الزمن	ساعة ونصف
الصف	الثاني المتوسط	عدد الاوراق	4
الدرجة النهائية	40 درجة	عدد الأسئلة	3

درجة السؤال الاول	درجة السؤال الثاني	درجة السؤال الثالث	مجموع درجات الطالب/ة

المصحح/ة	المراجع/ة	المدقق/ة	
التوقيع	التوقيع	التوقيع	

اسم الطالب/ة	نموذج مقترح (أسئلة موضوعية) مستوى الجودة (متوسط)	
رقم الجلوس	محمد القرني	الفصل

تعليمات هامة	
✓	التوكل على الله وتذكرني حديث نبينا محمد صلى الله عليه وسلم حيث قال (من غشنا فليس منا)
✓	اكتب اسمك الرباعي كاملا في الصفحة الأولى وفصلك (أ أو ب) فقط
✓	تأكدي من عدد الأسئلة انها ثلاثة أسئلة
✓	الكتابة تكون بالقلم الأزرق الجاف
✓	الالتزام بالهدوء في قاعة الاختبار
✓	تأكدي من جوابك على جميع الأسئلة
✓	الخروج من قاعة الاختبار بعد مضي نصف الوقت

7 درجات	ضع علامة (√) أمام العبارة الصحيحة و علامة (×) أمام العبارة الخاطئة فيما يأتي ؟	أ
	هدر الوقت و اضاعته لا يؤثر تأثيراً كبيراً في نتائج الأعمال	1
	عدد الدول في العالم العربي و الاسلامي 57 دولة	2
	يعتمد نجاح التخطيط على حسن إدارة الوقت	3
	تسهم ممارسة الهوايات في بناء الشخصية و تنمية القدرات	4
	تمثل رؤية المملكة 2030 نموذجاً واقعياً للتخطيط المستقبلي	5
	تنمية الاستثمار تؤدي الى التنوع الاقتصادي	6
	التركيب النوعي هو توزيع السكان حسب النوع (ذكور و إناث)	7

8 درجات	مستعيناً بالشكل المجاور ضع المصطلحات أمام ما يناسبها من العبارات التالية ؟	ب
---------	--	---

الأمية	جميع الدول الاعضاء في جامعة الدول العربية
البطالة	عدم القدرة على القراءة و الكتابة
التخصيص	هي ألا يجد الفرد عملاً وهو راغب فيه
الكفاءة	تنفيذ العملية الانتاجية بالطريقة الصحيحة وبأقل جهد و تكلفة
الفعالية	جميع الدول الاعضاء في منظمة التعاون الاسلامي
الأولويات	تنفيذ العملية الانتاجية وفق الاهداف و تحقيق نتائج مؤثرة
النشاط الاقتصادي	إشراك القطاع الخاص في دعم الاقتصاد الوطني
العالم العربي	ترتيب الاعمال وفق أهميتها و تحديد الزمن لتنفيذها
العالم الاسلامي		

أ	اختر الإجابة الصائبة فيما يأتي بوضع دائرة على الخيار الصائب ؟						8 درجات
1	تقع معظم الدول العربية والاسلامية في قارتي :	أ	آسيا و أفريقيا	ب	آسيا و أوروبا	ج	أمريكا و أوروبا
2	عاصمة اندونيسيا :	أ	اسلام آباد	ب	أبو ظبي	ج	جاكرتا
3	تقع جمهورية ألبانيا الاسلامية في أوروبا :	أ	جنوب شرق	ب	جنوب غرب	ج	شمال غرب
4	العاصمة الجديدة لنيجيريا :	أ	لاجوس	ب	كانو	ج	سورابيا
5	تعاادل مساحة العالم العربي و الاسلامي من مساحة اليابسة :	أ	النصف	ب	الثلث	ج	الرابع
6	توزيع السكان حسب العمر :	أ	التركيب العمري	ب	التركيب النوعي	ج	الهرم السكاني
7	من أهم التضاريس في العالم العربي نهر النيل ويقع في :	أ	مصر	ب	المغرب	ج	تونس
8	من أشهر الجبال في العالم العربي و الاسلامي جبال غرب السعودية :	أ	الحجاز	ب	طوروس	ج	الدخان

ب	أكمل الفراغات التالية بكلمات مناسبة ؟						8 درجات
1	لممارسة الهوايات عدة ضوابط و شروط منها : تكون مناسبة و لا تكون						
2	من طرائق إدارة الوقت التالي : إدارة الوقت وفق و إدارة الوقت وفق						
3	من جهود المملكة العربية السعودية لتنويع الاقتصاد و						
4	وصل الاسلام الى قارة أفريقيا بسبب و						

اقلب الورقة

9 درجات

السؤال الثالث

5 درجات

ضع الرقم المناسب أمام المجموعة الأولى أمام ما يناسبها من المجموعة الثانية؟

الرقم	المجموعة الأولى	الرقم	المجموعة الثانية
1	كرة القدم		هواية ابتكار
2	القراءة		هواية ابداع
3	الرسم		هواية منافسة
4	جمع العملات		هواية تعلم
5	اختراع جهاز		هواية جمع
			هواية تخطيط

4 درجات

عَدِّدْ وَ اذْكُرْ (اِثْنَيْنِ فَقَطْ) ؟

ب

العوامل التي تربط سكان العالم العربي والاسلامي:

..... /1 /2

مراحل التخطيط للواجبات المدرسية :

..... /1 /2

انتهت الأسئلة

اطيب الأمنيات بالنجاح و التوفيق

موقع منهجي
mnhaji.com



مدير المدرسة: الأستاذ.....

معلم المادة: الأستاذ.....

نموذج اسئلة الاختبار النهائي لمادة الدراسات الاجتماعية للفصل الدراسي الثالث 1446هـ			
الدور	الاول	الزمن	ساعة ونصف
الصف	الثاني المتوسط	عدد الاوراق	4
الدرجة النهائية	40 درجة	عدد الأسئلة	3

درجة السؤال الاول	درجة السؤال الثاني	درجة السؤال الثالث	مجموع درجات الطالب/ة

نموذج الإجابة

اسم الطالب/ة	نموذج مقترح (أسئلة موضوعية) مستوى الجودة (متوسط)	
رقم الجلوس	محمد القرني	الفصل

تعليمات هامة

- ✓ التوكل على الله وتذكرني حديث نبينا محمد صلى الله عليه وسلم حيث قال (من غشنا فليس منا)
- ✓ اكتب اسمك الرباعي كاملا في الصفحة الأولى وفصلك (أ أو ب) فقط
- ✓ تأكدي من عدد الأسئلة انها ثلاثة أسئلة
- ✓ الكتابة تكون بالقلم الأزرق الجاف
- ✓ الالتزام بالهدوء في قاعة الاختبار
- ✓ تأكدي من جوابك على جميع الأسئلة
- ✓ الخروج من قاعة الاختبار بعد مضي نصف الوقت

7 درجات	ضع علامة (√) أمام العبارة الصحيحة و علامة (×) أمام العبارة الخاطئة فيما يأتي ؟	1
×	هدر الوقت و اضاعته لا يؤثر تأثيراً كبيراً في نتائج الأعمال	1
✓	عدد الدول في العالم العربي و الاسلامي 57 دولة	2
✓	يعتمد نجاح التخطيط على حسن إدارة الوقت	3
✓	تسهم ممارسة الهوايات في بناء الشخصية و تنمية القدرات	4
✓	تمثل رؤية المملكة 2030 نموذجاً واقعياً للتخطيط المستقبلي	5
✓	تنمية الاستثمار تؤدي الى التنوع الاقتصادي	6
✓	التركيب النوعي هو توزيع السكان حسب النوع (ذكور و إناث)	7

8 درجات	ب مستعيناً بالشكل المجاور ضع المصطلحات أمام ما يناسبها من العبارات التالية ؟
---------	---

الأمية	العالم العربي
البطالة	الامية
التخصيص	البطالة
الكفاءة	الكفاءة
الفعالية	العالم الاسلامي
الأولويات	الفعالية
النشاط الاقتصادي	التخصيص
العالم العربي	الأولويات
العالم الاسلامي	



أ	اختر الإجابة الصائبة فيما يأتي بوضع دائرة على الخيار الصائب ؟						8 درجات
1	تقع معظم الدول العربية والإسلامية في قارتي :	أ	آسيا و أفريقيا	ب	آسيا و أوروبا	ج	أمريكا و أوروبا
2	عاصمة اندونيسيا :	أ	اسلام آباد	ب	أبو ظبي	ج	جاكرتا
3	تقع جمهورية ألبانيا الإسلامية في أوروبا :	أ	جنوب شرق	ب	جنوب غرب	ج	شمال غرب
4	العاصمة الجديدة لنيجيريا :	أ	لاجوس	ب	كانو	ج	سورابايا
5	تعاادل مساحة العالم العربي والإسلامي من مساحة اليابسة :	أ	النصف	ب	الثلث	ج	الرابع
6	توزيع السكان حسب العمر :	أ	التركيبة العمرية	ب	التركيبة النوعية	ج	الهرم السكاني
7	من أهم التضاريس في العالم العربي نهر النيل ويقع في :	أ	مصر	ب	المغرب	ج	تونس
8	من أشهر الجبال في العالم العربي والإسلامي جبال غرب السعودية :	أ	الحجاز	ب	طوروس	ج	الدخان

ب	أكمل الفراغات التالية بكلمات مناسبة ؟						8 درجات
1	لممارسة الهوايات عدة ضوابط و شروط منها : تكون مناسبة للعمر و لا تكون مؤذية						
2	من طرائق إدارة الوقت التالي : إدارة الوقت وفق الفترات و إدارة الوقت وفق الفصول						
3	من جهود المملكة العربية السعودية لتنويع الاقتصاد التخصيص و المشروعات						
4	وصل الإسلام الى قارة أفريقيا بسبب الفتوحات و التجارة						

اقلب الورقة

9 درجات

السؤال الثالث

5 درجات

ضع الرقم المناسب أمام المجموعة الأولى أمام ما يناسبها من المجموعة الثانية؟

الرقم	المجموعة الأولى	الرقم	المجموعة الثانية
1	كرة القدم	5	هواية ابتكار
2	القراءة	3	هواية ابداع
3	الرسم	1	هواية منافسة
4	جمع العملات	2	هواية تعلم
5	اختراع جهاز	4	هواية جمع
			هواية تخطيط

4 درجات

عَدِّدْ وَ اذْكُرْ (اِثْنَيْنِ فَقَطْ) ؟

العوامل التي تربط سكان العالم العربي والاسلامي:

2024 1 / الاسلام 2 / التاريخ 2025

مراحل التخطيط للواجبات المدرسية :

1 / تحديد الواجبات 2 / تصميم جدول

انتهت الأسئلة

اطيب الأمنيات بالنجاح و التوفيق

موقع منهجي
mnhaji.com



مدير المدرسة: الأستاذ.....

معلم المادة: الأستاذ.....

رقم الجلوس	الصف الثاني المتوسط	أسئلة اختبار الفصل الدراسي الثالث 1446 هـ
عدد الصفحات	الزمن ساعة ونصف	المادة اجتماعيات
اسم الطالبة		

السؤال	س1	س2	س3	س4	المصححة	المراجعة	المدققة
الدرجة رقما							
الدرجة كتابة							

استعيني بالله ثم أجيب عن الأسئلة التالية

السؤال الأول :

(أ) اكمل الفراغات التالية :

1- تُقسم العمل من حيث الزمن إلى قسمين

2- أسباب انتشار الفقر في العالم العربي والإسلامي و

3- يتوزع أغلب سكان العالم العربي والإسلامي بين قارتي و

4- عوامل التي تربط العالم العربي والإسلامي و

5- من المشروعات الاقتصادية في المملكة لتوفير بيئة سياحية وترفيهية مثل و

6- هناك أنواع من السهول في العالم العربي والإسلامي سهول وسهول

7- من العوامل المؤثرة في مناخ العالم العربي والإسلامي و

(ب) عللي ما يأتي

• التنوع الاقتصادي في المملكة العربية السعودية.

.....

• انتشار حرفة قطع الأخشاب في جنوب نيجيريا.

.....

• تنتشر الزراعة في وسط وغرب ألبانيا

.....

السؤال الثاني

(أ) اختار من العمود (أ) ما يناسبه من العمود (ب)			
(أ)		(ب)	
1	هضبة الأناضول		في وسط آسيا
2	الربع الخالي		في غرب شبه الجزيرة العربية
3	جبال الحجاز		في جنوب شرق شبه الجزيرة العربية
4	جبال هندوكوش		تقع في تركيا

(يكتفى باثنان فقط)

ب (عددي ما يأتي

1- من طرائق إدارة الوقت

.....

.....

2- العوامل الطبيعية المؤثرة في توزيع السكان

.....

.....

3- مميزات موقع العالم العربي والإسلامي

.....

.....

السؤال الثالث

(أ) صوبي ما تحته خط في الجمل التالية

الجملة	التصويب
1 تقع ألبانيا في جنوب غربي أوروبا.	
2 يقصد بالتركيب النوعي للسكان توزيع السكان حسب العمر.	
3 وصل الإسلام الى قارة أوروبا مع الهجرة الإسلامية الأولى من مكة الى الحبشة	
4 تراكم الأعمال عند اقتراب موعد الاختبارات لا يؤثر في نتائج التخطيط.	
5 يتفق الناس جميعاً في ميولهم نحو الهوايات.	
6 الدول الفقيرة هي الدول ذات المستوى الاقتصادي المرتفع	

ب (اختاري المصطلح الصحيح من بين الأقواس وضعية في الفراغ المناسب

(الناتج المحلي - الهوية - الأمية - قطاع الزراعة)

1- يتضمن مجالات الزراعة الحديثة وتقنياتها المختلفة

2- هي فقدان القدرة على القراءة والكتابة،

3- هي نشاط أو اهتمام يمارسه الفرد من أجل تلبية الحاجات الذاتية

4- هو القيمة الإجمالية للمنتجات من السلع والخدمات التي تنتج في الدولة في زمن محدد مثل سنة مالية

أقلمي الصفحة

السؤال الرابع

اختاري الإجابة الصحيحة من الإجابات المتعددة التالية على أن تكون إجابة واحد فقط

1- الإنتاجية هي معدل			
الإنفاق في العمل	الإنتاج في زمن محدد	التضخم	
2- تزداد الكثافة السكانية في المناطق			
الرعية	الصناعية	الزراعية	
3- يتضمن قطاع البنية التحتية			
التجارة الخارجية	التجارة الداخلية	الأعمال الإنشائية الأساسية	
4- من أسباب انتشار الفقر في العالم العربي والإسلامي			
قوة الإنتاج	انتشار الأمية	الاستقرار	

ب (صممي خريطة مفاهيم توضح



انتهت الأسئلة
مع تمنياتي لك بالتوفيق

معلمة المادة

منهج الإجابة

المملكة العربية السعودية
وزارة التعليم
الإدارة العامة للتعليم بمنطقة
مكتب
مجمع

وزارة التعليم

40

أُسئلة اختبار الفصل الدراسي الثالث 1446 هـ	الصف الثاني المتوسط	رقم الجلوس
اسم الطالبة	المادة اجتماعيات	الزمن ساعة ونصف
	عدد الصفحات	

السؤال	س1	س2	س3	س4	المصححة	المراجعة	المدققة
الدرجة رقماً							
الدرجة كتابة							

استعيني بالله ثم أجيب عن الأسئلة التالية

السؤال الأول :

(أ) اكمل الفراغات التالية :

- 1- تُقسم العمل من حيث الزمن إلى قسمين أعمال قصيرة المدى و أعمال طويلة المدى
- 2- أسباب انتشار الفقر في العالم العربي والإسلامي قلة الصناعة و الزيادة الكبيرة في عدد السكان
- 3- يتوزع أغلب سكان العالم العربي والإسلامي بين قارتي آسيا و أفريقيا
- 4- عوامل التي تربط العالم العربي والإسلامي الدين الإسلامي و اللغة العربية
- 5- من المشروعات الاقتصادية في المملكة لتوفير بيئة سياحية وترفيهية مثل مشروع نيوم و مشروع البحر الأحمر
- 6- هناك أنواع من السهول في العالم العربي والإسلامي سهول ساحلية و و سهول فيضية
- 7- من العوامل المؤثرة في مناخ العالم العربي والإسلامي الموقع الفلكي و التضاريس

(ب) علي ما يأتي

- التنوع الاقتصادي في المملكة العربية السعودية.
- لتقوية متانة الاقتصاد الوطني، وزيادة الناتج المحلي، وتحسين مستوى المعيشة.
- انتشار حرفة قطع الأخشاب في جنوب نيجيريا.
- حيث تنتشر الغابات الاستوائية.
- تنتشر الزراعة في وسط وغرب ألبانيا
- لتوافر السهول والسدود.

موقع منهجي
mnhaji.com



أقلمي الصفحة

السؤال الثاني

(أ) اختار من العمود (أ) ما يناسبه من العمود (ب)			
(أ)		(ب)	
1	هضبة الأناضول	٤	في وسط آسيا
2	الربع الخالي	٣	في غرب شبه الجزيرة العربية
3	جبال الحجاز	٢	في جنوب شرق شبه الجزيرة العربية
4	جبال هندوكوش	١	تقع في تركيا

(يكتفى باثنان فقط)

ب (عددي ما يأتي

1- من طرائق إدارة الوقت

1- إدارة الوقت وفق التوقيت الزمني.

2- إدارة الوقت وفق الفترات.

2- العوامل الطبيعية المؤثرة في توزيع السكان

1- موارد المياه

2- التضاريس

3- مميزات موقع العالم العربي والإسلامي

1- يقع وسط العالم القديم.

2- مهد الديانات السماوية الثلاثة.

السؤال الثالث

صوبي ما تحته خط في الجمل التالية

(أ)

الجملة	التصويب
1 تقع ألبانيا في جنوب غربي أوروبا.	شرق
2 يقصد بالتركيب النوعي للسكان توزيع السكان حسب العمر.	العمرى
3 وصل الإسلام الى قارة أوروبا مع الهجرة الإسلامية الأولى من مكة الى الحبشة	أفريقيا
4 تراكم الأعمال عند اقتراب موعد الاختبارات لا يؤثر في نتائج التخطيط.	يؤثر سلباً
5 يتفق الناس جميعاً في ميولهم نحو الهوايات.	يختلف
6 الدول الفقيرة هي الدول ذات المستوى الاقتصادي المرتفع	المنخفض

ب (اختاري المصطلح الصحيح من بين الأقواس وضعية في الفراغ المناسب

(الناتج المحلي - الهوية - الأمية - قطاع الزراعة)

1- قطاع الزراعة... يتضمن مجالات الزراعة الحديثة وتقنياتها المختلفة

2- الأمية... هي فقدان القدرة على القراءة والكتابة،

3- الهوية... هي نشاط أو اهتمام يمارسه الفرد من أجل تلبية الحاجات الذاتية

4- الناتج المحلي... هو القيمة الإجمالية للمنتجات من السلع والخدمات التي تنتج في الدولة في زمن محدد مثل سنة مالية

أقلمي الصفحة



السؤال الرابع

اختراري الإجابة الصحيحة من الإجابات المتعددة التالية على أن تكون إجابة واحد فقط

1- الإنتاجية هي معدل			
الإنفاق في العمل	الإنتاج في زمن محدد	التضخم	
2- تزداد الكثافة السكانية في المناطق			
الرعية	الصناعية	الزراعية	
3- يتضمن قطاع البنية التحتية			
التجارة الخارجية	التجارة الداخلية	الأعمال الإنشائية الأساسية	
4- من أسباب انتشار الفقر في العالم العربي والإسلامي			
قوة الإنتاج	انتشار الأمية	الاستقرار	

ب (صممي خريطة مفاهيم توضح



انتهت الأسئلة
مع تمنياتي لك بالتوفيق

معلمة المادة

درجة

اسم الطالب رباعياً / للفائدة العامة ومعرفة مواضع الأسئلة

السؤال الأول

اختر الإجابة الصحيحة فيما يأتي :

1 من اهم التحديات والمشكلات التي يعاني منها العالم العربي والاسلامي ومفهومها (فقدان القدرة على القراءة والكتابة) هي :

أ- البطالة ب- الامية ج- الفقر د- الجريمة

2 الدول التي يتحدث معظم سكانها اللغة العربية وتضمهم جامعة الدول العربية :

أ- العالم العربي ب- العالم الاسلامي ج- الاقليات د- لا شيء مما سبق

3 تمثل مساحة العالم العربي والاسلامي بالنسبة الى مساحة العالم :

أ- النصف ب- الثلث ج- الربع د- الخمس

4 هي عملية انتاج وتبادل السلع الاستهلاكية التي يعتمد عليها الاقتصاد والمجتمع :

أ- التصدير ب- التنافسية ج- النشاط الاقتصادي د- الميزان التجاري

5 تنمية الاستثمار تؤدي الى :

أ- التنوع الاقتصادي ب- الركود الاقتصادي ج- التضخم الاقتصادي د- لا شيء مما سبق

6 اذا كان للدولة مصدر وحيد فقط للدخل والايادات في الاقتصاد فان ذلك :

أ- متانة ب- تنوع ج- نجاح د- خلل

7 ترتيب الاعمال والانشطة وفق اهميتها مع مراعات الزمن المطلوب لتنفيذها تبدأ بالاهم ثم المهم ثم الأقل أهمية :

أ الأولويات ب التخطيط ج الواجبات د ادارة الوقت

8 هي نشاط يمارسه الفرد من اجل تلبية الحاجات الذاتية وتنمية القدرات والمهارات :

أ ادارة الوقت ب الواجبات ج القدرات د الهوايات

9 عاصمة البانيا هي :

أ تيرانا ب جاكارتا ج دورسو د أبوجا

10 تعد أكبر دولة اسلامية من حيث عدد السكان :

أ نيجيريا ب ألبانيا ج إندونيسيا د باكستان

السؤال الثاني: ضع الرقم الموجود امام المجموعة (أ) امام ما يناسبها من المجموعة (ب) :

الرقم	المجموعة (أ)	الرقم	المجموعة (ب)
1	نهر النيل		العراق
2	هضبة نجد		باكستان
3	نهر دجلة والفرات		تركيا
4	جبال زاغروس		المملكة العربية السعودية
5	جبال طوروس		مصر
6	هضبة بلوخرستان		ايران

السؤال الثالث ضع علامة (√) أمام العبارة الصحيحة و علامة (x) أمام العبارة الخاطئة فيما يلي :

1	لموقع العالم العربي والاسلامي اهمية دينية واجتماعية واقتصادية
2	يقصد بالتركيب النوعي للسكان توزيعهم حسب الأعمار
3	تقع فلسطين في غرب قارة آسيا
4	يعتمد التخطيط الجيد على حسن إدارة الوقت
5	عندما أخطط لتنظيم وقتي لا أبالي بحساب الزمن
6	يتفق ويتشابه جميع الناس في ميولهم نحو الهوايات
7	تعد المملكة العربية السعودية متقدمة في حجم الناتج المحلي عالميا اذ بلغت المرتبة (19)

السؤال الرابع : عزيزي الطالب قم بقراءة النص أدناه ثم أجب على الاسئلة ؟

في عام 1437هـ أقر مجلس الوزراء (رؤية المملكة 2030) التي أشرف على اعدادها ومتابعتها سيدي صاحب السمو الملكي ولي العهد الامير محمد بن سلمان بن عبد العزيز لتصبح إطارا عاما وتنظيما للسياسات الحكومية الرامية الى تحقيق اصلاحات كثيرة ومنها (تنويع الاقتصاد المحلي). ومن برامج رؤية 2030 لتنويع الاقتصاد الوطني تطوير الانظمة وتنمية الاستثمار والمشروعات. والهدف من تنويع الاقتصاد الوطني: زيادة الناتج المحلي وتحسين مستويات المعيشة للمواطنين.

(أ) المشرف على اعداد ومتابعة رؤية 2030 ؟

(ب) اذكر احد برامج رؤية 2030 لتنويع الاقتصاد الوطني ؟

(ج) اكتب عنوانا مناسباً للنص ؟

السؤال الخامس : مستعينا بالشكل المجاور ضع عنوانا مناسباً للصور ادناه ؟

هواية منافسة

هواية ابتكار

إدارة الوقت حسب الفترات

إدارة الوقت حسب التوقيت الزمني

الوقت	الأحد	الاثنين
فترة الصباح	الحضور والدوام في المدرسة	فترة الظهر
فترة العصر	لعبة الكرة	مساعدة الوالدين
فترة المغرب	حل الواجبات	مذاكرة
بعد العشاء	الذهاب للنوم مبكرا	

الوقت	الثلاثاء	الأربعاء
7:00 م	الحضور للمدرسة	راحة
2:00 م	وجبة الغذاء	زيارة اقارب
3:30 م	قراءة كتاب	قضاء حاجيات الأسرة
8:00 م		



نموذج الإجابة

اسم الطالب رباعياً / نموذج الإجابة للفائدة العامة ومعرفة مواضع الأسئلة

السؤال الأول

اختر الإجابة الصحيحة فيما يأتي :

1 من اهم التحديات والمشكلات التي يعاني منها العالم العربي والاسلامي ومفهومها (فقدان القدرة على القراءة والكتابة) هي :

أ- البطالة ب- الامية ج- الفقر د- الجريمة

2 الدول التي يتحدث معظم سكانها اللغة العربية وتضمهم جامعة الدول العربية :

أ- العالم العربي ب- العالم الاسلامي ج- الاقليات د- لا شيء مما سبق

3 تمثل مساحة العالم العربي والاسلامي بالنسبة الى مساحة العالم :

أ- النصف ب- الثلث ج- الربع د- الخمس

4 هي عملية انتاج وتبادل السلع الاستهلاكية التي يعتمد عليها الاقتصاد والمجتمع :

أ- التصدير ب- التنافسية ج- النشاط الاقتصادي د- الميزان التجاري

5 تنمية الاستثمار تؤدي الى :

أ- التنوع الاقتصادي ب- الركود الاقتصادي ج- التضخم الاقتصادي د- لا شيء مما سبق

6 اذا كان للدولة مصدر وحيد فقط للدخل والايادات في الاقتصاد فان ذلك :

أ- متانة ب- تنوع ج- نجاح د- خلل

7 ترتيب الاعمال والانشطة وفق اهميتها مع مراعات الزمن المطلوب لتنفيذها تبدأ بالاهم ثم المهم ثم الأقل أهمية :

أ الأولويات ب التخطيط ج الواجبات د ادارة الوقت

8 هي نشاط يمارسه الفرد من اجل تلبية الحاجات الذاتية وتنمية القدرات والمهارات :

أ ادارة الوقت ب الواجبات ج القدرات د الهوايات

9 عاصمة البانيا هي :

أ تيرانا ب جاكارتا ج دورسو د أبوجا

10 تعد أكبر دولة اسلامية من حيث عدد السكان :

أ نيجيريا ب ألبانيا ج إندونيسيا د باكستان



السؤال الثاني: ضع الرقم الموجود امام المجموعة (أ) امام ما يناسبها من المجموعة (ب) :

الرقم	المجموعة (أ)	الرقم	المجموعة (ب)
1	نهر النيل	3	العراق
2	هضبة نجد	6	باكستان
3	نهر دجلة والفرات	5	تركيا
4	جبال زاجاروس	2	المملكة العربية السعودية
5	جبال طوروس	1	مصر
6	هضبة بلوخرستان	4	ايران

السؤال الثالث ضع علامة (√) أمام العبارة الصحيحة و علامة (x) أمام العبارة الخاطئة فيما يلي :

1	لموقع العالم العربي والاسلامي اهمية دينية واجتماعية واقتصادية	√
2	يقصد بالتركيب النوعي للسكان توزيعهم حسب الأعمار	x
3	تقع فلسطين في غرب قارة آسيا	√
4	يعتمد التخطيط الجيد على حسن إدارة الوقت	√
5	عندما أخطط لتنظيم وقتي لا أبالي بحساب الزمن	x
6	يتفق ويتشابه جميع الناس في ميولهم نحو الهوايات	x
7	تعد المملكة العربية السعودية متقدمة في حجم الناتج المحلي عالميا اذ بلغت المرتبة (19)	√

السؤال الرابع : عزيزي الطالب قم بقراءة النص أدناه ثم أجب على الاسئلة ؟

في عام 1437هـ أقر مجلس الوزراء (رؤية المملكة 2030) التي أشرف على اعدادها ومتابعتها سيدي صاحب السمو الملكي ولي العهد الامير محمد بن سلمان بن عبد العزيز لتصبح إطارا عاما وتنظيما للسياسات الحكومية الرامية الى تحقيق اصلاحات كثيرة ومنها (تنويع الاقتصاد المحلي). ومن برامج رؤية 2030 لتنويع الاقتصاد الوطني تطوير الانظمة وتنمية الاستثمار والمشروعات. والهدف من تنويع الاقتصاد الوطني: زيادة الناتج المحلي وتحسين مستويات المعيشة للمواطنين.

(أ) المشرف على اعداد ومتابعة رؤية 2030 ؟ سيدي صاحب السمو الملكي ولي العهد الامير محمد بن سلمان بن عبد العزيز .

(ب) اذكر احد برامج رؤية 2030 لتنويع الاقتصاد الوطني ؟ . تطوير الانظمة وتنمية الاستثمار والمشروعات .

(ج) اكتب عنوانا مناسباً للنص ؟ التنوع الاقتصادي .

السؤال الخامس : مستعينا بالشكل المجاور ضع عنوانا مناسباً للصور ادناه ؟

هواية منافسة

هواية ابتكار

إدارة الوقت حسب الفترات

إدارة الوقت حسب التوقيت الزمني

الوقت	الأحد	الاثنين
فترة الصباح	الحضور والدوام في المدرسة	فترة الظهر
فترة العصر	لعب الكرة	مساعدة الوالدين
فترة المغرب	حل الواجبات	مذاكرة
وقت العشاء	الذهاب للنوم مبكرا	

الوقت	الثلاثاء	الأربعاء
7:00 م	الحضور للمدرسة	
2:00 م	وجبة الغداء	راحة
3:30 م	زيارة اقارب	قراءة كتاب
8:00 م	قضاء حاجيات الأسرة	



إدارة الوقت حسب الفترات

إدارة الوقت حسب التوقيت الزمني

هواية منافسة

هواية ابتكار

موقع منهجي

mnhaji.com



السؤال الأول

ضع علامة (√) أمام العبارة الصحيحة وعلامة (X) أمام العبارة الخاطئة

١٠

١	يبلغ عدد سكان العالم العربي والإسلامي نحو ٣٠٠ مليون نسمة	()
٢	الترابط بين دول العالم العربي والإسلامي يخدم العالم اجمع	()
٣	يقصد بالتركيب العمري للسكان توزيع السكان حسب العمر	()
٤	من العوامل البشرية المؤثرة في توزيع السكان الأنشطة الاقتصادية	()
٥	انتشر الإسلام في قارة اسيا عن طريق الفتوحات الإسلامية والطرق التجارية	()
٦	تقع البانيا في جنوب شرق اوروبا	()
٧	تعد نيجريا من الدول المنتجة والمصدرة للنفط والغاز الطبيعي	()
٨	يتضمن قطاع البنية التحتية الاعمال الانشائية الأساسية	()
٩	الكفاءة هي تنفيذ العمل تنفيذاً صحيحاً	()
١٠	يصل عدد الجزر الأندونيسية الى ١٠ الاف جزيرة	()

السؤال الثاني

ضع دائرة على الحرف الذي يسبق الإجابة الصحيحة لكل مما يلي :

٢٠

١- يتضمن قطاع الخدمات

أ	التسويق	ب	الزراعة	ج	الصناعة
٢	تعد مركز صناعيا وميناء بحريا لإندونيسيا				
أ	لاجوس	ب	سروابايا	ج	كانو
٣	من اثار الأمية في العالم العربي والإسلامي				
أ	ركود التنمية	ب	انتشار الصحة	ج	الهجرة
٤	تزداد الكثافة السكانية في المناطق ...				
أ	الصناعية	ب	الرملية	ج	الرعية
٥	الدول العربية هي الدول التي تضمها جامعة الدول العربية وعددها ...				
أ	٢٢	ب	٢٠	ج	٢٥
٦	العوامل التي ساعدت على انتشار البطالة في العالم العربي والإسلامي ...				
أ	تأخر سن الزواج	ب	الهجرة	ج	قلة الصناعة
٧	تمثل مساحة العالم العربي والإسلامي بالنسبة الى العالم ...				
أ	الخمس	ب	الثالث	ج	الرابع
٨	الإنتاجية في العمل هي ...				
أ	الإنتاج في زمن محدد	ب	الانفاق في العمل	ج	التضخم
٩	الفاعلية هي تنفيذ العمل وفق ...				
أ	الأهداف	ب	الرغبة	ج	المنتج
١٠	من الجهود السعودية لتنويع الاقتصاد ..				
أ	إعادة هيكلة القطاع الحكومي	ب	الاعتماد على النفط	ج	الاعتماد على الاستيراد

أربط بين العمود (أ) بما يناسبه في العمود (ب) بوضع الرقم المناسب في مربع الإجابة :

العمود (أ)	الإجابة	العمود (ب)
١- الدول الأعضاء في منظمة التعاون الاسلامي		العالم الإسلامي
٢- هم الافراد الذين يعيشون بلا عمل		الدول الفقيرة
٣- الدول ذات المستوى الاقتصادي المنخفض		البطالة
٤- الدول التي تضمها جامعة الدول العربية		العالم العربي
٥ عملية انتاج وتبادل السلع والخدمات والاستهلاك التي يعتمد عليها الاقتصاد والمجتمع		النشاط الاقتصادي
٦- يتم تقسيم الأولويات من حيث الزمن الى		طويل وقصير المدى

ب/ اضربي مثال لكل ممايلي

- ١- ابرز القطاعات الإنتاجية في المملكة العربية السعودية
- ٢- اهم الأنهار في العالم العربي والإسلامي
- ٣- من اشهر اللغات في العالم العربي والإسلامي
- ٤- من الدول العربية تقل فيها الكثافة السكانية

انتهت الأسئلة

نموذج الإجابة

١

١	يبلغ عدد سكان العالم العربي والإسلامي نحو ١٠٠ مليون نسمة	(X)
٢	الترابط بين دول العالم العربي والإسلامي يخدم العالم اجمع	(صح)
٣	يقصد بالتركيب العمري للسكان توزيع السكان حسب العمر	(صح)
٤	من العوامل البشرية المؤثرة في توزيع السكان الأنشطة الاقتصادية	(صح)
٥	انتشر الإسلام في قارة اسيا عن طريق الفتوحات الإسلامية والطرق التجارية	(صح)
٦	تقع البانيا في جنوب شرق اوروبا	(صح)
٧	تعد نيجريا من الدول المنتجة والمصدرة للنفط والغاز الطبيعي	(صح)
٨	يتضمن قطاع البنية التحتية الاعمال الانشائية الأساسية	(صح)
٩	الكفاءة هي تنفيذ العمل تنفيذاً صحيحاً	(صح)
١٠	يصل عدد الجزر الأندونيسية الى ١٠ الاف جزيرة	(X)

٢٠

موقع منهجي

mnhaji.com

١- يتضمن قطاع الخدمات

أ	التسويق	ب	الزراعة	ج	الصناعة
---	---------	---	---------	---	---------

٢- تعد مركز صناعيا وميناء بحريا لإندونيسيا

أ	لاجوس	ب	سروابايا	ج	كانو
---	-------	---	----------	---	------

٣- من اثار الأمية في العالم العربي والإسلامي

أ	ركود التنمية	ب	انتشار الصحة	ج	الهجرة
---	--------------	---	--------------	---	--------

٤- تزداد الكثافة السكانية في المناطق ...

أ	الصناعية	ب	الرملية	ج	الرعية
---	----------	---	---------	---	--------

٥- الدول العربية هي الدول التي تضمها جامعة الدول العربية وعددها ...

أ	٢٢	ب	٢٠	ج	٢٥
---	----	---	----	---	----

٦- العوامل التي ساعدت على انتشار البطالة في العالم العربي والإسلامي ...

أ	تأخر سن الزواج	ب	الهجرة	ج	قلة الصناعة
---	----------------	---	--------	---	-------------

٧- تمثل مساحة العالم العربي والإسلامي بالنسبة الى العالم ...

أ	الخمس	ب	الثالث	ج	الرابع
---	-------	---	--------	---	--------

٨- الإنتاجية في العمل هي ...

أ	الإنتاج في زمن محدد	ب	الانفاق في العمل	ج	التضخم
---	---------------------	---	------------------	---	--------

٩- الفاعلية هي تنفيذ العمل وفق ...

أ	الأهداف	ب	الرغبة	ج	المنتج
---	---------	---	--------	---	--------

١٠- من الجهود السعودية لتنويع الاقتصاد ..

أ	إعادة هيكلة القطاع الحكومي	ب	الاعتماد على النفط	ج	الاعتماد على الاستيراد
---	----------------------------	---	--------------------	---	------------------------

أربط بين العمود (أ) بما يناسبه في العمود (ب) بوضع الرقم المناسب في مربع الإجابة :

العمود (أ)	الإجابة	العمود (ب)
١- الدول الأعضاء في منظمة التعاون الاسلامي	١	العالم الإسلامي
٢- هم الافراد الذين يعيشون بلا عمل	٣	الدول الفقيرة
٣- الدول ذات المستوى الاقتصادي المنخفض	٢	البطالة
٤- الدول التي تضمها جامعة الدول العربية	٤	العالم العربي
٥ عملية انتاج وتبادل السلع والخدمات والاستهلاك التي يعتمد عليها الاقتصاد والمجتمع	٥	النشاط الاقتصادي
٦- يتم تقسيم الأولويات من حيث الزمن الى	٦	طويل وقصير المدى

ب/ اضربي مثال لكل ممايلي

- ١- ابرز القطاعات الإنتاجية في المملكة العربية السعودية قطاع الطاقة-قطاع الزراعة-قطاع الخدمات
- ٢- اهم الأنهار في العالم العربي والإسلامي نهر النيل-نهر النيجر-نهر دجلة والفرات
- ٣- من اشهر اللغات في العالم العربي والإسلامي العربية- الفارسية - الأردو
- ٤- من الدول العربية تقل فيها الكثافة السكانية عمان - اليمن - قطر

المادة : الدراسات الاجتماعية
الصف : الثاني متوسط
الزمن : ساعة ونصف
اليوم :
التاريخ :



المملكة العربية السعودية
وزارة التعليم
إدارة التعليم
مكتب
مدرسة

اختبار مادة الدراسات الاجتماعية للصف الثاني متوسط
الفصل الدراسي الثالث (الدور الأول) لعام ١٤٤٦ هـ

اسم الطالب :

س ١	س ٢	الدرجة	الدرجة كتابة	اسم المصحح	اسم المراجع	اسم المدقق
٣٠	١٠	٤٠	أربعون درجة فقط	التوقيع	التوقيع	التوقيع

السؤال الأول: اختر الإجابة الصحيحة:

١	أ	مكة المكرمة	ب	المدينة المنورة	ج	الطائف	بدأ رسول الله صلى الله عليه وسلم دعوة التوحيد من :
٢	أ	المحيط الأطلسي	ب	المحيط الهادي	ج	المحيط الهندي	يحد العالم العربي والإسلامي غرباً :
٣	أ	٥٥ شمالاً	ب	٤٠ شمالاً	ج	٦٠ شمالاً	يمتد العالم العربي والإسلامي شمالاً حتى دائرة عرض :
٤	أ	خمس مساحة اليابس	ب	سدس مساحة اليابس	ج	ربع مساحة اليابس	تعاادل مساحة العالم العربي والإسلامي :
٥	أ	جامعة الدول العربية	ب	منظمة العالم الإسلامي	ج	مجلس التعاون الخليجي	يقصد بالعالم العربي الدول التي تضمها :
٦	أ	٥٧ دولة	ب	٦٠ دولة	ج	٥٢ دولة	تبلغ عدد دول العالم الإسلامي :
٧	أ	٥٠,١%	ب	٤٥%	ج	٥٠%	نسبة الذكور في العالم الإسلامي تبلغ :
٨	أ	١٨ ألف جزيرة	ب	١٥ ألف جزيرة	ج	١١ ألف جزيرة	تبلغ عدد الجزر في إندونيسيا نحو :
٩	أ	مصر	ب	الحبشة	ج	السودان	أول وصول للإسلام لقارة إفريقيا كان إلى :
١٠	أ	البرتقال	ب	نخيل الزيت	ج	التفاح	من المحاصيل التي تشترك في زراعتها كل من إندونيسيا ونيجيريا :
١١	أ	للزئبق	ب	للقصدير	ج	للذهب	تعتبر أندونيسيا ثاني أكبر بلد منتج :
١٢	أ	قلة الصناعة	ب	انخفاض نصيب الفرد من امتلاك الأرض	ج	جميع ما سبق	من أسباب انتشار البطالة في العالم الإسلامي
١٣	أ	انتشار البطالة	ب	الحروب	ج	جميع ما سبق	من أسباب انتشار الفقر في العالم الإسلامي
١٤	أ	الأولويات	ب	التخطيط	ج	إدارة الوقت	الصدق والواقعية من الإجراءات التي ترصد بها المشكلات في أثناء تنفيذ مراحل:

١٥	من المشاكل التي تترتب على عدم التخطيط المسبق	أ	القلق	ب	تراكم الأعمال	ج	جميع ما سبق
١٦	هي أي نشاط أو اهتمام يمارس في أوقات الفراغ من أجل تلبية الحاجات الذاتية وتنمية المهارات والقدرات	أ	الهواية	ب	التخطيط	ج	الأولويات
١٧	من ضوابط الهواية	أ	ألا تكون مؤذية	ب	تأديتها في أوقات الواجبات المدرسية	ج	إعطائها كل الوقت
١٨	من أنماط الهوايات	أ	ابتكار	ب	إبداع	ج	جميع ما سبق
١٩	لعبة حركية تعتمد القفز على المربعات	أ	لعبة الخطأ	ب	لعبة كرة القدم	ج	لعبة أم تسع
٢٠	نهاية مراحل النشاط الاقتصادي	أ	الإستهلاك	ب	الإنتاج	ج	الموارد الاقتصادية
٢١	عملية إنتاج وتبادل السلع والخدمات والإستهلاك التي يعتمد عليها الإقتصاد والمجتمع تسمى:	أ	النشاط الاقتصادي	ب	الإنتاجية	ج	التنافسية
٢٢	من الحاجات الأساسية للسلع والخدمات:	أ	الغذاء	ب	الترفيه	ج	السياحة
٢٣	يتضمن قطاع الصناعات التحويلية :	أ	تكرير النفط	ب	النقل	ج	الاتصالات
٢٤	أقر استراتيجية الدولة وتطوير الإقتصاد السعودي وفق رؤية ٢٠٣٠ :	أ	مجلس الوزراء	ب	مجلس الشورى	ج	هيئة البيعة
٢٥	أصدرت الحكومة عدداً من الأنظمة التي تخدم المجالات الاقتصادية ومن تلك الأنظمة:	أ	نظام مكافحة غسيل الاموال	ب	نظام ضريبة القيمة المضافة	ج	جميع ما سبق
٢٦	من البرامج الحكومية لتحسين أداء الاعمال في القطاع الخاص برنامج:	أ	مراس	ب	تيسير	ج	المنافسة
٢٧	أقرت حكومة وطني المملكة العربية السعودية عدداً من المشروعات الاقتصادية في انحاء الوطن لتوفير بيئة سياحية وترفيهية	أ	مشروع القدية	ب	مشروع نيوم	ج	جميع ما سبق
٢٨	تصنف من عوامل ترابط العالم العربي والإسلامي	أ	المصالح المشتركة	ب	التاريخ المشترك	ج	جميع ما سبق
٢٩	تقوم الصناعة في ألبانيا على إستخراج المعادن ومن أهمها	أ	الحديد	ب	الذهب	ج	الفضة
٣٠	يرتكز النشاط الرعوي في ألبانيا على تربية	أ	الأغنام	ب	الأبل	ج	الدجاج

السؤال الثاني: ضع علامة (√) أمام العبارة الصحيحة وعلامة (X) أمام العبارة الخاطئة في ما يلي :

م	العبارة	الإجابة
١	تبلغ مساحة العالم العربي لوحده نحو ١٤ مليون كم ٢ .	
٢	لعب الإستعمار دوراً سلبياً في العالم الإسلامي مما أدى إلى تفشي الفقر	
٣	اختيار الوقت والمكان المناسبين من طرق التغلب على مشكلات حل الواجبات المدرسية	
٤	من فوائد ممارسة الهواية الإسهام في بناء الشخصية	
٥	من أهداف التنوع الإقتصادي توفير فرص العمل للمواطنين.	
٦	الفاعلية هي تنفيذ العملية الإنتاجية بالطريقة الصحيحة وبأقل زمن وتكلفة	
٧	ترتيب الأعمال ترتيباً دقيقاً حسب التوقيت الزمني لليوم يقصد به تصميم المهام	
٨	الأعمال القصيرة المدى يكون إنجازها في أكثر من أسبوع إلى شهر أو فصل دراسي	
٩	تقع أندونيسيا جنوب شرق إفريقيا	
١٠	تنتشر لغة البهاسا في إيران .	

انتهت الأسئلة ،،،، مع تمنياتي لكم بالتوفيق والنجاح ،،،، معلم المادة /

المادة : الدراسات الاجتماعية
الصف : الثاني متوسط
الزمن : ساعة ونصف
اليوم :
التاريخ :



المملكة العربية السعودية
وزارة التعليم
إدارة التعليم
مكتب
مدرسة

اختبار مادة الدراسات الاجتماعية للصف الثاني متوسط
الفصل الدراسي الثالث (الدور الأول) لعام ١٤٤٦ هـ

نموذج الإجابة

س ١	س ٢	س ٣	س ٤	س ٥	س ٦	س ٧	س ٨	س ٩	س ١٠	س ١١	س ١٢	س ١٣	س ١٤
٣٠	١٠	٤٠	أربعون درجة فقط	التوقيع	التوقيع	التوقيع	التوقيع	التوقيع	التوقيع	التوقيع	التوقيع	التوقيع	التوقيع

السؤال الأول: اختر الإجابة الصحيحة:

١	أ	مكة المكرمة	ب	المدينة المنورة	ج	الطائف	د	بدا رسول الله صلى الله عليه وسلم دعوة التوحيد من :
٢	أ	المحيط الأطلسي	ب	المحيط الهادي	ج	المحيط الهندي	د	يحد العالم العربي والإسلامي غرباً :
٣	أ	٥٥ شمالاً	ب	٤٠ شمالاً	ج	٦٠ شمالاً	د	يمتد العالم العربي والإسلامي شمالاً حتى دائرة عرض :
٤	أ	خمس مساحة اليابس	ب	سدس مساحة اليابس	ج	ربع مساحة اليابس	د	تعاادل مساحة العالم العربي والإسلامي :
٥	أ	جامعة الدول العربية	ب	منظمة العالم الإسلامي	ج	مجلس التعاون الخليجي	د	يقصد بالعالم العربي الدول التي تضمها :
٦	أ	٥٧ دولة	ب	٦٠ دولة	ج	٥٢ دولة	د	تبلغ عدد دول العالم الإسلامي :
٧	أ	٥٠,١%	ب	٤٥%	ج	٥٠%	د	نسبة الذكور في العالم الإسلامي تبلغ :
٨	أ	١٨ ألف جزيرة	ب	١٥ ألف جزيرة	ج	١١ ألف جزيرة	د	تبلغ عدد الجزر في إندونيسيا نحو :
٩	أ	مصر	ب	الحبشة	ج	السودان	د	أول وصول للإسلام لقارة إفريقيا كان إلى :
١٠	أ	البرتقال	ب	نخيل الزيت	ج	التفاح	د	من المحاصيل التي تشترك في زراعتها كل من إندونيسيا ونيجيريا :
١١	أ	للزئبق	ب	للقصدير	ج	للذهب	د	تعتبر أندونيسيا ثاني أكبر بلد منتج :
١٢	أ	قلة الصناعة	ب	انخفاض نصيب الفرد من امتلاك الأرض	ج	جميع ما سبق	د	من أسباب انتشار البطالة في العالم الإسلامي
١٣	أ	انتشار البطالة	ب	الحروب	ج	جميع ما سبق	د	من أسباب انتشار الفقر في العالم الإسلامي
١٤	أ	الأولويات	ب	التخطيط	ج	إدارة الوقت	د	الصدق والواقعية من الإجراءات التي ترصد بها المشكلات في أثناء تنفيذ مراحل:

١٥	أ	القلق	ب	تراكم الأعمال	ج	جميع ما سبق
١٦	أ	الهواية	ب	التخطيط	ج	الأولويات
١٧	أ	الا تكون مؤذية	ب	تأديتها في أوقات الواجبات المدرسية	ج	إعطائها كل الوقت
١٨	أ	ابتكار	ب	إبداع	ج	جميع ما سبق
١٩	أ	لعبة حركية تعتمد القفز على المربعات	ب	لعبة كرة القدم	ج	لعبة أم تسع
٢٠	أ	الاستهلاك	ب	الإنتاج	ج	الموارد الاقتصادية
٢١	أ	النشاط الاقتصادي	ب	الإنتاجية	ج	التنافسية
٢٢	أ	الغذاء	ب	الترفيه	ج	السياحة
٢٣	أ	تكرير النفط	ب	النقل	ج	الاتصالات
٢٤	أ	مجلس الوزراء	ب	مجلس الشورى	ج	هيئة البيعة
٢٥	أ	نظام مكافحة غسيل الاموال	ب	نظام ضريبة القيمة المضافة	ج	جميع ما سبق
٢٦	أ	مراس	ب	تيسير	ج	المنافسة
٢٧	أ	مشروع القدية	ب	مشروع نيوم	ج	جميع ما سبق
٢٨	أ	المصالح المشتركة	ب	التاريخ المشترك	ج	جميع ما سبق
٢٩	أ	الحديد	ب	الذهب	ج	الفضة
٣٠	أ	الأغنام	ب	الأبل	ج	الدجاج

السؤال الثاني: ضع علامة (√) أمام العبارة الصحيحة وعلامة (X) أمام العبارة الخاطئة في ما يلي :

م	العبارة	الإجابة
١	تبلغ مساحة العالم العربي لوحده نحو ١٤ مليون كم ٢ .	√
٢	لعب الإستعمار دوراً سلبياً في العالم الإسلامي مما أدى إلى تفشي الفقر	√
٣	اختيار الوقت والمكان المناسبين من طرق التغلب على مشكلات حل الواجبات المدرسية	√
٤	من فوائد ممارسة الهواية الإسهام في بناء الشخصية	√
٥	من أهداف التنوع الإقتصادي توفير فرص العمل للمواطنين.	√
٦	الفاعلية هي تنفيذ العملية الإنتاجية بالطريقة الصحيحة وبأقل زمن وتكلفة	×
٧	ترتيب الأعمال ترتيباً دقيقاً حسب التوقيت الزمني لليوم يقصد به تصميم المهام	×
٨	الأعمال القصيرة المدى يكون إنجازها في أكثر من أسبوع إلى شهر أو فصل دراسي	×
٩	تقع أندونيسيا جنوب شرق إفريقيا	×
١٠	تنتشر لغة البهاسا في إيران .	×

انتهت الأسئلة ،،،، مع تمنياتي لكم بالتوفيق والنجاح ،،،، معلم المادة /

1	1- يبلغ عدد سكان العالم العربي والإسلامي نحو 300 مليون نسمة	()
2	الترابط بين دول العالم العربي والإسلامي يخدم العالم اجمع	()
3	- يقصد بالتركيب النوعي للسكان توزيع السكان حسب العمر	()
4	من العوامل البشرية المؤثرة في توزيع السكان الأنشطة الاقتصادية	()
5	انتشر الإسلام في قارة اسيا عن طريق الفتوحات الإسلامية	()
6	تقع البانيا في جنوب شرق اوربا	()
7	تعد نيجريا من الدول المنتجة والمصدرة للنفط والغاز الطبيعي	()
8	يتضمن قطاع البنية التحتية الاعمال الانشائية الأساسية	()
9	الكفاءة هي تنفيذ العمل تنفيذاً صحيحاً	()
10	يصل عدد الجزر الاندونسية الى 10 الاف جزيرة	()

1- يتضمن قطاع الخدمات

أ	التسويق	ب	الزراعة	ج	الصناعة
---	---------	---	---------	---	---------

2- تعد مركز صناعيا وميناء بحريا لأندونيسيا

أ	لاجوس	ب	سورابايا	ج	كانو
---	-------	---	----------	---	------

3- من اثار الأمية في العالم العربي والإسلامي

أ	ركود التنمية	ب	انتشار الصحة	ج	الهجرة
---	--------------	---	--------------	---	--------

4- : تزداد الكثافة السكانية في المناطق ...

أ	الصناعية	ب	الرملية	ج	الرعية
---	----------	---	---------	---	--------

5- الدول العربية هي الدول التي تضمها جامعة الدول العربية وعددها ...

أ	22	ب	20	ج	25
---	----	---	----	---	----

6- العوامل التي ساعدت على انتشار البطالة في العالم العربي والإسلامي ...

أ	تأخر سن الزواج	ب	الهجرة	ج	قلة الصناعة
---	----------------	---	--------	---	-------------

7- تمثل مساحة العالم العربي والإسلامي بالنسبة الى العالم ...

أ	الخمس	ب	الثالث	ج	الربع
---	-------	---	--------	---	-------

8- الإنتاجية في العمل هي...

أ	الإنتاج في زمن محدد	ب	الانفاق في العمل	ج	التضخم
---	---------------------	---	------------------	---	--------

9- الفاعلية هي تنفيذ العمل وفق ...

أ	الأهداف	ب	الرغبة	ج	المنتج
---	---------	---	--------	---	--------

10- من الجهود السعودية لتنويع الاقتصاد ..

أ	إعادة هيكلة القطاع الحكومي	ب	الاعتماد على النفط	ج	الاعتماد على الاستيراد
---	----------------------------	---	--------------------	---	------------------------

البنيا	وجه المقارنة	اندونيسيا
	المناخ	
	الامطار	
	العاصمة	

ب/امامك خارطة لجمهورية البانيا الإسلامية تأملى الخارطة واجيبى عن التالى؟



ماذا يحد البانيا من جهة الشرق.....

اين تقع البانيا من قارة اوربا

ماذا يغلب على سطح البانيا

اهم الموانى لجمهورية البانيا.....

أربط بين العمود [أ] بما يناسبه في العمود [ب] بوضع الرقم المناسب في مربع الإجابة :

العمود [أ]	الإجابة	العمود [ب]
1-الدول الأعضاء في منظمة التعاون الاسلامي		العالم الإسلامي
2-هم الافراد الذين يعيشون بلا عمل		الدول الفقيرة
3-الدول ذات المستوى الاقتصادي المنخفض		البطالة
4-الدول التي تضمها جامعة الدول العربية		العالم العربي
5عملية انتاج وتبادل السلع والخدمات والاستهلاك التي يعتمد عليها الاقتصاد والمجتمع		النشاط الاقتصادي
6-يتم تقسيم الأولويات من حيث الزمن الى		طويل وقصير المدى

ب/اضربي مثال لكل ممايلي

- 1- ابرز القطاعات الإنتاجية في المملكة العربية السعودية
- 2- اهم الأنهار في العالم العربي والإسلامي
- 3- من اشهر اللغات في العالم العربي والإسلامي

ج/فسري لمايلي / يتميز مناخ اندونيسيا بأنه استوائي لكن يميل الى الاعتدال ؟

انتهت الأسئلة

معلمة المادة

نموذج الإجابة

1	1- يبلغ عدد سكان العالم العربي والإسلامي نحو 300 مليون نسمة	(X)
2	الترابط بين دول العالم العربي والإسلامي يخدم العالم اجمع	(√)
3	- يقصد بالتركيب النوعي للسكان توزيع السكان حسب العمر	(X)
4	من العوامل البشرية المؤثرة في توزيع السكان الأنشطة الاقتصادية	(√)
5	انتشر الإسلام في قارة اسيا عن طريق الفتوحات الإسلامية	(√)
6	تقع البانيا في جنوب شرق اوروبا	(√)
7	تعد نيجريا من الدول المنتجة والمصدرة للنفط والغاز الطبيعي	(√)
8	يتضمن قطاع البنية التحتية الاعمال الانشائية الأساسية	(√)
9	الكفاءة هي تنفيذ العمل تنفيذاً صحيحاً	(√)
10	يصل عدد الجزر الاندونسية الى 10 الاف جزيرة	(X)

موقع منهجي

mnhaji.com



1- يتضمن قطاع الخدمات

أ	التسويق	ب	الزراعة	ج	الصناعة
---	---------	---	---------	---	---------

2- تعد مركز صناعيا وميناء بحريا لأندونيسيا

أ	لاجوس	ب	سورابايا	ج	كانو
---	-------	---	----------	---	------

3- من اثار الأمية في العالم العربي والإسلامي

أ	ركود التنمية	ب	انتشار الصحة	ج	الهجرة
---	--------------	---	--------------	---	--------

4- : تزداد الكثافة السكانية في المناطق ...

أ	الصناعية	ب	الرملية	ج	الرعية
---	----------	---	---------	---	--------

5- الدول العربية هي الدول التي تضمها جامعة الدول العربية وعددها ...

أ	22	ب	20	ج	25
---	----	---	----	---	----

6- العوامل التي ساعدت على انتشار البطالة في العالم العربي والإسلامي ...

أ	تأخر سن الزواج	ب	الهجرة	ج	قلة الصناعة
---	----------------	---	--------	---	-------------

7- تمثل مساحة العالم العربي والإسلامي بالنسبة الى العالم ...

أ	الخمس	ب	الثلاث	ج	الربع
---	-------	---	--------	---	-------

8- الإنتاجية في العمل هي...

أ	الإنتاج في زمن محدد	ب	الانفاق في العمل	ج	التضخم
---	---------------------	---	------------------	---	--------

9- الفاعلية هي تنفيذ العمل وفق ...

أ	الأهداف	ب	الرغبة	ج	المنتج
---	---------	---	--------	---	--------

10- من الجهود السعودية لتنويع الاقتصاد ..

أ	إعادة هيكلة القطاع الحكومي	ب	الاعتماد على النفط	ج	الاعتماد على الاستيراد
---	----------------------------	---	--------------------	---	------------------------

البنيا	وجه المقارنة	اندونيسيا
مناخ البحر المتوسط	المناخ	مناخ استوائي
في الشتاء	الامطار	طوال العام
تيرانا	العاصمة	جاكرتا

ب/امامك خارطة لجمهورية البانيا الإسلامية تأملى الخارطة واجيبى عن التالى؟



(شكل ٦٧)

ماذا يحد البانيا من جهة الشرق.....مقدونيا.واليونان.....

اين تقع البانيا من قارة اوربا ...جنوب.شرق.أوروبا.....

ماذا يغلب على سطح البانيا .مرتفعات.جبلية.في.الشرق.وسهول.ساحلية.في.الغرب

اهم الموانى لجمهورية البانيا.....دورسو.....

أربط بين العمود [أ] بما يناسبه في العمود [ب] بوضع الرقم المناسب في مربع الإجابة :

العمود [أ]	الإجابة	العمود [ب]
1- الدول الأعضاء في منظمة التعاون الاسلامي	١	العالم الإسلامي
2- هم الافراد الذين يعيشون بلا عمل	٣	الدول الفقيرة
3- الدول ذات المستوى الاقتصادي المنخفض	٢	البطالة
4- الدول التي تضمها جامعة الدول العربية	٤	العالم العربي
5- عملية انتاج وتبادل السلع والخدمات والاستهلاك التي يعتمد عليها الاقتصاد والمجتمع	٥	النشاط الاقتصادي
6- يتم تقسيم الأولويات من حيث الزمن الى	٦	طويل وقصير المدى

ب/ اضربي مثال لكل ممايلي

- 1- ابرز القطاعات الإنتاجية في المملكة العربية السعودية قطاع الطاقة
- 2- اهم الأنهار في العالم العربي والإسلامي نهر النيل
- 3- من اشهر اللغات في العالم العربي والإسلامي اللغة العربية

ج/فسري لمايلي / يتميز مناخ اندونيسيا بأنه استوائي لكن يميل الى الاعتدال ؟

لتأثره بالمسطحات المائية و الارتفاع.

انتهت الأسئلة

موقع منهجي
mnhaji.com



معلمة المادة

المملكة العربية السعودية وزارة التعليم الإدارة العامة للتعليم بمنطقة مكتب التعليم مدرسة	 وزارة التعليم Ministry of Education	الدرجة	اسم المصحح :	التوقيع
	 رؤية 2030	40	اسم المراجع :	التوقيع

أستلة اختبار الفصل الدراسي الثالث (الدور الأول)	العام الدراسي 1446 هـ	الصف الثاني المتوسط	رقم الجلوس
اسم الطالب :	المادة : اجتماعيات	الزمن : ساعة ونصف	عدد الصفحات : 2

السؤال الأول

استعن بالله ثم اجب على الاسئلة

20

ضع علامة (√) أمام العبارة الصحيحة وعلامة (X) أمام العبارة الخاطئة

أ

1	تقع دول مجلس التعاون الخليجي في الجزء الجنوب الغربي من قارة اسيا	()
2	من اشهر المحصولات الزراعية لدول مجلس التعاون الخليجي التمر	()
3	من مقومات الصناعة فب دول مجلس التعاون المواد الخام	()
4	من إنجازات مجلس التعاون التوقيع على اتفاقية الدفاع المشترك	()
5	أنشئ مجلس التعاون الخليجي عام 1421هـ	()
6	تقع البانيا في جنوب شرق اوروبا	()
7	تساوي مساحة العالم العربي والإسلامي نحو 14 مليون كم2	()
8	يتضمن قطاع البنية التحتية الاعمال الانشائية الأساسية	()
9	الكفاءة هي تنفيذ العمل تنفيذاً صحيحاً	()
10	تنمية الاستثمار تؤدي الى الركود الاقتصادي	()

5

السؤال الثاني

أربط بين العمود [أ] بما يناسبه في العمود [ب] بوضع الرقم المناسب في مربع الإجابة :

م	العمود [أ]	الإجابة	العمود [ب]
1	الدول الأعضاء في منظمة التعاون الاسلامي		العالم العربي
2	هم الافراد الذين يعيشون بلا عمل		الدول الفقيرة
3	الدول ذات المستوى الاقتصادي المنخفض		البطالة
4	الدول التي تضمها جامعة الدول العربية		العالم السلامي
5	عملية انتاج وتبادل السلع والخدمات والاستهلاك التي يعتمد عليها الاقتصاد والمجتمع		النشاط الاقتصادي

1- يقع الجبل الأخضر في

أ	السعودية	ب	الكويت	ج	عمان
---	----------	---	--------	---	------

2- من أسباب البطالة في دول مجلس التعاون ...

أ	نقص العمالة الوافدة	ب	عدم توفر الوظائف	ج	عدم توفر العمالة الوطنية المدربة
---	---------------------	---	------------------	---	----------------------------------

3 - من أسباب التصحر وتدهور الأراضي الزراعية في دول الخليج ...

أ	إزالة الجبال	ب	منع المراعي	ج	قطع الأشجار
---	--------------	---	-------------	---	-------------

4-: تزداد الكثافة السكانية في المناطق ...

أ	الرعية	ب	الرملية	ج	الصناعية
---	--------	---	---------	---	----------

5- الدول العربية هي الدول التي تضمها جامعة الدول العربية وعددها ...

أ	25	ب	20	ج	22
---	----	---	----	---	----

6- العوامل التي ساعدت على انتشار البطالة في العالم العربي والإسلامي ...

أ	تأخر سن الزواج	ب	الهجرة	ج	قلة الصناعة
---	----------------	---	--------	---	-------------

7- تمثل مساحة العالم العربي والإسلامي بالنسبة الى العالم ...

أ	الربع	ب	الثالث	ج	الخمس
---	-------	---	--------	---	-------

8- الإنتاجية في العمل هي...

أ	الإنتاج في زمن محدد	ب	الانفاق في العمل	ج	التضخم
---	---------------------	---	------------------	---	--------

9- الفاعلية هي تنفيذ العمل وفق ...

أ	الأهداف	ب	الرغبة	ج	المنتج
---	---------	---	--------	---	--------

10- من الجهود السعودية لتنويع الاقتصاد ..

أ	إعادة هيكلة القطاع الحكومي	ب	الاعتماد على النفط	ج	الاعتماد على الاستيراد
---	----------------------------	---	--------------------	---	------------------------

أ / اذكر 3 فقط لما يأتي

1- من دول مجلس التعاون الخليجي

.....

.....

.....

2- من دول العالم العربي و الاسلامي

.....

.....

.....

المراجع: أ.

الدرجة كتابة:

التوقيع:

الاسم:

الصف:

رقم الجلوس : ()

المصحح: أ.

الدرجة كتابة:

التوقيع:

٤٠

السؤال الأول: اختر الإجابة الصحيحة فيما يلي :

١- تبلغ مساحة العالم العربي والإسلامي نحو			
أ/ ١٤ مليون كم ^٢	ب/ ٣٤ مليون كم ^٢	ج/ ٤١ مليون كم ^٢	د/ ٤٣ مليون كم ^٢
٢- تشكل المظهر السائد في العالم العربي والإسلامي			
أ/ الهضاب	ب/ الجبال	ج/ الأنهار	د/ السهول
٣- توجد في المملكة العربية السعودية			
أ/ جبال أطلس	ب/ جبال زاجروس	ج/ جبال طوروس	د/ جبال الحجاز
٤- هضبة توجد في المملكة العربية السعودية			
أ/ هضبة إفريقية	ب/ هضبة بلوخرستان	ج/ هضبة نجد	د/ هضبة الأناضول
٥- يشغل العالم العربي والإسلامي نحو			
أ/ ٨٠ دائرة عرضية	ب/ ٨١ دائرة عرضية	ج/ ٨٢ دائرة عرضية	د/ ٨٣ دائرة عرضية
٦- يبلغ عدد الدول الإسلامية دولة			
أ/ ٢٢	ب/ ٥٦	ج/ ٥٧	د/ ٥٨
٧- يبلغ عدد الدول العربية دولة			
أ/ ٢٢	ب/ ٥٦	ج/ ٥٧	د/ ٥٨
٨- تعادل مساحة العالم العربي والإسلامي مساحة اليابسة			
أ/ ربع	ب/ خمس	ج/ ثلث	د/ نصف
٩- أغلب سكان العالم الإسلامي والعربية في قارتي			
أ/ اسيا و أوروبا	ب/ أوروبا و إفريقيا	ج/ اسيا و إفريقيا	د/ اسيا و أمريكا الجنوبية
١٠- أكبر دول العالم الإسلامي من حيث المساحة			
أ/ المملكة العربية السعودية	ب/ الجزائر	ج/ اندونيسيا	د/ كازاخستان
١١- أكبر دول العالم الإسلامي من حيث عدد السكان			
أ/ إيران	ب/ مصر	ج/ كازاخستان	د/ اندونيسيا
١٢- تضم إندونيسيا أكثر من جزيرة			
أ/ ١٦ ألف	ب/ ١٧ ألف	ج/ ١٨ ألف	د/ ٢٠ ألف

١٣ - ثاني أكبر بلد منتج للقصدير في العالم هي دولة			
أ/ نيجيريا	ب/ اندونيسيا	ج/ البانيا	د/ المملكة العربية السعودية
١٤ - عاصمة إندونيسيا هي			
أ/ جاكارتا	ب/ سورابايا	ج/ لاجوس	د/ تيرانا
١٥ - تقع في وسط افريقيا			
أ/ اندونيسيا	ب/ نيجيريا	ج/ البانيا	د/ المانيا
١٦ - ماهي العاصمة الحالية لنيجيريا			
أ/ جاكارتا	ب/ أبوجا	ج/ لاجوس	د/ تيرانا
١٧ - تقع في جنوب شرق اوروبا			
أ/ اندونيسيا	ب/ نيجيريا	ج/ البانيا	د/ اسبانيا
١٨ - ماهي عاصمة البانيا			
أ/ جاكارتا	ب/ أبوجا	ج/ تيرانا	د/ لاجوس
١٩ - من جزر البحر المتوسط التي دخلها الإسلام			
أ/ مالطا	ب/ صقلية	ج/ قبرص	د/ جميع ما سبق
٢٠ - من اثار الأمية في العالم العربي والإسلامي			
أ/ ركود التنمية	ب/ انخفاض الانتاجية	ج/ انتشار الأمراض	د/ جميع ما سبق

السؤال الثاني :

ضلل فقرة (ص) إذا كانت الإجابة صحيحة (✓) و ضلل فقرة (خ) إذا كانت الإجابة خاطئة (x)

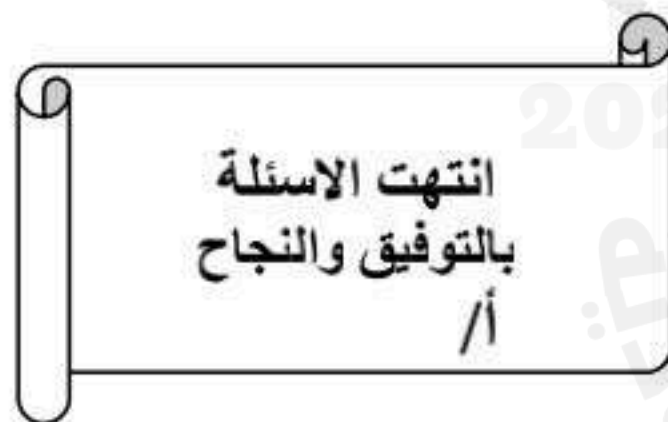
١	موقع العالم العربي الاسلامي ساعد على نشر الإسلام
٢	دخل الإسلام الى اوروبا عن طريق التجارة
٣	من اشهر المحاصيل الزراعية في نيجيريا الفول السوداني
٤	يتركز السكان في المناطق السهلية لخصوبة تربتها
٥	السهول الفيضية تكونت نتيجة ترسب الرماد البركاني
٦	الأمية هي فقدان القدرة على القراءة والكتابة
٧	من نتائج البطالة الحروب
٨	من أهمية موقع العالم العربي والإسلامي وقوعه في قارات العالم القديم (اسيا ، إفريقيا ، أوروبا) .
٩	يمتد العالم العربي والإسلامي من المحيط الهندي شرقاً إلى المحيط الأطلسي غرباً
١٠	تبلغ مساحة العالم العربي نحو ١٤ مليون كم ^٢

تابع خلف الورقة

القسم الثالث :

صل العمود الأول بما يناسبه في العمود الثاني ثم ظل في ورقة الإجابة

العمود الأول		العمود الثاني
١	الدول الأعضاء في منظمة التعاون الإسلامي	أ العالم العربي
٢	الدول الأعضاء في جامعة الدول العربية	ب العالم الإسلامي
٣	هو توزيع السكان إلى ذكور وإناث	ج التركيب العمري
٤	هي تنفيذ العملية الإنتاجية وفق الأهداف	د التركيب النوعي
٥	هو تقسيم السكان إلى فئات حسب أعمارهم	ه الأولويات
٦	ترتيب الأعمال وفق أهميتها مع مراعاة الزمن المطلوب لتنفيذها بحيث تبدأ بالأهم	و الهواية
٧	هي ما يبذل من الجهود لتصنيع السلع وتوفيرها	ز النشاط الاقتصادي
٨	هي القدرة على إنتاج سلع وخدمات تحقق الجودة والفاعلية في الأسواق العالمية	ح الانتاجية
٩	هو نشاط أو اهتمام يمارس في أوقات الفراغ من أجل تلبية الحاجات الذاتية	ط الفاعلية
١٠	هي معدل الإنتاج في زمن معين	ي التنافسية



موقع منهجي
mnhaji.com



2025 2024

المناهج السعودية

		أسم المصحح		المملكة العربية السعودية وزارة التعليم متوسطة	
		التوقيع		اجتماعيات	المادة
		أسم المراجع		الثاني	الصف
		التوقيع		ساعتان	الزمن
٤٠		الدرجة		الاول	الدور
		الدرجة كتابة		أ /	معلم المادة

اسم الطالب: الصف: رقم الجلوس:

السؤال الأول: اختر الإجابة الصحيحة فيما يلي :
٢٠

١	تبلغ عدد دول العالم الإسلامي	أ	٥٦ دولة	ب	٥٧ دولة	ج	٥٨ دولة	د	٥٩ دولة
٢	يقدر عدد سكان العالم العربي والإسلامي عام ١٤٣٧ هـ بحوالي:	أ	١,٨ مليار نسمة	ب	١,٥ مليار نسمة	ج	١,٣ مليار نسمة	د	١,٢ مليار نسمة
٣	يتوزع أغلب سكان العالم العربي والإسلامي بين قارتي	أ	أوروبا و أفريقيا	ب	آسيا و إفريقيا	ج	آسيا و أمريكا	د	آسيا و أستراليا
٤	من العوامل الطبيعية المؤثرة في توزيع السكان	أ	الصناعة	ب	الزراعة	ج	المياه	د	التعدين
٥	لغة البهاسا من اللغات المنتشرة في	أ	إيران	ب	إندونيسيا	ج	إفريقيا	د	الهند
٦	أول وصول للإسلام لقارة إفريقيا كان إلى	أ	الحبشة	ب	مصر	ج	السودان	د	تونس
٧	يحد العالم العربي والإسلامي من الغرب المحيط	أ	الهندي	ب	الأطلسي	ج	الهادئ	د	المحيط المتجمد الشمالي
٨	من المضائق التي يطل عليها العالم العربي الإسلامي	أ	ماجلان	ب	هدسن	ج	ملقا	د	برينغ
٩	تقع إندونيسيا بالنسبة لقارة آسيا	أ	جنوب شرق	ب	جنوب غرب	ج	شمال غرب	د	غرب
١٠	يحد دولة نيجيريا من الجنوب:	أ	خليج غينيا والكاميرون	ب	النيجر و الكاميرون	ج	الكاميرون و بنين	د	بنين والنيجر
١١	نهاية مراحل النشاط الاقتصادي	أ	الإنتاج	ب	الاستهلاك	ج	الموارد الاقتصادية	د	
١٢	عملية إنتاج وتبادل السلع والخدمات والاستهلاك التي يعتمد عليها الاقتصاد والمجتمع تسمى:	أ	النشاط الاقتصادي	ب	الإنتاجية	ج	التنافسية	د	



١٣	الفاعلية هي تنفيذ العمل وفق	أ	المرغبة	ب	المنتج	ج	التكلفة	د	الاهداف
١٤	انشئ مجلس التعاون لدول الخليج العربية عام	أ	١٤٠١هـ	ب	١٤٠٢هـ	ج	١٤٠٣هـ	د	١٤٠٤هـ
١٥	يتكون من قادة الدول الأعضاء، ويعقد اجتماعاته مرة كل سنة	أ	المجلس الوزاري	ب	المجلس الأعلى	ج	الأمانة العامة	د	المجلس الانتقالي
١٦	القوة الخليجية الموحدة لدول المجلس يطلق عليها	أ	درع الجزيرة	ب	عاصفة الصحراء	ج	القوات المشتركة	د	
١٧	تم إنشاء مجلس التنسيق السعودي الإماراتي بتوجيهات الملك	أ	سلمان	ب	خالد	ج	عبدالله	د	سعود
١٨	من أسباب التصحر و تدهور الأراضي الزراعية في دول مجلس التعاون الخليجي	أ	قطع الأشجار	ب	إنشاء السدود	ج	حفر الآبار	د	
١٩	تدهور الأراضي الزراعية والرعية ومناطق الغابات لأسباب طبيعية أو بشرية	أ	تصحّر	ب	تلوث مائي	ج	تلوث هوائي	د	تلوث التربة
٢٠	تحتل إندونيسيا في إنتاج القصدير المركز	أ	الاول	ب	الثاني	ج	الثالث	د	الرابع

السؤال الثاني :

ضع علامة (✓) إذا كانت الإجابة صحيحة وضع علامة (x) إذا كانت الإجابة خاطئة

٢٠

١	عاصمة البانيا هي تيرانا
٢	من أهم نتائج الفقر في العالم الإسلامي انتشار الامية وزيادة الديون الخارجية
٣	اقر المجلس الوزاري استراتيجية الدولة وتطوير الاقتصاد السعودي وفق رؤية ٢٠٣٠
٤	الاعتماد على مصدر وحيد في الدخل القومي يعطي متانة وقوة
٥	التنافسية تعني القدرة على إنتاج السلع بجودة عالية ومنافسة عالمية
٦	من أهداف التنوع الاقتصادي توفير فرص العمل للمواطنين.
٧	أشرف على إعداد ومتابعة رؤية ((٢٠٣٠)) صاحب السمو الملكي الأمير محمد بن سلمان
٨	من أمثلة التلوث المائي تسرب النفط
٩	لحماية الحياة الفطرية قامت المملكة العربية السعودية بإنشاء المحميات الطبيعية
١٠	اقر المجلس الوزاري استراتيجية الدولة وتطوير الاقتصاد السعودي وفق رؤية ٢٠٣٠

انتهت الاسئلة
بالتوفيق والنجاح
/أ/

موقع منهجي
mnhaji.com

