

التدريب رقم 6 نافس



تم تحميل هذا الملف من موقع المناهج السعودية

موقع المناهج ← المناهج السعودية ← الصف السادس ← رياضيات ← الفصل الثاني ← ملفات متنوعة ← الملف

تاريخ إضافة الملف على موقع المناهج: 2025-04-23 20:46:19

ملفات اكتب للمعلم اكتب للطالب ا اختبارات الكترونية ا اختبارات ا حلول ا عروض بوربوينت ا أوراق عمل
منهج انجليزي ا ملخصات وتقارير ا مذكرات وبنوك ا الامتحان النهائي ا للمدرس

المزيد من مادة
رياضيات:

إعداد: مريم القبيلي

التواصل الاجتماعي بحسب الصف السادس



صفحة المناهج
السعودية على
فيسبوك

الرياضيات

اللغة الانجليزية

اللغة العربية

التربية الاسلامية

المواد على تلغرام

المزيد من الملفات بحسب الصف السادس والمادة رياضيات في الفصل الثاني

نموذج إجابة الاختبار النهائي المركزي في مكة

1

الاختبار المركزي في تبوك

2

نموذج الاختبار النهائي لمنطقة مكة

3

نموذج الإجابة على اختبار نهائي الدور الأول في مكة

4

نموذج الإجابة على الاختبار البديل

5

التدريب (٦) رياضيات الصف السادس الفصل الدراسي الثالث ١٤٤٦ هـ

الصف :

أسم الطالبة :

الدرس : تقدير وقياس الزوايا ورسمها . الهدف : أقد قياس الزوايا وأجد قياسها وارسمها .

س ١

استعمل المنقلة والمسطرة لرسم كل من الزوايا التي لها القياسات الآتية ؟

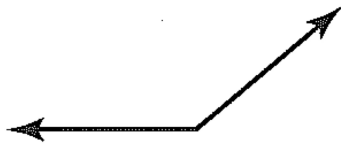
١١٥

٥٠

١٤٠

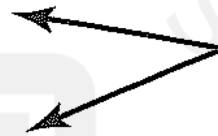
س ٢

استعمل المنقلة لقياس الزوايا الآتية ؟



س ٣

قدر قياس كل من الزوايا الآتية ؟

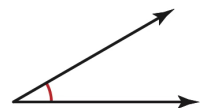


تدريب نافس

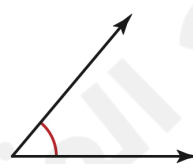
س ١

أي زاوية مما يأتي قياسها 50° تقريباً ؟

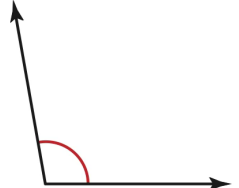
(ج)



(أ)



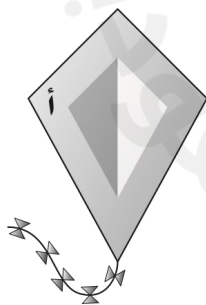
(د)



(ب)

س ٢

الشكل أدناه يمثل طائرة ورقية.



قدّر قياس الزاوية أ

(ج) 100°

(أ) 45°

(د) 140°

(ب) 80°