

تم تحميل هذا الملف من موقع المناهج السعودية



*للحصول على أوراق عمل لجميع الصفوف وجميع المواد اضغط هنا

<https://www.almanahj.com/sa>

[6/sa/com.almanahj//:https](https://www.almanahj.com/sa/6)

* للحصول على أوراق عمل لجميع مواد الصف السادس اضغط هنا

* للحصول على جميع أوراق الصف السادس في مادة رياضيات ولجميع الفصول, اضغط هنا

<https://www.almanahj.com/sa/6>

* للحصول على أوراق عمل لجميع مواد الصف السادس في مادة رياضيات الخاصة بـ اضغط هنا

<https://www.almanahj.com/sa/63>

* لتحميل كتب جميع المواد في جميع الفصول للصف السادس اضغط هنا

<https://www.almanahj.com/sa/grade6>

[sacourse/me.t//:https](https://www.almanahj.com/sa/course)

للحصول على جميع روابط الصفوف على تلغرام وفيسبوك من قنوات وصفحات: اضغط هنا

المحتوى التعليمي لمنهج الرياضيات للمصف السادس

خيارات تعليمية أوسع



الدروس المقررة

مساحة المثلث



المثلثات



الاحتمال



حجم المنشور



الأشكال الرباعية



فضاء العينة



الرباعي

محيط الدائرة



قياس وتقدير



مساحة سطح



الزوايا ورسمها

المنشور

متوازي الأضلاع



العلاقات بين الزوايا





وزارة التعليم
Ministry of Education

الدرس : الاحتمال

ألمسي الايقونة ليتم تحويلك لمحتوى الدرس



نشاط تفاعلي



اختبار قصير



بطاقات المفاهيم للدرس



التشويق



شرح الأستاذ خالد المالكي



شرح الأستاذة منال التويجري



أمل المطيري





وزارة التعليم
Ministry of Education

الدرس : فضاء العينة

أمسي الايقونة ليتم تحويلك لمحتوى الدرس




نشاط تفاعلي



اختبار قصير



بطاقات المفاهيم للدرس



التشويق



شرح الأستاذ خالد المالكي



شرح الأستاذة منال التويجري



أمل المطيري





وزارة التعليم
Ministry of Education

الدرس : قياس وتقدير الزوايا ورسمها



ألمسي الايقونة ليتم تحويلك لمحتوى الدرس



نشاط تفاعلي



اختبار قصير



بطاقات المفاهيم للدرس



التشويق



شرح الأستاذ خالد المالكي



أمل المطيري





وزارة التعليم
Ministry of Education

الدرس :العلاقات بين الزوايا

ألمسي الايقونة ليتم تحويلك لمحتوى الدرس



نشاط تفاعلي



اختبار قصير



بطاقات المفاهيم للدرس



التشويق



شرح الأستاذ خالد المالكي



شرح الأستاذة منال التويجري



أمل المطيري






وزارة التعليم
Ministry of Education

الدرس: المثلثات

أمسي الايقونة ليتم تحويلك لمحتوى الدرس



نشاط تفاعلي



اختبار قصير



بطاقات المفاهيم للدرس



مثلث قائم الزاوية	مثلث حاد الزوايا	مثلث مختلف الأضلاع
مثلث قائم الزاوية	مثلث حاد الزوايا	مثلث مختلف الأضلاع

التشويق



شرح الأستاذ خالد المالكي



شرح الأستاذة منال التويجري



أمل المطيري





الدرس : الأشكال الرباعية



ألمسي الايقونة ليتم تحويلك لمحتوى الدرس

التشويق



شرح الأستاذ خالد المالكي



شرح الأستاذة منال التويجري



استكشاف زوايا الرباعي



اختبار قصير



بطاقات المفاهيم للدرس



المصطلح	الشكل	التعريف	تطبيق الإضلاع	توازي الإضلاع	الزوايا
متوازي الإضلاع		شكل رباعي فيه كل ضلعين متقابلين متوازيين ومتساويان	كل ضلعين متقابلين متوازيين متساويان	كل ضلعين متقابلين متوازيين متساويان	كل زاويتين متقابلتين متساويتان
المستطيل		متوازي أضلاع فيه أربع زوايا قائمة	كل ضلعين متقابلين متساويان	كل ضلعين متقابلين متوازيين	جميع زواياه قائمة
المربع		متوازي أضلاع جميع أضلاعه متساوية وزواياه قائمة وجميع أضلاعه متساوية	جميع أضلاعه متساوية	كل ضلعين متقابلين متوازيين	جميع زواياه قائمة
المعين		متوازي أضلاع جميع أضلاعه متساوية	جميع أضلاعه متساوية	كل ضلعين متقابلين متوازيين	كل زاويتين متقابلتين متساويتان
شبه المثلث		شكل رباعي فيه ضلعان فقط متوازيان	---	فيه ضلعين فقط متوازيين	---





وزارة التعليم
Ministry of Education

الدرس : محيط الدائرة



ألمسي الايقونة ليتم تحويلك لمحتوى الدرس
التشويقية



استكشاف محيط الدائرة



اختبار قصير



بطاقات المفاهيم للدرس



شرح الأستاذ خالد المالكي



شرح الأستاذة منال التويجري



أمل المطيري





وزارة التعليم
Ministry of Education

نشاط تفاعلي



اختبار قصير



بطاقات المفاهيم للدرس



أمل المطيري



الدرس مساحة
متوازي الأضلاع



أمسي الايقونة ليتم تحويلك لمحتوى الدرس

التشويق



شرح الأستاذ خالد المالكي



شرح الأستاذة منال التويجري





وزارة التعليم
Ministry of Education


استكشاف مساحة المثلث



اختبار قصير



بطاقات المفاهيم للدرس



الدرس :
مساحة المثلث



ألمسي الايقونة ليتم تحويلك لمحتوى الدرس

التشويقة



شرح الأستاذ خالد المالكي



شرح الأستاذة منال التويجري



أمل المطيري





وزارة التعليم
Ministry of Education

الدرس : حجم المنشور الرباعي



ألمسي الايقونة ليتم تحويلك لمحتوى الدرس

التشويقة




نشاط تفاعلي



اختبار قصير



بطاقات المفاهيم للدرس



شرح الأستاذ خالد المالكي



شرح الأستاذة منال التويجري



أمل المطيري





الدرس : مساحة سطح المنشور

ألمسي الايقونة ليتم تحويلك لمحتوى الدرس

التشويقة



شرح الأستاذ خالد المالكي



شرح الأستاذ عبدالله القرني



قناة

رياضيات ابتدائي ومتوسط

شرح الأستاذ

عبدالله سالم القرني



توضيح بصري

اختبار قصير



بطاقات المفاهيم للدرس



مساحة سطح المنشور الرباعي

مساحة السطح = طول \times عرض \times سم

مساحة السطح (1) = $3 \times 5 = 15$ سم²

مساحة السطح (2) = $3 \times 5 = 15$ سم²

مساحة السطح (3) = $5 \times 6 = 30$ سم²

مساحة السطح (4) = $5 \times 6 = 30$ سم²

مساحة السطح (5) = $3 \times 6 = 18$ سم²

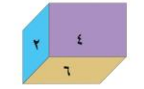
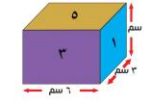
مساحة السطح (6) = $3 \times 6 = 18$ سم²

النتج النهائي

مساحة سطح المنشور الرباعي = $30 + 30 + 18 + 18 = 96$ سم²



وزارة التعليم
Ministry of Education



أمل المطيري