

تم تحميل هذا الملف من موقع المناهج السعودية



موقع المناهج المنهاج السعودي

*للحصول على أوراق عمل لجميع الصفوف وجميع المواد اضغط هنا

<https://www.almanahj.com/sa>

* للحصول على أوراق عمل لجميع مواد الصف السادس اضغط هنا

<https://almanahj.com/sa/6>

* للحصول على جميع أوراق الصف السادس في مادة علوم ولجميع الفصول, اضغط هنا

<https://almanahj.com/sa/6science>

* للحصول على أوراق عمل لجميع مواد الصف السادس في مادة علوم الخاصة بـ الفصل الثاني اضغط هنا

<https://www.almanahj.com/sa/6science2>

* لتحميل كتب جميع المواد في جميع الفصول للـ الصف السادس اضغط هنا

<https://www.almanahj.com/sa/grade6>

للحصول على جميع روابط الصفوف على تلغرام وفيسبوك من قنوات وصفحات: اضغط هنا

<https://t.me/sacourse>

بسم الله الرحمن الرحيم

الصف/السادس الابتدائي

المادة/علوم .

الموضوع/ نظام الأرض والشمس

التاريخ/.....

الاسم/.....

الحصة/.....

أكمل

المنظار الفلكي هو

خط التاريخ الدولي هو


الفوهات هي

منطقة التوقيت المعيارى هي


الكون هو

توقيع ولي الأمر :

.....



لم تتقن



أتقنت

توقيع المعلمة:

.....

بسم الله الرحمن الرحيم

الصف/السادس الابتدائي

المادة/علوم .

الموضوع/ نظام الأرض والشمس والقمر

التاريخ/.....

الاسم/.....

الحصة/.....

: تخيري الإجابة الصحيحة مما بين القوسين فيما يأتي :

3- شكل القمر الذي نراه في السماء ليلا يسمّى

كسوف الشمس

خسوف القمر

طور القمر

2- يحدث بسبب التجاذب بين الأرض والقمر.

الكسوف

الخسوف

المد والجزر

3- هي قوة شدّ أو سحب تنشأ بين جميع الأجسام.


الكسوف

الجاذبية


المد والجزر

توقيع ولي الأمر :

.....



لم تتقن



أتقنت

توقيع المعلمة:

.....

بسم الله الرحمن الرحيم

المادة/ علوم .
الصف/ السادس الابتدائي

الموضوع/ النظام الشمسي

التاريخ/

الاسم/

الحصة/

: تخيري الإجابة الصحيحة مما بين القوسين فيما يأتي :

2- جسمٌ كرويٌّ كبيرٌ يدور حول نجم .

الشمس

القمر

الكوكب

2- أجرام صغيرة نسبيا، ذات طبيعة صخرية
فلزية، تتحرك في مدارات حول الشمس..

النيازك

الكويكبات

الشهاب

3- إذا لم يحترق الشهاب كاملا، ووصل جزء منه إلى الأرض فإنه
يسمى


شها

نيزكا


مذنبا

توقيع ولي الأمر :

.....



لم تتقن



أتقنت

توقيع المعلمة:

.....

بسم الله الرحمن الرحيم

المادة/علوم .
الصف/السادس الابتدائي

الموضوع : النجوم والمجرات

التاريخ/.....

الاسم/.....

الحصة/.....

أكملي كلا مما يأتي :


السنة الضوئية

هي

الشمس

هي

توقيع ولي الأمر :



لم تتقن



أتقنت

توقيع المعلمة:

بسم الله الرحمن الرحيم

الصف/السادس الابتدائي

المادة/علوم

الموضوع / الخصائص الفيزيائية للمادة

التاريخ/.....

الاسم/.....

الحصة/.....

أكملي كلا مما يأتي :

الكتلة

هي

الكثافة

هي

الوزن

هو

توقيع ولي الأمر :

.....



لم تتقن



أتقنت

توقيع المعلمة:

.....

بسم الله الرحمن الرحيم

الصف/السادس الابتدائي

المادة/علوم

الموضوع / الماء والمخاليط

التاريخ/.....

الاسم/.....

الحصة/.....

: أكتبى كلمة (صح) أو (خطأ) أمام العبارات التالية :


1- المخلوط مادتان أو أكثر تمتزجان معا ، ولا تكونان مادة جديدة .

2- المعلق مخلوط مكون من أجزاء ينفصل بعضها عن بعض مع مرور الوقت إذا ترك المخلوط ساكناً.


3- الغروي مخلوط غير متجانس تكون فيه دقائق مادة مشتتة خلال مادة أخرى ، مسببة منع مرور الضوء من خلاله.

4- المستحلب مخلوط يتكوّن من سائلين يذوبان و يمتزجان معا.

توقيع ولي الأمر :
.....



لم تتقن



أتقنت

توقيع المعلمة:
.....

بسم الله الرحمن الرحيم

الصف/السادس الابتدائي

المادة/علوم

الموضوع / التغيرات الكيميائية

التاريخ/.....

الاسم/.....

الحصة/.....

أكملي

التغير الكيميائي هو

التفاعلات الماصة للطاقة هي


التفاعلات الطاردة للطاقة هي

الكواشف هي


الأحماض هي

توقيع ولي الأمر :

.....



لم تتقن



أتقنت

توقيع المعلمة:

.....

بسم الله الرحمن الرحيم

الصف/السادس الابتدائي

المادة/علوم .

الموضوع/ الحركة

التاريخ/.....

الاسم/.....

الحصة/.....

: تخيري الإجابة الصحيحة مما بين القوسين فيما يأتي :

1-..... هو المكان الذي يوجد فيه الجسم .

الموقع

السرعة

الحركة

3-..... هو التغير في سرعة الجسم أو اتجاه حركته أو كليهما في وحدة الزمن .

السرعة

التسارع

الحركة

3-..... مقدار التغير في موقع الجسم خلال الزمن.


الموقع

السرعة


الحركة

توقيع ولي الأمر :

.....



لم تتقن



أتقنت

توقيع المعلمة:

.....

بسم الله الرحمن الرحيم

الصف/السادس الابتدائي

المادة/علوم

الموضوع / القوى والحركة

التاريخ/.....

الاسم/.....

الحصة/.....

أكملي كلا مما يأتي :

القوة

هي

الإحتكاك

هو

القوى المتزنة

هي

توقيع ولي الأمر :

.....



لم تتقن



أتقنت

توقيع المعلمة:

.....

بسم الله الرحمن الرحيم

الصف/السادس الابتدائي

المادة/علوم

الموضوع / الكهرباء

التاريخ/.....

الاسم/.....

الحصة/.....

: أكتبى كلمة (صح) أو (خطأ) أمام العبارات التالية :

1- الكهرباء الساكنة. هي تراكم جسيمات مشحونة على سطوح الأجسام.


2- يسمّى سريان الكهرباء في موصلّ الدائرة الكهربائية.

س : كيف تستخدم الكهرباء بطريقة آمنة ؟


.....
.....
.....
.....
.....

توقيع ولي الأمر :

.....



لم تتقن



أتقنت

توقيع المعلمة:

.....

بسم الله الرحمن الرحيم

الصف/السادس الابتدائي .

المادة / علوم

الموضوع / المغناطيسية

التاريخ /

الاسم /

الحصة /

عرفى كلام من :

الرفع المغناطيسى

هو

.....
.....
.....
.....
.....

المغناطيس

هو


.....
.....
.....
.....
.....

س : كيف يمكن للمغناطيسات أن تولد الكهرباء ؟


.....
.....
.....
.....

توقيع ولي الأمر :

.....



لم تتقن



أتقنت

توقيع المعلمة:

.....