

ورقة عمل أولى لدرس الكهرباء



تم تحميل هذا الملف من موقع المناهج السعودية

موقع المناهج ← المناهج السعودية ← الصف السادس ← علوم ← الفصل الثالث ← ملفات متنوعة ← الملف

تاريخ إضافة الملف على موقع المناهج: 14:08:19 2025-05-07

ملفات اكتب للمعلم اكتب للطالب | اختبارات الكترونية | اختبارات | حلول | عروض بوربوينت | أوراق عمل
منهج انجليزي | ملخصات وتقارير | مذكرات وبنوك | الامتحان النهائي | للمدرس

المزيد من مادة
علوم:

إعداد: سمية العباد

التواصل الاجتماعي بحسب الصف السادس



صفحة المناهج
السعودية على
فيسبوك

الرياضيات

اللغة الانجليزية

اللغة العربية

التربية الاسلامية

المواد على تلغرام

المزيد من الملفات بحسب الصف السادس والمادة علوم في الفصل الثالث

إجابة الاختبار الفكري للفصل الثالث

1

نموذج اختبار منتصف الفصل من دون حل

2

عرض بوربوينت كيف يمكن فصل المخاليط

3

مراجعة الفصل التاسع الخصائص الفيزيائية للمادة الماء والمخاليط

4

عرض بوربوينت لدرس المركبات والتغيرات الكيميائية

5

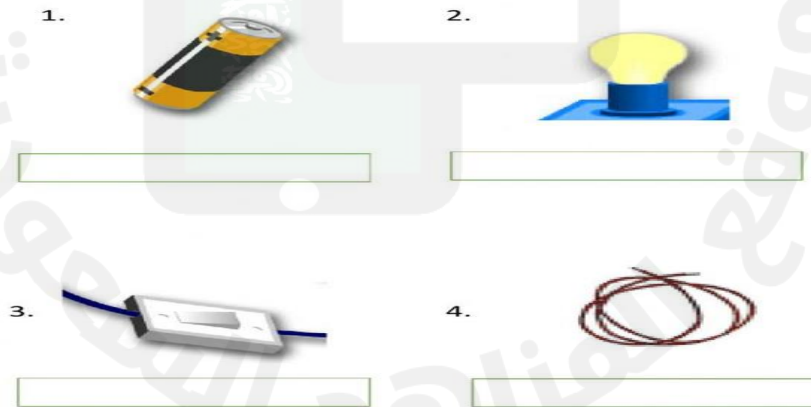
أوراق علوم الصف السادس - الكهرباء

ضع رمز الكلمة أمام الوصف الذي يمثلها :

- أ. دائرة كهربائية ب. تيار كهربائي ج. التأريض ج. كهرباء ساكنة
د. مقاومة كهربائية هـ. مفتاح كهربائي

- (١) أداة تفتح الدائرة الكهربائية أو تغلقها .
(٢) تراكم جسيمات مشحونة على سطوح الأجسام
(٣) مسار مغلق يسري التيار الكهربائي من خلاله
(٤) جزء من الدائرة الكهربائية يقاوم مرور التيار الكهربائي
(٥) مرور الشحنات الكهربائية خلال موصل
(٦) منع تراكم الشحنات الكهربائية الزائدة على الأجسام
بوصلها بجسم موصل كبير




سمي كل جزء من الدائرة الكهربائية التي أمامك



إعداد المعلمة / سمية العباد

أوراق علوم الصف السادس - الكهرباء

اتعرف أجزاء الدائرة الكهربائية :

رمز الأداة	الصورة	في الواقع
		
		
		
		

إعداد المعلمة: سميه العباد