

شكراً لتحميلك هذا الملف من موقع المناهج السعودية



اختبار نهائي الدور الأول

[موقع المناهج](#) ⇨ [المناهج السعودية](#) ⇨ [الصف السادس](#) ⇨ [علوم](#) ⇨ [الفصل الثاني](#) ⇨ [الملف](#)

تاريخ نشر الملف على موقع المناهج: 10:56:32 2023-01-28

التواصل الاجتماعي بحسب الصف السادس



المزيد من الملفات بحسب الصف السادس والمادة علوم في الفصل الثاني

نموذج إجابة اختبار الأستاذ أوبراكان	1
نموذج إجابة اختبار نهائي الدور الأول	2
اختبار نهائي الدور الأول	3
شرح درس الماء والمخاليط	4
إجابة اختبار منتصف الفصل	5

السؤال الأول :

(أ) اكتب اسم المصطلح العلمي المناسب من بين الأقواس أمام الجمل التالية :

المصطلحات / (المنتجات، -الكون، -التربة، -المجموعة النجمية، -المنظار الفلكي، -المنطقة الحيوية):

- 1- تجمع النجوم الي يأخذ شكلا معيناً في السماء (.....)
- 2- كل ما هو موجود ومن ذلك الأرض والكواكب والنجوم والفضاء (.....)
- 3- الجهاز الذي يجمع الضوء ويكبر الصور (.....)
- 4- قدرة المخلوق الحي على إنتاج الغذاء بنفسه (.....)
- 5- منطقة من الأرض لها مناخ محدد تحوي أنواعاً معينة من المخلوقات الحية (.....)
- 6- خليط من فئات الصخور وأجزاء النباتات ومخلوقات ميتة (.....)

(ب) عددي اثنان فقط من كل من :

1- بعض خصائص النجوم ؟ 1-..... و 2-.....

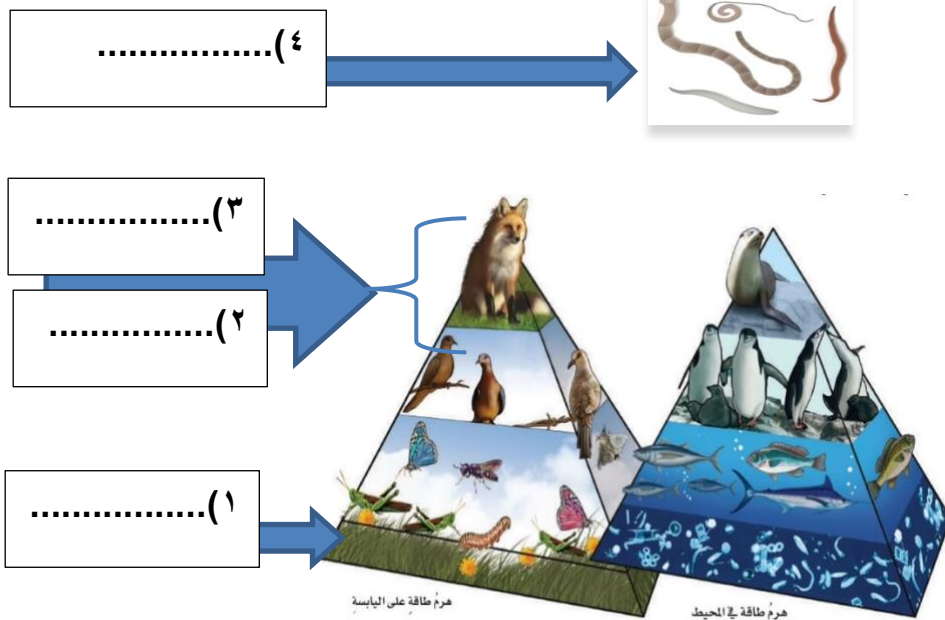
2- عددي بعض الأدوات التي يستخدمها العلماء لدراسة الكون ؟

1-..... و 2-.....

3- من الطرق للمحافظة على التربة ؟ 1-..... و 2-.....

(ج) أقرأ الصورة التالية ثم أجبني عن المطلوب :

هذه الصورة تمثل نموذج يسمى هرم الطاقة يوضح مستويات الطاقة
حددي ما بين الأقواس بالترتيب على الصورة من القاعدة وحتى القمة مستويات هرم الطاقة ؟
(المنتجات ، المستهلكات ١ آكلات لحوم ، والمستهلكات ٢ آكلات أعشاب ، المحلات)



السؤال الثاني :

(أ) ضع علامة (✓) أمام العبارات الصحيحة وعلامة (x) أمام العبارات الخاطئة : ..

(.....)	1- عندما تقع الأرض بين الشمس والقمر وتلقي بظلها عليه يحدث خسوف القمر
(.....)	2- دورة الأرض اليومية تستغرق شهرا
(.....)	3- يستطيع الإنسان العيش على سطح القمر
(.....)	4- المفترسات مخلوقات حية تصطاد وتقتل مخلوقات حية أخرى للحصول على الغذاء
(.....)	5- من القواعد الثلاثة لترشيد وحماية موارد البيئة التخلص من النفايات والبلاستيك ودفنها في التربة
(.....)	6- من موارد الطاقة المتجددة الشمس والرياح والماء

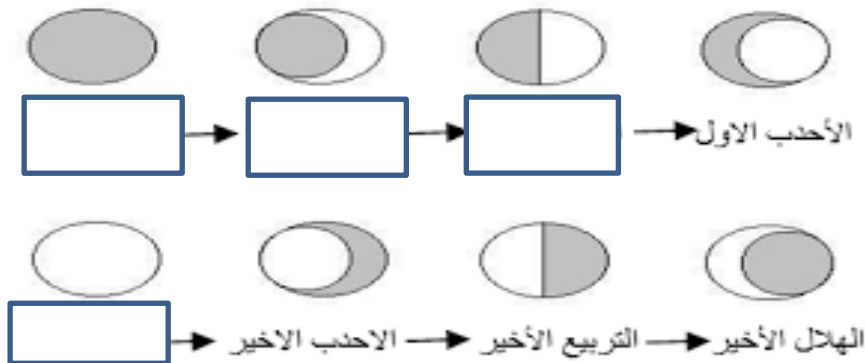
(ب) قارنى بين كل من :

أوجه المقارنة	الكواكب الداخلية	الكواكب الخارجية
الأقرب إلى الشمس		
عدد الأقمار		
الحجم		

(ج) تتبعى أطوار القمر ومن ثم أجبى عن المطلوب :

أطوار القمر ١ - ماسبب التغير فى أوجه القمر؟

٢ - سمى بعض من الأطوار التى تظهر لك على الرسم تحتها؟



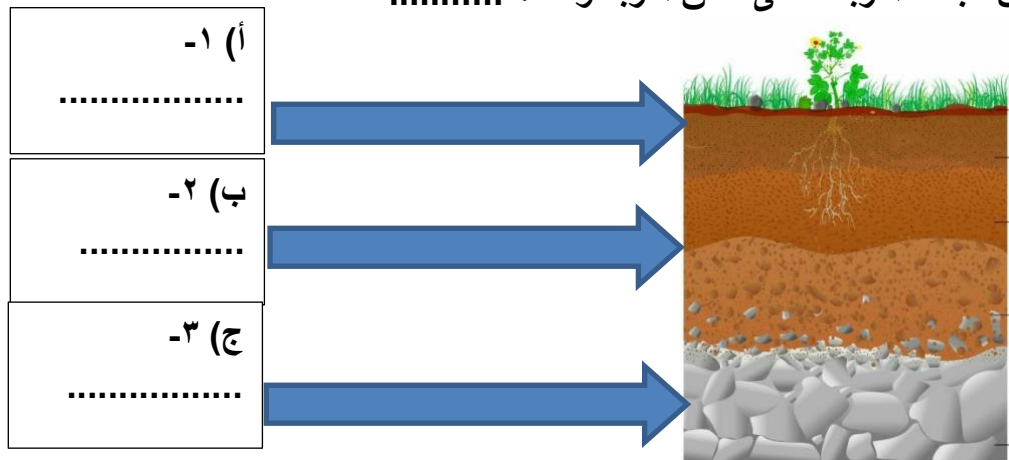
السؤال الثالث أ) اختاري الاجابة الصحيحة بوضع دائرة عليها:

- 1- الخط الوهمي الذي يصل بين قطبي الأرض وتدور حوله :
(أ. خط التاريخ الدولي - ب. محور الأرض - ج. الظل - د. خط الإستواء)
- 2- متوسط الحالة الجوية في منطقة جغرافية معينة خلال فترة زمنية طويلة
(أ. المناخ -- ب. المحيط -- ج. الارتفاع -- د. خط الطول)
- 3- أي ممايلي ليس من معالم سطح القمر....:
(أ. الجبال -- ب. الأودية -- ج. الفوهات -- د. المحيطات)
- 4- لأي المناطق الحيوية تنسب أرض وطنك المملكة العربية السعودية
(أ. التايجا-- ب. التندرا -- ج. الصحراء -- د. الغابات المتساقطة الأوراق)
- 5- أي ممايلي ليس من أشكال المجرات :
(أ. اللولبي -- ب. غيرمنتظم -- ج. إهليجي بيضاوي -- د. المربع)
- 6- الأجرام التي تدور حول الكواكب:
(أ. الأقمار -- ب. النجوم -- ج. الكويكبات -- د. المذنبات)

ب) ضعِي الرقم المناسب من العمود (أ) مع ما يناسبه أمام العمود (ب) :

أ	ب
1- جسم صخري يدخل الغلاف الجوي للأرض	دورة الأرض السنوية حول الشمس
2- أجرام صخرية صغيرة تصطدم بسطح الأرض	دورة الأرض اليومية حول محورها
3- تنشأ الحركة الظاهرية للشمس بسبب	النيازك
4- سبب حدوث الفصول الأربعة	الشهب
	السديم

ج) رتبِي بالأرقام على الصورة نطاقات التربة ؟ (تربة سطحية ، تربة تحت سطحية ، صخور التجوية)
كل من طبقات التربة تسمى نطاق التربة وعددها..... نطاقات



المادة : علوم	الدور : الأول	الصف : السادس /	زمن الإجابة : ساعتين
---------------	---------------	-----------------	----------------------