

## شكراً لتحميلك هذا الملف من موقع المناهج السعودية



## أوراق عمل مفيدة

[موقع المناهج](#) ← [المناهج السعودية](#) ← [الصف الخامس](#) ← [اجتماعيات](#) ← [الفصل الثالث](#) ← [الملف](#)

## التواصل الاجتماعي بحسب الصف الخامس



## روابط مواد الصف الخامس على تلغرام

[الرياضيات](#)

[اللغة الانجليزية](#)

[اللغة العربية](#)

[التربية الاسلامية](#)

## المزيد من الملفات بحسب الصف الخامس والمادة اجتماعيات في الفصل الثالث

[نماذج اختبارات نهائية مع نماذج الإجابة](#)

1

[مراجعة نهائية غير محلولة](#)

2

[أسئلة مراجعة تعزيز المهارات](#)

3

[مجموعة اختبارات نهائية مع نماذج الإجابة](#)

4

[اختبار نهائي قابل للتعديل](#)

5



بسم الله الرحمن الرحيم

ورقة عمل درس ( تاريخ الخرائط وتطورها )

اسم الطالب : ..... الصف : خامس / .....

س / ما المقصود بالخريطة ؟

ج / .....

س / ضع علامة ( √ ) أمام العبارة الصحيحة وعلامة ( × ) أمام العبارة الخاطئة فيما يلي :

- ١ - يذكر المؤرخون أن الإنسان عرف الخرائط قبل معرفة الكتابة
- ٢ - كان البابليون في العراق والفرعون في مصر من أوائل من رسم الخرائط
- ٣ - أنشأ العالم المسلم محمد الإدريسي أول خريطة عالمية صحيحة مبنية وفق الأصول العلمية

س / اذكر اثنين من الفروق بين الخريطة الورقية والخريطة الرقمية :

- ١- .....
- ٢- .....

alManahj.com/sa



بسم الله الرحمن الرحيم

ورقة عمل درس ( تاريخ الخرائط وتطورها )

اسم الطالب : ..... الصف : خامس / .....

س / ما المقصود بالخريطة ؟

ج / .....

س / ضع علامة ( √ ) أمام العبارة الصحيحة وعلامة ( × ) أمام العبارة الخاطئة فيما يلي :

- ١ - يذكر المؤرخون أن الإنسان عرف الخرائط قبل معرفة الكتابة
- ٢ - كان البابليون في العراق والفرعون في مصر من أوائل من رسم الخرائط
- ٣ - أنشأ العالم المسلم محمد الإدريسي أول خريطة عالمية صحيحة مبنية وفق الأصول العلمية

س / اذكر اثنين من الفروق بين الخريطة الورقية والخريطة الرقمية :

- ١- .....
- ٢- .....



بسم الله الرحمن الرحيم

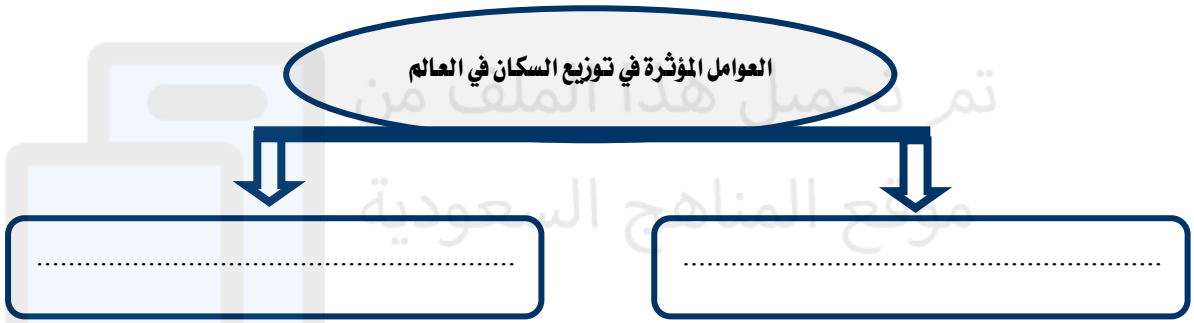
ورقة عمل درس ( السكان )

اسم الطالب : ..... / الصف : خامس / .....

س / اختر الاجابة الصحيحة من بين الأقواس فيما يلي :

- ١ - يتوزع السكان توزيعاً  
٢ - أكثر سكان العالم يسكن في قارة  
٣ - يقل عدد السكان في قارة  
٢ - أكثر سكان العالم يسكن في قارة
- ( منتظماً - متفاوت - متساوي )  
( أفريقيا - آسيا - أوروبا )  
( آسيا - استراليا - افريقيا )  
( أفريقيا - آسيا - أوروبا )

س / اذكر العوامل المؤثرة في توزيع السكان في العالم ؟



alManahj.com/sa



بسم الله الرحمن الرحيم

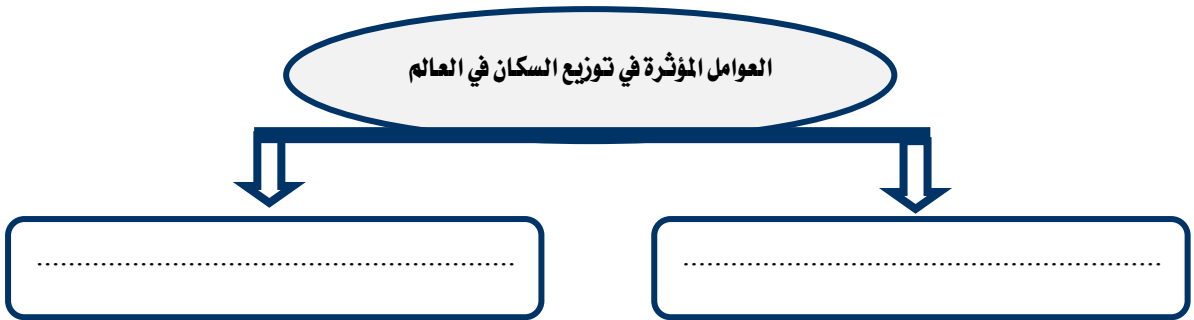
ورقة عمل درس ( السكان )

اسم الطالب : ..... / الصف : خامس / .....

س / اختر الاجابة الصحيحة من بين الأقواس فيما يلي :

- ١ - يتوزع السكان توزيعاً  
٢ - أكثر سكان العالم يسكن في قارة  
٣ - يقل عدد السكان في قارة  
٢ - أكثر سكان العالم يسكن في قارة
- ( منتظماً - متفاوت - متساوي )  
( أفريقيا - آسيا - أوروبا )  
( آسيا - استراليا - افريقيا )  
( أفريقيا - آسيا - أوروبا )

س / اذكر العوامل المؤثرة في توزيع السكان في العالم ؟



سم الله الرحمن الرحيم

ورقة عمل درس ( توزيع السكان – العوامل الطبيعية : التضاريس والمياه )

اسم الطالب : ..... الصف : خامس / .....

س / اكمل الفراغات التالية بما يناسب ؟

- يكثر السكان في ..... و ..... غير الوعرة ، في حين ..... وجود السكان  
كلما زاد ..... التضاريس وزادت وعورتها .

س / تنقسم مصادر المياه إلى قسمين اذكرها؟



س / ما مناطق المائية في وطني المملكة العربية السعودية الجاذبة للسكان ؟

ج / .....

سم الله الرحمن الرحيم

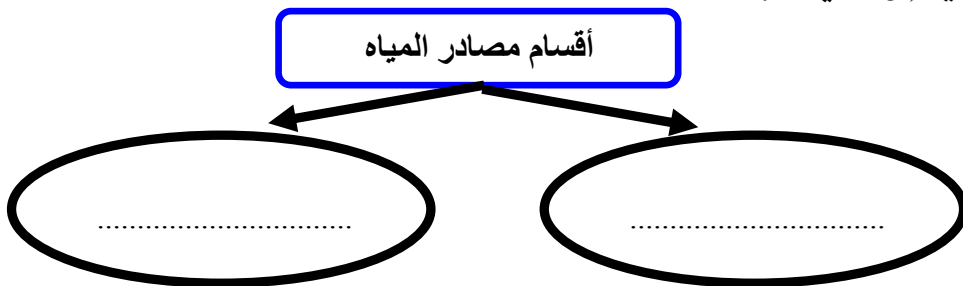
ورقة عمل درس ( توزيع السكان – العوامل الطبيعية : التضاريس والمياه )

اسم الطالب : ..... الصف : خامس / .....

س / اكمل الفراغات التالية بما يناسب ؟

- يكثر السكان في ..... و ..... غير الوعرة ، في حين ..... وجود السكان  
كلما زاد ..... التضاريس وزادت وعورتها .

س / تنقسم مصادر المياه إلى قسمين اذكرها؟



س / ما مناطق المائية في وطني المملكة العربية السعودية الجاذبة للسكان ؟

ج / .....



بسم الله الرحمن الرحيم

ورقة عمل درس ( توزيع السكان – العوامل الطبيعية : المناخ والموارد )

اسم الطالب : ..... الصف : خامس / .....

س / ضع علامة ( √ ) أمام العبارة الصحيحة وعلامة ( × ) أمام العبارة الخاطئة فيما يلي :

- ١ – تزداد الكثافة السكانية في المناطق القطبية
- ٢ – تنقل الكثافة السكانية في الصحارى الحارة
- ٣ – يبتعد الإنسان عن المناطق الاستوائية بسبب ارتفاع رطوبة الجو

س / تنقسم الموارد الطبيعية إلى قسمين أذكرها؟

١ / .....  
٢ / .....

alManahj.com/sa



بسم الله الرحمن الرحيم

ورقة عمل درس ( توزيع السكان – العوامل الطبيعية : المناخ والموارد )

اسم الطالب : ..... الصف : خامس / .....

س / ضع علامة ( √ ) أمام العبارة الصحيحة وعلامة ( × ) أمام العبارة الخاطئة فيما يلي :

- ١ – تزداد الكثافة السكانية في المناطق القطبية
- ٢ – تنقل الكثافة السكانية في الصحارى الحارة
- ٣ – يبتعد الإنسان عن المناطق الاستوائية بسبب ارتفاع رطوبة الجو

س / تنقسم الموارد الطبيعية إلى قسمين أذكرها؟

١ / .....  
٢ / .....

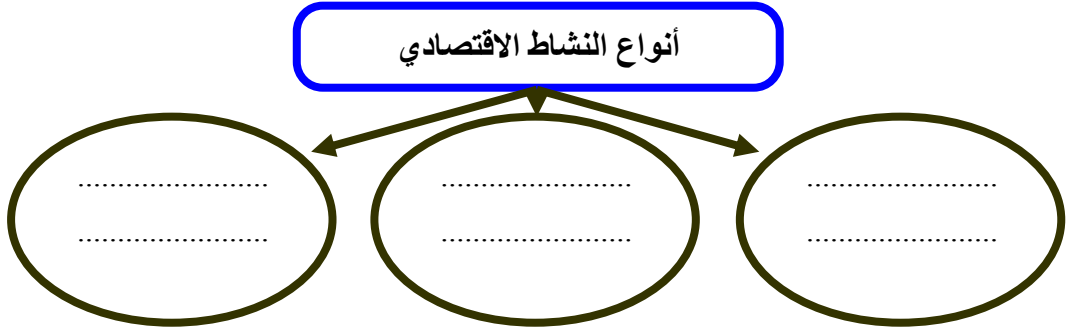


بسم الله الرحمن الرحيم

ورقة عمل درس ( توزيع السكان – العوامل البشرية )

اسم الطالب : ..... الصف : خامس / .....

س / ينقسم النشاط الاقتصادي الى ثلاثة أنواع اذكرها ؟



س / ضع علامة ( √ ) أمام العبارة الصحيحة وعلامة ( × ) أمام العبارة الخاطئة فيما يلي :

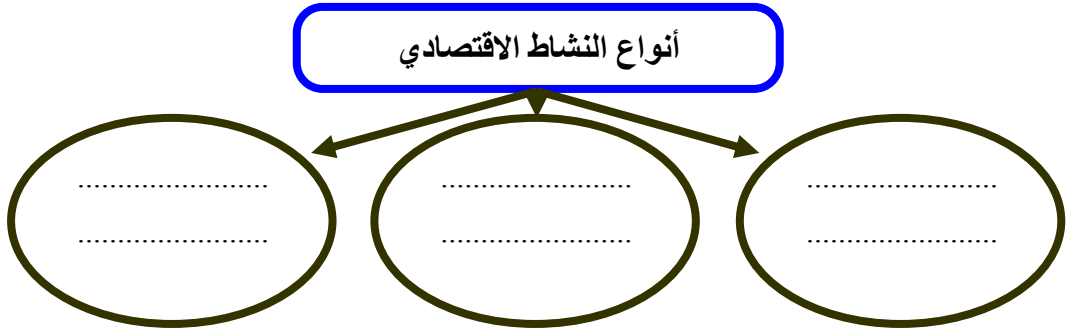
- ١ – النشاط الاقتصادي هو الاعمال والجهود التي يؤديها الإنسان ؛ لتلبية احتياجاته الأساسية
- ٢ – تعد النزاعات والحروب أحد أهم العوامل المؤثرة في توزيع السكان
- ٣ – الأمن سبب رئيسي في استقرار السكان وجذبهم

بسم الله الرحمن الرحيم

ورقة عمل درس ( توزيع السكان – العوامل البشرية )

اسم الطالب : ..... الصف : خامس / .....

س / ينقسم النشاط الاقتصادي الى ثلاثة أنواع اذكرها ؟



س / ضع علامة ( √ ) أمام العبارة الصحيحة وعلامة ( × ) أمام العبارة الخاطئة فيما يلي :

- ١ – النشاط الاقتصادي هو الاعمال والجهود التي يؤديها الإنسان ؛ لتلبية احتياجاته الأساسية
- ٢ – تعد النزاعات والحروب أحد أهم العوامل المؤثرة في توزيع السكان
- ٣ – الأمن سبب رئيسي في استقرار السكان وجذبهم

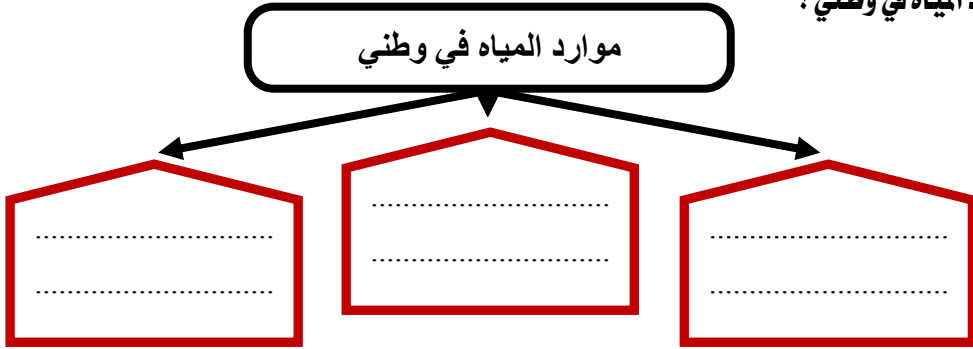


بسم الله الرحمن الرحيم

ورقة عمل درس ( المياه )

اسم الطالب : ..... الصف : خامس / .....

س / اذكر موارد المياه في وطني ؟



س / ما واجبنا تجاه نعمة المياه ؟

ج / .....  
تدر تحميل هذا الملف من

س / كيف نحافظ على الثروة المائية :

١- .....  
موقع المناهج السعودية

٢- .....

alManahj.com/sa

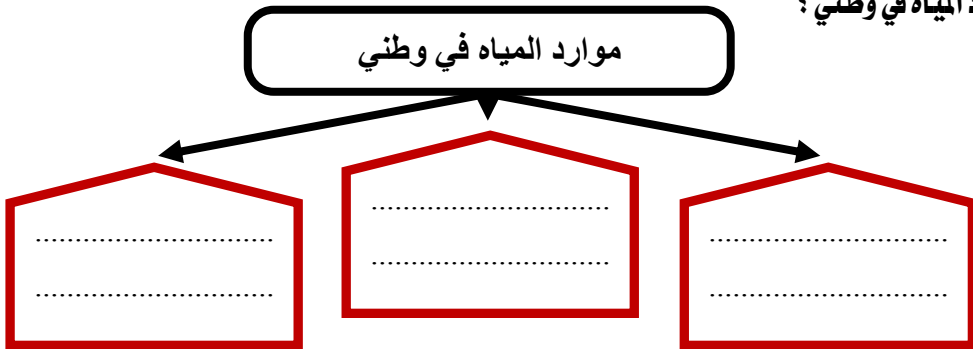


بسم الله الرحمن الرحيم

ورقة عمل درس ( المياه )

اسم الطالب : ..... الصف : خامس / .....

س / اذكر موارد المياه في وطني ؟



س / ما واجبنا تجاه نعمة المياه ؟

ج / .....

س / كيف نحافظ على الثروة المائية :

١- .....

٢- .....

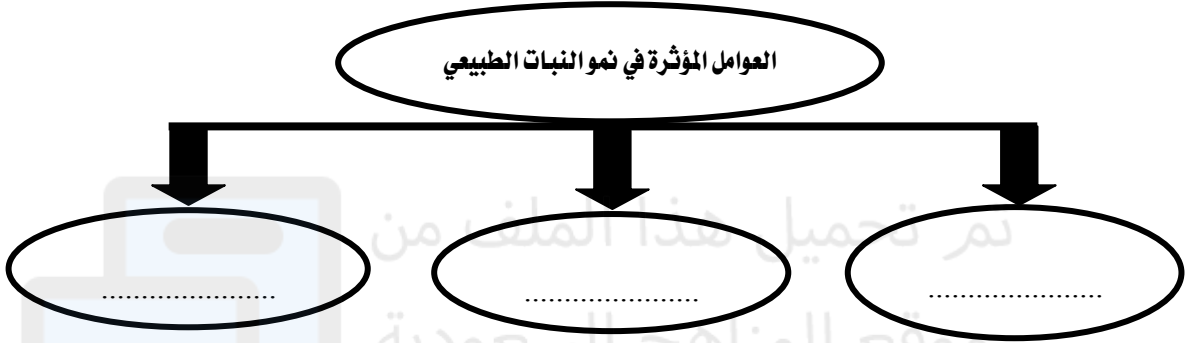


بسم الله الرحمن الرحيم  
ورقة عمل درس ( النباتات الطبيعي )

اسم الطالب : ..... الصف : خامس / .....

س / تتأثر النباتات الطبيعية في وطني المملكة العربية السعودية بأحواله المناخية ؛ لذا تتنوع إلى نوعين اذكرهما :

س / اذكر العوامل المؤثرة في نمو النباتات الطبيعي :



س / اذكر أسماء نباتات تنمو في منطقتك ؟

ج / .....

alManahj.com/sa

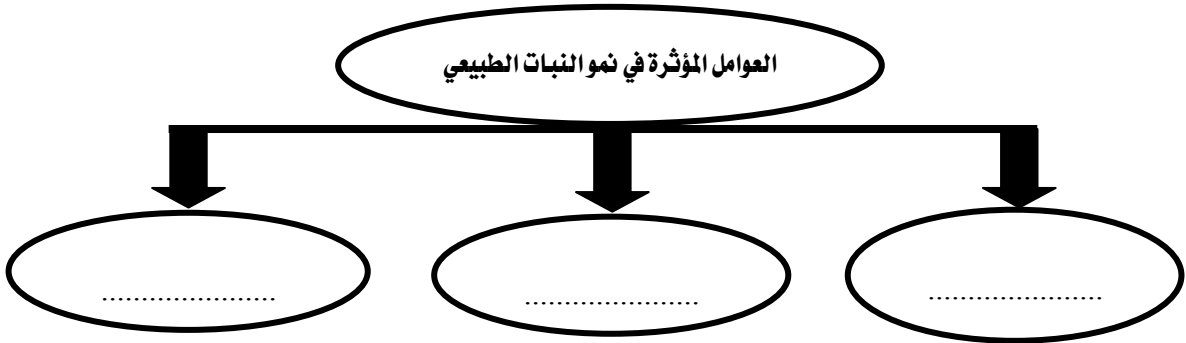


بسم الله الرحمن الرحيم  
ورقة عمل درس ( النباتات الطبيعي )

اسم الطالب : ..... الصف : خامس / .....

س / تتأثر النباتات الطبيعية في وطني المملكة العربية السعودية بأحواله المناخية ؛ لذا تتنوع إلى نوعين اذكرهما :

س / اذكر العوامل المؤثرة في نمو النباتات الطبيعي :



س / اذكر أسماء نباتات تنمو في منطقتك ؟

ج / .....

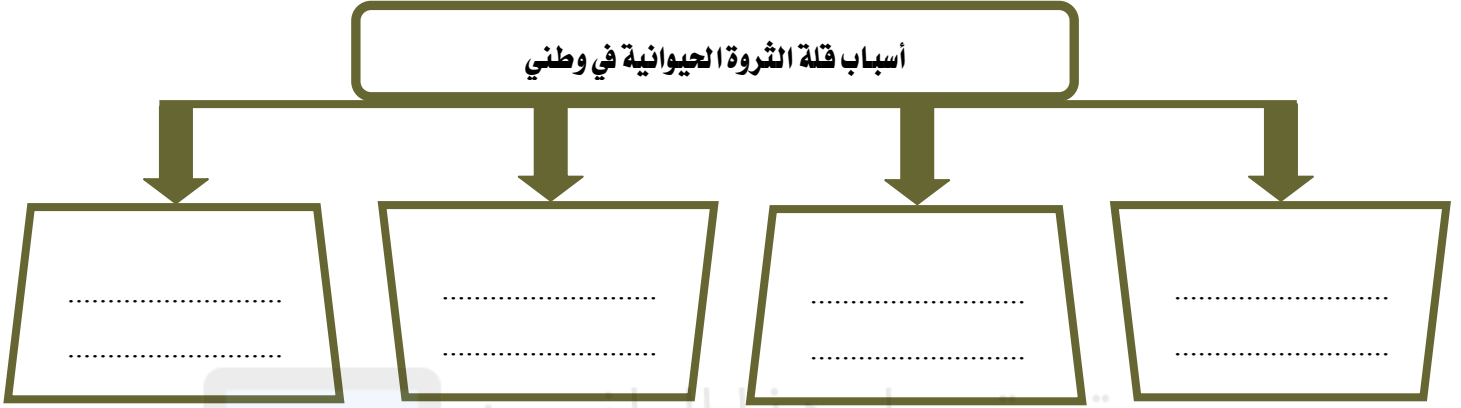




بسم الله الرحمن الرحيم  
ورقة عمل درس ( الثروة الحيوانية )

اسم الطالب : ..... / الصف : خامس / .....

س / اذكر أسباب قلة الثروة الحيوانية في وطني المملكة العربية السعودية ؟



س / اذكر أسباب تنمية الثروة الحيوانية ؟

٤

٣

٢

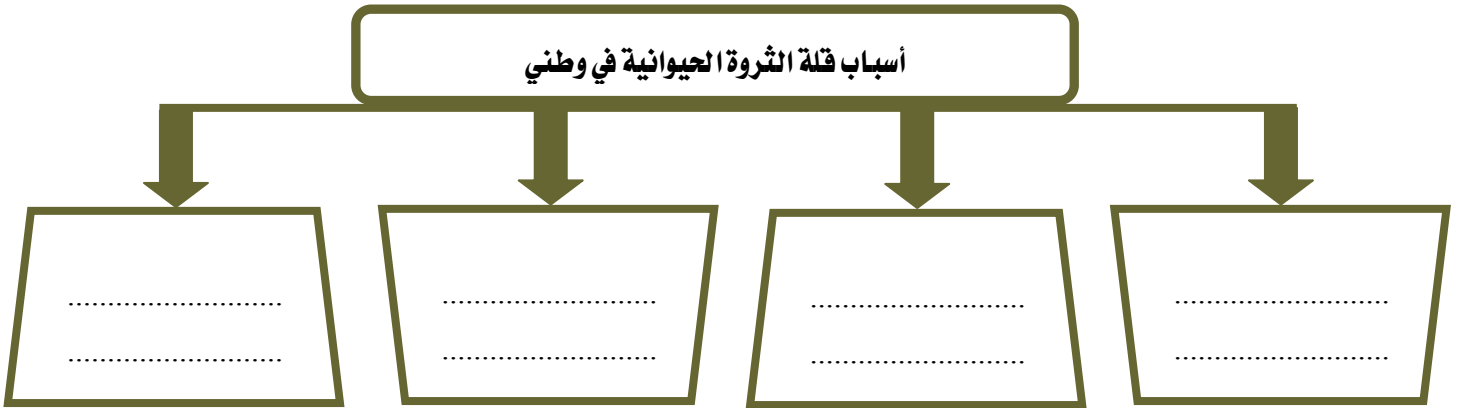
١



بسم الله الرحمن الرحيم  
ورقة عمل درس ( الثروة الحيوانية )

اسم الطالب : ..... / الصف : خامس / .....

س / اذكر أسباب قلة الثروة الحيوانية في وطني المملكة العربية السعودية ؟



س / اذكر أسباب تنمية الثروة الحيوانية ؟

٤

٣

٢

١



بسم الله الرحمن الرحيم  
ورقة عمل درس ( النفط والمعادن )

اسم الطالب : ..... الصف : خامس / .....

س / أكمل الفراغات التالية بما يناسب :

- أ - يعد النفط من أهم الموارد في وطني المملكة العربية السعودية حيث يأتي في المركز ..... عالمياً في الاحتياط منه
- ب - يعد حقل الغوار أكبر حقل نفطي ..... في العالم ،
- كما يعد حقل السفانية أكبر حقل نفطي ..... في العالم
- ج - معظم حقول النفط في وطني المملكة العربية السعودية هي في المنطقة .....

س / اذكر ثلاثة من أهم المعادن في وطني المملكة العربية السعودية :

أهم المعادن في وطني

.....

.....

.....

alManahj.com/sa



بسم الله الرحمن الرحيم  
ورقة عمل درس ( النفط والمعادن )

اسم الطالب : ..... الصف : خامس / .....

س / أكمل الفراغات التالية بما يناسب :

- أ - يعد النفط من أهم الموارد في وطني المملكة العربية السعودية حيث يأتي في المركز ..... عالمياً في الاحتياط منه
- ب - يعد حقل الغوار أكبر حقل نفطي ..... في العالم ،
- كما يعد حقل السفانية أكبر حقل نفطي ..... في العالم
- ج - معظم حقول النفط في وطني المملكة العربية السعودية هي في المنطقة .....

س / اذكر ثلاثة من أهم المعادن في وطني المملكة العربية السعودية :

أهم المعادن في وطني

.....

.....

.....



بسم الله الرحمن الرحيم  
ورقة عمل درس ( الزراعة والرعي )

اسم الطالب : ..... / الصف : خامس / .....

س / اختر الاجابة الصحيحة من بين الأقواس فيما يلي :

- ١ - تأتي الزراعة في الصدارة بين ( الأنشطة الاجتماعية - الأنشطة السكانية - الأنشطة الاقتصادية )  
٢ - من عوامل نجاح الزراعة ( الرمال - البحار - الأراضي الصالحة للزراعة )

س / ما أهم مشكلة تواجه الزراعة في وطني المملكة العربية السعودية ؟

ج / .....

س / اذكر اسباب تراجع حرفة الرعي في وطني المملكة العربية السعودية :

١- ..... بم تحميل هذا الملف من

٢- ..... موقع المناهج السعودية

٣- .....

alManahj.com/sa



بسم الله الرحمن الرحيم  
ورقة عمل درس ( الزراعة والرعي )

اسم الطالب : ..... / الصف : خامس / .....

س / اختر الاجابة الصحيحة من بين الأقواس فيما يلي :

- ١ - تأتي الزراعة في الصدارة بين ( الأنشطة الاجتماعية - الأنشطة السكانية - الأنشطة الاقتصادية )  
٢ - من عوامل نجاح الزراعة ( الرمال - البحار - الأراضي الصالحة للزراعة )

س / ما أهم مشكلة تواجه الزراعة في وطني المملكة العربية السعودية ؟

ج / .....

س / اذكر اسباب تراجع حرفة الرعي في وطني المملكة العربية السعودية :

١- .....

٢- .....

٣- .....



بسم الله الرحمن الرحيم

ورقة عمل درس ( الصناعة والتجارة والخدمات )

اسم الطالب : ..... الصف : خامس / .....

س / ما المقصود بالصناعة؟

/ ج

س / عدد أهم مقومات الصناعة ؟

أهم مقومات الصناعة

..... .....	..... .....	..... .....	..... .....	..... .....	..... .....
----------------	----------------	----------------	----------------	----------------	----------------

س / عدد أربعة من أهم الصناعات في وطني المملكة العربية السعودية :

ج / ١ - ..... ٢ - ..... ٣ - ..... ٤ - .....

س / تنقسم التجارة إلى نوعين أذكرهما ؟

أنواع التجارة

.....	.....
-------	-------



بسم الله الرحمن الرحيم

ورقة عمل درس ( الصناعة والتجارة والخدمات )

اسم الطالب : ..... الصف : خامس / .....

س / ما المقصود بالصناعة؟

/ ج

س / عدد أهم مقومات الصناعة ؟

أهم مقومات الصناعة

..... .....	..... .....	..... .....	..... .....	..... .....	..... .....
----------------	----------------	----------------	----------------	----------------	----------------

س / عدد أربعة من أهم الصناعات في وطني المملكة العربية السعودية :

ج / ١ - ..... ٢ - ..... ٣ - ..... ٤ - .....

س / تنقسم التجارة إلى نوعين أذكرهما ؟

أنواع التجارة

.....	.....
-------	-------