

ورقة عمل نموذجين بورقة واحدة



تم تحميل هذا الملف من موقع المناهج السعودية

موقع المناهج ← المناهج السعودية ← الصف الخامس ← رياضيات ← الفصل الثالث ← ملفات متنوعة ← الملف

تاريخ إضافة الملف على موقع المناهج: 20:07:26 2025-05-08

ملفات اكتب للمعلم اكتب للطالب ا اختبارات الكترونية ا اختبارات ا حلول ا عروض بوربوينت ا أوراق عمل
منهج انجليزي ا ملخصات وتقارير ا مذكرات وبنوك ا الامتحان النهائي ا للمدرس

المزيد من مادة
رياضيات:

التواصل الاجتماعي بحسب الصف الخامس



صفحة المناهج
السعودية على
فيسبوك

الرياضيات

اللغة الانجليزية

اللغة العربية

التربية الاسلامية

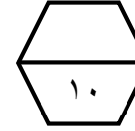
المواد على تلغرام

المزيد من الملفات بحسب الصف الخامس والمادة رياضيات في الفصل الثالث

نموذج إجابة ورقة عمل الأسبوع الثامن	1
ورقة عمل الأسبوع الثامن نموذج بورقة واحدة	2
اختبارات فترية محلولة	3
الإجابة على اختبار الفصل التاسع جمع الكسور وطرحها	4
اختبار الفصل التاسع جمع الكسور وطرحها 1446هـ	5

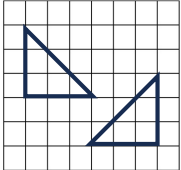
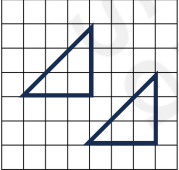
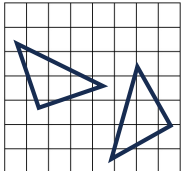
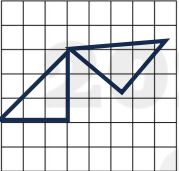
اسم الطالب /

ورقة عمل (الأسبوع الثامن) للصف الخامس الابتدائي الفصل الدراسي الثالث للعام الدراسي ١٤٤٦ هـ



المهارات
الانعكاس في المستوى الاحداثي
الدوران في المستوى الاحداثي

ضع علامة (√) أمام العبارة الصحيحة وعلامة (x) أمام العبارة الخاطئة :		
١	أ	يسمى قلب شكل هندسي حول مستقيم والحصول على صورة مرآة لهذا الشكل انعكاسا
	ب	يسمى تدوير شكل هندسي حول نقطة دورانا

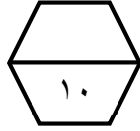
ما الشكل الذي يمثل انسحابا ؟	
(أ)	
(ب)	
(ج)	
(د)	

ما هو التحويل الهندسي الحاصل على حرف E						
٣	أ	دوران	ب	انعكاس	ج	انسحاب

ابو ندي

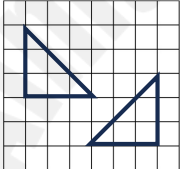
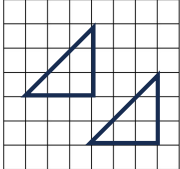
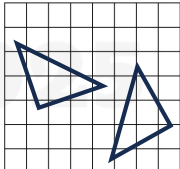

اسم الطالب /

ورقة عمل (الأسبوع الثامن) للصف الخامس الابتدائي الفصل الدراسي الثالث للعام الدراسي ١٤٤٦ هـ



المهارات
الانعكاس في المستوى الاحداثي
الدوران في المستوى الاحداثي

ضع علامة (√) أمام العبارة الصحيحة وعلامة (x) أمام العبارة الخاطئة :		
١	أ	يسمى قلب شكل هندسي حول مستقيم والحصول على صورة مرآة لهذا الشكل انعكاسا
	ب	يسمى تدوير شكل هندسي حول نقطة دورانا

ما الشكل الذي يمثل انسحابا ؟	
٢	(أ) 
	(ب) 
	(ج) 
	(د) 

ما هو التحويل الهندسي الحاصل على حرف E						
٣	أ	دوران	ب	انعكاس	ج	انسحاب

ابو ندي