

## نموذج الحل للاختبار النهائي



### تم تحميل هذا الملف من موقع المناهج السعودية

موقع المناهج ← المناهج السعودية ← الصف الخامس ← علوم ← الفصل الثالث ← ملفات متنوعة ← الملف

تاريخ إضافة الملف على موقع المناهج: 07:48:04 2025-05-21

ملفات اكتب للمعلم اكتب للطالب | اختبارات الكترونية | اختبارات | حلول | عروض بوربوينت | أوراق عمل  
منهج انجليزي | ملخصات وتقارير | مذكرات وبنوك | الامتحان النهائي | للمدرس

المزيد من مادة  
علوم:

### التواصل الاجتماعي بحسب الصف الخامس



صفحة المناهج  
السعودية على  
فيسبوك

الرياضيات

اللغة الانجليزية

اللغة العربية

التربية الاسلامية

المواد على تلغرام

### المزيد من الملفات بحسب الصف الخامس والمادة علوم في الفصل الثالث

أهداف المعرفة والاستدلال والتطبيق للوحدات

1

أسئلة اختبار نهائي 1446هـ

2

اختبار نهائي الدور الأول 1446هـ مرفق بالإجابات


3

عرض بوربوينت لفصل الضوء والصوت

4

أسئلة مراجعة شاملة مع الحل

5



## اختبار نهاية الفصل الدراسي الثالث

مادة العلوم للصف الخامس ابتدائي ( الدور الأول)

للعام الدراسي ١٤٤٥ هـ



اسم الطالبة : ..... رقم الجلوس : .....

رقم السؤال	الدرجة رقماً	الدرجة كتابةً	المصححة	المراجعة	المدققة
السؤال الأول (١٠)			أتمم الفراغ		
السؤال الثاني (٢٠)					
السؤال الثالث (١٠)					
مجموع الدرجات					



أعمل بصمت ودع النجاح يحدث الضجيج

work hard in silence, let success make the noise

## السؤال الأول (اختار الإجابة الصحيحة):



١٠

١- الآلة البسيطة التي تدخل في صناعة المصعد الكهربائي هي:

أ	الإسفين	ب	البيكرة	ج	السطح المائل	د	الرافعة
---	---------	---	---------	---	--------------	---	---------

٢- اصغر وحدة في العنصر تحمل صفاته:

أ	المركب	ب	الجزء	ج	الذرة	د	العنصر
---	--------	---	-------	---	-------	---	--------

٣- أي التغيرات التالية تغير فيزيائي:

أ	حرق الخشب	ب	تعفن الفاكهة	ج	انصهار الجليد	د	احتراق الشمعة
---	-----------	---	--------------	---	---------------	---	---------------

٤- يمثل الشكل التالي:



أ	ذرة	ب	جزء	ج	مركب	د	نيوترونات
---	-----	---	-----	---	------	---	-----------

٥- أي التغيرات التالية تغير كيميائي:

أ	ذوبان الجليد	ب	تمزق القماش	ج	حرق الخشب	د	قطع الخشب
---	--------------	---	-------------	---	-----------	---	-----------

٦- يبين التفاعل الكيميائي في الشكل المجاور تكون:

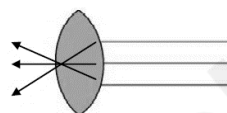


أ	المخلوط	ب	العنصر	ج	المركب	د	الفلز
---	---------	---	--------	---	--------	---	-------

٧- درجة غليان الماء هي:

أ	٥٠	ب	صفر	ج	١٠٠	د	٧٠
---	----	---	-----	---	-----	---	----

٨- يمثل الشكل المجاور:



أ	عدسة مستوية	ب	عدسة مقعرة	ج	عدسة محدبة	د	سبيكة
---	-------------	---	------------	---	------------	---	-------

٩- أي العناصر التالية تعد الأكثر في الجدول الدوري:

أ	الفلزات	ب	اللافلزات	ج	اشباه الفلزات	د	العناصر
---	---------	---	-----------	---	---------------	---	---------

١٠- يقاس كلاً من الشغل والطاقة بوحدة:

أ	نيوتن	ب	الجول	ج	كيلوجرام	د	المتر
---	-------	---	-------	---	----------	---	-------



## السؤال الثاني أ- ( أضع المصطلحات التالية في مكانها المناسب):



موجة صوتية

الاله البسيطة

التمدد الحراري

الطاقة

الشغل

التسامي

العنصر

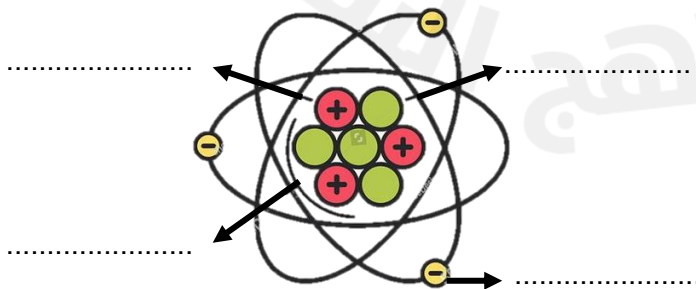
المقدرة على انجاز شغل ما .	(١) .....
تحول المادة من الحالة الصلبة الى الحالة الغازية مباشرة دون المرور بالحالة السائلة.	(٢) .....
مادة نقية لا يمكن تجزئتها الى أجزاء ابسط.	(٣) .....
القوة المبذولة لتحريك جسم ما مسافة معينة.	(٤) .....
سلسلة التضاعطات والتخلخلات المنتقلة خلال مادة ما.	(٥) .....
زيادة حجم المادة نتيجة الارتفاع في درجة الحرارة.	(٦) .....

## ب- ( أضع علامة ✓ او ✗ امام العبارات التالية) :



(١) الفلزات موصله جيدة للحرارة والكهرباء.	<input type="radio"/>
(٢) يستعمل الكلور للقضاء على البكتيريا.	<input type="radio"/>
(٣) من مؤشرات حدوث التفاعل الكيميائي تصاعد الغازات.	<input type="radio"/>
(٤) اثناء سقوط كرة من ارتفاع معين فإنها تكتسب طاقة ضوئية.	<input type="radio"/>
(٥) ينتقل الصوت في الفضاء الخارجي.	<input type="radio"/>
(٦) الطاقة لا تفنى ولا تستحدث ولكنها تتحول من شكل الى اخر.	<input type="radio"/>
(٧) رتب العالم مندليف العناصر من الاخف الى الاثقل.	<input type="radio"/>
(٨) تكون سرعة الأصوات اكبر في المواد السائلة.	<input type="radio"/>
(٩) اللافلزات قابلة للطرق والتشكيل.	<input type="radio"/>
(١٠) الطاقة الموجودة في الروابط بين ذرات المادة وجزئياتها هي طاقة مغناطيسية	<input type="radio"/>

## ج- ( اضع الكلمات التالية في مكانها المناسب):

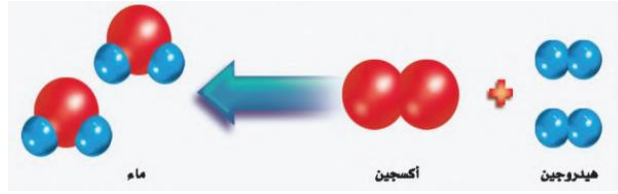


النواة

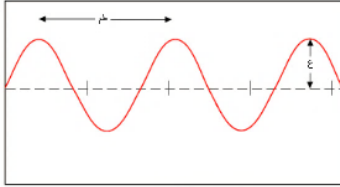
الكترن

بروتون


نيوترون



- ١- المواد المتفاعلة هي .....
- ٢- المواد الناتجة هي .....



- ٣- ..... هو المسافة بين قممتين او قاعين متتالين للموجة.
- ٤- يحدث ..... بسبب انعكاس الموجات الصوتية.
- ٥- الاجسام المعتمدة هي .....
- ٦- من امثلة الفلزات ..... و .....



- ٧- يمثل الشكل المجاور من امثلة النوع ..... من الرافعة.
- ٨- طول ذراع المقاومة في الرافعة .....
- ٩- طول ذراع القوة في الرافعة .....



الشخص الوحيد الذي يمكن ان يقرر نجاحك هو أنت

انتهت الأسئلة

دعواتي لكن بالتوفيق والنجاح

المعلمة: أمل الزهراني