

تم تحميل هذا الملف من موقع المناهج السعودية



موقع المناهج السعودي

* للحصول على أوراق عمل لجميع الصفوف وجميع المواد اضغط هنا

<https://www.almanahj.com/sa>

* للحصول على أوراق عمل لجميع مواد الصف الخامس اضغط هنا

<https://almanahj.com/sa/5>

* للحصول على أوراق الصف الخامس في مادة رياضيات ولجميع الفصول, اضغط هنا

<https://almanahj.com/sa/5math>

* للحصول على أوراق عمل لجميع مواد الصف الخامس في مادة رياضيات الخاصة بالفصل الأول اضغط هنا

<https://www.almanahj.com/sa/5math1>

* لتحميل كتب جميع المواد في جميع الفصول للصف الخامس اضغط هنا

<https://www.almanahj.com/sa/grade5>

للحصول على جميع روابط الصفوف على تلغرام وفيسبوك من قنوات وصفحات: اضغط هنا

<https://t.me/sacourse>

الصف/ الخامس الابتدائي

المادة/رياضيات.
الموضوع/القيمة المنزلية ضمن البلايين

التاريخ/.....

الاسم/.....

الحصة/.....

- سمي منزلة الرقم الذي تحته خط في كل
مما يأتي. ثم اكتب قيمته.

- 657230
15389000



.....

.....

.....

.....

.....

.....

.....

الموضوع/المقارنه بين الاعداد

التاريخ/.....

الاسم/.....

الحصة/.....

غير مجتازة

متمكنة

متقدمة

متفوقة

غير متقن أقل من 80 %

متقن المعيار من 80% إلى أقل من 90%

متقن المعيار من 90% إلى أقل من 100%

متقن المعيار 100%

معلمة المادة/.....

- يبلغ طول نهر النيل
6825 كلم. وطول نهر
الفرات 2700 كلم. أي
النهرين أطول؟

.....
.....
.....
.....
.....

غير مجتازة

متمكنة

متقدمة

متفوقة

غير متمكن أقل من 80 %

متمكن المعيار من 80% إلى أقل من 90%

متمكن المعيار من 90% إلى أقل من 100%


متمكن المعيار 100%

..... / معلمة المادة

الصف/الخامس الابتدائي.

المادة/رياضيات.
الموضوع/تمثيل الكسور العشرية
التاريخ/.....
الاسم/.....
الحصة/.....

- يمثل الماء سبعة أعشار وزن جسم الإنسان
اكتبي هذا الكسر على صورة كسر عشري.



غير مجتازة

متمكنة

متقدمة

متفوقة

غير متمكن أقل من 80 %

متمكن المعيار من 80% إلى أقل من 90%

متمكن المعيار من 90% إلى أقل من 100%

متمكن المعيار 100%

معلمة المادة/.....

الصف/الخامس الابتدائي


المادة/رياضيات.

الموضوع/القيمة المنزلية ضمن أجزاء الألف.

التاريخ/.....

الاسم/.....

الحصة/.....



- سمي منزلة الرقم
الذي تحته خط في
كل مما يأتي. ثم
اكتب قيمته.

9.56

4.072

وعلي كل خطوة في

الحل

الحل



غير مجتازة

متمكنة

متقدمة

متفوقة

غير متمكن أقل من 80 %

متمكن المعيار من 80% إلى أقل من 90%

متمكن المعيار من 90% إلى أقل من 100%

متمكن المعيار 100%

معلمة المادة/.....

الصف/الخامس الابتدائي

المادة/رياضيات.
الموضوع/مقارنة الكسور العشرية
التاريخ/.....
الاسم/.....
الحصة/.....

- ضعني إحدى الإشارات
< أو > أو =

0.37.....0.39 4.1 4.4

5.10.....5.09 124.1.....124

0.0010.09

الصف/الأول المتوسط.

المادة/رياضيات.
الموضوع/ترتيب الأعداد والكسور العشرية
التاريخ/.....
الاسم/.....
الحصة/.....

غير مجتازة

متمكنة

متقدمة

متفوقة

غير متمكن أقل من 80 %

متمكن المعيار من 80% إلى أقل من 90%

متمكن المعيار من 90% إلى أقل من 100%

متمكن المعيار 100%

...../معلمة المادة/

رتبي المجموعات التالية من الأصغر إلى الأكبر

المسافات : 645 ، 590 ، 643 ، 567

كميات الأمتار 0.6 ، 1.58 ، 0.23 ، 1.9

غير مجتازة

متمكنة

متقدمة

متفوقة

غير متقن أقل من 80 %

متقن المعيار من 80% إلى أقل من 90%

متقن المعيار من 90% إلى أقل من 100%

متقن المعيار 100%

معلمة المادة/.....

الصف/الخامس الابتدائي

المادة/رياضيات.

الموضوع/تقريب الأعداد والكسور العشرية

التاريخ/.....

الاسم/.....

الحصة/.....

يبلغ سمك طبقة الجليد التي تغطي القارة
القطبية الجنوبية 2.14 كم. كم يبلغ
سمك هذه الطبقة مقرباً إلى أقرب جزء
من عشرة.

الحل:

.....
.....
.....



الصف/الخامس الابتدائي

المادة/رياضيات.

الموضوع/تقدير نواتج الجمع والطرح

التاريخ/.....

الاسم/.....

الحصة/.....

غير مجتازة

متمكنة

متقدمة

متفوقة

غير متقن أقل من 80 %

متقن المعيار من 80% إلى أقل من 90%

متقن المعيار من 90% إلى أقل من 100%

متقن المعيار 100%

معلمة المادة/.....

- مع صفاء 20 ريالاً إذا اشترت فستقاً بـ3.99 ريالاً
وحلوى بـ1.29 ريالاً ولوزاً بـ6.75 ريالاً فقدرى
المبلغ الذي يبقى معها وبينى خطوات الحل.

الحل:

.....
.....
.....

الصف/الخامس الابتدائي

المادة/رياضيات.

الموضوع/جمع الكسور العشرية وطرحها

التاريخ/.....

الاسم/.....

الحصة/.....

اجمعي $7.46 + 25$
 $1.64 + 3.008$



مفتوحة ممتدة ممتدة غير مفتوحة

متقن المعيار 100% متقن المعيار من 90% إلى أقل من 100% متقن المعيار من 80% إلى أقل من 90% غير متقن أقل من 80%

..... معلومة المادة/.....

الصف/الخامس الابتدائي

المادة/رياضيات.

الموضوع/خصائص الجمع


التاريخ/.....

الاسم/.....

الحصة/.....

- أنفق إبراهيم 2.50 ريال
ثمان عصير و1.24 ريال
ثمان مكسرات و3.76
ريالات ثمن خضار و5.5
ريالات ثمن حلوى.
استعملي الحساب الذهني
لإيجاد مجموع ما أنفقه
إبراهيم

الحل:



غير مجتازة

متمكنة

متقدمة

متفوقة

غير متمكن أقل من 80 %

متمكن المعيار من 80% إلى أقل من 90%

متمكن المعيار من 90% إلى أقل من 100%

متمكن المعيار 100%

معلمة المادة/.....

الصف/الخامس الابتدائي

المادة/رياضيات.

الموضوع/الجمع والطرح ذهنيا

التاريخ/.....


الاسم/.....

الحصة/.....

اجمعي أو اطرحي ذهنيا استعملي الموازنة

$$0000000 = 35 + 553$$

$$000000000 = 12.6 - 15.7$$



غير مجتازة

متمكنة

متقدمة

متفوقة

غير متمكن أقل من 80 %

متمكن المعيار من 80% إلى أقل من 90%

متمكن المعيار من 90% إلى أقل من 100%

متمكن المعيار 100%

معلمة المادة/.....

الصف/الخامس الابتدائي

المادة/رياضيات.
الموضوع/ أنماط الضرب
التاريخ/.....
الاسم/.....
الحصة/.....

$$= 100 \times 6$$

أوجدني ناتج الضرب ذهنيا:

000000000000

$$= 110 \times 70$$

00000000000000



الصف/الخامس الابتدائي

المادة/رياضيات.
الموضوع/ خاصية التوزيع
التاريخ/.....

غير مجتازة	متمكنة	متقدمة	متفوقة
<input type="checkbox"/> غير متقن أقل من 80 %	<input type="checkbox"/> متقن المعيار من 80% إلى أقل من 90%	<input type="checkbox"/> متقن المعيار من 90% إلى أقل من 100%	<input type="checkbox"/> متقن المعيار 100%
معلمة المادة/.....			

...../الاسم

...../الحصة

- وزعت المدرسة طرودا على 42 طالبا في كل
طردها 3 دفاتر وقلما رصاص.
كم دفاترا وقلما وزعت. استعملي خاصية التوزيع
وبيني خطوات الحل

غير مجتازة

متمكنة

متقدمة

متفوقة

غير متمكن أقل من 80 %

متمكن المعيار من 80% إلى أقل من 90%

متمكن المعيار من 90% إلى أقل من 100%

متمكن المعيار 100%

...../معلمة المادة

الصف/الخامس الابتدائي

المادة/رياضيات.
الموضوع/تقدير نواتج الضرب .
التاريخ/.....
الاسم/.....
الحصة/.....

اعيدي كتابة كل مما يأتي باستعمال
خاصية التوزيع ثم أوجد الناتج:

$\times 6$
 $(5+10)$
.....
3
 $(8+30) \times$
.....
 $(6+40) \times 7$

غير مجتازة

متمكنة

متقدمة

متفوقة

غير متمكن أقل من 80 %

متمكن المعيار من 80% إلى أقل من 90%

متمكن المعيار من 90% إلى أقل من 100%

متمكن المعيار 100%

..... معلمة المادة/

الصف/ الخامس الابتدائي

المادة/رياضيات.

الموضوع/ الضرب في عدد من رقم واحد

التاريخ/.....

الاسم/.....

الحصة/.....

- أوجدني ناتج:

$$= 2 \times 28$$

$$..... = 37 \times 6$$

.....

$$..... = 2 \times 326$$

$$..... = 3 \times 327$$

$$..... = 1 \times 328$$

$$..... = 3 \times 329$$

غير مجتازة

متمكنة

متقدمة

متفوقة

غير متقن أقل من 80 %

متقن المعيار من 80% إلى أقل من 90%

متقن المعيار من 90% إلى أقل من 100%

متقن المعيار 100%

معلمة المادة/.....

الصف/ الخامس الابتدائي

المادة/رياضيات.
الموضوع/الضرب في عدد من رقمين
التاريخ/.....
الاسم/.....
الحصة/.....

$$\dots = 73 \times 407$$

$$\dots = 65 \times 142$$

$$\dots = 54 \times 357$$

$$\dots = 84 \times 396$$



الصف/ الخامس الابتدائي

المادة/رياضيات.
الموضوع/خصائص الضرب
التاريخ/.....
الاسم/.....
الحصة/.....

غير مجتازة

حددني متفوقاً خاصية الضرب المستعملة في كل مما يأتي:

غير متقن أقل من 80 %

متقن المعيار من 80 % إلى أقل من 90 %

متقن المعيار من 90 % إلى أقل من 100 %

متقن المعيار 100 %

..... معلمة المادة/ (1) $(5 \times 4) \times 81 = 5 \times (4 \times 81)$

(2) $72 = 1 \times 72$

الحل:

الصف/الخامس الابتدائي

المادة/رياضيات.
الموضوع/أنماط القسمة
التاريخ/.....
الاسم/.....
الحصة/.....

غير مجتازة	متمكنة	متقدمة	متفوقة
<input type="checkbox"/> غير متقن أقل من 80 %	<input type="checkbox"/> متقن المعيار من 80% إلى أقل من 90%	<input type="checkbox"/> متقن المعيار من 90% إلى أقل من 100%	<input type="checkbox"/> متقن المعيار 100%
معلمة المادة/.....			


- جمع وائل 120 صورة لبعض معالم المملكة. إذا وضع كل
20 صورة في ألبوم ، فكم ألبوما يحتاج؟

.....

.....

.....

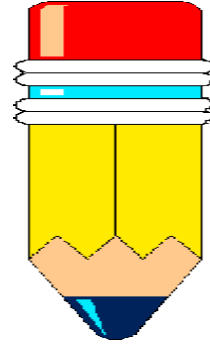
.....



غير مجتازة	متمكنة	متقدمة	متفوقة
<input type="checkbox"/> غير متقن أقل من 80 %	<input type="checkbox"/> متقن المعيار من 80% إلى أقل من 90%	<input type="checkbox"/> متقن المعيار من 90% إلى أقل من 100%	<input type="checkbox"/> متقن المعيار 100%
معلمة المادة/			

الصف/الخامس الابتدائي

المادة/رياضيات.
الموضوع/ تقدير نواتج القسمة
التاريخ/.....
الاسم/.....
الحصة/.....



استعملي 176 صماما في صناعة 8 سيارات عند تجميعها. كم
صماما تقريبا استعمل في كل سيارة. بيني خطوات الحل.

الحل

.....

.....

.....

.....

.....

.....

.....

الصف/الخامس الابتدائي

المادة/رياضيات.
الموضوع/ القسمة على عدد من رقم واحد
التاريخ/.....

غير مجتازة	متمكنة	متقدمة	متفوقة
<input type="checkbox"/> غير متمكن أقل من 80 %	<input type="checkbox"/> متمكن المعيار من 80% إلى أقل من 90%	<input type="checkbox"/> متمكن المعيار من 90% إلى أقل من 100%	<input type="checkbox"/> متمكن المعيار 100%
معلمة المادة/.....			

الاسم/.....
الحصة/.....

أنفقت عائلة من 4 أفراد 64 ريالاً ثمن
وجبات. إذا كانت الوجبات من النوع نفسه.
فما ثمن كل وجبة؟

الحل:

.....

غير مجتازة

متمكنة

متقدمة

متفوقة

غير متقن أقل من 80 %

متقن المعيار من 80% إلى أقل من 90%

متقن المعيار من 90% إلى أقل من 100%

متقن المعيار 100%

معلمة المادة/.....

الصف/ الخامس

المادة/رياضيات.

الابتدائي

الموضوع/القسمة على عدد من رقمين

التاريخ/.....

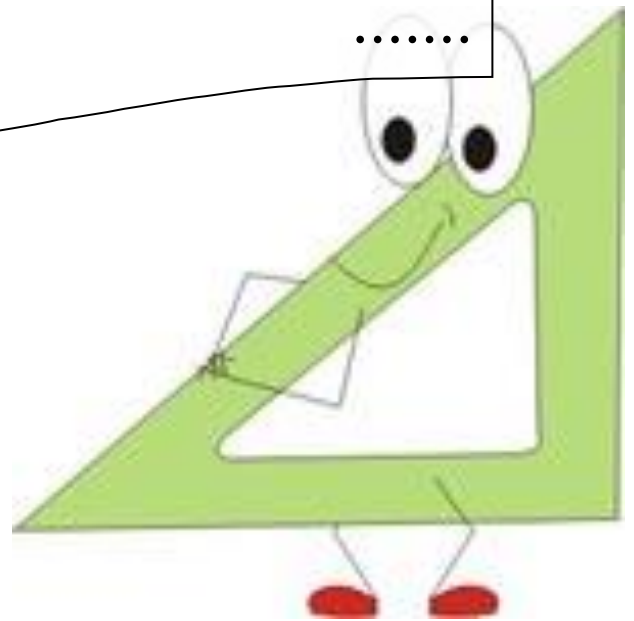
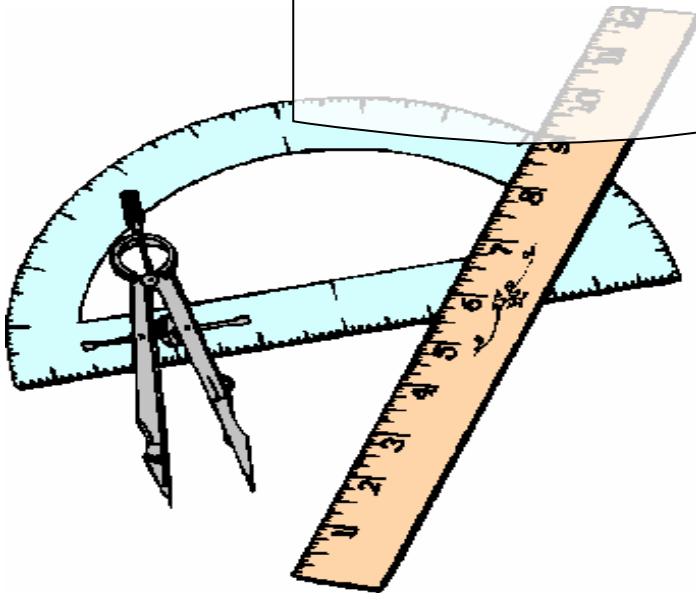
الاسم/.....

الحصة/.....

جمع بائع تذاكر مبلغ 990ريالا من
بيع تذاكر ثمن كل منها 15 ريالا. ما
عدد التذاكر التي بيعت؟

الحل:

.....
.....
.....



غير مجتازة

متمكنة

متقدمة

متفوقة

غير متقن أقل من 80 %

متقن المعيار من 80% إلى أقل من 90%

متقن المعيار من 90% إلى أقل من 100%

متقن المعيار 100%

...../ معلمة المادة

الصف/ الخامس

المادة/رياضيات.

الابتدائي

الموضوع/تفسير باقي القسمة .

التاريخ/.....

الاسم/.....

الحصة/.....


يراد إعطاء 10 أقلام
إلى 3 طلاب كم قلما
يأخذ كل طالب؟

.....

.....

.....

.....



غير مجتازة

متمكنة

متقدمة

متفوقة

غير متمكن أقل من 80 %

متمكن المعيار من 80% إلى أقل من 90%

متمكن المعيار من 90% إلى أقل من 100%

متمكن المعيار 100%

معلمة المادة/.....

الصف/الخامس

المادة/رياضيات.

الابتدائي

الموضوع/عبارات الجمع والطرح الجبرية

التاريخ/.....

الاسم/.....

الحصة/.....

أوجد قيمة كل عبارة مما يأتي ، إذا كانت $s = 7$ ، $v = 3$

- $5 + s$ - $10 + v$

$s - 7$

الحل:

غير مجتازة

متمكنة

متقدمة

متفوقة

غير متمكن أقل من 80 %

متمكن المعيار من 80% إلى أقل من 90%

متمكن المعيار من 90% إلى أقل من 100%

متمكن المعيار 100%

معلمة المادة/.....

الصف/الخامس

المادة/رياضيات.

الابتدائي

الموضوع/عبارات الضرب والقسمة الجبرية

التاريخ/.....

الاسم/.....

الحصة/.....

- يعمل سالم ساعتين ثلاث مرات في الأسبوع إذا تقاضى
أجرة قدرها 20 ريالاً في الساعة فكم يتقاضى في
الأسبوع؟

الحل:

.....
.....
.....
.....
.....
.....
.....
.....
.....

الصف/الخامس

المادة/رياضيات.

الابتدائي.

غير مجتازة

متمكنة

متقدمة

متفوقة

غير متمكن أقل من 80 %

متمكن المعيار من 80% إلى أقل من 90%

متمكن المعيار من 90% إلى أقل من 100%

متمكن المعيار 100%

..... / معلمة المادة

الموضوع/جداول الدوال

التاريخ/.....

الاسم/.....

الحصة/.....

- تريد لبنى أن تعلق صورة على جدار غرفتها فإذا كان طول الصورة 15 سم وعرضها 10 سم وكان للصورة إطار عرضه 2 سم فما المساحة التي تشغلها الصورة بإطارها؟

الحل:

الصف/الخامس

المادة/رياضيات.

الابتدائي

الموضوع/ترتيب العمليات

التاريخ/.....

الاسم/.....

الحصة/.....

غير مجتازة

متمكنة

متقدمة

متفوقة

غير متمكن أقل من 80 %

متمكن المعيار من 80% إلى أقل من 90%

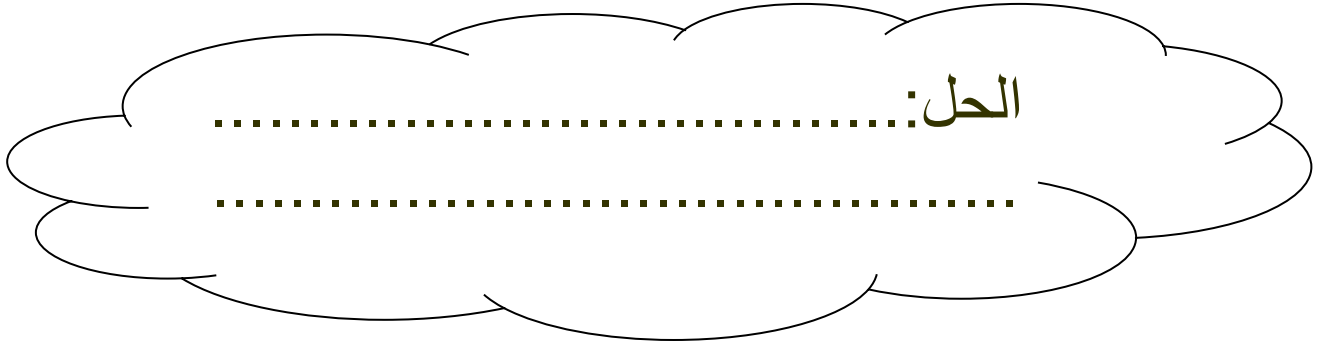
متمكن المعيار من 90% إلى أقل من 100%

متمكن المعيار 100%

معلمة المادة/.....

- أوجد قيمة كل عبارة مما يأتي:

$$(7+4) \times 2$$
$$(5-9) + (3 \div 15)$$



غير مجتازة	متمكنة	متقدمة	متفوقة
<input type="checkbox"/> غير متقن أقل من 80 %	<input type="checkbox"/> متقن المعيار من 80% إلى أقل من 90%	<input type="checkbox"/> متقن المعيار من 90% إلى أقل من 100%	<input type="checkbox"/> متقن المعيار 100%
معلمة المادة/			

الصف/الخامس

المادة/رياضيات.

الابتدائي

الموضوع/معادلات الجمع والطرح

التاريخ/.....

الاسم/.....

الحصة/.....

- اكتب معادلة ثم حلها لكل مما يأتي:

1- ما العدد الذي إذا أضيف إليه 5 كان الناتج 13؟

2- ناتج طرح 7 من عدد يساوي 15. ما العدد؟

الحل:

الصف/الخامس

المادة/رياضيات.

الابتدائي.

غير مجتازة

متمكنة

متقدمة

متفوقة

غير متمكن أقل من 80 %

متمكن المعيار من 80% إلى أقل من 90%

متمكن المعيار من 90% إلى أقل من 100%

متمكن المعيار 100%

معلمة المادة/.....

الموضوع/معادلات الضرب
التاريخ/.....
الاسم/.....
الحصة/.....

- باعت مريم 10 باقات من الزهور مقابل 50
ريالاً. اكتبى معادلة وحليها كي تجدي ثمن
الباقة الواحدة.
الحل:

.....
.....
.....
.....
.....
.....

غير مجتازة	متمكنة	متقدمة	متفوقة
<input type="checkbox"/> غير متقن أقل من 80 %	<input type="checkbox"/> متقن المعيار من 80% إلى أقل من 90%	<input type="checkbox"/> متقن المعيار من 90% إلى أقل من 100%	<input type="checkbox"/> متقن المعيار 100%
معلمة المادة/.....			

الصف/الخامس

المادة/رياضيات.

الابتدائي

الموضوع/ القسمة والكسور

التاريخ/.....

الاسم/.....

الحصة/.....

استعملت أربعة أمتار من القماش لصنع
خمسة قمصان صغيرة. كم مترا من القماش
استعمل في كل قميص؟

مثلي الموقف بكسر وحلي المسألة.

الحل:

.....

.....

.....

.....

الصف/الخامس

المادة/رياضيات.

الابتدائي

الموضوع/ الكسور غير الفعلية

التاريخ/.....

الاسم/.....

الحصة/.....

غير مجتازة

متمكنة

متقدمة

متفوقة

غير متمكن أقل من 80 %

متمكن المعيار من 80% إلى أقل من 90%

متمكن المعيار من 90% إلى أقل من 100%

متمكن المعيار 100%

معلمة المادة/.....

مثلي الموقف بكسر وحل المسألة.

- اقتسم ثمانية أشخاص 3 فطائر ، ما نصيب كل منهم؟
- اقتسم 9 طلاب 5 ورقات للرسم. ما نصيب كل منهم

الحل:

.....
.....
.....
.....

الصف/الخامس

المادة/رياضيات.

الابتدائي

الموضوع/ الأعداد الكسرية

التاريخ/.....

الاسم/.....

الحصة/.....

استعملي الاستدلال المنطقي لحل المسألتين الآتيتين.

- شحنة صناديق وزنها 40 كيلو جراما
تتكون من 8 صناديق متساوية في
الوزن. أوجدي وزن كل صندوق.

غير مجتازة

متمكنة

متقدمة

متفوقة

غير متمكن أقل من 80 %

متمكن المعيار من 80% إلى أقل من 90%

متمكن المعيار من 90% إلى أقل من 100%

متمكن المعيار 100%

.....
معلمة المادة/.....

الصف/الخامس

المادة/رياضيات.

الابتدائي

الموضوع/ الكسور على خط الأعداد

التاريخ/.....

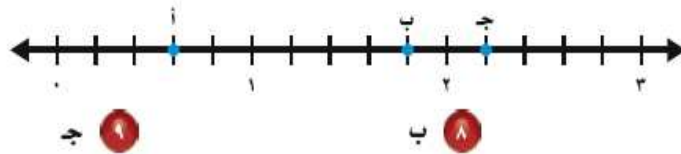
الاسم/.....

الحصة/.....

استبدل بإشارة > أو < لتكوين عبارة صحيحة في كُلِّ مما يأتي، استعمل خطَّ الأعداد عند الحاجة:

$\frac{15}{9}$ $2\frac{1}{9}$ $1\frac{2}{3}$ $1\frac{1}{3}$ $\frac{7}{7}$ $\frac{4}{7}$

اكتب الكسُر أو العدد الكسريّ الممثل بكلِّ نقطةٍ على خطِّ الأعداد الآتي:



غير محتازة

متمكنة

متقدمة

متفوقة

غير متقن أقل من 80%

متقن المعيار من 80% إلى أقل من 90%

متقن المعيار من 90% إلى أقل من 100%

متقن المعيار 100%

..... معلمة المادة/

الحل:

الصف/الخامس

المادة/رياضيات.

الابتدائي

الموضوع/ تقريب الكسور

التاريخ/.....

الاسم/.....

الحصة/.....

أوجدني إلى اقرب نصف متر ارتفاع أعلى
خزانة يمكن وضعها في قبو ارتفاع سقفه

$$\frac{1}{2} \text{ متر}$$

الحل:

غير مجتازة

متمكنة

متقدمة

متفوقة

غير متمكن أقل من 80 %

متمكن المعيار من 80% إلى أقل من 90%

متمكن المعيار من 90% إلى أقل من 100%

متمكن المعيار 100%

.....

.....