

تم تحميل هذا الملف من موقع المناهج السعودية



## موقع المناهج المنهاج السعودي

\* للحصول على أوراق عمل لجميع الصفوف وجميع المواد اضغط هنا

<https://www.almanahj.com/sa>

\* للحصول على أوراق عمل لجميع مواد الصف الرابع اضغط هنا

<https://almanahj.com/sa/4>

\* للحصول على جميع أوراق الصف الرابع في مادة رياضيات ولجميع الفصول, اضغط هنا

<https://almanahj.com/sa/4math>

\* للحصول على أوراق عمل لجميع مواد الصف الرابع في مادة رياضيات الخاصة بـ الفصل الثاني اضغط هنا

<https://www.almanahj.com/sa/4math2>

\* لتحميل كتب جميع المواد في جميع الفصول للـ الصف الرابع اضغط هنا

<https://www.almanahj.com/sa/grade4>

للحصول على جميع روابط الصفوف على تلغرام وفيسبوك من قنوات وصفحات: اضغط هنا

<https://t.me/sacourse>

المملكة العربية السعودية

وزارة التعليم

إدارة التعليم بمحافظات عسير

مدرسة الكسائي الابتدائية



الدرجة: \_\_\_\_\_

توقيع ولي الأمر :

### اختبار الفترة الأولى – الفصل الدراسي الثاني

الصف: الرابع الابتدائي

المادة: رياضيات

اسم الطالب: .....

السؤال الأول: اختر الإجابة الصحيحة في كل مما يأتي:

١ ( ) المقسوم عليه في الجملة التالية:  $٤ \div ٢٤ = ٤$  هو:

(أ) ٤	(ب) ٦	(ج) ٢٤	(د) ٤٦
-------	-------	--------	--------

٢ ( ) ناتج القسمة التالية:  $١٢٠٠٠ \div ٣ =$

(أ) ٤	(ب) ٤٠	(ج) ٤٠٠	(د) ٤٠٠٠
-------	--------	---------	----------

٣ ( ) الشكل الثلاثي الأبعاد الذي ليس له أوجه ولا رؤوس ولا أحرف يسمى:

(أ) مكعب	(ب) مخروط	(ج) كرة	(د) هرم
----------	-----------	---------	---------

٤ ( ) عدد رؤوس المكعب يساوي:

(أ) ٤	(ب) ٦	(ج) ٨	(د) ١٢
-------	-------	-------	--------




٥ ( ) يسمى هذا الشكل

(أ) هرم	(ب) منشور ثلاثي	(ج) منشور رباعي	(د) مخروط
---------	-----------------	-----------------	-----------



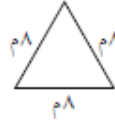
٦ ( ) يسمى المضلع المجاور

(أ) مثلث	(ب) رباعي	(ج) خماسي	(د) سداسي
----------	-----------	-----------	-----------

٧ ( ) تسمى الزاوية التالية :  زاوية :

(أ) حادة	(ب) قائمة	(ج) منفرجة	(د) مستقيمة
----------	-----------	------------	-------------

٨ ( المثلث التالي من حيث الأضلاع يسمى مثلثاً :



(أ) قائم الزاوية	(ب) متطابق الضلعين	(ج) متطابق الأضلاع	(د) مختلف الأضلاع
------------------	--------------------	--------------------	-------------------

٩ ( محيط الشكل التالي :  يساوي :

(أ) ٧ م	(ب) ١٠ م	(ج) ١٢ م	(د) ١٤ م
---------	----------	----------	----------

١٠ ( مربع طول ضلعه ٣ سم، فإن مساحته تساوي :

(أ) ٣ سم <sup>٢</sup>	(ب) ٦ سم <sup>٢</sup>	(ج) ٩ سم <sup>٢</sup>	(د) ١٢ سم <sup>٢</sup>
-----------------------	-----------------------	-----------------------	------------------------

١١ ( الوحدة الأنسب لقياس المسافة بين مكة المكرمة والرياض هي :

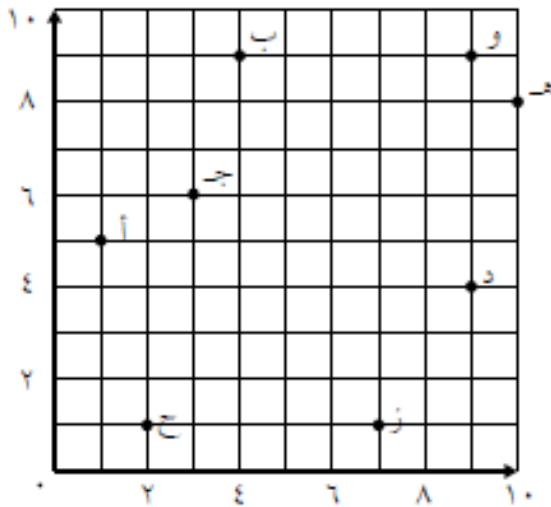
(أ) ملم	(ب) سم	(ج) م	(د) كلم
---------	--------	-------	---------

السؤال الثاني : ( أ ) اوجد نواتج القسمة في كل ما يأتي :

$$5 \overline{) 569}$$

$$3 \overline{) 733}$$

( ب ) اكتب الزوج المرتب الذي يحدد كل نقطة مما يأتي :



جـ .....

هـ .....

بـ .....

ح .....

انتهت الأسئلة: وفقكم الله وجعلكم فخرا لوطنكم وأمتكم