

شكراً لتحميلك هذا الملف من موقع المناهج السعودية



إجابة اختبار تشخيصي لمستوى الطلاب في المهارات المستهدفة

[موقع المناهج](#) ⇨ [المناهج السعودية](#) ⇨ [الصف الرابع](#) ⇨ [رياضيات](#) ⇨ [الفصل الثالث](#) ⇨ [الملف](#)

التواصل الاجتماعي بحسب الصف الرابع



روابط مواد الصف الرابع على تلغرام

[الرياضيات](#)

[اللغة الانجليزية](#)

[اللغة العربية](#)

[التربية الاسلامية](#)

المزيد من الملفات بحسب الصف الرابع والمادة رياضيات في الفصل الثالث

تحضير دروس كامل المنهج	1
نماذج اختبارات نهائية مع نماذج الإجابة	2
نموذج اختبار نهائي الدور الأول	3
أسئلة اختبار مهاراتي	4
اختبار الفصل الثاني عشر جمع الكسور العشرية وطرحها	5

تشخيص مستوى الطالبات في المهارات المستهدفة للصف الرابع الابتدائي (إجابة)
الاسم: الفصل: المدرسة: (درجة لكل فقرة)

السؤال الأول: الصيغة اللفظية لمليونان وست مئة وسبعة عشر ألفاً تكتب بالصيغة اللفظية كالآتي:

الهدف الأول / قراءة الأعداد وكتابتها ضمن الملايين بطرق مختلفة وترتيبها

٢٦١٧٠٠٠ ☐

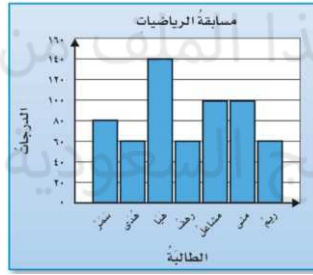
٢٦١٧٠٠ ☐

٢٦٧١٠٠ ☐

٢٦٧١٠٠٠ ☐

الهدف الثاني / تمثيل البيانات بالنقاط والأعمدة وتفسيرها

السؤال الثاني: من التمثيل البياني المجاور تزيد درجة هيا على درجة سمر بـ:



٦٠ ☐

١٤٠ ☐

٨٠ ☐

٤٠ ☐

الهدف الثالث / استعمال عمليات الجمع والطرح والضرب والقسمة لإنشاء جدول أو إكماله

السؤال الثالث: قاعدة الدالة التي يمثلها الجدول المجاور:

القاعدة:	
المُدخلة Δ	المُخرجة \square
٤٤	٣٣
٣٣	٢٢
٢٢	١١
١١	٠

$\square = ١٠ - \Delta$ ☐

$\square = ١١ - \Delta$ ☐

$\square = ١١ + \Delta$ ☐

$\square = ١٠ + \Delta$ ☐

الهدف الرابع / ضرب عدد من ثلاثة أرقام في عدد من رقمين

السؤال الرابع: ناتج الضرب $\begin{array}{r} ٣٥ \\ \times ٢٤ \\ \hline \end{array}$ يساوي:

٥٩ ☐

٨٤٠ ☐

٦٢٠ ☐

٦٩ ☐

السؤال الخامس: بلغ استهلاك عائلة بدر للمياه ٧٨٩ لترًا في ٣ أيام. إذا كانت العائلة تستهلك الكمية نفسها

الهدف الخامس / إيجاد ناتج القسمة من ثلاثة أرقام

يوميًا، فكم لترًا تستهلك في اليوم الواحد؟

٦٢٣ لترًا ☐

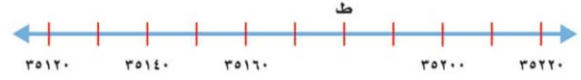
٣٦٢ لترًا ☐

٢٦٣ لترًا ☐

٣٢٦ لترًا ☐

السؤال السادس: من الرسم النقطة ط =

الهدف السادس/ تمثيل النقاط على خط الأعداد
والمستوى الإحداثي



٣٥١٦٠ ☐

٣٥١٧٠ ☐

٣٥١٨٠ ☒

٣٥١٩٠ ☐

السؤال السابع: نام خالد عند الساعة ٩:١٥، واستيقظ في الساعة ٥:٣٠ صباحاً. فإن طول الفترة الزمنية

الهدف السابع/ إيجاد الزمن المنقضي وطول
الفترة الزمنية في موقف حياتي

التي نامها خالد هي:

٨ ساعات ☐

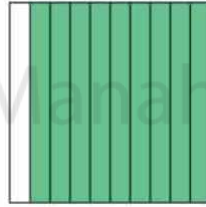
٨ ساعات و ١٥ دقيقة ☒

٤ ساعات و ١٥ دقيقة ☐

٤ ساعات و ٣٠ دقيقة ☐

السؤال الثامن: الكسر العشري الذي يعبر عن الجزء المظلل في الشكل المجاور.

الهدف الثامن/ قراءة الكسور العشرية وطرحها



٠,٩ ☒

٠,١ ☐

٠,٨ ☐

٠,٥ ☐

الهدف التاسع/ جمع الكسور العشرية وطرحها

السؤال التاسع: ناتج جمع $٠,٧$ يساوي:

$$\begin{array}{r} ٠,٧ \\ + ٠,٢ \\ \hline \end{array}$$

٠,١٤ ☐

٠,٩ ☒

٠,٥ ☐

٠,٦ ☐

الهدف العاشر/ حل المسائل باستعمال التخمين والتحقق

السؤال العاشر: في مزرعة والد فاطمة طيور وخراف عددها معاً ٢٠، وعدد

أرجلها ٦٤. فما عدد كل من الطيور والخراف في المزرعة؟

عدد الطيور ٨ وعدد الخراف ١٢ ☒

عدد الطيور ١٢ وعدد الخراف ٨ ☐

عدد الطيور ١٠ وعدد الخراف ١٠ ☐

عدد الطيور ٩ وعدد الخراف ١١ ☐

انتهت الأسئلة