

تم تحميل هذا الملف من موقع المناهج السعودية



الملف اختبار الفترة الأولى

[موقع المناهج](#) ⇨ [المناهج السعودية](#) ⇨ [الصف الرابع](#) ⇨ [رياضيات](#) ⇨ [الفصل الثالث](#)

الملف اختبار الفترة الأولى

[موقع المناهج](#) ⇨ [المناهج السعودية](#) ⇨ [الصف الرابع](#) ⇨ [رياضيات](#) ⇨ [الفصل الثالث](#)

المزيد من الملفات بحسب الصف الرابع والمادة رياضيات في الفصل الثالث

ورقة عمل وحدات الكتلة في النظام المتري	1
واجب وحدات السعة والكتلة	2
دفتر الرياضيات للفصل الثالث	3
اختبار الفصل التاسع القياس	4
أوراق عمل فصل القياس	5



اختبار الفترة الاولى للصف الرابع الفصل الدراسي الثالث لعام ١٤٤٣ هـ

اسم الطالبة: الصف الرابع (.....)

٢٠

السؤال الأول: اختر الإجابة الصحيحة لكل مما يوضع دائرة عليها:

أفضل تقدير لطول القارب :

أ ٦سم ب ٢م ج ٦ملم د ٥كم

أفضل تقدير لطول مدرج طائرات

أ ٥ملم ب ٥كم ج ٥م د ٥٠سم

الوحدة المناسبة لقياس طول كتاب مدرسي

أ سم ب ملم ج كلم د المليمترية م

الكيلو متر وحدة مناسبة لقياس ...

أ طول نملة ب المسافة من الخرج للرياض ج طول قلم سبورة د طول غرفة

التقدير المناسب لكتلة حبة الفراولة

أ ٢٥جم ب ٥٠كجم ج ٥سم د ٥٠٠٠ملم

٣ ذكر قاسم انه شرب ٣ لتر من الماء بعد مباراة كرة القدم هل هذا معقول؟

أ نعم معقول ب لا غير معقول

مستطيل طوله ٧م وعرضه ٥م فما مساحة المستطيل ؟

أ ٨متر مربع ب ٣٥متر مربع ج ١٦متر مربع د ١٢متر مربع

أفضل تقدير لطول الباب ؟

أ ٢ كلم ب ج د


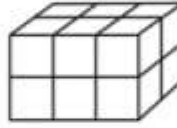

لوحة مربعة الشكل طول ضلعها ٩سم فما مساحتها ؟

أ ٩سم مربع ب ٨١سم مربع ج ١٨سم د ٣٦سم مربع

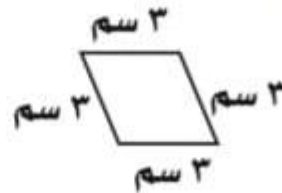
أي الوحدات التالية الأفضل لقياس كتلة سيارة؟

أ اللتر ب الكيلو جرام ج الجرام د المتر

س١ / اختار الإجابة الصحيحة لكل مما يلي :

١.	أفضل تقدير لطول الحافلة هو:	أ ١ متر	ب ١٠ أمتار	ج ١٠ سنتيمترات	د ١٠ كيلومترات
٢.	أي مما يلي يعد طوله يساوي ١٠ سنتيمترات ؟	أ الشجرة	ب النافذة	ج الإصبع	د الخروف
٣.	أي مما يلي يعد التقدير الأنسب لقياس سعة الشكل المجاور؟				
٤.	الوحدة المناسبة لقياس سعة حوض السباحة	أ ٢ مللتر	ب ٢ لتر	ج ٢٠٠ مللتر	د ٢٠٠ لتر
٥.	أي الوحدات التالية تعد الأفضل لقياس كتلة قطعة شوكولاتة ؟	أ لتر	ب كلم	ج مللتر	د المتر
٦.	ما حجم المجسم في الشكل المجاور؟				
٧.	كم تكون الساعة بعد ساعة وعشر دقائق ؟	أ ١٠:٣٠	ب ١١:٣٠	ج ١١:٢٠	د ١١:٠٠
٨.	ما مساحة الشكل المجاور ؟				
		أ ١٤ وحدة مربعة	ب ١٢ وحدة مربعة	ج ١٦ وحدة مربعة	د ١٣ وحدة مربعة

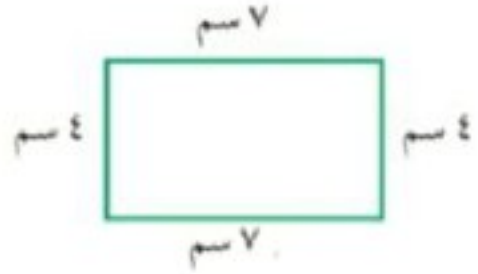
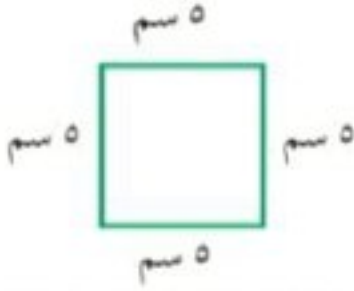
س٢ (أوجد محيط الشكل المجاور؟



س٣ (اشترى محمود سجادة لغرفته طولها ٥ م وعرضها ٤ م ، فما مساحتها ؟

السؤال الثاني:

أوجد محيط كل شكل

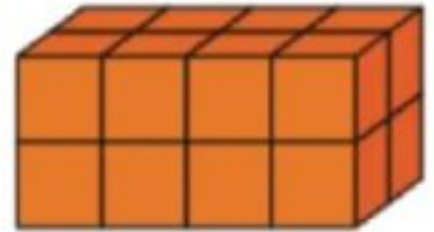


almanahj.com/sa

المنهج السعودية

السؤال الثالث:

أوجد حجم المجسم التالي



السؤال الرابع:

ما طول الفترة الزمنية من الساعة ٤:١٥ مساءً وحتى الساعة ٥:٣٠ مساءً ؟

السؤال الخامس:

اكتب الكسر الذي يمثل الجزء المظلل

