

حلول ورقة عمل للإسبوع الرابع



تم تحميل هذا الملف من موقع المناهج السعودية

موقع المناهج ← المناهج السعودية ← الصف الرابع ← رياضيات ← الفصل الثاني ← ملفات متنوعة ← الملف

تاريخ إضافة الملف على موقع المناهج: 01:00:58 2026-02-12

ملفات اكتب للمعلم اكتب للطالب ا اختبارات الكترونية ا اختبارات ا حلول ا عروض بوربوينت ا أوراق عمل
منهج انجليزي ا ملخصات وتقارير ا مذكرات وبنوك ا الامتحان النهائي ا للمدرس

المزيد من مادة
رياضيات:

إعداد: أبو تركي

التواصل الاجتماعي بحسب الصف الرابع



صفحة المناهج
السعودية على
فيسبوك

الرياضيات

اللغة الانجليزية

اللغة العربية

التربية الاسلامية

المواد على تلغرام

المزيد من الملفات بحسب الصف الرابع والمادة رياضيات في الفصل الثاني

ورقة عمل للإسبوع الرابع غير محلولة

1

اختبار الفصل 7 القسمة على عدد من رقم واحد

2

حلول ورقة عمل للإسبوع الثالث

3

ورقة عمل للإسبوع الثالث غير محلول

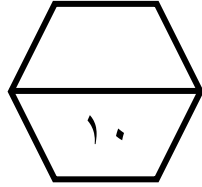
4

حلول ورقة عمل للإسبوع الثاني




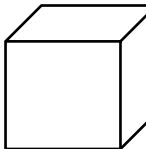
5

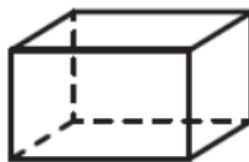
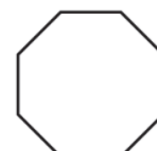
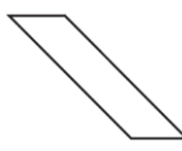

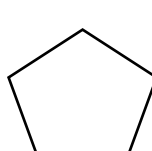
اسم الطالب /


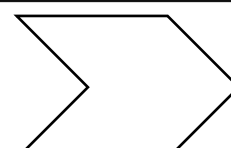
ورقة عمل (الأسبوع الرابع) للصف الرابع الابتدائي الفصل الدراسي الثاني للعام الدراسي ١٤٤٧ هـ



المهارات
الأشكال الثلاثية الأبعاد
الأشكال الثنائية لأبعاد
خطة حل المسألة " البحث عن نمط "

١	أ		ب		ج		د	

٢	حدد عدد الأوجه، والأحرف، والرؤوس للشكل التالي :							
								
	الأوجه :							
	الأحرف :							
الرؤوس :								
٣	أ		ب		ج		د	

٤	أ		ب					
				
٥	أوجد العدد المفقود. ثم اكتب قاعدة النمط : ٥ ، ٧ ، ٩ ، ١١ ، ، ١٥							
	العدد المفقود هو				قاعدة النمط هي			