

نموذج اختبار لفصل القياس



تم تحميل هذا الملف من موقع المناهج السعودية

موقع المناهج ← المناهج السعودية ← الصف الرابع ← علوم ← الفصل الثالث ← اختبارات ← الملف

تاريخ إضافة الملف على موقع المناهج: 10:15:54 2025-04-08

ملفات اكتب للمعلم اكتب للطالب ا اختبارات الكترونية ا اختبارات ا حلول ا عروض بوربوينت ا أوراق عمل
منهج انجليزي ا ملخصات وتقارير ا مذكرات وبنوك ا الامتحان النهائي ا للمدرس

المزيد من مادة
علوم:

التواصل الاجتماعي بحسب الصف الرابع



صفحة المناهج
السعودية على
فيسبوك

الرياضيات

اللغة الانجليزية

اللغة العربية

التربية الاسلامية

المواد على تلغرام

المزيد من الملفات بحسب الصف الرابع والمادة علوم في الفصل الثالث

حل مراجعة الفصل الثامن القياس كيف تتغير المادة - المخاليط

1

مراجعة الفصل الثامن القياس كيف تتغير المادة _ المخاليط

2

مطوية درس المغناطيسية

3

مطوية درس الكهرباء


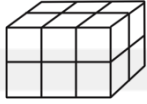


4

مطوية درس الحرارة

5

الاسم	الصف	الرابع /	اختبار الفصل التاسع (القياس)	
-------	-------	------	---------------	--------------------------------	--

س١ / اختار الإجابة الصحيحة لكل مما يلي :

١.	أفضل تقدير لطول الحافلة هو:	أ	١ متر	ب	١٠ أمتار	ج	١٠ سنتيمترات	د	١٠ كيلومترات
٢.	أي مما يلي يعد طوله يساوي ١٠ سنتيمترات ؟	أ	الشجرة	ب	النافذة	ج	الإصبع	د	الخروف
٣.	أي مما يلي يعد التقدير الأنسب لقياس سعة الشكل المجاور؟								
٤.	الوحدة المناسبة لقياس سعة حوض السباحة	أ	٢ مللتر	ب	٢ لتر	ج	٢٠٠ مللتر	د	٢٠٠ لتر
٥.	أي الوحدات التالية تعد الأفضل لقياس كتلة قطعة شوكولاتة ؟	أ	لتر	ب	الجرام	ج	الكيلوجرام	د	المتر
٦.	ما حجم المجسم في الشكل المجاور؟								
٧.	كم تكون الساعة بعد ساعة وعشر دقائق ؟	أ	١٠:٣٠	ب	١١:٣٠	ج	١١:٢٠	د	١١:٠٠
٨.	ما مساحة الشكل المجاور ؟								
		أ	١٤ وحدة مربعة	ب	١٢ وحدة مربعة	ج	١٦ وحدة مربعة	د	١٣ وحدة مربعة
س٢ (أوجد محيط الشكل المجاور؟)									
س٣ (اشترى محمود سجادة لغرفته طولها ٥ م وعرضها ٤ م ، فما مساحتها ؟)									