

تم تحميل هذا الملف من موقع المناهج السعودية



* للحصول على أوراق عمل لجميع الصفوف وجميع المواد اضغط هنا

<https://www.almanahj.com/sa>

[4/sa/com.almanahj//:https](https://www.almanahj.com/sa/4)

* للحصول على أوراق عمل لجميع مواد الصف الرابع اضغط هنا

* للحصول على جميع أوراق الصف الرابع في مادة رياضيات وجميع الفصول, اضغط هنا

<https://www.almanahj.com/sa/4>

* للحصول على أوراق عمل لجميع مواد الصف الرابع في مادة رياضيات الخاصة بـ اضغط هنا

<https://www.almanahj.com/sa/43>

* لتحميل كتب جميع المواد في جميع الفصول للـ الصف الرابع اضغط هنا

<https://www.almanahj.com/sa/grade4>

[sacourse/me.t//:https](https://t.me/sacourse)

للحصول على جميع روابط الصفوف على تلغرام وفيسبوك من قنوات وصفحات: اضغط هنا



قم بتكرار هذا النموذج وابدأ في استخدامه كنموذج خاص بك.

قم بتكرارها



اختبار رياضيات للمصف الرابع (الفصل الثاني)



رياضيات اختبار نهائي

رابع ابتدائي الفصل الدراسي الثاني

...

مطلوب *

1

*: اسم الطالب ثلاثي

أدخل إجابتك

2

* الصف

☐ رابع / 1☐ رابع 2☐ رابع / 3

3

* = ناتج قسمة ٣٥٠٠ ÷ ٧
(نقطة واحدة)

☐ ٥٠٠☐ ٧٠٠☐ ٥٠٠٠

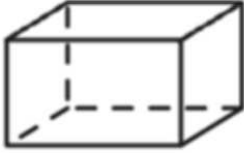
4

* = ناتج قسمة ٩٧ ÷ ٣
(نقطة واحدة)

- ☐ ١ والباقي ٣٢
- ☐ ٣٠ والباقي ٢
- ☐ ٣٢ والباقي ١

5

* السؤال
(نقطة واحدة)



ما اسم الشكل المجاور؟

(أ) مكعب

(ب) مخروط

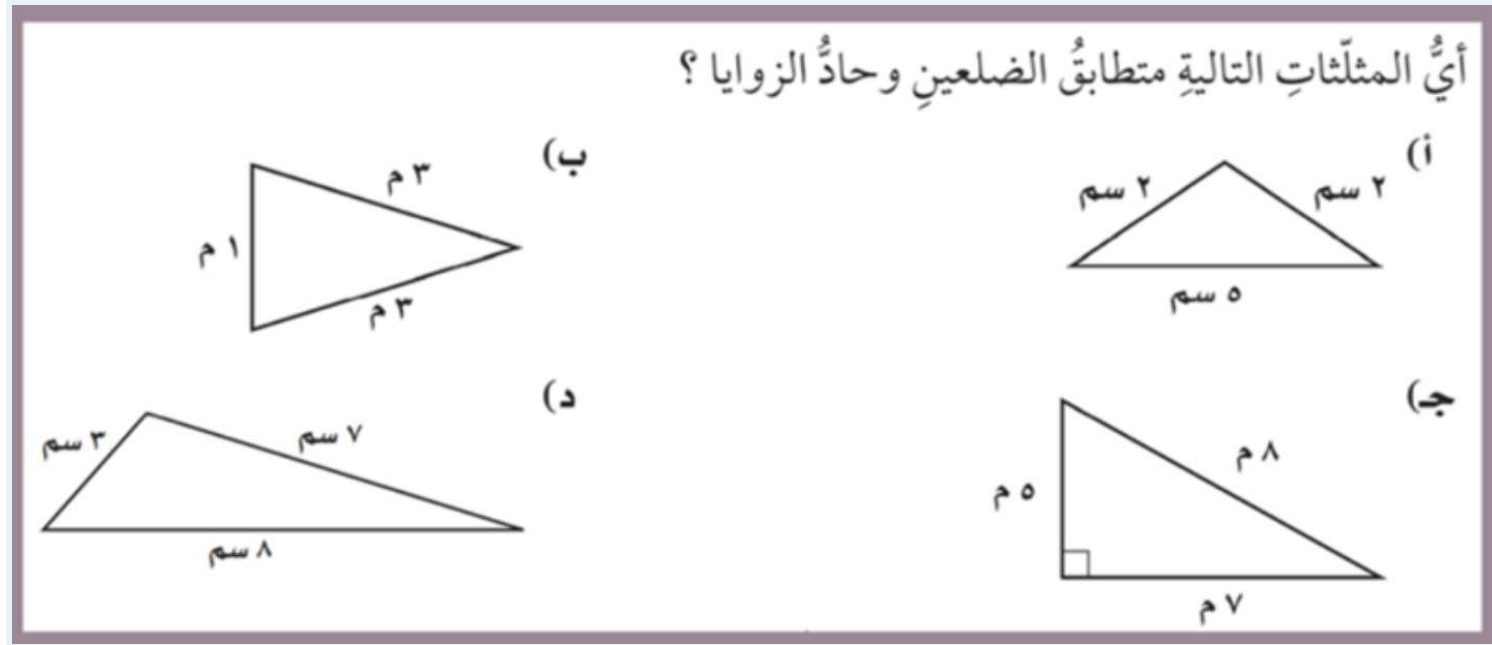
(ج) منشور ثلاثي

(د) منشور رباعي

- ☐ (أ) مكعب
- ☐ (ب) مخروط
- ☐ (ج) منشور ثلاثي
- ☐ (د) منشور رباعي

6

* السؤال
(نقطة واحدة)



- ☐ أ
- ☐ ب
- ☐ ج
- ☐ د

7

* السؤال
(نقطة واحدة)

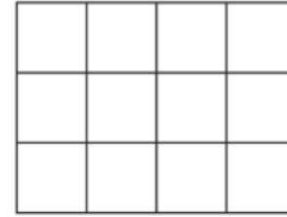


- ☐ أ
- ☐ ب
- ☐ ج
- ☐ د

8

* السؤال
(نقطة واحدة)

إذا كان طول ضلع كل مربع في الشكل التالي
يمثل ١ سم، فما محيط الشكل؟

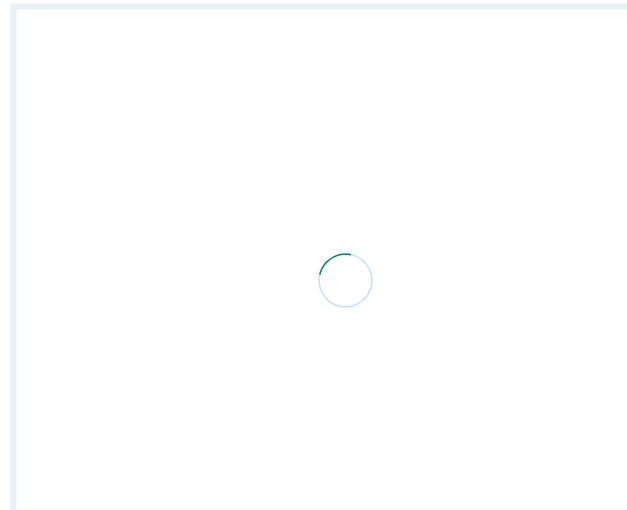


- (أ) ٧ سم (ج) ١٤ سم
(ب) ١٢ سم (د) ٢٠ سم

- ☐ أ
☐ ب
☐ ج
☐ د

9

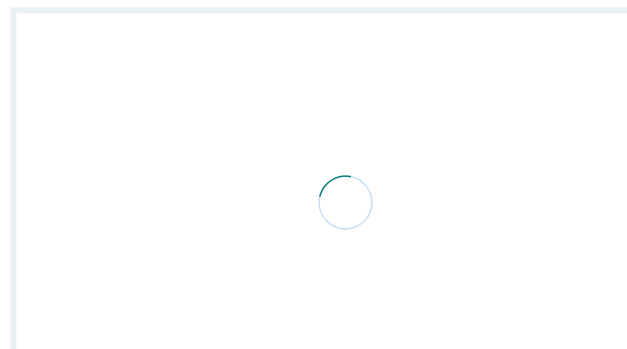
* السؤال
(نقطة واحدة)



- ☐ أ
- ☐ ب
- ☐ ج
- ☐ د

10

* الكسر الجزء للجزء الأمامي
(نقطة واحدة)

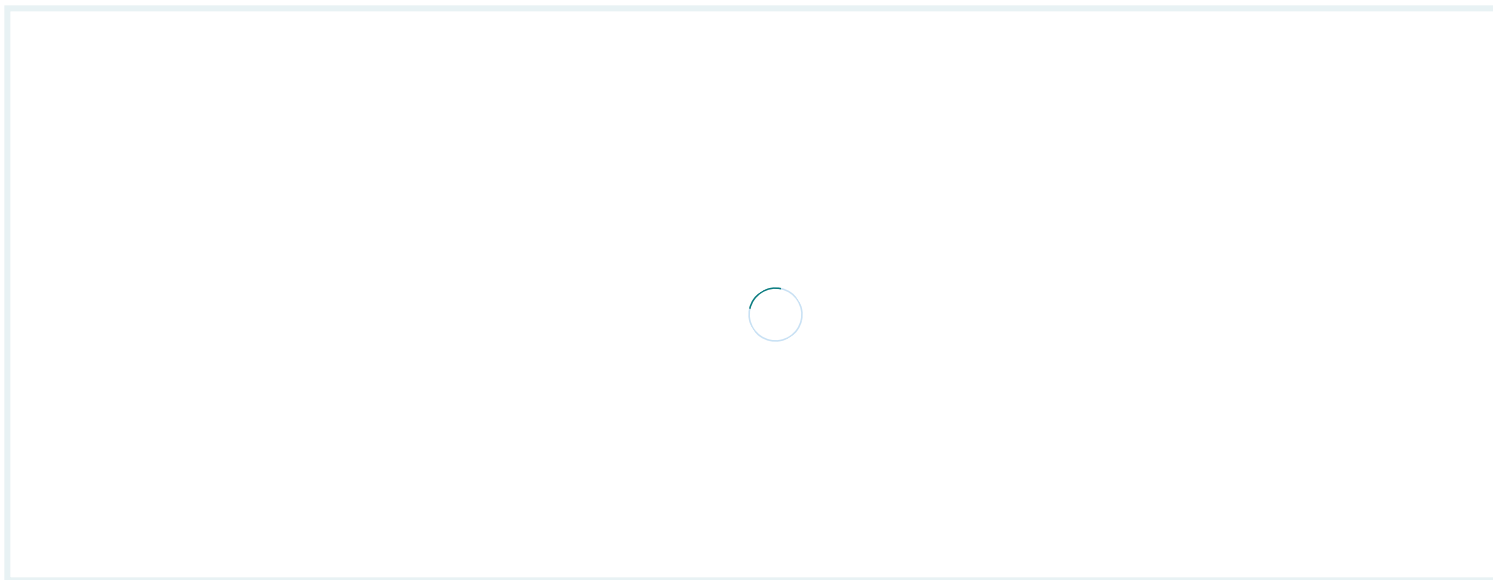


☐ صواب

☐ خطأ

11

* (<, >, =) قارن مستعملا
(نقطة واحدة)



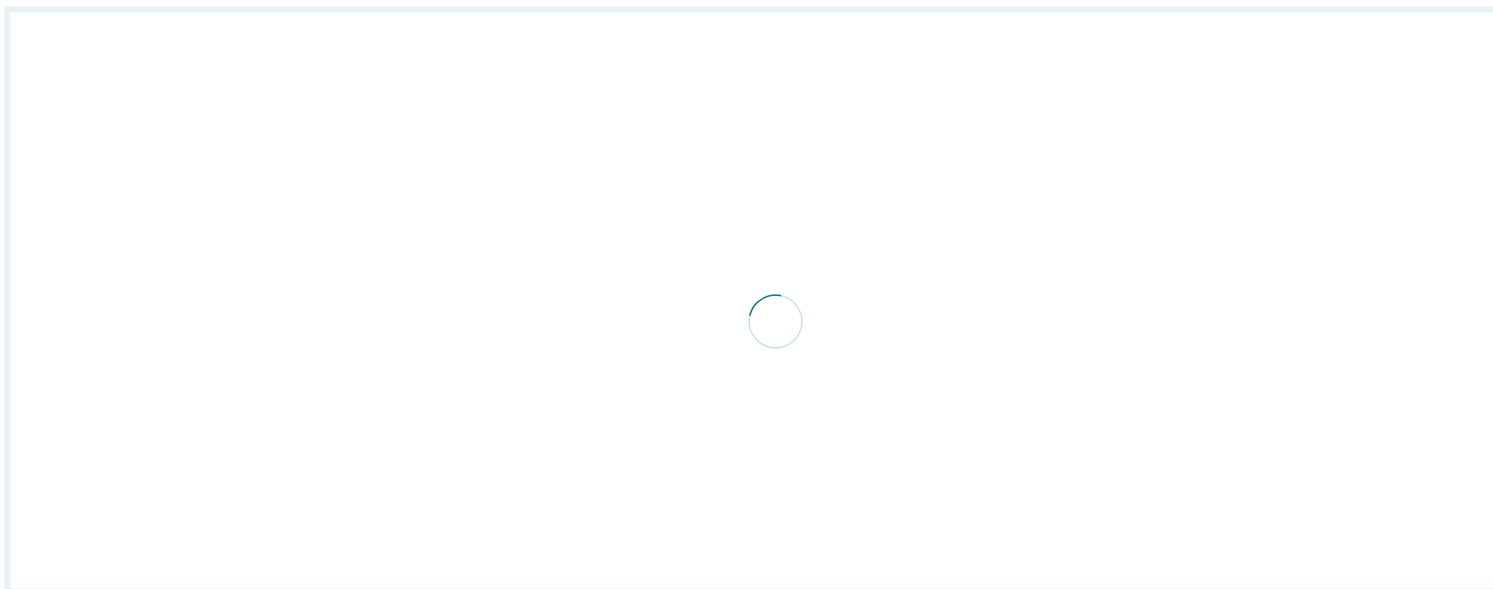
☐ < أكبر

☐ > أصغر

☐ = يساوي

12

* السؤال
(نقطة واحدة)



- ☐ أ
- ☐ ب
- ☐ ج
- ☐ د

يقدم

Duplicate this form and start to use it as your own. [Duplicate it](#)

ليست مسؤولية عن ممارسات الخصوصية أو Microsoft. تم إنشاء هذا المحتوى من قبل مالك النموذج. سيتم إرسال البيانات التي ترسلها إلى مالك النموذج الأمان لعملائها ، بما في ذلك ممارسات مالك هذا النموذج. لا تعط كلمة مرورك أبدًا

تعليمات الاستخدام | (https://go.microsoft.com/fwlink/?LinkId=521839) الخصوصية وملفات تعريف الارتباط | Microsoft Forms مدعوم من (https://go.microsoft.com/fwlink/?linkid=866263)