

الاختبار المركزي في جازان مع الحل



تم تحميل هذا الملف من موقع المناهج السعودية

موقع المناهج ← المناهج السعودية ← الصف الثالث ← رياضيات ← الفصل الثالث ← ملفات متنوعة ← الملف

تاريخ إضافة الملف على موقع المناهج: 07:52:59 2025-05-21

ملفات اكتب للمعلم اكتب للطالب | اختبارات الكترونية | اختبارات | حلول | عروض بوربوينت | أوراق عمل
منهج انجليزي | ملخصات وتقارير | مذكرات وبنوك | الامتحان النهائي | للمدرس

المزيد من مادة
رياضيات:

التواصل الاجتماعي بحسب الصف الثالث



صفحة المناهج
السعودية على
فيسبوك

الرياضيات

اللغة الانجليزية

اللغة العربية

التربية الاسلامية

المواد على تلغرام

المزيد من الملفات بحسب الصف الثالث والمادة رياضيات في الفصل الثالث

أوراق عمل مراجعة

1

اختبار مركزي صباحي محلول في الطائف

2

اختبارات نهاية الفصل الثالث 1446هـ مع الإجابات

3

نموذج اختبار تجريبي للاختبار المركزي مع الإجابة

4

مطوية المجسمات

5



أسئلة اختبار مادة الرياضيات الفصل الدراسي (الثالث) الدور (الأول) للعام الدراسي ١٤٤٥ هـ



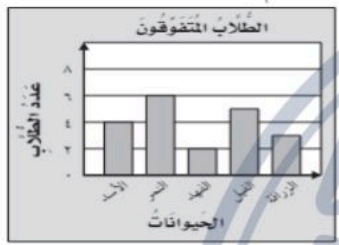
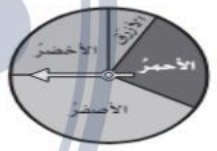

اسم الطالب	مكتب التعليم
المدرسة	الفصل
رقم الجلوس		

السؤال	س ١	س ٢	س ٣	المجموع
الدرجة رقمًا				
الدرجة كتابة				

اسم المصحح	اسم المراجع	اسم المدقق	
التوقيع	التوقيع	التوقيع	

السؤال الأول: اختر الإجابة الصحيحة من بين البدائل أدناه بوضع دائرة على رمز البديل الصحيح:

١	ما هي الوحدة الأنسب لقياس المسافة بين مدينتي جازان وأبها؟	(أ) السنتيمتر	(ب) المتر	(ج) الكيلومتر	(د) المليمتر
٢	محيط الشكل التالي ٢١ سم فما طول الضلع المجهول؟				
		(أ) ٣	(ب) ٤	(ج) ٥	(د) ٦
٣	إذا كان عقرب الدقائق يشير إلى الرقم ٤ ، فإن عدد الدقائق التي يشير إليها هو :	(أ) ٢٠	(ب) ٣٠	(ج) ٤٥	(د) ٥٠
٤	أي مما يأتي يتسع لأكثر من ١ لتر ؟	(أ) قطارة	(ب) ملعقة	(ج) كوب ماء	(د) حوض إستحمام
٥	ما حجم المجسم التالي؟				
		(أ) ١٠ وحدات مكعبة	(ب) ١٢ وحدة مكعبة	(ج) ١٤ وحدة مكعبة	(د) ١٦ وحدة مكعبة
٦	مضلع له أربعة أضلاع وجميع أضلاعه متساوية ، فما هو؟	(أ) المستطيل	(ب) المربع	(ج) المكعب	(د) متوازي أنمستطيلات

٧	أي مما يلي يصف شكل علبة معجون الطماطم المجاورة						درجة واحدة
							
(أ)	الدائرة	(ب)	المخروط	(ج)	الأسطوانة	(د)	الكرة
٨	كم يوجد محور تماثل للشكل المجاور؟						درجة واحدة
							
(أ)	لا يوجد	(ب)	١	(ج)	٢	(د)	٣
٩	مجسم ليس له أوجه، ولا أحرف، ولا رؤوس، فما هو؟						درجة واحدة
(أ)	المخروط	(ب)	الهرم	(ج)	الكرة	(د)	المكعب
١٠	يوضح التمثيل التالي عدد الطلاب الذين أعدوا تقارير عن بعض الحيوانات، فما عدد هؤلاء الطلاب؟						درجة واحدة
							
(أ)	٧	(ب)	١٣	(ج)	١٧	(د)	٢٠
١١	أدارت هدى مؤشر القرص التالي مره واحدة، ما اللون الذي يكون توقف المؤشر عنده أكثر احتمالاً؟						درجة واحدة
							
(أ)	الأحمر	(ب)	الأصفر	(ج)	الأزرق	(د)	الأخضر
١٢	أي الأشكال الاتية يمثل الجزء المظلل فيه الكسر $\frac{3}{4}$ ؟						درجة واحدة
							
(أ)		(ب)		(ج)		(د)	
١٣	يوجد في حديقة منزل ٣ دجاجات بيضاء، وواحدة حمراء، ما الكسر الذي يمثل الدجاجة الحمراء بينها؟						درجة واحدة
(أ)	$\frac{1}{4}$	(ب)	$\frac{1}{2}$	(ج)	$\frac{1}{3}$	(د)	$\frac{3}{4}$
١٤	ما الكسر الذي يكافئ الكسر $\frac{6}{9}$ ؟						درجة واحدة
(أ)	$\frac{1}{3}$	(ب)	$\frac{1}{4}$	(ج)	$\frac{2}{5}$	(د)	$\frac{2}{3}$

السؤال الثاني: أكمل الفراغات بما يناسبها:

كل فقرة بدرجة

الزمن الذي تشير إليه ساعة العقارب المجاورة هو ٥٥ : ٦

درجة واحدة



١-

طول السيارة يقاس بوحدة المتر

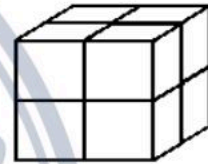
درجة واحدة



٢-

حجم الجسم المجاور ٨ وحدات

درجة واحدة



٣-

ماذا يسمى الجسم المجاور الهرم

درجة واحدة



٤-

ماذا يسمى الوجه المظلل في الجسم المجاور دائرة

درجة واحدة



٥-

طول الجراد في الشكل المجاور ٤ سم

درجة واحدة

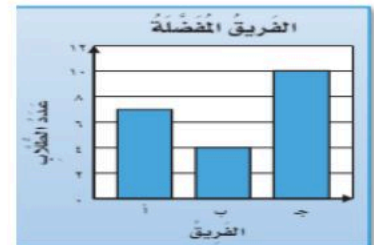


٦-

في التمثيل المجاور عدد الطلاب الذين يشجعون الفريق ج هو

١٠ طلاب

درجة واحدة



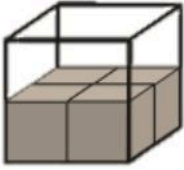
٧-

البسط	درجة واحدة	٨ - العدد الذي يقع فوق إشارة الكسر .
الإحتمال	درجة واحدة	٩ - وصف يعبر عن إمكانية حدث ما
المكافئة	درجة واحدة	١٠ - الكسور التي تمثل الكمية نفسها

١٦ ١٦

السؤال الثالث: أجب عن الفقرات التالية حسب المطلوب من كل مسألة:

(أ) قدر حجم المجسم التالي بإستخدام المكعبات .



٨ وحدات مكعبة

٤ درجات

(ب) رتب الوحدات المترية التالية من الأصغر إلى الأكبر إلى الأصغر (متر ، كلم ، ملم ، سم)

ملم ، سم ، متر ، كلم

٤ درجات

(ج) الكسر الذي يمثل الخلايا التي تحتوي نحلاً؟



$$\frac{7}{10}$$

٣ درجات

(د) أستعمل التمثيل الذي يعرض التقارير من المكتوبة من قبل طلاب الصف عن القارات :

أي قارة كتب عنها معظم الطلاب ؟

٥ درجات

القارات	عدد الطلاب
آسيا	5
أوروبا	4
أستراليا	3
أمريكا الجنوبية	2
إفريقيا	1
المفتاح: ● طالبين	

قارة آسيا

ما عدد الطلاب الذين كتبوا عن قارة أستراليا ؟

٤ طلاب