

أسئلة التهيئة والاستعداد للاختبارات المركزية في الطائف



تم تحميل هذا الملف من موقع المناهج السعودية

موقع المناهج ← المناهج السعودية ← الصف الثالث ← رياضيات ← الفصل الثالث ← ملفات متنوعة ← الملف

تاريخ إضافة الملف على موقع المناهج: 09:14:36 2025-05-21

ملفات اكتب للمعلم اكتب للطالب | اختبارات الكترونية | اختبارات | حلول | عروض بوربوينت | أوراق عمل
منهج انجليزي | ملخصات وتقارير | مذكرات وبنوك | الامتحان النهائي | للمدرس

المزيد من مادة
رياضيات:

التواصل الاجتماعي بحسب الصف الثالث



صفحة المناهج
السعودية على
فيسبوك

الرياضيات

اللغة الانجليزية

اللغة العربية

التربية الاسلامية

المواد على تلغرام

المزيد من الملفات بحسب الصف الثالث والمادة رياضيات في الفصل الثالث

الاختبار المركزي في جدة محلول

1

الاختبار المركزي في حائل مع الحل

2

الاختبار المركزي في جازان مع الحل

3

أوراق عمل مراجعة

4

اختبار مركزي صباحي محلول في الطائف

5

الزمن : ساعة ونصف
عدد الأوراق : (٤)
عدد الأسئلة : (٣)

إلمام

لصناعة الفرق في الاختبارات المركزية.

نموذج (٢)

الفترة
المسائية

أسئلة التهيئة والاستعداد للاختبارات المركزية
لمادة الرياضيات للصف الثالث ابتدائي
الفصل الدراسي الثالث لعام ١٤٤٦هـ

موقع اجاباتكم
www.ajabatkm.com



بيانات الطالب/ة	
	الاسم
	الصف
	الشعبة
الدرجة المستحقة	
	رقمًا
	كتابةً

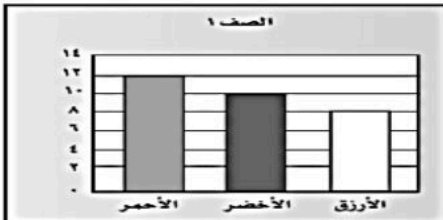
أسئلة التهيئة والاستعداد للاختبارات المركزية لمادة الرياضيات للصف الثالث ابتدائي
انفصل دراسي اثنا عشر عاماً





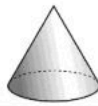




































مُستعيناً بالله تعالى أجب عن جميع الأسئلة التالية بعناية ودقة

السؤال الأول:

أضع دائرة حول الإجابة الصحيحة:












































١	الوحدة الأنسب لقياس طول الكتاب :	أ	ملم	ب	سم	ج	م	د	كلم
٢	الوحدة المناسبة لقياس كتلة الممحة :	أ	جرام	ب	كيلو جرام	ج	لتر	د	مللتر
٣	أصف احتمال سحب كرة:	أ	أكثر احتمال	ب	أقل احتمال	ج	أكيد	د	مستحيل
٤	التقدير الأنسب لكتلة دراجة :	أ	١٥ جم	ب	٩٠٠ جم	ج	١٥ كجم	د	٩٠٠ كجم
٥	مجسم له ٦ أوجه و ١٢ حرف و ٨ رؤوس:	أ	مكعب	ب	كرة	ج	مخروط	د	هرم
٦	أي مما يأتي طوله سنتمتر تقريباً ؟	أ	ظفر	ب	قلم	ج	شجرة	د	سيارة
٧	أصف هذا الشكل:	أ	رباعي له ٤ أضلاع و ٤ زوايا	ب	مثلث له ٣ أضلاع و ٣ زوايا	ج	خماسي له ٥ أضلاع و ٥ زوايا	د	سداسي له ٦ أضلاع و ٦ زوايا
٨	التقدير الأنسب لسعة علبة العصير:	أ	٢ مل	ب	٢٠٠ مل	ج	٢٠ ل	د	٢٠٠ ل
٩	قام أحمد باستطلاع رأي طلاب الصف (١) عن اللون المفضل لديهم ، كم عدد الطلاب الذين يفضلون اللون الأزرق ؟	أ	٢	ب	٤	ج	٨	د	١٠

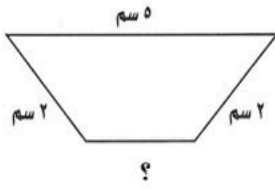


١٠	الشكل المضلع من الأشكال الآتية:											
أ		ب		ج		د						
١١	المجسم المجاور يسمى:											
												
أ	أسطوانة	ب	مكعب	ج	هرم	د	مخروط					
١٢	باستعمال لوحة التمثيل بالرموز ، أي أنواع الحبوب أقل مبيعاً ؟											
	<div>الحبوب المباعة خلال شهر</div> <table><tr><td>فول</td><td></td></tr><tr><td>عدس</td><td></td></tr><tr><td>أرز</td><td></td></tr></table>						فول	   	عدس	 	أرز	     
فول	   											
عدس	 											
أرز	     											
أ	فول	ب	عدس	ج	أرز	د	فاصوليا					

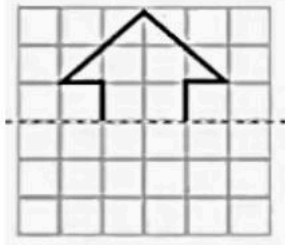
السؤال الثاني:



١	أ) أكمل الفراغات الآتية:								
٢	ما الأكثر احتمالاً ظهور الشعر عند رمي قطعة نقدية مرة واحدة أم ظهور الكتابة؟								
٣	التمثيل المجاور يوضح عدد الكتب التي قرأها الطلاب في الإجازة ، كم كتاباً قرأ ماهر زيادة على ما قرأه إسماعيل؟								
٤	<p>عدد الكتب التي قرأها الطلاب في الإجازة</p> <table border="1"> <tr> <td>إسماعيل</td> <td></td> </tr> <tr> <td>كنعان</td> <td></td> </tr> <tr> <td>ماهر</td> <td></td> </tr> <tr> <td>عبد المجيد</td> <td></td> </tr> </table> <p>مفتاح:  = كتابتين</p>	إسماعيل	 	كنعان	   	ماهر	     	عبد المجيد	 
إسماعيل	 								
كنعان	   								
ماهر	     								
عبد المجيد	 								
٥	<p>٣ في مدينة الألعاب قطاران في كل منها ٣ عربات لكل عربة أربع عجلات فما مجموع عجلات العربات؟</p> <p>إذا كانت كتلة مشبك الورق تساوي جراماً واحداً ، وكتلة علبة المشابك تساوي كيلو جراماً واحداً ، فكم مشبكاً يوجد في العلبة ؟</p> <p>لدى إبراهيم قميصان أبيض وأزرق وبنطالان رمادي وأسود ، بكم طريقة يمكن أن يظهر إبراهيم مرتدياً قميصاً وبنطالاً؟</p>								



ب) محيط الشكل المجاور يساوي ١٢ سم ، فما طول الضلع المجهول ؟



ج) أكملُ رسم الشكل بالتمائل حول محور مستعملاً شبكة المربعات :

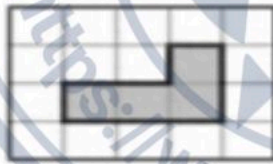


السؤال الثالث:

أ) أمثلُ البيانات أدناه بالرموز وأجعلُ كل رمزٍ يمثل شخصاً واحداً :

المَجَلَّةُ الْمُفَضَّلَةُ	
إِخْبَارِيَّة	
رِیَاضِيَّة	
ثَقَافِيَّة	
عِلْمِيَّة	

المَجَلَّةُ الْمُفَضَّلَةُ	
نَوْعُ المَجَلَّةِ	عَدَدُ الأَشْخَاصِ
إِخْبَارِيَّة	I IIII
رِیَاضِيَّة	II IIII IIII
ثَقَافِيَّة	IIII
عِلْمِيَّة	II



ب) ما مساحة الجزء المظلل بالوحدات المربعة ؟

ج) أراد أحمد أن يشتري قلمين و ٣ دفاتر ، فإذا كان ثمن القلم ٤ ريال و ثمن الدفتر ريالين ، فكم ريالاً سيدفع ثمناً لها جميعها ؟



د) أكتبُ وصفاً مناسباً للشكل وماذا يُسمى ؟

- عدد الأوجه
- عدد الرؤوس
- عدد الأحرف
- يُسمى الشكل

انتهت الأسئلة

الزمن : ساعة ونصف
عدد الأوراق : (٤)
عدد الأسئلة : (٣)

إلمام

لصناعة الفرق في الاختبارات المركزية.

نموذج (٢)

الفترة
المسائية

نموذج إجابة أسئلة التهيئة والاستعداد للاختبارات المركزية
لمادة الرياضيات للصف الثالث ابتدائي
الفصل الدراسي الثالث لعام ١٤٤٦هـ

موقع اجاباتكم
www.ajabatkum.com



بيانات الطالب/ة	
الاسم	نموذج إجابة
الصف	
الشعبة	
الدرجة المستحقة	
رقمًا	٣٠ درجة
كتابةً	ثلاثون درجة فقط

٣٠

٣٠



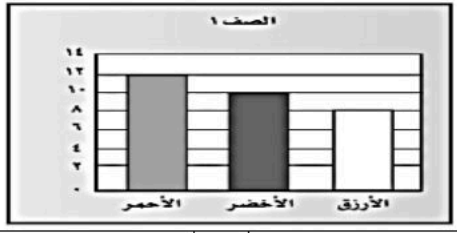
نموذج إجابة أسئلة التهيئة والاستعداد للاختبارات المركزية لمادة الرياضيات للصف الثالث ابتدائي
الفصل الدراسي الثالث لعام ١٤٤٦هـ

مُسْتَعِينًا بِاللَّهِ تَعَالَى أَجِبْ عَنْ جَمِيعِ الْأَسْئَلَةِ التَّالِيَةِ بِعُنَايَةٍ وَدَقَّةٍ

السؤال الأول:

أضع دائرة حول الإجابة الصحيحة:

انتي عشر درجة فقط
درجة لكل فقرة

١	الوحدة الأنسب لقياس طول الكتاب :								
أ	ملم	ب	سم	ج	م	د	كلم		
٢	الوحدة المناسبة لقياس كتلة الممحة :								
أ	جرام	ب	كيلو جرام	ج	لتر	د	مللتر		
٣	أصفُ احتمال سحب كرة:								
									
أ	أكثر احتمال	ب	أقل احتمال	ج	أكيد	د	مستحيل		
٤	التقدير الأنسب لكتلة دراجة :								
أ	١٥ جم	ب	٩٠٠ جم	ج	١٥ كجم	د	٩٠٠ كجم		
٥	مجسم له ٦ أوجه و ١٢ حرف و ٨ رؤوس:								
أ	مكعب	ب	كرة	ج	مخروط	د	هرم		
٦	أي مما يأتي طوله سنتمتر تقريباً ؟								
أ	ظفر	ب	قلم	ج	شجرة	د	سيارة		
٧	أصفُ هذا الشكل:								
									
أ	رباعي له ٤ أضلاع و ٤ زوايا	ب	مثلث له ٣ أضلاع و ٣ زوايا	ج	خماسي له ٥ أضلاع و ٥ زوايا	د	سداسي له ٦ أضلاع و ٦ زوايا		
٨	التقدير الأنسب لسعة علبة العصير:								
أ	٢ مل	ب	٢٠٠ مل	ج	٢٠ ل	د	٢٠٠ ل		
٩	قام أحمد باستطلاع رأي طلاب الصف (١) عن اللون المفضل لديهم ، كم عدد الطلاب الذين يفضلون اللون الأزرق ؟								
									
أ	٢	ب	٤	ج	٨	د	١٠		

١٠	الشكل المضلع من الأشكال الآتية:	أ	ب	ج	د
١١	المجسم المجاور يسمى:	أ	ب	ج	د
١٢	باستعمال لوحة التمثيل بالرموز ، أي أنواع الحبوب أقل مبيعاً ؟	أ	ب	ج	د
أ	أسطوانة	ب	مكعب	ج	هرم
د	مخروط	ب	عدس	ج	أرز
د	فاصوليا	ب	عدس	ج	أرز

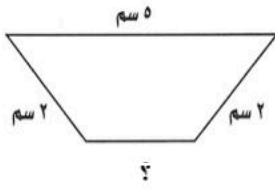
الجُبوبُ المبَّيعةُ خِلالَ شَهرِ
فُولٌ
عَدَسٌ
أُرْزٌ

السؤال الثاني:



تسعة درجات فقط

١	أ) أكمل الفراغات الآتية:
٢	ما الأكثر احتمالاً ظهور الشعر عند رمي قطعة نقدية مرة واحدة أم ظهور الكتابة؟ <u>الاحتمالان متساويان</u>
٣	التمثيل المجاور يوضح عدد الكتب التي قرأها الطلاب في الإجازة ، كم كتاباً قرأ ماهر زيادة على ما قرأه إسماعيل؟
٤	٤ كتب
٥	في مدينة الألعاب قطاران في كل منها ٣ عربات لكل عربة أربع عجلات فما مجموع عجلات العربات؟ <u>٢٤</u>
٤	إذا كانت كتلة مشبك الورق تساوي جراماً واحداً ، وكتلة علبة المشابك تساوي كيلو جراماً واحداً ، فكم مشبكاً يوجد في العلبة ؟ <u>١٠٠٠ مشبك</u>
٥	لدى إبراهيم قميصان أبيض وأزرق وبنطالان رمادي وأسود ، بكم طريقة يمكن أن يظهر إبراهيم مرتدياً قميصاً وبنطالاً؟ <u>٤ طرق (أبيض-رمادي) (أبيض-أسود) (أزرق-رمادي) (أزرق-أسود)</u>

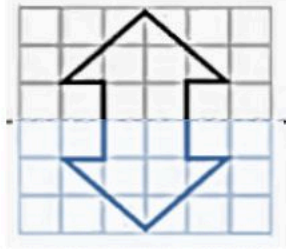


ب) محيط الشكل المجاور يساوي ١٢ سم ، فما طول الضلع المجهول ؟

طول الضلع المجهول = $12 - 9 = 3$ سم



ج) أكملُ رسم الشكل بالتمائل حول محور مستعملاً شبكة المربعات :



السؤال الثالث:



تسعة درجات فقط


أ) أمثلُ البيانات أدناه بالرموز وأجعلُ كل رمزٍ يمثل شخصاً واحداً :

المَجَلَّةُ الْمُفَضَّلَةُ	
إِخْبَارِيَّةٌ	6 books
رِیَاضِيَّةٌ	10 books
ثَقَافِيَّةٌ	4 books
عِلْمِيَّةٌ	2 books

المَجَلَّةُ الْمُفَضَّلَةُ	
نَوْعُ المَجَلَّةِ	عَدَدُ الأَشْخَاصِ
إِخْبَارِيَّةٌ	1 IIII
رِیَاضِيَّةٌ	2 IIII IIII
ثَقَافِيَّةٌ	3 IIII
عِلْمِيَّةٌ	2 IIII



ب) ما مساحة الجزء المظلل بالوحدات المربعة ؟




٤ وحدات مربعة

ج) أراد أحمد أن يشتري قلمين و ٣ دفاتر، فإذا كان ثمن القلم ٤ ريالات و ثمن الدفتر ريالين، فكم ريالاً سيدفع ثمناً لها جميعها؟

ما سيدفعه = ٨ ريالات + ٦ ريالات = ١٤ ريالاً



د) أكتبُ وصفاً مناسباً للشكل وماذا يُسمى ؟



- عدد الأوجه ٢
- عدد الرؤوس ٠
- عدد الأحرف ٠
- يُسمى الشكل أسطوانة

انتهت الأسئلة