

نموذج مقترح لتطبيق اختبار مركزي



تم تحميل هذا الملف من موقع المناهج السعودية

موقع المناهج ← المناهج السعودية ← الصف الثالث ← رياضيات ← الفصل الثالث ← ملفات متنوعة ← الملف

تاريخ إضافة الملف على موقع المناهج: 12:51:54 2025-06-19

ملفات اكتب للمعلم اكتب للطالب ا اختبارات الكترونية ا اختبارات ا حلول ا عروض بوربوينت ا أوراق عمل
منهج انجليزي ا ملخصات وتقارير ا مذكرات وبنوك ا الامتحان النهائي ا للمدرس

المزيد من مادة
رياضيات:

التواصل الاجتماعي بحسب الصف الثالث



صفحة المناهج
السعودية على
فيسبوك

الرياضيات

اللغة الانجليزية

اللغة العربية

التربية الاسلامية

المواد على تلغرام

المزيد من الملفات بحسب الصف الثالث والمادة رياضيات في الفصل الثالث

نموذج الإجابة على أسئلة التهيئة والاستعداد للاختبارات المركزية في الطائف

1

مراجعة لأهم المهارات الأساسية

2

نموذج اختبار رقم 7

3

ملخص ومراجعة مرفقة بنموذج الحل

4

المهارات التي يجب إتقانها

5

اليوم:
التاريخ:
الزمن: ساعتان


نموذج مقترح لتطبيق اختبارات مركزية للصف الثالث الابتدائي

في مادة الرياضيات

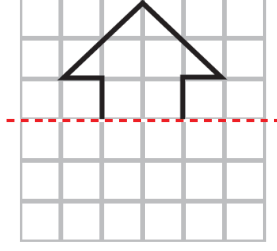
الفصل الدراسي الثالث للعام الدراسي ١٤٤٥ هـ

السؤال الأول:

أ- اِخْتَارِ الإِجَابَةَ الصَّحِيحَةَ:




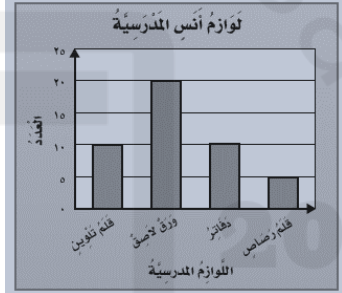

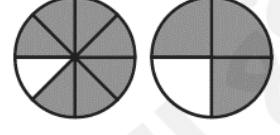
١	ما الْوَحْدَةُ الْأَنْسَبُ لِقِيَاسِ الْمَسَافَةِ بَيْنَ الرِّيَاضِ وَالِدِمَامِ؟	أ المِلْمِتر	ب السَّنْمِتر	ج المِتر	د الكِيلُومِتر
٢	أَقْدِرْ ارْتِفَاعُ الشَّجَرَةِ.	أ ٤ ملم	ب ٤ سم	ج ٤ م	د ٤ كلم
٣	ما التَّقْدِيرُ الْأَنْسَبُ لِسَعَةِ مِلْعَقَةٍ صَغِيرَةٍ؟	أ ٥ مل	ب ٥٠ مل	ج ٥ ل	د ٤ ل
٤	أَيُّ مِمَّا يَلِي كُتْلَتُهُ ٥ كجم؟	أ مَوَزَّةٌ	ب بَطِيخَةٌ	ج سَيَّارَةٌ	د سَفِينَةٌ
٥	أَحَدُ الْمُجَسِّمِ الَّذِي لَهُ وَجْهَانِ وَلَيْسَ لَهُ أَحْرُفٌ.	أ الْمُكْعَبُ	ب الْأُسْطُوَانَةُ	ج الْمُخْرُوطُ	د الْهَرَمُ
٦	ما عَدَدُ أَضْلَاعِ الشَّكْلِ الْمُسْتَوِيِّ الْمُجَاوِرِ؟				
٧	أَصِفْ إِحْتِمَالَ إِخْتِيَارِ الْحَرْفِ (س) مِنَ الْبُطَاقَاتِ التَّالِيَةِ:	<div style="display: flex; justify-content: space-around; align-items: center;"> <div style="border: 1px solid black; padding: 2px 5px;">ع</div> <div style="border: 1px solid black; padding: 2px 5px;">ع</div> <div style="border: 1px solid black; padding: 2px 5px;">س</div> <div style="border: 1px solid black; padding: 2px 5px;">ع</div> <div style="border: 1px solid black; padding: 2px 5px;">ص</div> <div style="border: 1px solid black; padding: 2px 5px;">س</div> <div style="border: 1px solid black; padding: 2px 5px;">ع</div> <div style="border: 1px solid black; padding: 2px 5px;">ع</div> </div>			
٨	الْتَمَثِيلُ بِالْأَعْمِدَةِ التَّالِيِ يُوضِّحُ الزَّمْنَ الَّذِي اسْتَعْرَفَهُ الطُّلَّابُ فِي تَنْظِيفِ أَسْنَانِهِمْ.	أ أَكْبَدُ	ب أَكْثَرُ	ج أَقَلُّ	د مُسْتَحِيلٌ
٩	ما الكُسْرُ الَّذِي يُمَثِّلُ الْجُزْءَ الْمُظَلَّلَ فِي الشَّكْلِ الْمُجَاوِرِ؟	أ ٥	ب ٨	ج ١٢	د ١٩
١٠	هُنَالِكَ ٣ قِطَاطٍ سَوْدَاءَ، وَقِطْعَةٌ وَاحِدَةٌ بَيْضَاءَ، مَا الْكُسْرُ الَّذِي يُمَثِّلُ الْقِطَاطَ الْبَيْضَاءَ؟	أ $\frac{1}{2}$	ب $\frac{3}{4}$	ج $\frac{2}{5}$	د $\frac{3}{5}$
١١	إِشْتَرَتْ أَسْرَةً طَبَقَ بَيْتَرًا، وَأَكَلَتْ الْأَطْفَالُ $\frac{1}{4}$ الطَّبَقِ. مَا الْكُسْرُ الَّذِي يُمَثِّلُ الْجُزْءَ الْمُتَبَقَّى مِنَ الطَّبَقِ؟	أ $\frac{1}{2}$	ب $\frac{1}{4}$	ج $\frac{3}{4}$	د $\frac{2}{4}$
١٢	أَيُّ الْكُسُورِ الْأَتْيَةِ يُكَافِئُ $\frac{1}{10}$ ؟	أ $\frac{1}{10}$	ب $\frac{2}{5}$	ج $\frac{2}{12}$	د $\frac{2}{10}$

ب - أَكْمِلْ رَسْمَ الشَّكْلِ بِالتَّمَاثِيلِ حَوْلَ مِحْوَرٍ مُسْتَعْمَلًا شَبَكَةَ الْمُرَبَّعَاتِ.



السؤال الثاني:

أ- أَكْمِلِ الْفَرَغَاتِ الْآتِيَةَ مُسْتَعِينًا بِالشَّكْلِ الْمُجَاوِرِ:

١		الزَّمَنَ الَّذِي تُشِيرُ إِلَيْهِ السَّاعَةُ هُوَ
٢		الشَّكْلُ الْعَاشِرُ فِي النَّمَطِ هُوَ
٣		هَذَا الشَّكْلُ يُسَمَّى
٤		إِشْتَرَى أَنْسُ عَدَدًا مَتَسَاوِي مِنْ وَ
٥		أَكْمَلْ لِأَحْصِلَ عَلَى كَسْرَيْنِ مُتَكَافِئَيْنِ: $\frac{\blacksquare}{6} = \frac{\blacksquare}{3}$
٦		أُقَارِنُ مُسْتَعْمَلًا (< أَوْ > أَوْ =) : $\frac{7}{8}$ ● $\frac{3}{4}$

ب- اسْتَعْمَلْ هَيْئَتُكَ ٢٤ وَحْدَةً مُكَعَّبَةً لِبِنَاءِ صُنْدُوقٍ. فَمَا الْأَبْعَادُ الْمُمْكِنَةُ لِهَذَا الصُّنْدُوقِ؟

الطول = العرض = الارتفاع =


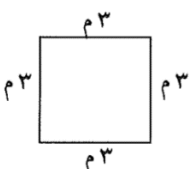


ج- لَوْحَتَانِ مُسْتَطِيلَتَانِ لِلْإِعْلَانَاتِ طُولُ كُلِّ مِنْهُمَا ٣ أمتارٍ وَعَرْضُهَا مِثْرَانِ. فَكَمْ نَحْتَاجُ مِنَ الْوَرَقِ لِعَمَلِ إِطَارٍ حَوْلَهَا؟

.....

.....

السؤال الثالث:

أ - اكتبُ الإجابةَ الصحيحةَ مِنَ العمودِ الثانيِ أمامَ العبارةِ المناسبةِ مِنَ العمودِ الأولِ.

العمود الثاني	الإجابة الصحيحة	العمود الأول
٥		 <p>مَا مِسَاحَةُ الشَّكْلِ بِالْوَحَدَاتِ الْمُرَبَّعَةِ؟</p>
١٠		 <p>مَا مُحِيطُ الشَّكْلِ بِالْمِثْرَ؟</p>
١٢		<p>فِي التَّمَثِيلِ بِالرُّمُوزِ يَظْهَرُ الرَّمْزُ  ٥ مَرَّاتٍ.</p> <p>إِذَا كَانَ الرَّمْزُ الْوَاحِدُ يُمَثِّلُ ٣ أَزْهَارٍ، فَمَا عَدَدُ الْأَزْهَارِ فِي ذَلِكَ التَّمَثِيلِ؟</p>
١٥		<p>بِاسْتِعْمَالِ لَوْحَةِ التَّمَثِيلِ الْآتِيَةِ:</p>
٢٠		 <p>بِكَمْ يَزِيدُ عَدَدُ غُلَبِ مَسْخُوقِ الْغَسِيلِ عَلَى عَدَدِ غُلَبِ الْمُتَبَيِّضِ؟</p>
٢٢		

ب - لِكَيْ تُعَدَّ فَاطِمَةُ سُلْطَةَ الْفَوَاكِهَ أَضَافَتْ $\frac{1}{4}$ كِيلُوجَرَامٍ مِنَ التُّفَاحِ، وَ $\frac{3}{4}$ كِيلُوجَرَامٍ مِنَ الْعِنَبِ، وَ $\frac{1}{3}$ كِيلُوجَرَامٍ مِنَ الْكَرَزِ، أَسْتَغْمِلْ نَمَازِجَ الْكُسُورِ لِأَرْتَبَ هَذِهِ الْكَمِّيَّاتِ تَصَاعُدِيًّا.

.....

ج - أَخْتَارُ الْخُطَّةَ الْمُنَاسِبَةَ لِأَحْلَئِ الْمَسْأَلَةَ الْآتِيَةَ:

يَمْنِي خَالِدٌ كُلَّ صَبَاحٍ إِلَى مَوْقِعِ الْحَافِلَاتِ الَّذِي يُبْعِدُ عَنْ بَيْتِهِ كِيلُوجَرَامًا وَاحِدًا، ثُمَّ يَرْكَبُ الْحَافِلَةَ إِلَى عَمَلِهِ، فَتَسِيرُ بِهِ الْحَافِلَةُ ٦ كِيلُوجَرَامًا. وَبَعْدَ انْتِهَاءِ الْعَمَلِ يَعُودُ خَالِدٌ بِالطَّرِيقَةِ نَفْسَهَا. فَكَمْ كِيلُوجَرَامًا يَقْطَعُ خَالِدٌ كُلَّ يَوْمٍ؟

.....

.....

السؤال الرابع:



أ- لدى قَواز ٣ فُصَّانٍ وَبُنْطَالَانِ بِحَيْثُ يَسْتَطِيعُ أَنْ يَلْبَسُهَا بِأَيِّ تَشَكِيلَةٍ يَرْغَبُ.
كَمْ تَشَكِيلَةً مِنْ قَمِيصٍ وَبُنْطَالٍ يُمَكِّنُهُ الْحُصُولُ عَلَيْهَا؟

.....

.....

.....

ب- سألَ طَالِبٌ فِي الصَّفِّ الثَّالِثِ الْإِبْتِدَائِيِّ عَدَدًا مِنْ زُمَلَائِهِ عَنْ نَوْعِ الطَّعَامِ الْمُفَضَّلِ، وَسَجَّلَ الْبَيِّنَاتُ فِي لَوْحَةِ الْإِشَارَاتِ أَذْنَاهُ. أَمِثِلْ هَذِهِ الْبَيِّنَاتِ بِالْأَعْمِدَةِ.



نوع الطعام المُفضَّل لدى الطُّلاب	
الإشارات	نوع الطعام
###	شَطِيرَةُ اللَّحْمِ
###	الْمَعْكُرُونَةُ
###	الْبَيْتْرَا
	شَطِيرَةُ الدَّجَاجِ



ج- أَصِفْ كَيْسَ الْكُرَاتِ الَّذِي يُمَثِّلُ الْجُمْلَةَ الْآتِيَةَ:

• مُؤَكَّدٌ اخْتِيَارُ كُرَةِ حُمْرَاءَ.