

## المهارات التي يجب إتقانها



### تم تحميل هذا الملف من موقع المناهج السعودية

موقع المناهج ← المناهج السعودية ← الصف الثالث ← رياضيات ← الفصل الثالث ← ملفات متنوعة ← الملف

تاريخ إضافة الملف على موقع المناهج: 2025-05-25 12:10:23

ملفات اكتب للمعلم اكتب للطالب | اختبارات الكترونية | اختبارات | حلول | عروض بوربوينت | أوراق عمل  
منهج انجليزي | ملخصات وتقارير | مذكرات وبنوك | الامتحان النهائي | للمدرس

المزيد من مادة  
رياضيات:

### التواصل الاجتماعي بحسب الصف الثالث



صفحة المناهج  
السعودية على  
فيسبوك

الرياضيات

اللغة الانجليزية

اللغة العربية

التربية الاسلامية

المواد على تلغرام

### المزيد من الملفات بحسب الصف الثالث والمادة رياضيات في الفصل الثالث

مهمة أدائية لدرس الاحتمال بعنوان فريضة الحج

1

أسئلة التهيئة والاستعداد للاختبارات المركزية في الطائف

2

الاختبار المركزي في جدة محلول

3

الاختبار المركزي في حائل مع الحل

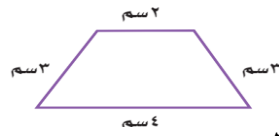

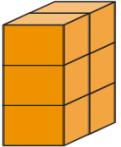
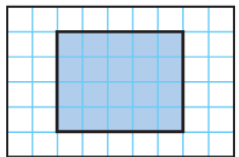
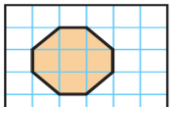
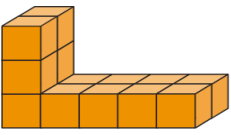
4

الاختبار المركزي في جازان مع الحل

5













## المهارات التي يجب إتقانها

### ١/ معرفة إيجاد المحيط والمساحة والحجم

المحيط	المساحة	الحجم
هو الإطار الخارجي لشكل	هو عدد الوحدات المربعة لتغطية الشكل	هو عدد الوحدات المكعبة لملء الشكل
 <p>المحيط = <math>2 + 3 + 3 + 4 = 12</math> سم</p>	 <p>المساحة = ٨ وحدة مربعة</p>	 <p>الحجم = ٦ وحدة مكعبة</p>
 <p>المحيط = <math>5 + 3 + 5 + 5 = 18</math> وحدة</p>	 <p>المساحة = ٧ وحدة مربعة</p>	 <p>الحجم = ١٤ وحدة مكعبة</p>
	<p>سجادة مستطيلة طولها ٦ أمتار وعرضها ٥ أمتار</p> <p>المساحة = <math>6 \times 5 = 30</math> متر مربع</p>	<p>كتاب طوله ٨ وحدات وعرضه ٦ وحدات وارتفاعه وحدة واحدة</p> <p>الحجم = <math>8 \times 6 \times 1 = 48</math> وحدة مكعبة</p>


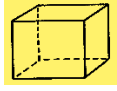




### ٢/ معرفة الوحدات المترية مع بعض الامثلة عليها

وحدات السعة		وحدات الكتلة (الوزن)		وحدات الطول			
لتر ل	مللتر مل	كيلوجرام كجم	جرام جم	كيلومتر كلم	متر م	سنتيمتر سم	ملمتر ملم
سطل	قطارة الدواء	كيس رز كيس دقيق كيس سكر	مشبك ورق	المسافة بين المدن	طول الباب	طول قلم رصاص او تلوين	سمك قطعة معدنية
بركة اطفال	سعة ملعقة	حبيب صندوق خضار	فرشاة اسنان	مسافة سباقات السيارات	طول سيارة	عرض كتاب	طول نملة
قدر طبخ	فنجان	سمكه	برتقالة		طول سبورة	عرض راحة اليد	
قارورة ماء	زجاجة ماء او دواء او عطر	سيارة او دراجة	نظارة شمسية		طول الصف	عرض الاصبع	
حوض سمك	علبة عصير	ثعلب او طفل			سارية العلم		

 ١ : ١٥	 ٨ : ١٠	 ٦ : ٠٥	 ٩ : ٠٠
 ١٠ : ٣٥	 ١ : ٣٠	 ٤ : ٢٥	 ١٢ : ٢٠
 ٣ : ٥٥	 ٣ : ٥٠	 ٧ : ٤٥	 ٣ : ٠٨
تدريب الطالب على جميع الأوقات ومعرفتها هذه فقط بعض الأمثلة			

٤ / معرفة الاشكال المستوية وصفاتها

الشكل	اسمة	صفاته
	مثلث	٣ اضلاع , ٣ زوايا
	رباعي	٤ اضلاع , ٤ زوايا
	سداسي	٦ اضلاع , ٦ زوايا
	خماسي	٥ اضلاع , ٥ زوايا
	ثمانى	٨ اضلاع , ٨ زوايا

المجسم	اسمه	صفاته
	متوازي مستطيلات	٦ أوجه
	مكعب	٨ رؤوس ١٢ أحرف
	مخروط	وجه واحد دائري رأس واحد
	هرم رباعي	٥ أوجه ٥ رؤوس ٨ أحرف
	أسطوانة	وجهان دائريان
	كرة	ليس لها وجه ولا رؤوس ولا أحرف

هذا الملخص لمعرفة المهارات ولتنظيم تسلسل الدروس بطريقة تساعد الطلاب على إدراك جميع المهارات بسهولة بعد الاتقان التوجه للكتاب المدرسي والمذاكرة الجيدة وفقكم الله