

تم تحميل هذا الملف من موقع المناهج السعودية



موقع المناهج المنهاج السعودي

* للحصول على أوراق عمل لجميع الصفوف وجميع المواد اضغط هنا

<https://www.almanahj.com/sa>

* للحصول على أوراق عمل لجميع مواد الصف الثالث اضغط هنا

<https://almanahj.com/sa/3>

* للحصول على جميع أوراق الصف الثالث في مادة رياضيات ولجميع الفصول, اضغط هنا

<https://almanahj.com/sa/3math>

* للحصول على أوراق عمل لجميع مواد الصف الثالث في مادة رياضيات الخاصة بـ الفصل الثاني اضغط هنا

<https://www.almanahj.com/sa/3math2>

* لتحميل كتب جميع المواد في جميع الفصول للـ الصف الثالث اضغط هنا

<https://www.almanahj.com/sa/grade3>

للحصول على جميع روابط الصفوف على تلغرام وفيسبوك من قنوات وصفحات: اضغط هنا

<https://t.me/sacourse>

الاسم :

الصف : الثالث

الاثنين ٢٠ / ٨ / ١٤٤١ هـ

أرسم صورةً لأمثل كل كسر فيما يأتي:

٢ سُبْعَا

١ سُدْسَيْنِ

٤ $\frac{1}{5}$

٣ خَمْسَةَ أَثْمَانِ

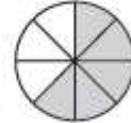
٦ $\frac{1}{3}$

٥ $\frac{2}{4}$


اكتب الكسر الذي يُمثل الجزء المُظلل في كل شكلٍ مما يأتي:



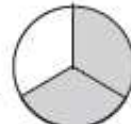
٨



٧



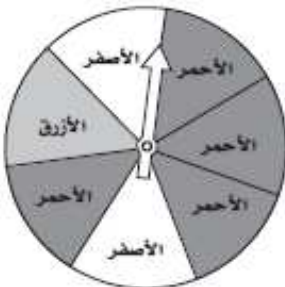
١٠



٩

مراجعة الدرس السابق

أصِفْ احتمالَ وَقُوفِ الْمُؤَشِّرِ عَلَى كُلِّ لَوْنٍ مِنَ ألَوَانِ الْقُرْصِ ذِي الْمُؤَشِّرِ الدَّوَّارِ،
وَأَكْتُبْ: (أكيد، أكثر احتمالاً، أقل احتمالاً، مُستحيل):



١٢ الأَحْمَرُ

١١ الأَزْرَقُ

١٤ الأَسْوَدُ

١٣ الأَحْمَرُ أَوْ الْأَصْفَرُ أَوْ الْأَزْرَقُ