

## نماذج تدريبية شاملة للاختبارات المركزية في المواد الأساسية



### تم تحميل هذا الملف من موقع المناهج السعودية

موقع المناهج ← المناهج السعودية ← الصف الثالث ← رياضيات ← الفصل الأول ← ملفات متنوعة ← الملف

تاريخ إضافة الملف على موقع المناهج: 2026-01-05 16:38:55

ملفات اكتب للمعلم اكتب للطالب | اختبارات الكترونية | اختبارات | حلول | عروض بوربوينت | أوراق عمل  
منهج انجليزي | ملخصات وتقارير | مذكرات وبنوك | الامتحان النهائي | للمدرس

المزيد من مادة  
رياضيات:

### التواصل الاجتماعي بحسب الصف الثالث



صفحة المناهج  
السعودية على  
فيسبوك

الرياضيات

اللغة الانجليزية

اللغة العربية

التربية الاسلامية

المواد على تلغرام

### المزيد من الملفات بحسب الصف الثالث والمادة رياضيات في الفصل الأول

اختبار مركزي تابع لمحافظة الحدود الشمالية	1
اختبار مركزي تابع لمحافظة الباحة	2
اختبار مركزي تابع لمحافظة الرياض	3
اختبار مركزي تابع لمحافظة تبوك	4
اختبار مركزي تابع لمحافظة عسير	5

### تدريبات المسائل الحسابية (الفهم القرائي) مادة الرياضيات صف ثالث ابتدائي

اسم الطالب :	الصف : الثالث ابتدائي ( )
--------------	---------------------------

#### السؤال الأول: أجب عن الأسئلة التالية:

١. ركض ناصر ٤ دورات حول الملعب في اليوم الأول و ٦ دورات في اليوم الثاني و ٨ دورات في اليوم الثالث. اذا استمر على هذا النمط، فكم دورة ركض في اليوم الخامس؟

.....

.....

.....

٢. يبين الجدول المجاور ما يوفره أحمد يومياً، فكم ريالاً يوفر في كل من اليوم الخامس، واليوم العاشر اذا استمر بهذا النمط؟

توفير أحمد	
اليوم	المبلغ (الريال)
الأول	٤
الثاني	٨
الثالث	١٢
الرابع	١٦

.....

.....

.....

٣. رسمت هند ٦ نجومات في الصفحة الأولى من كراستها، و ١٠ نجومات في الصفحة الثانية، ثم ١٤ نجمة في الصفحة الثالثة. اذا استمرت بهذا النمط؛ فكم نجمة سترسم في الصفحة الرابعة؟

.....

.....

.....

٤. تبعد مدينة نيوم عن مدينة الرياض مسافة ألف أربع مئة وسبعة وأربعين كيلو متراً. اكتب هذا العدد بالصيغتين: القياسية التحليلية.

.....

.....

.....

٥. بلغ عدد السياح في محافظة العلا ١٠ ٥٥٠ سائحين. اكتب هذا العدد بالصيغة اللفظية.

.....

.....

.....

٦. عدد أعضاء نادي البراعم ١٣١، وعدد أعضاء نادي الزهور ١١٣، أيهما أكثر عدداً؟ أوضح اجابتي.

٧. عدد طلاب الصف الثالث الابتدائي في مدرسة ١٦٥ طالباً، وعدد فصول الصف الثاني الابتدائي في المدرسة نفسها خمسة فصول؛ في كل فصل ٣٥ طالباً، أي الصفين فيه طلاب أكثر؟ أوضح اجابتي.

٨. اشترى أبو أحمد ثلاثة وغسالة وفرنًا، فأيهما أغلى ثمنًا؟



٩. تحتاج ليلى الى ٦٧ ريالاً لتشتري حقيبة، فكم ريالاً تحتاج مقرباً الى أقرب عشرة؟

١٠. مع فهد ١٧٩ بطاقة ملونة، اذا قال إن معه ٢٠٠ بطاقة تقريباً، فهل قرب العدد الى أقرب عشرة أم الى أقرب مئة؟ أشرح.

١١. قطع قطار مسافة ١٦٨٧ كيلو متراً، ما عدد الكيلومترات التي قطعها القطار مقرباً الى أقرب مئة؟



١٢. نظمت نورة ٢٢٨ خرزة في خيط. اذا أضافت اليها ٢٥ خرزة أخرى، فكم يصبح عدد الخرزات مقرباً الى اقرب مئة؟

١٣. وفر خالد ١٤٨٦ ريالاً، ووفرت أخته عائشة ١٢٥٢ ريالاً، ما الفرق بين المبلغين مقرباً الى اقرب عشرة؟

١٤. في مزرعة والد أحمد ١٢٥٠ نخلة، اقرب عدد النخيل الى اقرب ألف.

١٥. بلغ عدد حضور مباراة كرة قدم ٦٩٨٩ شخصاً، فما عدد الحضور مقرباً الى أقرب ألف؟

١٦. في مكتبة المدرسة ١٤٨٣ كتاباً، فكم كتاباً في المكتبة مقرباً الى أقرب ألف؟ ١٠٠ كتاب تقريباً

١٧. ركب سعد الطائرة في رحلة الذهاب قاطعاً مسافة ١١٤٢ كيلومتراً، فكم كيلومتراً قطعت الطائرة ذهاباً واياباً مقرباً الى أقرب ألف؟  $1000 + 1000 = 2000$  كلم تقريباً



oobcnc

السؤال الثاني: أجب عن الأسئلة التالية:

١. رسمت سلمى الصورة أدناه. أكتب جملتين عدديتين بوصفهما مثالاً على خاصية التجميع لعملية الجمع التي تدل على عدد الصور.

٢. دخل صالح مكتبة فاشترى ٦ دفاتر لونها أزرق ودفترين لونها أحمر ودفترين لونها أصفر، وبقي على الرف ٧ دفاتر، فكم دفترًا كان على رف المكتبة؟

٣. نظمت المدرسة زيارتين لمدينة الألعاب، فإذا شارك في الزيارة الأولى ٥٣ طالباً، وفي الزيارة الثانية ٤٥ طالباً، أقدر مجموع الطلاب المشاركين في الزيارتين.

٤. أقدر مجموع المشاركين في سباق قطع المسافات في الجدول أدناه.

سباق قطع المسافات		
ساعة الانطلاق	نوع السباق	عدد المشاركين
٩:٠٠ صباحاً	الحُرِّي	٧٩
١٠:٠٠ صباحاً	الْمُتَّحِد	٥١

النهاية

٥. ما التقدير المعقول لعدد الذين حضروا لمشاهدة المعرض الفني؟

عدد الحضور لمشاهدة المعرض الفني	
الأربعاء	الخميس
١٤٢	١٩٦

٦. قام عامل نظافة بتنظيف ٤١ نافذة اليوم، و٥٤ نافذة يوم أمس؛ أجد عدد النوافذ التي قام العامل بتنظيفها خلال اليومين.



٧. اذا كان في الحديقة ١٣ طفلاً يلعبون الكرة و ١٨ طفلاً يلعبون بالأرجوحة، فما العدد الكلي للأطفال الذين يلعبون؟

٨. في الأسبوع الماضي احتوت فقرة الاملاء على ٢٥ كلمة، واحتوت فقرة هذا الأسبوع على ١٩ كلمة، فما عدد الكلمات في الفقرتين؟

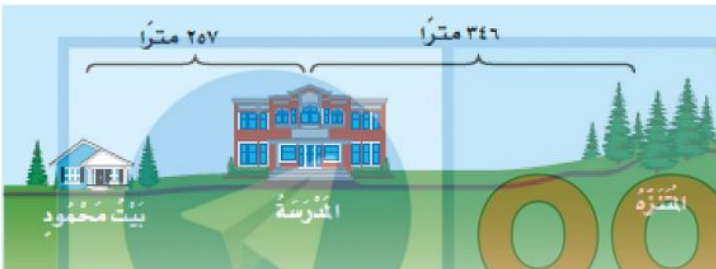
٩. اشترت سامية ٣٨ تفاحة حمراء، و ١٨ تفاحة صفراء. اذا استعملت ١١ تفاحة منها في عمل فطيرة، فكم تفاحة بقيت لديها؟

١٠. لدينا علبتان؛ احدهما تحوي ٢٤ قطعة حلوى، والأخرى ٣٦ قطعة، فهل هناك عدد كاف من قطع الحلوى لعمل ٢٥ مغلفاً، اذا أردنا أن نضع في كل مغلف حلوى؟

١١. في مكتبة الصف الثالث ١٧٦ قصة، وفي مكتبة الصف الثاني ٢٣٨ قصة، فكم قصة في المكتبتين؟

١٢. عرضت دراجتان للبيع بشعر ١٩٩ ريالاً و ٤٥٨ ريالاً، فكم ثمن الدراجتين معاً؟

١٣. ما المسافة الكلية بين بيت محمود والمنتزه ذهاباً وإياباً؟ (استعين بالخريطة).



١٤. لدى هند علبة أقلام تحتوي ٣٦ قلمًا. فإذا أعطت صديقتها ١٤ قلمًا، فكم قلمًا يبقى معها؟

١٥. ذهب راشد إلى السوق ليشتري ٤٩ نسخة من مجلة عملية، فإذا اشترى من المكتبة الأولى ٢٧ نسخة، فكم نسخة أخرى يحتاج؟

### السؤال الثالث: أجب عن الأسئلة التالية:

١. في الكيس ٢٦ علبة عصير؛ ٨ علب منها بطعم الليمون، فما عدد العلب بالطعم الأخرى؟

٢. لدى محمد ٤٢ قطعة من الطباشير، أعطى خالد ١٣ قطعة، وأعطى سعيد ١٥ قطعة، فكم قطعة بقيت معه؟

٣. إذا كانت عطلة الصيف ٩٠ يومًا، وبقي منها ٢٨ يومًا، فكم يومًا انقضى منها؟

٤. دعا سالم ١١٢ شخصًا إلى حفلة زواجه، فلم يحضر ٣٧ مدعوا منهم، كم شخصًا تقريبًا حضر الحفلة؟

٥. تبلغ سرعة الرياح في عاصفة ٨٦ كيلومترًا في الساعة، بينما تبلغ سرعة الرياح في النسيم ٢٩ كيلومترًا في الساعة. أقدر الفرق بين سرعتي الرياح في كل من العاصفة والنسيم.



٦. أراد طلاب الصف الثالث إهداء ٧٨ كتاباً لمكتبة المدرسة، فوفروا ٤٩ كتاباً، اقدر كم كتاباً تبقى؟

٧. لدى سوسن ٣٨ قلم تلوين؛ أعطت اختها عير ١٤ قلمًا منها، وأعطت أخاها هشامًا ١٢ قلمًا أجد عدد أقلام التلوين التي بقيت معها.

٨. وفر محمد ٨٥٢ ريالاً هذا العام، وكان قد وفر ٧٥٥ ريالاً في العام الماضي، فكم ريالاً وفر في هذا العام زيادة على العام الماضي؟

٩. على وليد أن يقطع مسافة ٢٨١ م حتى يصل الى نهاية السباق، بينما يحتاج صديقة أن يقطع ١٨٧ م، أجد فرق المسافة بينهما حتى يصلا الى نهاية السباق؟

١٠. كان في محفظة علي ٢٠٠ ريال، أنفق منها ٢٧ ريالاً فكم ريالاً بقي معه؟

١١. تريد معلمة أن تهدي طالباتها ٢٠٠ كتاب، فكم كتاب تحتاج اذا كان لديها ١٣٧ كتاباً؟

١٢. قطف مزارع ٢٠٨ ثمرة بطيخ، وزرع منها على جيرانه ٣٢ ثمرة، وباع ١٦٩ ثمرة، فكم ثمرة بقيت لديه؟



١٣. تحتاج سارة الى جمع ٢٢٥ طابعاً تذكاريّاً، للمشاركة في معرض تحت رعاية شركة السعودية (معادن)، فاذا كانت قد جمعت حتى الآن ١٤٧ طابعاً، فكم طابعاً ينقصها؟

جَمْعُ الْمُلصَقَاتِ	
الْمُلصَقَاتُ	الاسْمُ
٤٤	وائل
٣٧	خالد
٥٧	سعيد

١٤. قام سعد وسعود بجمع صدفات من شاطئ البحر القريب من الهيئة الملكية في ينبع، فاذا جمع ٧١١ صدفه، وجمع سعود ٢٥ صدفه زيادة على ما جمع سعد فكم صدفه جمع سعود؟

١٥. يظهر الجداول أدناه عدد الملصقات التشجيعية التي حصل عليها ثلاثة طلاب، فما العدد الكلي للملصقات التي حصل عليها وائل وخالد معاً؟

١٦. التقطت نورة عند زيارتها لشركة (سابك) ٦٧ صورة، منها ١٩ صورة معامل إنتاج البلاستيك والباقي صور لمعامل كيميائية، فما عدد صور المعامل الكيميائية؟

١٧. لدى سعاد طبقان، في كل منهما ٤ قطع من البسكويت، فكم قطعة من البسكويت لديها؟

١٨. يركض محمد حول الملعب ٣ دورات في اليوم، فكم دورة يركض في يومين؟

السؤال الرابع: أجب عن الأسئلة التالية:

١. أكتب جملي ضرب لإيجاد عدد الأعلام مع ٥ أطفال اذا كان كل طفل يحمل علمين.

٢. تشرب مها كوين من الحليب يومياً، فكم كوباً تشرب في أسبوع؟

٣. ١٠ طلاب مع كل طالب قلمان. ما عدد الأقلام كلها؟

٤. ثلاثة طلاب مع كل واحد منهم ريالان. ما عدد الريالات مع الطلاب الثلاثة؟

٥. كم ضلعاً لمربعين؟

٦. اذا كان للعنكبوت ٨ أرجل، فكم رجلاً للعنكبوتين؟

٧. كم جناحاً لطائرين؟



٨. قرأ خالد ٨ كتب، اذا كان كل كتاب يتكون من ٤ فصول، فما عدد الفصول التي قرأها خالد؟

٩. حافلة طلاب فيها ٩ صفوف من المقاعد، اذا كان كل صف يتسع لأربعة طلاب، وكان هناك ٢٨ طالباً، فما عدد الطلاب الذين لا يمكنهم ركوب الحافلة؟

١٠. يضع عبدالله كل أربعة أقلام في علبة، اذا كان معه ٢٨ قلمًا، ففي كم علبة يضعها؟

١١. وزعت أم قطعا من البسكويت على أولادها الثلاثة فاذا اخذ كل منهم ٥ قطع، فكم قطعة وزعت؟ أوضح ذلك.

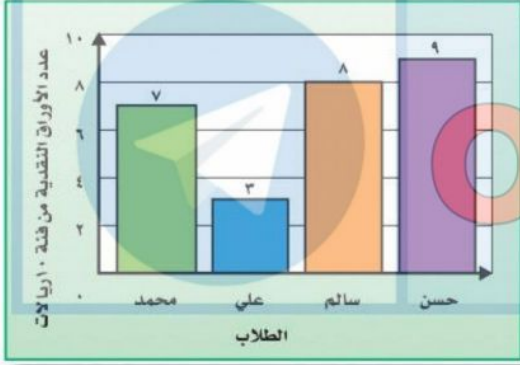
١٢. قسمت فطيرة الى ٥ صفوف، في كل صف ٤ قطع ما عدد القطع كلها؟

١٣. اشترك ٨٢ طالبا في استعراض رياضي. فاذا اصطف بعضهم في ٥ صفوف، وكان في كل صف ٩ طلاب، فكم طالباً لم يصطف؟

١٤. مع بدر أربع ورقات نقدية من فئة ٥ ريال. فاذا أراد أن يشتري ٤ أقلام، وكان سعر القلم الواحد ٦ ريال، فهل يكفي المبلغ الذي معه؟ أفسر اجابتي.

١٥. في حديقة الحيوان ٥ زرافات، و ١٠ بطات، كم رجلاً للزرافات والبطات معاً؟





١٦. مستعينة بالرسم ما الفرق بين اقل عدد من النقود وأكبر عدد منها؟

١٧. في أحد فصول المدرسة ٩ طاولات. فإذا جلس طالب واحد على كل طاولة منها، فما عدد الطلاب الذين جلسوا على الطاولات جميعها؟

١٨. كم رجلاً لثمانى حيات؟

١٩. وجد قبطان ٣ صناديق فارغة من المجوهرات. كم جوهرة في هذه الصناديق؟

٢٠. شاهد عبدالله ثمانى سحال، على ظهر كل منها بقعة سوداء. ما عدد البقع السوداء كلها؟

٢١. باعت مكتبة رزم دفاتر. فإذا كان في كل رزمة ١٢ دفترًا، وكان سعر الدفتر الواحد ريالين، فكم دفترًا باعت المكتبة؟

٢٢. في مشرح المدرسة ٦ صفوف من المقاعد، في كل صف ١٠ مقاعد، فكم شخصاً يسع المسرح؟



**السؤال الخامس: أجب عن الأسئلة التالية:**

١. مع سعاد ٥٠ ريالاً. فإذا كان سعر علبة الحلوى الواحدة ٥ ريالاً، فهل يكفي ما معها لشراء ٨ علب؟ ما السبب؟


٢. هناك ٩ أشجار زينة على كل من جانبي طريق، وبعد قطع بعضها بقي ٧ أشجار على الجانبين. كم شجرة قطعت؟

٣. تنمو أوراق إحدى الأشجار على شكل مجموعات من ٣ أوراق على كل غصن، ما عدد الأوراق الموجودة على ٩ أغصان منها؟

٤. مع كل من سعاد وليلى وفاطمة ٣ تفاحات. أكلت كل واحدة منهن تفاحة واحدة. كم تفاحة بقيت معهن جميعاً؟

٥. باع محل ٤ مجموعات من الأقلام بسعر ٥ ريالاً لكل مجموعة فإذا كانت كل مجموعة مكونة من ٣ أقلام، فما ثمن الأقلام جميعها؟ كم قلماً في المجموعات الأربع؟

٦. اشترى موسى و٥ من أصدقائه كتاباً من معرض الكتاب. فإذا اشترى كل واحد منهم ٥ كتب، فما عدد الكتب التي اشتروها؟





٧. ستة طلاب؛ اشترى كل واحد منهم ٥ قطع من الشوكولاتة. فاذا أكلوا ٦ قطع منها، فكم قطعة بقيت معهم؟

٨. تتسع حافلة صغيرة لـ ٦ طلاب هل تكفي ٧ حافلات من النوع نفسه لنقل ٤٥ طالباً؟ ما السبب؟

٩. أعطت هيفاء ٤ أقلام لكل واحدة من صديقاتها السبع. كم قلما أعطت هيفاء صديقاتها؟

١٠. لعب عامر و٦ من أصدقائه كرة السلة، فاحرزوا ٣٥ هدفاً. فاذا احرز كل واحد منهم العدد نفسه من الأهداف فكم هدفاً. فاذا احرز كل واحد منهم العدد نفسه من الأهداف، فكم هدفاً أحرز كل واحد؟

١١. خلال ٩ أسابيع من العطلة الصيفية امضى محمد أسبوعين في ابها ما عدد الأيام التي لم يمضها محمد في ابها؟

١٢. طلبت والدة عيبر منها أن توزع عجينة البسكويت في صينية الخبز في ٣ صفوف متساوية، بحيث تضع في كل صف ٧ قطع من عجينة البسكويت، احدد عدد قطع البسكويت التي وضعتها عيبر في صينية الخبز.

١٣. يشتري احمد علبة حليب كل يوم بـ ٤ ريالات. كم ريالاً ينفق ليشتري حليباً في ٨ أيام؟



١٤. عمل سامي في ٥ ساعات في الأسبوع الأول من الشهر. فإذا عمل في الأسبوع الأخير من الشهر ٨ أيام أمثال ما عمله في الأسبوع الأول من ساعات. فكم ساعة عملها في الأسبوع الأخير؟

١٥. يوجد في سيارة لتوزيع العصائر الطازجة ٩ صناديق، وفي كل صندوق ٨ عبوات كبيرة. فإذا باع الموزع صندوقين لأول متجر، فكم عبوة بقيت في السيارة؟

١٦. تحتفظ ليلي بـ ٦٣ ربطة شعر موضوعة في صناديق صغيرة. فإذا كان كل صندوق يحوي ٩ قطع، فما عدد الصناديق؟

١٧. اشترت سارة ٥ قصص. فإذا كان سعر القصة الواحدة ٩ ريال، فكم ريالاً دفعت؟

١٨. أقام نادي الفروسية سباقاً السنوي من ٤ أشواط للخيول العربية، ٣ أشواط للخيول غير العربية. إذا شارك في كل شوط ٩ خيول، فما عدد الخيول المشاركة من النوعين؟

١٩. يستعمل زيد ٩ أمتار من الحبال لعمل شبكة واحدة. كم متراً من الحبال يحتاج لعمل ٤ شبكات؟

٢٠. يوجد ٣ طاولات، على كل منها ٤ كتب، ومع كل كتاب قلمان. ما عدد الأقلام كلها؟



٢١. اشترى خالد صندوقين من علب الجبن في كل منهما ٤ صناديق صغيرة، ويحوي كل صندوق ١٠ علب. ما عدد العلب التي اشتراها خالد؟

٢٢. قطعت سلمى ٥ تفاحات، كل تفاحة الى قطعتين. ثم جاءت اختها وقطعت كل قطعة الى ٤ قطع صغيرة. أكتب جملة ضرب تبين عدد القطع الصغيرة كلها.



oobcnc



oobcnc