

بسم الله الرحمن الرحيم

الصف/الثالث الابتدائي .

المادة/رياضيات.

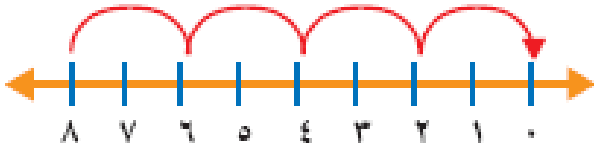
الموضوع/ علاقة القسمة بالطرح

التاريخ/.....

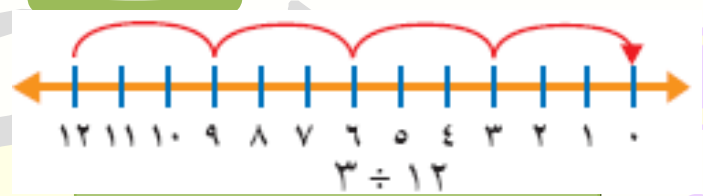
الاسم/.....

الحصة/.....

: استعمل الطرح المتكرر لأقسام

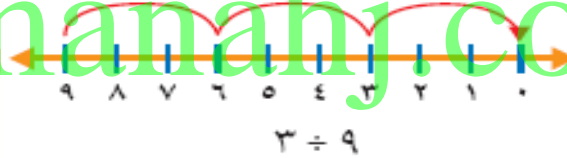


..... =



..... =

almanahj.com/sa




3 ÷ 9


..... =

توقيع ولي الأمر :

.....



لم يتقن



أتقن

توقيع المعلم:

.....

الصف/الثالث الابتدائي .









المادة/رياضيات.











الموضوع/ علاقة القسمة بالضرب .

التاريخ/.....

الاسم/.....
الحصة/.....

: أستعمل الشبكات لأكمل كل زوج من الجمل العددية:


		$8 = 2 \times \dots\dots\dots$
		$2 = 4 \div \dots\dots\dots$
		
		

					$24 = \dots\dots\dots \times 4$
					$6 = \dots\dots\dots \div 24$
					
					


almanahj.com/sa

توقيع ولي الأمر:

.....



لم يتقن



أتقن

توقيع المعلم:

.....

بسم الله الرحمن الرحيم

الصف/الثالث الابتدائي .

المادة/رياضيات.

الموضوع/مهارة حل مسألة

التاريخ/.....

الاسم/.....

الحصة/.....

: قدمت كل من عائشة وخديجة الهدايا الآتية جوائز في
حفلة نهاية العام الدراسي .



الجائزة العدد

كُتِبَ..... ٥


سَاعَاتُ..... ٤

حَقَائِبُ..... ٦


almanahj.com/sa

توقيع ولي الأمر :

.....



لم يتقن



أتقن

توقيع المعلم:

.....

بسم الله الرحمن الرحيم

الصف/الثالث الابتدائي .

المادة/رياضيات.

الموضوع/ القسمة على 2

التاريخ/.....

الاسم/.....

الحصة/.....



: أجد ناتج القسمة
ثم أكتب حقيقة
الضرب المتراطة
معها .

الحل

الحل

.....

.....

.....

.....

.....

.....

توقيع ولي الأمر :

.....

لم يتقن

أتقن

توقيع المعلم:

.....

بسم الله الرحمن الرحيم

الصف/الثالث الابتدائي .

المادة/رياضيات.

الموضوع/ القسمة على 5

التاريخ/.....

الاسم/.....

الحصة/.....

: أجد ناتج القسمة مستعملا النماذج أو الحقائق المترابطة .

.....

almanahj.com/35

.....

$$5 \div 20$$

.....

$$5 \div 40$$

توقيع ولي الأمر :

.....

لم يتقن

أتقن

توقيع المعلم:

.....

بسم الله الرحمن الرحيم

الصف/الثالث الابتدائي .

المادة/رياضيات.

الموضوع/ القسمة على 10

التاريخ/.....

الاسم/.....

الحصة/.....

أجد ناتج القسمة :

..... =


$10 \div 20$

..... =


$10 \div 50$

توقيع ولي الأمر :

.....



لم يتقن



أتقن

توقيع المعلم:

.....

الصف/الثالث الابتدائي .

المادة/رياضيات.

الموضوع/ القسمة مع الصفر وعلى الواحد

التاريخ/.....

الاسم/.....
الحصة/.....

أجد ناتج القسمة :

.....=

$$1 \div 5$$

.....=

$$1 \div 0$$

توقيع ولي الأمر :

.....

لم يتقن

أتقن

توقيع المعلم :

.....

الصف/الثالث الإبتدائي .

المادة/رياضيات.

الموضوع/ القسمة على 3 وعلى 4

التاريخ/.....

الاسم/.....

الحصة/.....

: أستعمل قطع العد أو الحقائق المترابطة لأجد
ناتج القسمة :

..... = 3 ÷ 15

..... = 4 ÷ 16

..... = 3 ÷ 18

..... = 4 ÷ 20

..... = 3 ÷ 3

..... = 3 ÷ 9

توقيع ولي الأمر :

لم يتقن

أتقن

توقيع المعلم :

الصف/الثالث

المادة/رياضيات

الموضوع/ خطة حل مسألة

التاريخ/.....

الاسم/.....

الحصة/.....

اشترى وليد 32 كتابا . فما
عدد الكتب المجانية التي حصل
عليها ؟



.....

.....

.....

بسم الله الرحمن الرحيم

الصف/الثالث الابتدائي .

المادة/رياضيات.

الموضوع/ القسمة على 6 ، 7.

التاريخ/.....

الاسم/.....

الحصة/.....

: استعمل النماذج أو الطرح المتكرر لإيجاد ناتج
القسمة :

..... = $7 \div 35$


..... = $6 \div 30$

..... = $7 \div 42$

..... = $6 \div 24$


..... = $7 \div 49$

..... = $7 \div 28$




توقيع ولي الأمر :

.....



لم يتقن



أتقن

توقيع المعلم:

.....

بسم الله الرحمن الرحيم

الصف/الثالث الابتدائي .

المادة/رياضيات.

الموضوع/ القسمة على 8 ، 9

التاريخ/.....

الاسم/.....


الحصة/.....

: استعمل النماذج أو الطرح المتكرر لإيجاد ناتج
القسمة :


..... = $8 \div 8$
..... = $8 \div 16$
..... = $9 \div 27$
..... = $9 \div 36$
..... = $9 \div 81$
..... = $9 \div 18$
..... = $8 \div 24$
..... = $8 \div 32$

توقيع ولي الأمر :

.....



لم يتقن



أتقن

توقيع المعلم:

.....

بسم الله الرحمن الرحيم

الصف/الثالث الابتدائي .

المادة/رياضيات.

الموضوع/ استقصاء حل مسألة

التاريخ/.....

الاسم/.....

الحصة/.....

أيهما يكلف أكثر شراء حقيبتين أم شراء 3 أحذية ؟
أوضح اجابتي .



الحل :

.....

.....


.....

.....


.....

توقيع ولي الأمر :

.....



لم يتقن



أتقن

توقيع المعلم:

.....

المادة/رياضيات.


الموضوع/ وحدات الطول المترية

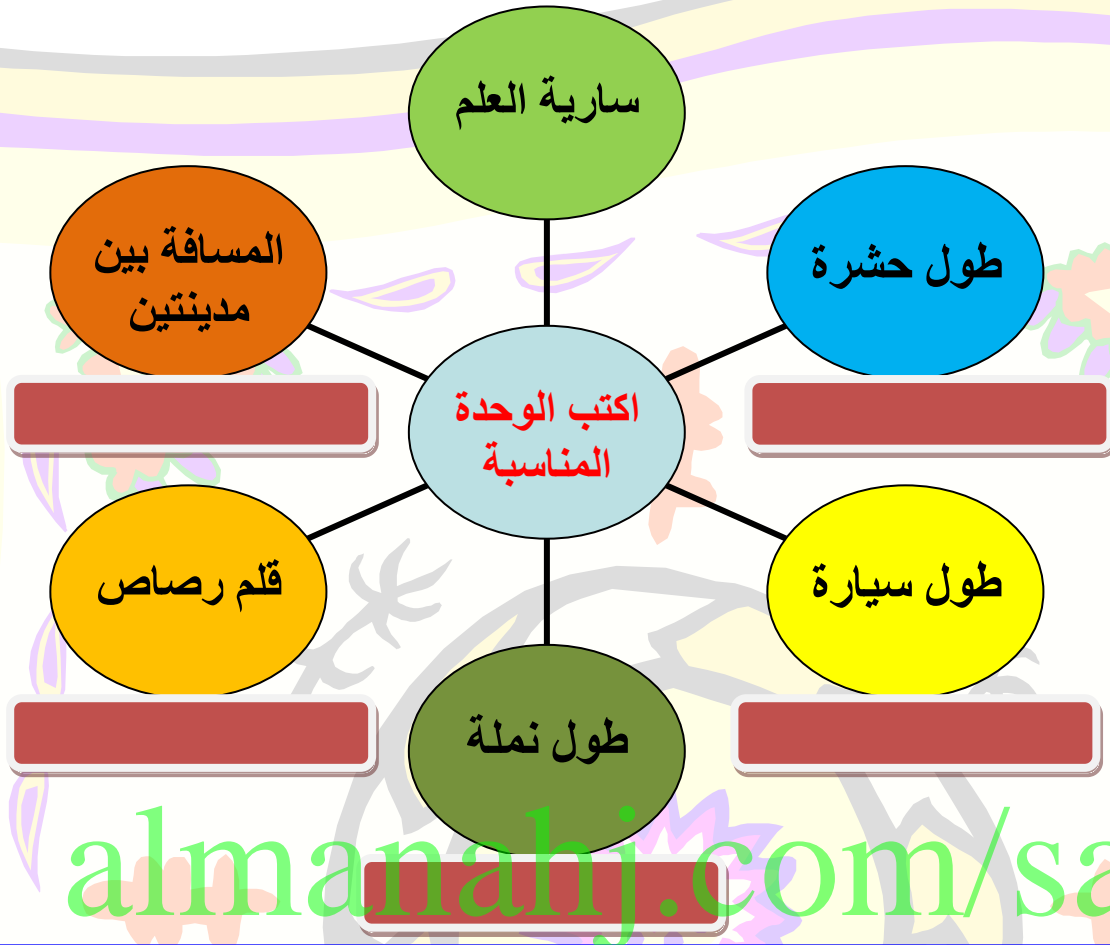
التاريخ/.....

الاسم/.....

الحصة/


أختار الوحدة المناسبة لقياس كل
من الأطوال الآتية






توقيع ولي الأمر :

.....



لم يتقن



أتقن

توقيع المعلم:

.....

بسم الله الرحمن الرحيم

الصف/الثالث الابتدائي .

المادة/رياضيات.

الموضوع/ خطة حل مسألة

التاريخ/.....

الاسم/.....

الحصة/.....

: يوضح الجدول ادناه الانشطة التالى قام بها
على . فاذا كان على قد انتهى منها فى الساعة
السابعة مساء ، فمتى بدأ ؟

أنشطة على	
النشاط	المدة
لعبة كرة القدم	ساعة واحدة
المذاكرة	٣ ساعات

الحل
almanahj.com

توقيع ولي الأمر :

.....

لم يتقن

أتقن

توقيع المعلم:

.....

بسم الله الرحمن الرحيم

الصف/الثالث الابتدائي .

المادة/رياضيات.

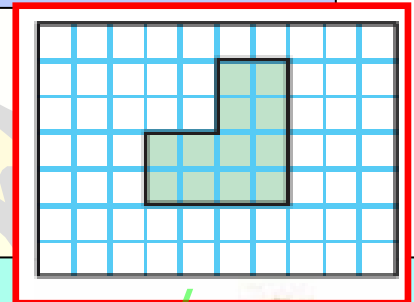
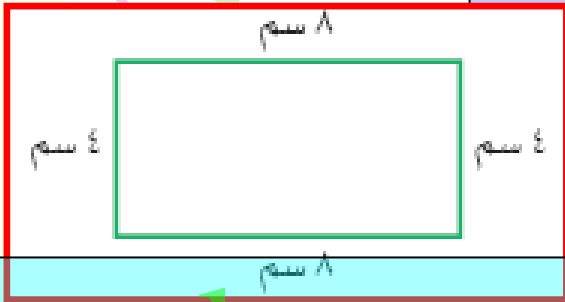
الموضوع/ المحيط

التاريخ/.....

الاسم/.....

الحصة/.....


: أجد محيط كل شكل من الأشكال التالية :




almanahj.com/sa

توقيع ولي الأمر :

.....



لم يتقن



أتقن

توقيع المعلم:

.....

بسم الله الرحمن الرحيم

الصف/الثالث الابتدائي .


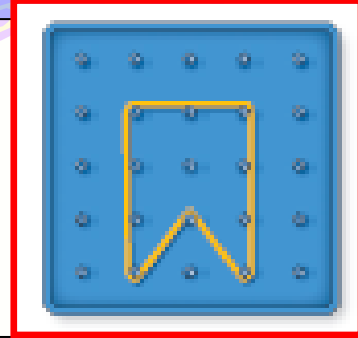
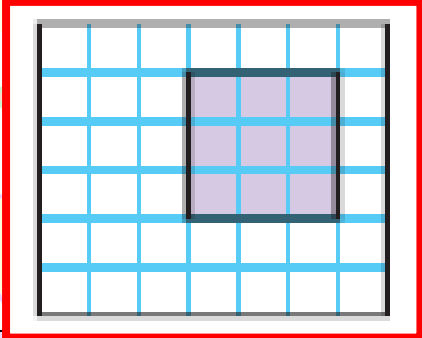
المادة/رياضيات.

الموضوع/ قياس المساحة

التاريخ/.....

الاسم/.....
الحصة/.....

: أجد محيط كل شكل من الأشكال التالية :




almanahj.com/sa

توقيع ولي الأمر :



لم يتقن



أتقن

توقيع المعلم:

الصف/الثالث الابتدائي .

المادة/رياضيات .
الموضوع/ وحدات السعة المترية

التاريخ/.....

الاسم/.....

الحصة/.....

: أختار التقدير الأفضل .




.....
.....
.....
.....
.....
.....
.....
.....
.....
.....

.....
.....
.....
.....
.....
.....
.....
.....
.....
.....


almanahj.com/sa

توقيع ولي الأمر :

.....



لم يتقن



أتقن

توقيع المعلم:

.....

الصف/الطالب الإبداعي .

المادة/رياضيات .
الموضوع/ وحدات الكتلة المترية
التاريخ/
الاسم/
الحصة/



: أختار التقدير الأفضل .



٩٠٠ جم ، ٩٠٠ كجم




٢ جم أم ٢ كجم




almanahj.com/sa

توقيع ولي الأمر :

.....



لم يتقن



أتقن

توقيع المعلم:

.....

بسم الله الرحمن الرحيم

الصف/الثالث الابتدائي .

المادة/رياضيات.

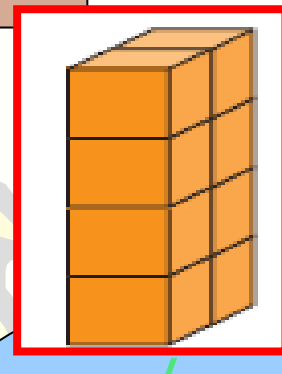
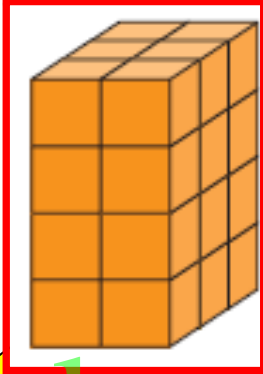
الموضوع/ تقدير الحجم وقياسه

التاريخ/.....

الاسم/.....

الحصة/.....


: أختار التقدير الأفضل .




almanahj.com/sa

توقيع ولي الأمر :

.....



لم يتقن



أتقن

توقيع المعلم:

.....

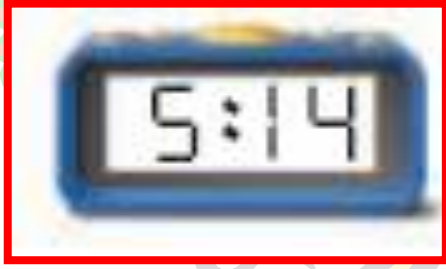
الموضوع/ الزمن : قراءة الساعة

التاريخ/.....

الاسم/.....

الحصة/.....

: أكتب الزمن الذي تشير اليه
الساعة الرقمية أو الساعة العادية



.....

.....

.....

.....

.....

.....

.....

.....

.....

.....

.....


.....

.....


.....

توقيع ولي الأمر :

.....



لم يتقن



أتقن

توقيع المعلم:

.....

بسم الله الرحمن الرحيم

المادة/رياضيات.

الصف/الثالث الابتدائي




الموضوع/المجسمات

التاريخ/.....

الاسم/.....


الحصة/.....

أذكر أسماء المجسمات الآتية :




توقيع ولي الأمر :

.....



لم يتقن



أتقن

توقيع المعلم:

.....

بسم الله الرحمن الرحيم

المادة/رياضيات.

الصف/الثالث الابتدائي

الموضوع/ الاشكال المتساوية

التاريخ/.....

الاسم/.....

الحصة/.....

: أصف الشكل المستوى مستعملا عدد
الأضلاع وعدد الزوايا ثم أسميه :




almanahj.com/sa

.....
.....
.....
.....
.....


.....
.....
.....
.....
.....

توقيع ولي الأمر :

.....



لم يتقن



أتقن

توقيع المعلم:

.....

من مسألة

التاريخ/.....


الاسم/.....
الحصة/.....

: إطار خشبي مستطيل الشكل يزيد كل من طوله وعرضه بـ 2 سم على طول وعرض الصورة أدناه أجد محيط الإطار الخشبي .




almanahj.com/sa

توقيع ولي الأمر :



لم يتقن



أتقن

توقيع المعلم:

الموضوع/ الأنماط الهندسية
التاريخ/.....
الاسم/.....
الحصة/.....


: أحدد النمط وأوسععه .



almanahj.com/sa

توقيع ولي الأمر :

.....



لم يتقن



أتقن

توقيع المعلم:

.....

بسم الله الرحمن الرحيم

الصف/الثالث الابتدائي .

المادة/رياضيات.

الموضوع/ إستقصاء حل مسألة

التاريخ/.....

الاسم/.....

الحصة/.....


: ذهب سعد وأصدقاؤه الأربعة الى مملكة الأطفال .
أستعمل الجدول الموضح أدناه كي أجد كم ريالاً دفعوا؟

أشعارُ اللعب للفرد الواحد	
المركب	٥ ريالات
المسيارات	٥ ريالات
الأرجوحة	ريالان
القلعة	٣ ريالات

almanahj.com/sa

توقيع ولي الأمر :

.....



لم يتقن



أتقن

توقيع المعلم:

.....

بسم الله الرحمن الرحيم

الصف/الثالث الابتدائي .

المادة/رياضيات.

الموضوع/ التماثل

التاريخ/.....

الاسم/.....

الحصة/.....

: أحدد هل للشكل محور تماثل ؟



almanahj.com/sa

الحل


.....
.....
.....
.....
.....
.....

الحل


.....
.....
.....
.....
.....
.....

توقيع ولي الأمر :

.....



لم يتقن



أتقن

توقيع المعلم:

.....

بسم الله الرحمن الرحيم

الصف/الثالث الابتدائي .

المادة/رياضيات.

الموضوع/ التمثيل بالرموز

التاريخ/.....

الاسم/.....

الحصة/.....

أمثل البيانات في الجدول المجاور بالرموز وأجعل
كل رمز يمثل بقرتين .

مَزْرَعَةُ أَبْقَار		
عَدَدُ الْأَبْقَارِ	الْأَشَارَاتُ	لَوْنُ الْقَرَّةِ
٨		أَسْوَدُ
٤		بَيْضِي
٥		أَبْيَضُ

almanahj.com/sa

توقيع ولي الأمر :

.....

لم يتقن

أتقن

توقيع المعلم:

.....

بسم الله الرحمن الرحيم

الصف/الثالث الابتدائي .

المادة/رياضيات.

الموضوع/ تفسير التمثيل بالرموز

التاريخ/.....

الاسم/.....

الحصة/.....

: أجيب عن الأسئلة التالية
مستعملا التمثيل أدناه :

قياسات أخذية طلاب الصف الثالث	
	٣٣
	٣٤
	٣٥
	٣٦
مفتاح:  = ٤ طلاب	

1) ما مقدار الحذاء الأكثر شيوعا .

.....

.....

.....

.....

توقيع ولي الأمر :

.....

لم يتقن

أتقن

توقيع المعلم:

.....

الموضوع/ خطة حل مسألة

التاريخ/.....

الاسم/.....

الحصة/.....

: أكتب الطرق الممكنة جميعها لعمل شطيرة
تتكون من نوع واحد من الخبز ونوع واحد من
اللحم ونوع واحد من الجبن.



almanahj.com/sa

توقيع ولي الأمر :

.....

لم يتقن

أتقن

توقيع المعلم:

.....

الصف/التالي الإبداعي .

المادة/رياضيات.

الموضوع/ التمثيل بالأعمدة

التاريخ/.....

الاسم/.....

الحصة/.....

: أمثل مجموعة البيانات الموضحة
أدناه بأعمدة أفقية.

الحل


المنتخبات الفائزة ببطولة كأس الخليج (١٩٧٠ - ٢٠٠٧)

المنتخب	الإشارات
الكويت	
العراق	
قطر	
السعودية	
الإمارات	
عمان	


almanahj.com/sa

توقيع ولي الأمر :

.....



لم يتقن



أتقن

توقيع المعلم:

.....

الصف/الثالث الابتدائي .

المادة/رياضيات .


الموضوع/ الاحتمال

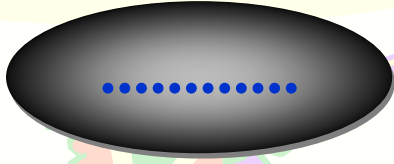
التاريخ/.....

الاسم/.....

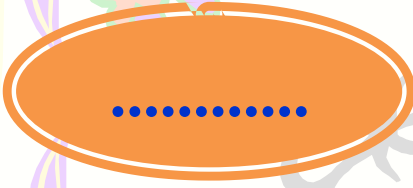
الحصة/.....

: أصف احتمال كل لون ، وأكتب
(أكيد أو أكثر احتمالاً أو أقل
احتمالاً أو مستحيل) .

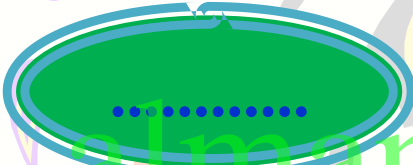





أحمر



أصفر




أخضر




أزرق

توقيع ولي الأمر :

.....



لم يتقن



أتقن

توقيع المعلم:

.....

بسم الله الرحمن الرحيم

المادة/رياضيات.

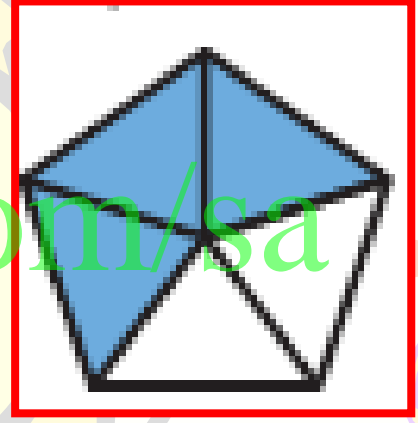
الموضوع/الكسور كأجزاء من الكل .

التاريخ/.....

الاسم/.....

الحصة/.....

: مثل الجزء الملون بالأزرق ثم أكتب الكسر
الذي يمثل الجزء غير الملون بالأزرق .




توقيع ولي الأمر :

.....



لم يتقن



أتقن

توقيع المعلم:

.....

بسم الله الرحمن الرحيم

الصف/الثالث الابتدائي .

المادة/رياضيات.


الموضوع/ الكسور كأجزاء من مجموعة

التاريخ/.....

الاسم/.....


الحصة/.....

: أكتب الكسر الذي يمثل الأشياء الصفراء ثم
اكتب الكسر الذي يمثل الأشياء غير الصفراء :




توقيع ولي الأمر :

.....



لم يتقن



أتقن

توقيع المعلم:

.....

بسم الله الرحمن الرحيم

الصف/الثالث الابتدائي .

المادة/رياضيات.

الموضوع/ الكسور المتكافئة

التاريخ/.....

الاسم/.....

الحصة/.....


: أكمل لأحصل على كسرين متكافئين .

		$\frac{1}{4}$
	$\frac{1}{4}$	$\frac{1}{4}$
	$\frac{1}{4}$	$\frac{1}{4}$


almanahj.com/sa

توقيع ولي الأمر :

.....



لم يتقن



أتقن

توقيع المعلم:

.....

الصف/الثالث الابتدائي .

المادة/رياضيات.

الموضوع/ خطة حل مسألة

التاريخ/.....

الاسم/.....

الحصة/.....

: في أحد الأحياء تسكن 36 عائلة والجدول الآتي

يبين الكسر الذي يمثل العائلات التي لديها أطفال

وتلك التي ليس لديها أطفال . فما عدد العائلات


التي لديها أطفال ؟

عَائِلَاتٌ لَدَيْهَا أَوْطَالٌ	عَائِلَاتٌ لَيْسَ لَدَيْهَا أَوْطَالٌ
$\frac{3}{4}$	$\frac{1}{4}$


almanahj.com/sa

توقيع ولي الأمر :

.....



لم يتقن



أتقن

توقيع المعلم:

.....

بسم الله الرحمن الرحيم

الصف/الثالث الابتدائي .

المادة/رياضيات.

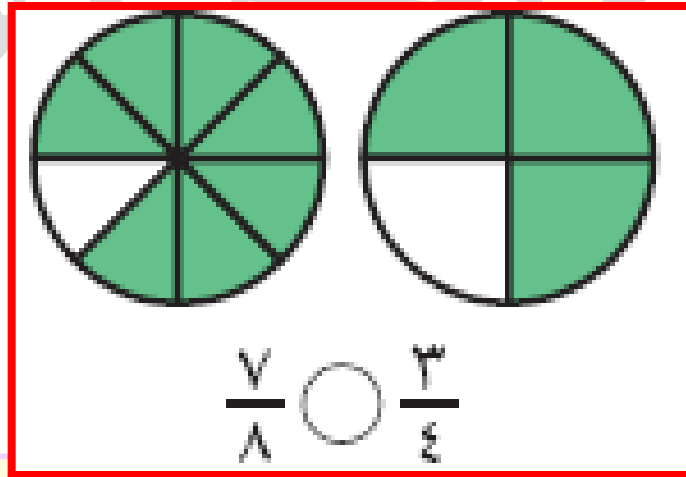
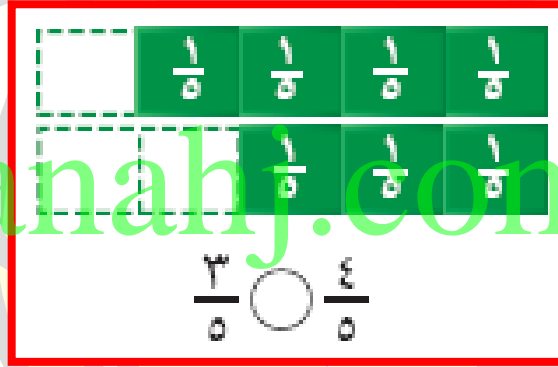
الموضوع/مقارنة الكسور وترتيبها

التاريخ/.....

الاسم/.....


الحصة/.....

: أقرن مستعلا (< أو > أو =)




توقيع ولي الأمر :

.....



لم يتقن



أتقن

توقيع المعلم:

.....