

تم تحميل هذا الملف من موقع المناهج السعودية



أوراق عمل جديدة

موقع المناهج ← المناهج السعودية ← الصف الثالث ← علوم ← الفصل الثالث ← أوراق عمل ← الملف

تاريخ إضافة الملف على موقع المناهج: 16:50:54 2025-03-08

ملفات اكتب للمعلم اكتب للطالب | اختبارات الكترونية | اختبارات | حلول | عروض بوربوينت | أوراق عمل
منهج انجليزي | ملخصات وتقارير | مذكرات وبنوك | الامتحان النهائي للمدرس

المزيد من مادة
علوم:

التواصل الاجتماعي بحسب الصف الثالث



صفحة المناهج
السعودية على
فيسبوك

الرياضيات

اللغة الانجليزية

اللغة العربية

التربية الاسلامية

المواد على تلغرام

المزيد من الملفات بحسب الصف الثالث والمادة علوم في الفصل الثالث

عرض بوربوينت لدرس حالات المادة السوائل

1

عرض بوربوينت لدرس حالات المادة الغازات

2

خرائط ذهنية لدرس الفصل الثالث

3

نموذج الاختبار التشخيصي القبلي لتعزيز المهارات

4

نماذج اختبار تشخيصي 1446هـ

5

أوراق عمل مادة العلوم للصف الثالث الابتدائي - الفصل الدراسي الثالث

اسم الطالب : الصف : ٣ /

• ضع الكلمة المناسبة في الفراغ المناسب فيما يلي :-

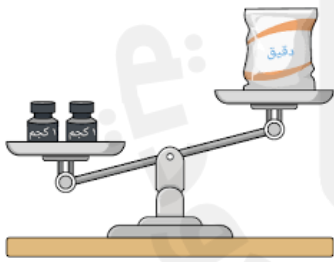
المادة الحجم الكتلة الخاصية

١. يحدد الحيز الذي يشغله جسم ما .
٢. هي ما يميز المادة عن غيرها من المواد .
٣. أي شيء له حجم وكتلة .
٤. تقيس مقدار ما في الجسم من مادة .

• وصل بين الأداة ووظيفتها فيما يلي :



الكتلة



الحجم



الطول

أوراق عمل مادة العلوم للصف الثالث الابتدائي - الفصل الدراسي الثالث

اسم الطالب : الصف : ٣ /

اسم المادة:

الحالة:

اسم المادة:

الحالة:

اسم المادة:

الحالة:

سمي حالة المواد الآتية:

أعطي أمثلة لمواد في الحالات الآتية :

أمثلة لمواد غازية

أمثلة لمواد سائلة

أمثلة لمواد صلبة

أوراق عمل مادة العلوم للصف الثالث الابتدائي - الفصل الدراسي الثالث

اسم الطالب : الصف : ٣ /

• ضع الكلمة المناسبة في الفراغ المناسب فيما يلي :-

التغير الفيزيائي المخلوط المحلول التغير الكيميائي

١. خليط يتكون من مادتين أو أكثر .
٢. نوع من أنواع المخاليط تترج فيه مادتين أو أكثر امتزاجاً تاماً .
٣. تغير في مظهر الجسم و شكله مع بقاء المادة المكونة الأساسية .
٤. تغير ينتج عنه مواد جديدة تختلف في خواصها عن المواد الأصلية

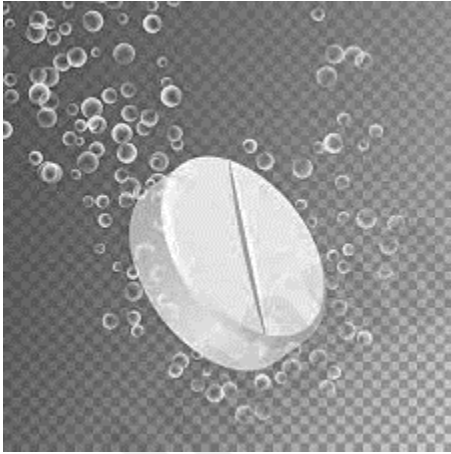
• أيهما أعلى تركيز ؟



أوراق عمل مادة العلوم للصف الثالث الابتدائي - الفصل الدراسي الثالث

اسم الطالب : الصف : ٣ /

- أصل الصورة فيما يلي بما يناسبها من دلائل حدوث التغير الكيميائي :-



الضوء و الحرارة



تكون الغاز



تغير اللون

أوراق عمل مادة العلوم للصف الثالث الابتدائي - الفصل الدراسي الثالث

اسم الطالب : الصف : ٣ /

❖ أصل بين الصورة و العبارة المناسبة :-



يبذل
شغلاً



يقوم بمجهود
دون بذل
شغل

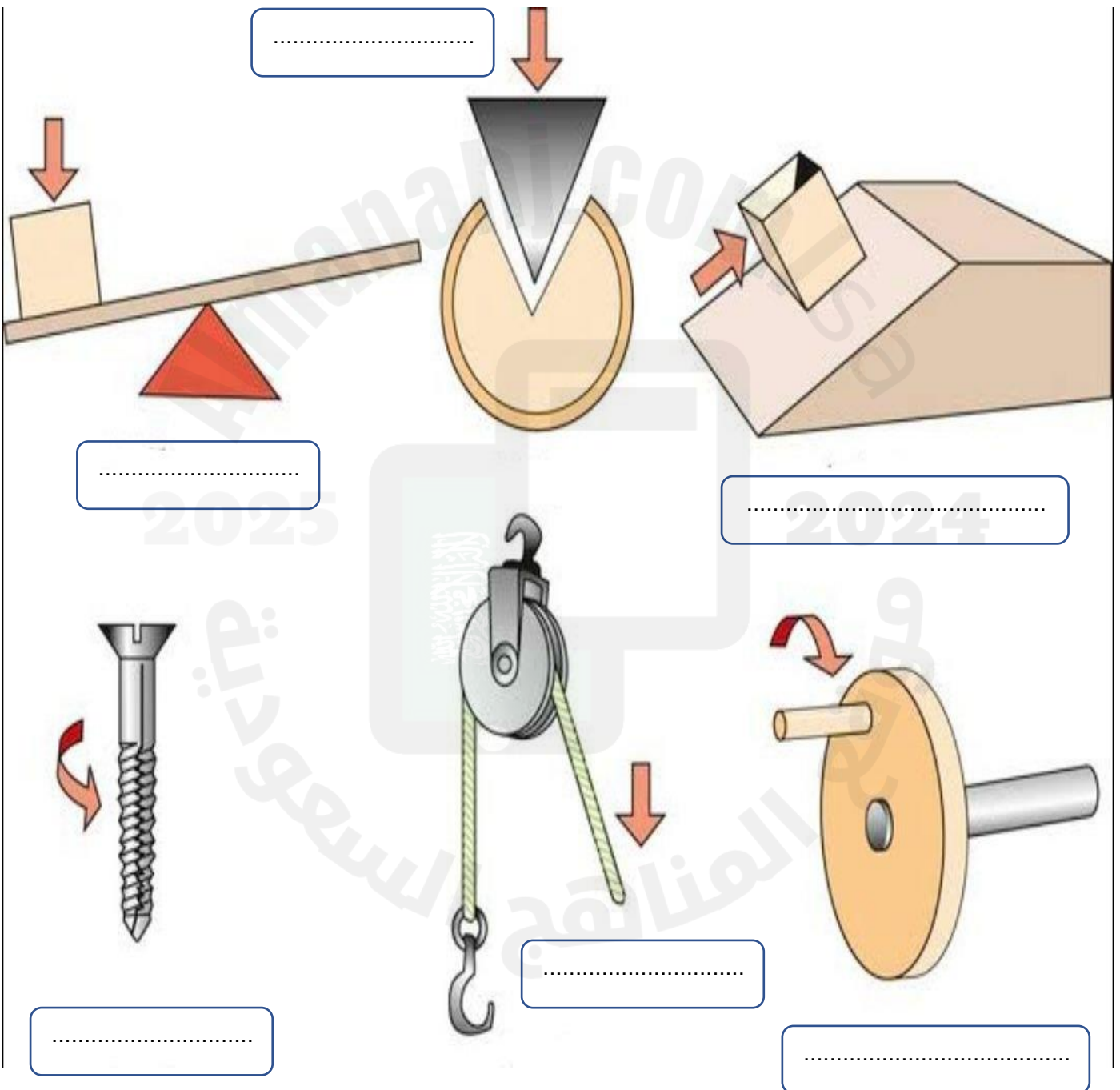


أوراق عمل مادة العلوم للصف الثالث الابتدائي - الفصل الدراسي الثالث

اسم الطالب : الصف : ٣ /

❖ ضع اسم كل آلة من الآلات البسيطة التالية أمام الصورة المناسبة :-

الإسفين البكرة العجلة و المحور الإسفين
الرافعة السطح المائل البرغي



أوراق عمل مادة العلوم للصف الثالث الابتدائي - الفصل الدراسي الثالث

اسم الطالب : الصف : ٣ /

• ضع الكلمة المناسبة في الفراغ المناسب فيما يلي :-

الاهتزاز الصوت علو الصوت درجة الصوت الأذن

١. خاصية تفرق بين الصوت الحاد و الغليظ وتعتمد على عدد الاهتزازات .
٢. شكل من أشكال الطاقة ينتج عن اهتزاز الأجسام .
٣. حركة سريعة ذهاباً و إياباً .
٤. خاصية تفرق بها بين الأصوات العالية و الأصوات المنخفضة .
٥. هي عضو السمع في الإنسان .



أوراق عمل مادة العلوم للصف الثالث الابتدائي - الفصل الدراسي الثالث

اسم الطالب : الصف : ٣ /

❖ أصل بين الصورة و العبارة المناسبة فيما يلي : -



جسم شفاف



انكسار الضوء



جسم شبه شفاف

منشور زجاجي



جسم معتم



انعكاس الضوء



• ضع الكلمة المناسبة في الفراغ المناسب فيما يلي :-

الظل

الضوء

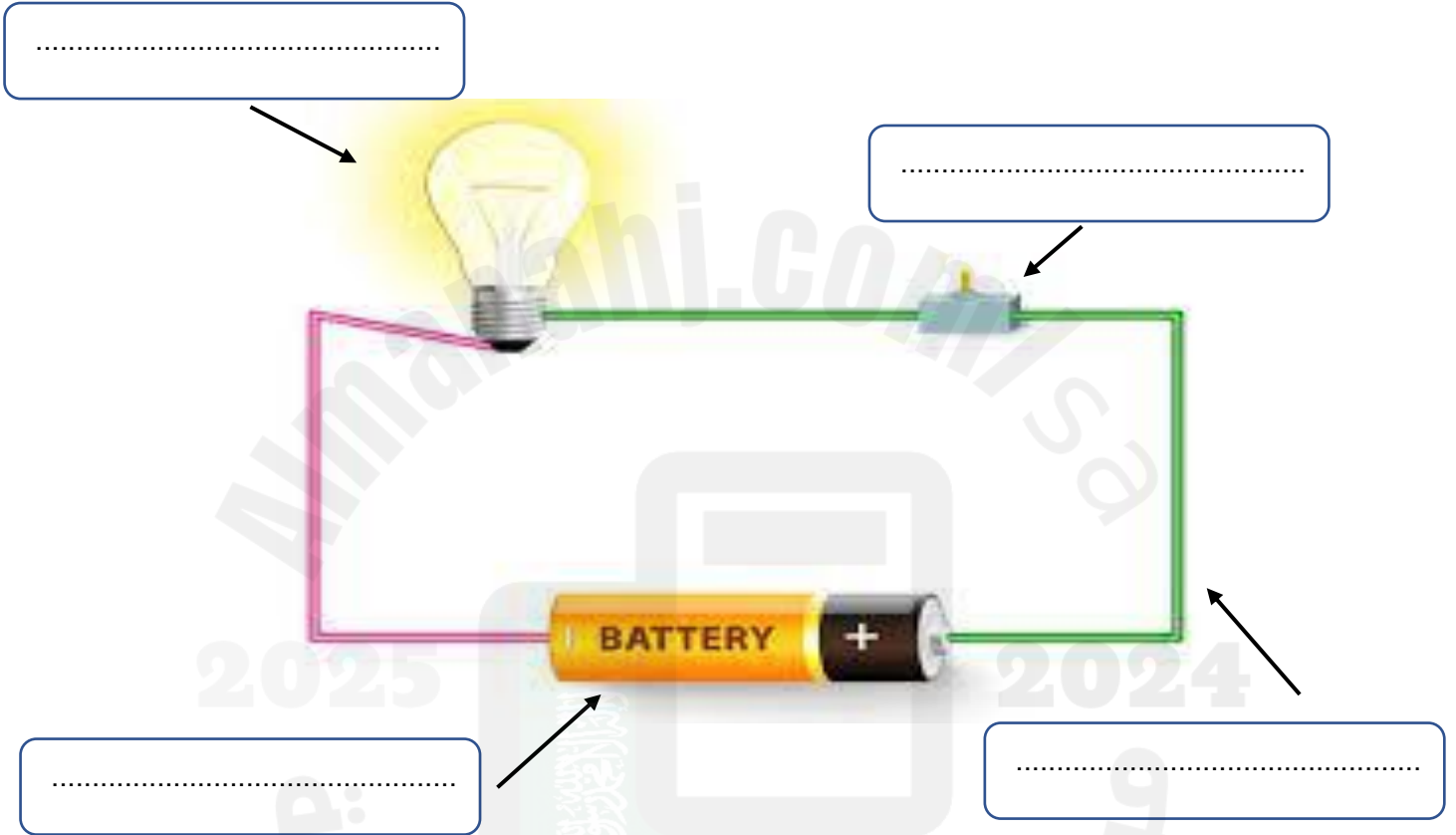
١. منطقة معتمة تتشكل عند حجب الضوء عنها .
٢. شكل من أشكال الطاقة نحس به بالعين .

أوراق عمل مادة العلوم للصف الثالث الابتدائي - الفصل الدراسي الثالث

اسم الطالب : الصف : ٣ /

❖ ضع الكلمات التالية في المكان المناسب :-

أسلاك توصيل بطارية مفتاح كهربائي مصباح كهربائي



❖ ضع علامة ✓ أمام العبارة الصحيحة وعلامة x أمام العبارة الخاطئة فيما يلي :-

١. الكهرباء الساكنة هي الشحنات المتكونة نتيجة احتكاك بين جسمين . ()
٢. البرق مثال على الكهرباء المتحركة . ()

أوراق عمل مادة العلوم للصف الثالث الابتدائي - الفصل الدراسي الثالث

اسم الطالب : الصف : ٣ /

