

الاختبار المحاكي لاختبار نافس



تم تحميل هذا الملف من موقع المناهج السعودية

موقع المناهج ← المناهج السعودية ← الصف الثالث ← رياضيات ← الفصل الثالث ← اختبارات ← الملف

تاريخ إضافة الملف على موقع المناهج: 19:07:43 2025-04-09

ملفات اكتب للمعلم اكتب للطالب ا اختبارات الكترونية ا اختبارات ا حلول ا عروض بوربوينت ا أوراق عمل
منهج انجليزي ا ملخصات وتقارير ا مذكرات وبنوك ا الامتحان النهائي ا للمدرس

المزيد من مادة
رياضيات:

التواصل الاجتماعي بحسب الصف الثالث



صفحة المناهج
السعودية على
فيسبوك

الرياضيات

اللغة الانجليزية

اللغة العربية

التربية الاسلامية

المواد على تلغرام

المزيد من الملفات بحسب الصف الثالث والمادة رياضيات في الفصل الثالث

مذكرة حفظ جدول الضرب

1

ورقة عمل الأسبوع الثالث نموذج بورقة واحدة

2

اختبار تشخيصي لتقويم المهارات

3

الخطة الأسبوعية للفصل الثالث كاملا 1446هـ

4

كتاب الطالب التمارين طبعة العام 1446هـ

5

(١) الوحدة الأنسب لقياس طول غرفة الصف

أ	الملمتر	ب	السنتيمتر	ج	المتر	د	الكيلومتر
---	---------	---	-----------	---	-------	---	-----------

(٢) حوض على شكل مثلث محيطه ١٢٠ سم ، إذا كان طول احد جوانبه ٤٠ سم وطول الآخر ٥٠ سم ، فإن طول الجانب الثالث يساوي

أ	٣٠ سم	ب	٤٠ سم	ج	٥٠ سم	د	٦٠ سم
---	-------	---	-------	---	-------	---	-------

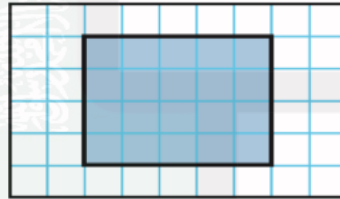
(٣) عدد الجرامات في ٧ كيلو جرام

أ	٧٠ جرام	ب	١٠٠٠ جرام	ج	٧٠٠ جرام	د	٧٠٠٠ جرام
---	---------	---	-----------	---	----------	---	-----------

(٤) أي مما يلي يتسع لأكثر من ١ لتر

أ	قطارة	ب	كوب ماء	ج	حوض استحمام	د	ملعقة
---	-------	---	---------	---	-------------	---	-------

(٥) محيط الشكل المظلل يساوي



أ	١١ وحدة	ب	١٨ وحدة	ج	١٢ وحدة	د	٢٠ وحدة
---	---------	---	---------	---	---------	---	---------

(٦) الوحدة الأنسب لقياس المسافة بين مدينتي الرياض وحائل

أ	اللتر	ب	المتر	ج	السنتيمتر	د	الكيلومتر
---	-------	---	-------	---	-----------	---	-----------

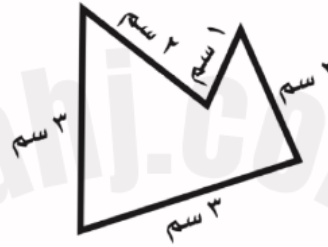
(٧) بدأت حصة الرياضيات الساعة ٩:٤٥ وانتهت بعد ٤٥ دقيقة ، في أي ساعة انتهت

أ	١٠:٣٠	ب	١١:١٥	ج	١١:٣٠	د	١٠:٤٥
---	-------	---	-------	---	-------	---	-------

٨) قاعة أرضية مستطيلة الشكل عرضها ٦ أمتار وطولها ١٢ متراً ، مساحة أرضية القاعة تساوي

أ	١٨ م	ب	١٨ كم	ج	٧٢ م	د	٧٢ كم
---	------	---	-------	---	------	---	-------

٩) محيط الشكل ادناه يساوي




أ	٩ م	ب	١١ سم	ج	١٢ سم	د	١١ م
---	-----	---	-------	---	-------	---	------

١٠) العدد المناسب لقياس طول قلم حبر

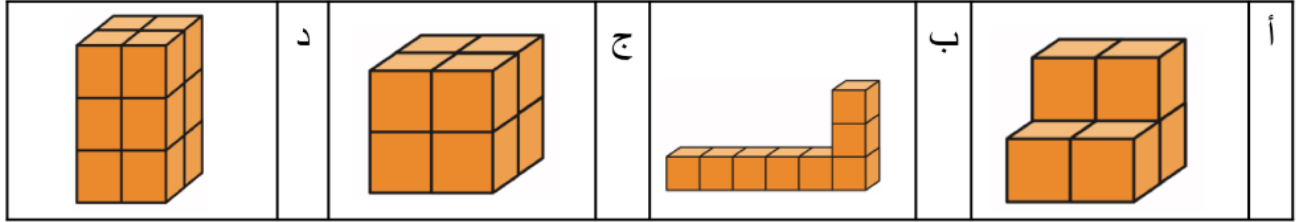
أ	١٠ ملم	ب	١٠ م	ج	١٠ سم	د	١٠ كلم
---	--------	---	------	---	-------	---	--------

١١) ما عدد وحدات الماء المكعبة التي يمكن أن يحويها حوض السمك ادناه

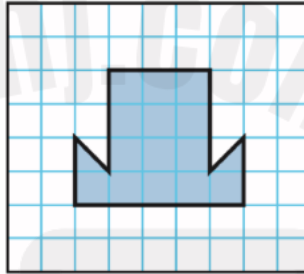


أ	١٢ وحدة	ب	٢٤ وحدة	ج	٣٦ وحدة	د	٤٢ وحدة
---	---------	---	---------	---	---------	---	---------

١٢) أي المجسمات الآتية حجمه أقل من ٧ وحدات



١٣) في حصة التربية الفنية رسمت أمل اشكالاً على شبكة مربعات ، احدها هو الشكل المجاور ، ما مساحة الشكل الذي رسمته أمل



أ	١٣ مربع	ب	١٤ مربع	ج	١٥ مربع	د	١٦ مربع
---	---------	---	---------	---	---------	---	---------

١٤) الجدول ادناه يوضح الأنشطة التي قام بها علي ، إذا كان قد انتهى منها الساعة السابعة مساءً فمتى بدأ ؟

أنشطة علي	
النشاط	المدة
لعب كرة القدم	ساعة واحدة
المذاكرة	٣ ساعات

أ	الساعة السادسة	ب	الساعة الثالثة	ج	الساعة الثانية	د	الساعة الرابعة
---	----------------	---	----------------	---	----------------	---	----------------