

تم تحميل هذا الملف من موقع المناهج السعودية



## الإجابة على أوراق العمل

موقع المناهج ← المناهج السعودية ← الصف الثالث ← علوم ← الفصل الثالث ← أوراق عمل ← الملف

تاريخ إضافة الملف على موقع المناهج: 16:54:07 2025-03-08

ملفات اكتب للمعلم اكتب للطالب | اختبارات الكترونية | اختبارات | حلول | عروض بوربوينت | أوراق عمل  
منهج انجليزي | ملخصات وتقارير | مذكرات وبنوك | الامتحان النهائي للمدرس

المزيد من مادة  
علوم:

## التواصل الاجتماعي بحسب الصف الثالث



صفحة المناهج  
السعودية على  
فيسبوك

الرياضيات

اللغة الانجليزية

اللغة العربية

التربية الاسلامية

المواد على تلغرام

## المزيد من الملفات بحسب الصف الثالث والمادة علوم في الفصل الثالث

أوراق عمل جديدة

1

عرض بوربوينت لدرس حالات المادة السوائل

2

عرض بوربوينت لدرس حالات المادة الغازات

3

خرائط ذهنية لدرس الفصل الثالث

4

نموذج الاختبار التشخيصي القبلي لتعزيز المهارات

5

# أوراق عمل مادة العلوم للصف الثالث الابتدائي - الفصل الدراسي الثالث

اسم الطالب : ..... الصف : ٣ /

• ضع الكلمة المناسبة في الفراغ المناسب فيما يلي :-  
المادة                      الحجم                      الكتلة                      الخاصة

١. الحجم يحدد الحيز الذي يشغله جسم ما .
٢. الخاصة هي ما يميز المادة عن غيرها من المواد .
٣. المادة أي شيء له حجم وكتلة .
٤. الكتلة تقيس مقدار ما في الجسم من مادة .

• وصل بين الأداة ووظيفتها فيما يلي :



الكتلة

الحجم

الطول

# أوراق عمل مادة العلوم للصف الثالث الابتدائي - الفصل الدراسي الثالث

اسم الطالب : ..... الصف : ٣ /

اسم المادة: **بخار ماء**  
الحالة: **غازية**

اسم المادة: **ماء**  
الحالة: **سائلة**

اسم المادة: **ثلج**  
الحالة: **صلبة**

سمي حالة المواد الآتية:

سائلة      غازية      سائلة      صلبة      صلبة

سائلة      صلبة      غازية      غازية      سائلة

أعطي أمثلة لمواد في الحالات الآتية :

أمثلة لمواد غازية

غبار

هواء

دخان

أمثلة لمواد سائلة

عصير

ماء

حليب

أمثلة لمواد صلبة

كتاب

حذاء

صخرة

# أوراق عمل مادة العلوم للصف الثالث الابتدائي - الفصل الدراسي الثالث

اسم الطالب : ..... الصف : ٣ /

• ضع الكلمة المناسبة في الفراغ المناسب فيما يلي :-

التغير الفيزيائي      المخلوط      المحلول      التغير الكيميائي

١. **المخلوط** خليط يتكون من مادتين أو أكثر .

٢. **المحلول** نوع من أنواع المخاليط تمتزج فيه مادتين أو أكثر امتزاجاً تاماً .

٣. **التغير الفيزيائي** تغير في مظهر الجسم و شكله مع بقاء المادة المكونة الأساسية .

٤. **التغير الكيميائي** تغير ينتج عنه مواد جديدة تختلف في خواصها عن المواد الأصلية

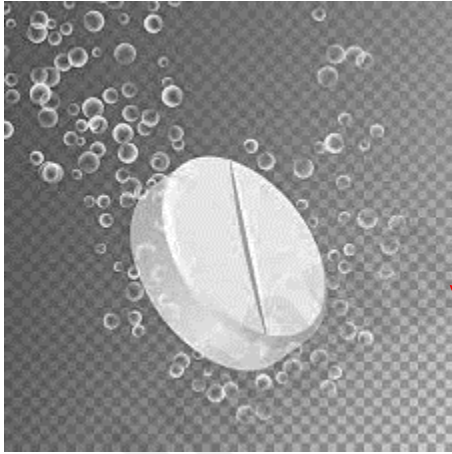
• أيهما أعلى تركيز ؟



أوراق عمل مادة العلوم للصف الثالث الابتدائي - الفصل الدراسي الثالث

اسم الطالب : ..... الصف : ٣ /

- أصل الصورة فيما يلي بما يناسبها من دلائل حدوث التغير الكيميائي :-



الضوء و الحرارة



تكون الغاز



تغير اللون

أوراق عمل مادة العلوم للصف الثالث الابتدائي - الفصل الدراسي الثالث

اسم الطالب : ..... الصف : ٣ /

❖ أصل بين الصورة و العبارة المناسبة :-



يبذل  
شغلاً

يقوم بمجهود  
دون بذل  
شغل

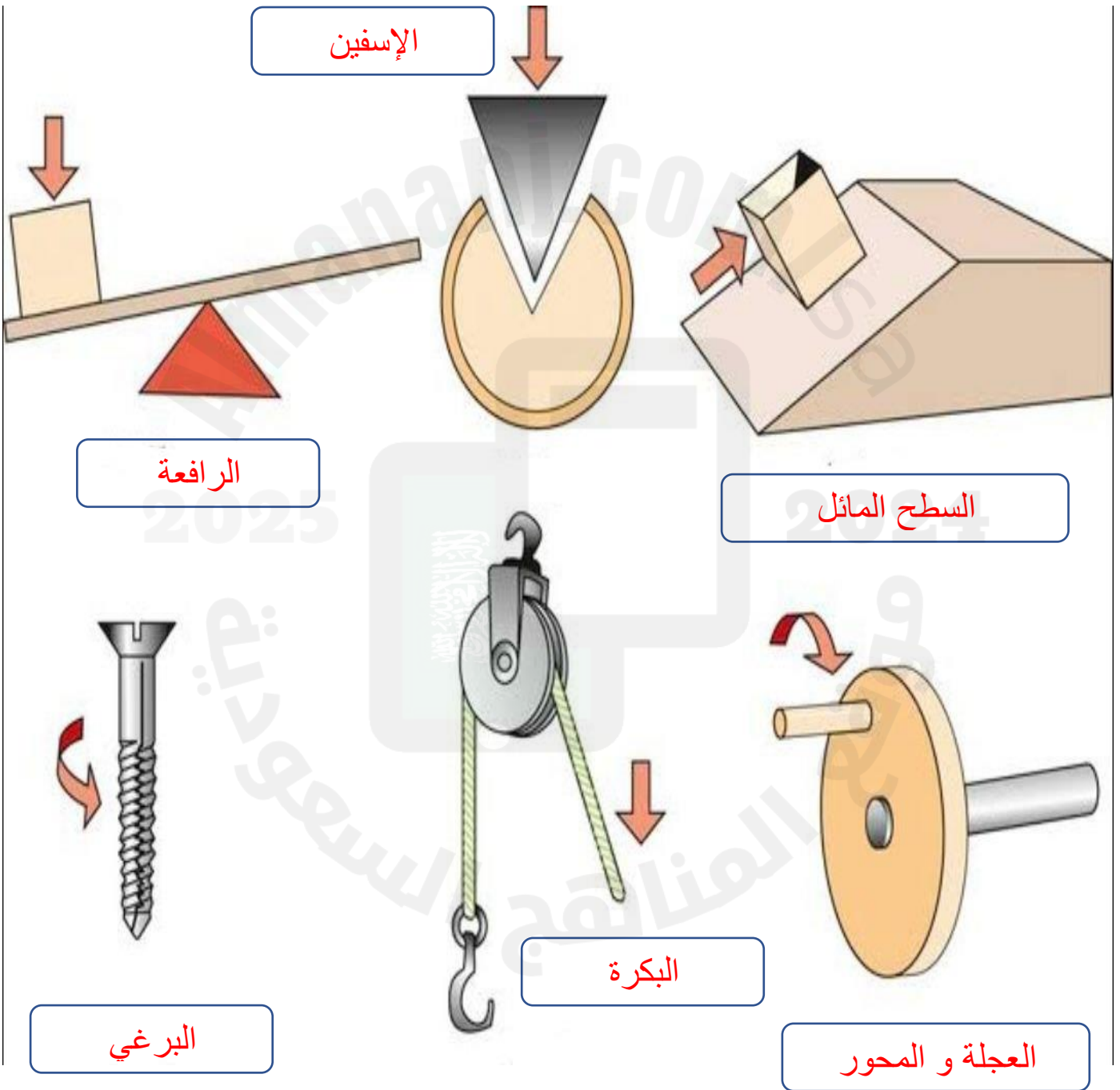


# أوراق عمل مادة العلوم للصف الثالث الابتدائي - الفصل الدراسي الثالث

اسم الطالب : ..... الصف : ٣ /

❖ ضع اسم كل آلة من الآلات البسيطة التالية أمام الصورة المناسبة :-

الإسفين      البكرة      العجلة و المحور      الإسفين  
الرافعة      السطح المائل      البرغي



# أوراق عمل مادة العلوم للصف الثالث الابتدائي - الفصل الدراسي الثالث

اسم الطالب : ..... الصف : ٣ /

• ضع الكلمة المناسبة في الفراغ المناسب فيما يلي :-

الاهتزاز      الصوت      علو الصوت      درجة الصوت      الأذن

١. **درجة الصوت** خاصية تفرق بين الصوت الحاد و الغليظ وتعتمد على عدد الاهتزازات .
٢. **الصوت** شكل من أشكال الطاقة ينتج عن اهتزاز الأجسام .
٣. **الاهتزاز** حركة سريعة ذهاباً و إياباً .
٤. **علو الصوت** خاصية تفرق بها بين الأصوات العالية و الأصوات المنخفضة .
٥. **الأذن** هي عضو السمع في الإنسان .






# أوراق عمل مادة العلوم للصف الثالث الابتدائي - الفصل الدراسي الثالث

اسم الطالب : ..... الصف : ٣ /

❖ أصل بين الصورة و العبارة المناسبة فيما يلي :



جسم شفاف



انكسار الضوء

جسم شبه شفاف



منشور زجاجي



جسم معتم



انعكاس الضوء



• ضع الكلمة المناسبة في الفراغ المناسب فيما يلي :-

الظل

الضوء

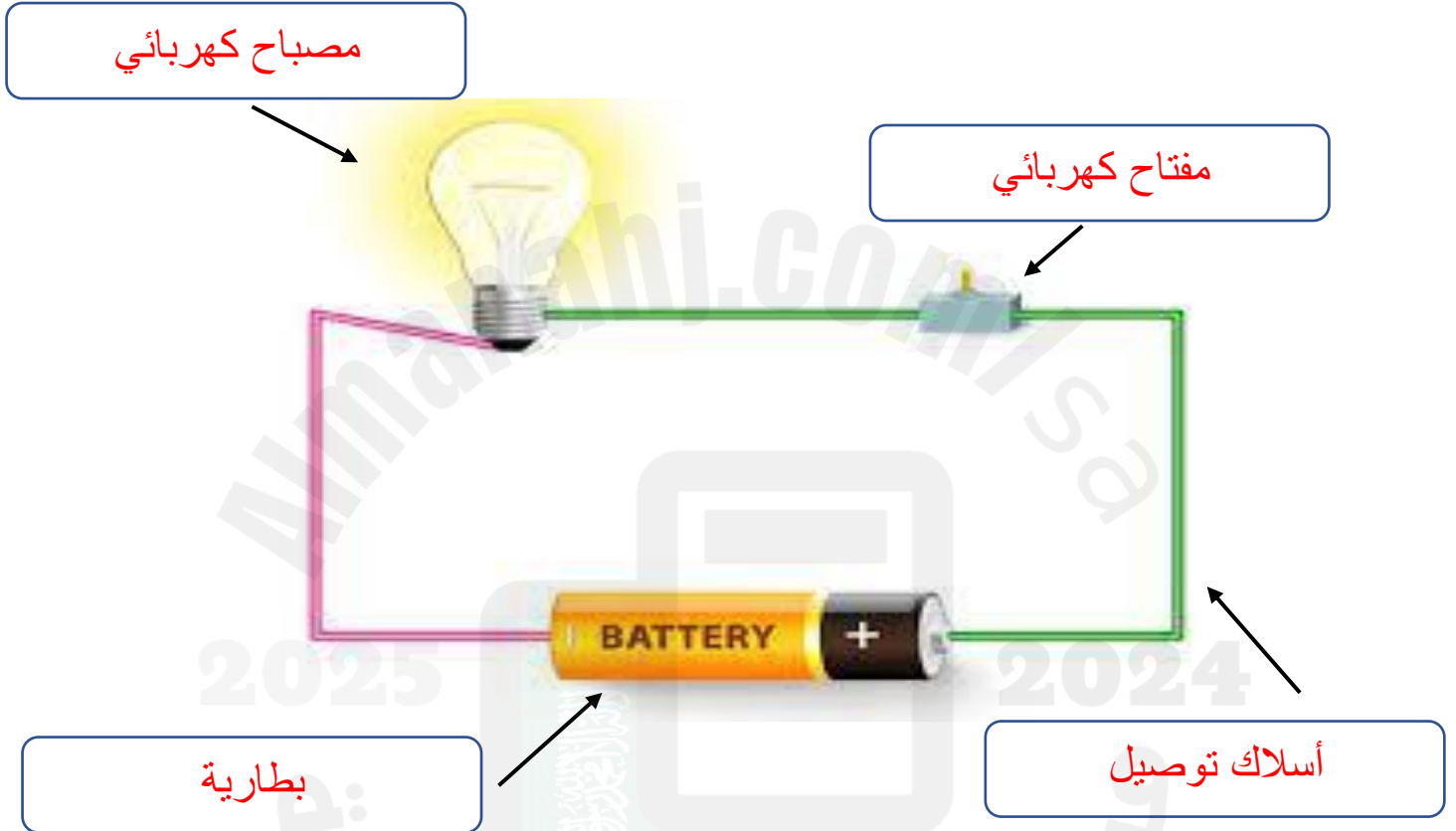
١. **الظل** منطقة معتمة تتشكل عند حجب الضوء عنها .
٢. **الضوء** شكل من أشكال الطاقة نحس به بالعين .

## أوراق عمل مادة العلوم للصف الثالث الابتدائي - الفصل الدراسي الثالث

اسم الطالب : ..... الصف : ٣ /

❖ ضع الكلمات التالية في المكان المناسب :-

أسلاك توصيل      بطارية      مفتاح كهربائي      مصباح كهربائي



❖ ضع علامة ✓ أمام العبارة الصحيحة وعلامة x أمام العبارة الخاطئة فيما يلي :-

- الكهرباء الساكنة هي الشحنات المتكونة نتيجة احتكاك بين جسمين . ( ✓ )
- البرق مثال على الكهرباء المتحركة . ( x )

أوراق عمل مادة العلوم للصف الثالث الابتدائي - الفصل الدراسي الثالث

اسم الطالب : ..... الصف : ٣ /

