

تم تحميل هذا الملف من موقع المناهج السعودية

almanahj.com/sa
موقع
المناهج السعودية

الملف اختبار الفترة الأولى

موقع المناهج ← المناهج السعودية ← الصف السادس ← اجتماعيات ← الفصل الثالث

روابط مواقع التواصل الاجتماعي بحسب الصف السادس



روابط مواد الصف السادس على تلغرام

[الرياضيات](#)

[اللغة الانجليزية](#)

[اللغة العربية](#)

[التربية الاسلامية](#)

المزيد من الملفات بحسب الصف السادس والمادة اجتماعيات في الفصل الثالث

[اختبار أعمال السنة دراسات اجتماعية](#)

1

[نماذج اختبارات نهائية مع نماذج الإجابة](#)

2

[مجموعة اختبارات نهائية مع نموذج الإجابة](#)

3











[ملخص وخرائط مفاهيم](#)

4









[اختبار نهائي الدور الأول](#)

5

الاختبار التشخيصي الخاص بالفاقد التعليمي للصف الثالث.....

١	الشكل		يسمى	أ	ب	ج	د	
		كرة	مخروط	هرم	أسطوانة			
	الشكل الذي له الوصف ٦ أوجه ١٢ حرفا ٨ رؤوس هو							
٢	أ		ب		ج		د	
٣	الشكل		يسمى	أ	ب	ج	د	
		مستطيل	مثلث	مربع	متوازي أضلاع			
٤	أ	٤٤٥	ب	٤٨١	ج	٤٩١	د	٦٩٨
	نتائج جمع $23 + 468 =$							
٥	أ	٥	ب	٦	ج	٨	د	١٠
	طول القلم 							
٦	أ	٢	ب	٥	ج	٧	د	١٠
	مساحة الشكل  وحدة مربعة							
٧	أ	لتر واحد	ب	جرام واحد	ج	مليتر واحد	د	كيلو جرام واحد
	سعة الملعقة 							
٨	أ	٥ ريال	ب	٩ ريال	ج	٥٠٠ ريال	د	٩٠٠ ريال
	إذا كان مع هناء ٧٠٠ ريال، وأعطاهم أخوها ٢٠٠ ريال أخرى، فإنه يصبح معها :							
٩	أ	١٤٠	ب	٢٤٠	ج	٢٦٠	د	١٥٣٤
	$837 - 697 =$							
١٠	أ	٧	ب	٨	ج	٩	د	١٠
	صندوق ارتفاعه ٤ مكعبا صغيرا. إذا أردنا أن نضع فيه علبتين إحداهما فوق الأخرى، وكان ارتفاع العلبتين الأولى يزيد على ارتفاع العلبتين الثانية بمكعبين، فما ارتفاع العلبتين الأطول؟ 							

نموذج إجابة الاختبار التشخيصي الخاص بالفاقد التعليمي للصف الثالث.....

١	الشكل		يسمى	أ	كرة	ب	مخروط	ج	هرم	د	أسطوانة
	الشكل الذي له الوصف ٦ أوجه ١٢ حرفا ٨ رؤوس هو										
٢	أ		ب		ج		د				
٣	الشكل		يسمى	أ	مستطيل	ب	مثلث	ج	مربع	د	متوازي أضلاع
٤	أ	٤٤٥	ب	٤٨١	ج	٤٩١	د	٦٩٨	نتائج جمع $23 + 468 =$		
٥	أ	٥	ب	٦	ج	٨	د	١٠	طول القلم		
٦	مساحة الشكل	 وحدة مربعة	أ	٢	ب	٥	ج	٧	د	١٠
٧	سعة الملعقة		تقريبا	أ	لتر واحد	ب	جرام واحد	ج	مليلتر واحد	د	كيلو جرام واحد
٨	أ	٥ ريال	ب	٩ ريال	ج	٥٠٠ ريال	د	٩٠٠ ريال	إذا كان مع هناء ٧٠٠ ريال، وأعطاهم أخوها ٢٠٠ ريال ، فإنه يصبح معها :		
٩	أ	١٤٠	ب	٢٤٠	ج	٢٦٠	د	١٥٣٤	$837 - 697 =$		
١٠	أ	٧	ب	٨	ج	٩	د	١٠	صندوق ارتفاعه ٤ مكعبا صغيرا. إذا أردنا أن نضع فيه علبتين إحداهما فوق الأخرى ، وكان ارتفاع العلبتين الأولى يزيد على ارتفاع العلبتين الثانية بمكعبين، فما ارتفاع العلبتين الأطول ؟		