

تم تحميل هذا الملف من موقع المناهج السعودية



موقع المناهج المنهاج السعودي

*للحصول على أوراق عمل لجميع الصفوف وجميع المواد اضغط هنا

<https://www.almanahj.com/sa>

* للحصول على أوراق عمل لجميع مواد الصف الثاني اضغط هنا

<https://almanahj.com/sa/2>

* للحصول على جميع أوراق الصف الثاني في مادة علوم ولجميع الفصول, اضغط هنا

<https://almanahj.com/sa/2science>

* للحصول على أوراق عمل لجميع مواد الصف الثاني في مادة علوم الخاصة بـ الفصل الأول اضغط هنا

<https://www.almanahj.com/sa/2science1>








* لتحميل كتب جميع المواد في جميع الفصول للـ الصف الثاني اضغط هنا








<https://www.almanahj.com/sa/grade2>

للحصول على جميع روابط الصفوف على تلغرام وفيسبوك من قنوات وصفحات: اضغط هنا

<https://t.me/sacourse>

١	الفصل	الثاني	الصف	علوم	المادة	الأول	الفصل الدراسي
				١٤٤٠ / / هـ	التاريخ	الثانية	الفترة

<p>المهارة: توضيح كيفية استخدام بعض الحيوانات لمواطنها</p> <table border="1" data-bbox="151 604 399 694"> <tr> <td>أ</td> <td>ب</td> <td>ج</td> <td>د</td> </tr> <tr> <td></td> <td></td> <td></td> <td></td> </tr> </table>	أ	ب	ج	د					<p>ضع دائرة حول طريقة استخدام بعض الحيوانات لمواطنها</p> <p>النوم - مفترس - الاختباء - ضوء الشمس - الهواء - تتغذى فيه على حيوانات اخرى</p>
أ	ب	ج	د						
<p>المهارة: توضيح كيفية استخدام بعض النباتات لمواطنها</p> <table border="1" data-bbox="151 873 399 963"> <tr> <td>أ</td> <td>ب</td> <td>ج</td> <td>د</td> </tr> <tr> <td></td> <td></td> <td></td> <td></td> </tr> </table>	أ	ب	ج	د					<p>ضع علامة (√) أو (×) أمام العبارات التالية :</p> <p>١- النباتات التي تعيش في الأماكن الجافة تتخلص من الماء الزائد ()</p> <p>٢- النباتات التي تعيش في الأماكن الرطبة تحتفظ بالماء ()</p>
أ	ب	ج	د						
<p>المهارة: تكوين سلسلة غذائية في موطن ما بترتيب مجموعة من الصور</p> <table border="1" data-bbox="151 1209 399 1299"> <tr> <td>أ</td> <td>ب</td> <td>ج</td> <td>د</td> </tr> <tr> <td></td> <td></td> <td></td> <td></td> </tr> </table>	أ	ب	ج	د					<p>رتب السلسلة الغذائية من خلال الصور المقابلة</p> <div style="display: flex; justify-content: space-around; align-items: center;"> <div style="text-align: center;">  ○ </div> <div style="text-align: center;">  ○ </div> <div style="text-align: center;">  ○ </div> <div style="text-align: center;">  ○ </div> <div style="text-align: center;">  ○ </div> </div>
أ	ب	ج	د						
<p>المهارة: * تحديد الفريسة والمفترس في السلسلة الغذائية</p> <table border="1" data-bbox="151 1612 399 1702"> <tr> <td>أ</td> <td>ب</td> <td>ج</td> <td>د</td> </tr> <tr> <td></td> <td></td> <td></td> <td></td> </tr> </table>	أ	ب	ج	د					<p>صل في الشكل المقابل من هو :</p> <div style="display: flex; justify-content: space-around; align-items: center;"> <div style="text-align: center;">  المفترس </div> <div style="text-align: center;">  الفريسة </div> </div>
أ	ب	ج	د						

<p>المهارة: * تعداد بعض أنواع المواطن</p> <table border="1" data-bbox="153 174 402 271"> <tr> <td>أ</td> <td>ب</td> <td>ج</td> <td>د</td> </tr> <tr> <td></td> <td></td> <td></td> <td></td> </tr> </table>	أ	ب	ج	د					<p>عدد بعض أنواع المواطن</p> <p>١-</p> <p>٢-</p> <p>٣-</p> <p>٤-</p>
أ	ب	ج	د						
<p>المهارة: التمثيل لبعض المخلوقات الحية التي تعيش في مواطن مختلفة</p> <table border="1" data-bbox="153 517 402 613"> <tr> <td>أ</td> <td>ب</td> <td>ج</td> <td>د</td> </tr> <tr> <td></td> <td></td> <td></td> <td></td> </tr> </table>	أ	ب	ج	د					<p>صل بين المخلوقات الحية وبين المواطن الملائم لها</p> <div style="display: flex; justify-content: space-around; align-items: center;"> <div style="text-align: center;">  <p>الصحراء الباردة</p> </div> <div style="text-align: center;">  <p>الصحراء الحارة</p> </div> <div style="text-align: center;">  </div> <div style="text-align: center;">  </div> </div>
أ	ب	ج	د						
<p>المهارة: * تسمية بعض أشكال اليابسة</p> <table border="1" data-bbox="153 779 402 875"> <tr> <td>أ</td> <td>ب</td> <td>ج</td> <td>د</td> </tr> <tr> <td></td> <td></td> <td></td> <td></td> </tr> </table>	أ	ب	ج	د					<p>سم أشكال اليابسة الموجودة بالصورة المقابلة</p> <div style="display: flex; justify-content: space-around; align-items: center;">    </div> <p>.....</p>
أ	ب	ج	د						
<p>المهارة: * تعداد بعض مصادر الماء على الأرض</p> <table border="1" data-bbox="153 1144 402 1240"> <tr> <td>أ</td> <td>ب</td> <td>ج</td> <td>د</td> </tr> <tr> <td></td> <td></td> <td></td> <td></td> </tr> </table>	أ	ب	ج	د					<p>عدد بعض مصادر الماء على سطح الأرض</p> <p>.....</p>
أ	ب	ج	د						
<p>المهارة: * معرفة مفهوم (الصخور، المعادن)</p> <table border="1" data-bbox="153 1406 402 1503"> <tr> <td>أ</td> <td>ب</td> <td>ج</td> <td>د</td> </tr> <tr> <td></td> <td></td> <td></td> <td></td> </tr> </table>	أ	ب	ج	د					<p>صل العبارات التالية بالمسمى الصحيح التابع لها</p> <p>١- أشياء غير حية موجودة في الأرض</p> <p>٢- أجزاء صلبة غير حية تتكون منها الصخور</p> <div style="display: flex; justify-content: space-around; align-items: center;"> <div style="border: 1px solid black; padding: 5px; border-radius: 10px;">المعادن</div> <div style="border: 1px solid black; padding: 5px; border-radius: 10px;">الصخور</div> </div>
أ	ب	ج	د						
<p>المهارة: *تعداد بعض الأنواع المختلفة من التربة</p> <table border="1" data-bbox="153 1697 402 1794"> <tr> <td>أ</td> <td>ب</td> <td>ج</td> <td>د</td> </tr> <tr> <td></td> <td></td> <td></td> <td></td> </tr> </table>	أ	ب	ج	د					<p>عدد أنواع التربة</p> <div style="display: flex; justify-content: space-around; align-items: center;"> <div style="text-align: center;"> <p>تربة</p> <p>.....</p> <p>.</p> </div> <div style="text-align: center;"> <p>تربة</p> <p>.....</p> <p>.</p> </div> <div style="text-align: center;"> <p>تربة</p> <p>.....</p> <p>.</p> </div> </div>
أ	ب	ج	د						

تمنياتي لكم بالتوفيق والنجاح
معلم المادة سامي الثبيتي

أ	ب	ج	د
١٠٠	٩٩-٩٠	٨٩-٨٠	>٨٠