

تم تحميل هذا الملف من موقع المناهج السعودية



الملف اختبار الفترة الثانية

[موقع المناهج](#) ⇨ [المناهج السعودية](#) ⇨ [الصف الثاني](#) ⇨ [رياضيات](#) ⇨ [الفصل الثالث](#)


الملف اختبار الفترة الثانية

[موقع المناهج](#) ⇨ [المناهج السعودية](#) ⇨ [الصف الثاني](#) ⇨ [رياضيات](#) ⇨ [الفصل الثالث](#)

المزيد من الملفات بحسب الصف الثاني والمادة رياضيات في الفصل الثالث

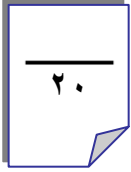
تحضير عين لدروس الفصل الثالث	1
<a href="#">اختبار الفترة الخامسة</a>	2
<a href="#">اختبار الفصل التاسع</a>	3
<a href="#">أسئلة اختبار الفصل العاشر</a>	4
<a href="#">اختبار الفترة الخامسة الباب التاسع</a>	5

بسم الله الرحمن الرحيم

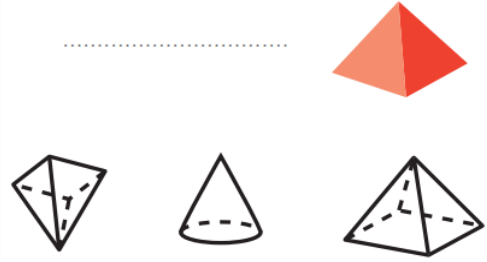
اسم الطالب :	 وزارة التعليم Ministry of Education	المملكة العربية السعودية	
		وزارة التعليم	
المادة : رياضيات		٢٠	الإدارة العامة للتعليم بمنطقة ( )
الصف : الثاني ابتدائي			مكتب التعليم ب
			مدرسة

### اختبار الفترة الثانية الفصل الدراسي الثالث لعام ١٤٤٣هـ

اكتب اسم الشكل في الفراغ، ثم ألون الأشكال المشابهة له:



almanahj.com/sa  
المنهج السعودية



أحط الأشياء التي توافق الوصف:

له ٦ أوجه و ١٢ حرفاً و ٨ رؤوس



٢ وجه ٠ حرف ٠ رأس



ألون الأشكال التي لها الاسم نفسه:

متوازي أضلاع

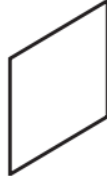


سداسي

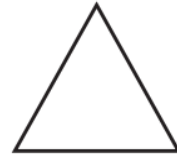


اكتب عدد الأضلاع والرؤوس:

أضلاع .....  
رؤوس .....



أضلاع .....  
رؤوس .....



أبحث عن الأشياء الموضحة صورها، ثم أقيس أطوالها مستعملاً وحدة قياس مناسبة:



٢

وحدة القياس: .....  
القياس: ..... تقريباً



١

وحدة القياس: .....  
القياس: ..... تقريباً

أبحث عن الأشياء الموضحة صورها، ثم أقيس أطوالها مستعملاً وحدة قياس طولها ستمتر واحد:

الشيء	وحدة القياس	القياس
<p>٣</p>		ستمترات تقريباً.
<p>٤</p>		ستمترات تقريباً.

انتهت الأسئلة

أ. أحمد الاحمدى  
@ahmad9963