

تم تحميل هذا الملف من موقع المناهج السعودية



الملف اختبار تشخيصي قبلي لتعزيز المهارات

[موقع المناهج](#) ⇨ [المناهج السعودية](#) ⇨ [الصف الثاني](#) ⇨ [علوم](#) ⇨ [الفصل الثالث](#)

الملف اختبار تشخيصي قبلي لتعزيز المهارات

[موقع المناهج](#) ⇨ [المناهج السعودية](#) ⇨ [الصف الثاني](#) ⇨ [علوم](#) ⇨ [الفصل الثالث](#)

المزيد من الملفات بحسب الصف الثاني والمادة علوم في الفصل الثالث

سجل متابعة للفصل الدراسي الثالث	1
تحضير كامل المنهج للفصل الثالث	2
أوراق عمل الفصل الثالث	3
كشف متابعة للفصل الدراسي الثالث	4
أوراق عمل الوجدتين الخامسة والسادسة للفصل الثالث	5

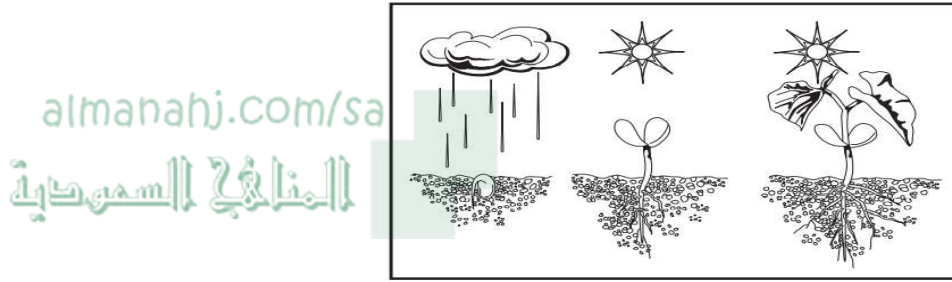
(نموذج اسئلة) اختبار التشخيص لبرنامج تعزيز المهارات للمرحلة الابتدائية

الدرجة المستحقة
١٠

المادة	العلوم (النموذج القبلي)
الصف المستهدف	ثاني ابتدائي
اسم الطالب/ة	المدرسة


قم باختيار الإجابة الصحيحة في كل مما يلي:

■ نلاحظ من خلال الصورة التالية أن النبات:







أ	ينتج الغذاء	ب	ينتج نباتا جديدا
ج	ينمو ويتغير	د	يطلق الأكسجين

■ أي جزأين من دورة الحياة يظهر في الرسم؟

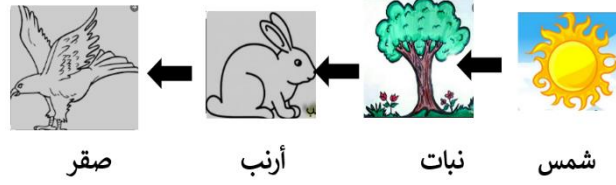


أ	بيضه وحيوان مكتمل النمو	ب	حيوان صغير واخر مكتمل النمو
ج	بيضه وحيوان صغير	د	حيوان مكتمل النمو واخر ميت

■ أي الحيوانات الاتية له جناحان ومنقار؟

أ		ب		ج		د	
---	---	---	--	---	---	---	---

▪ نلاحظ من خلال السلسلة الغذائية التالية أن الصقر يتغذى على:



٤




د



ج



ب



أ

▪ ما المعلومات التي أحصل عليها من السلسلة الغذائية؟

٥

تتأثر المخلوقات الحية بالضوء

ب

تحصل المخلوقات الحية على الغذاء

أ

تعتني الحيوانات بصغارها

د

تصنع النباتات الغذاء من الشمس

ج

▪ أي العبارات التالية تصف الموطن الذي توضحه الصورة؟



٦

د حار وجاف

ج بارد وفيه ثلوج

ب عشبي ودافئ

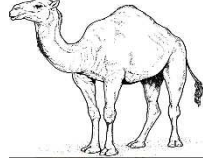
أ عشبي ورطب

أ أي الحيوانات التالية تعيش في المنطقة القطبية؟

٧




د



ج



ب



أ

كيف يجعل الدبال التربة أفضل للزراعة؟

almanahj.com/sa

٨

يجعل التربة تفقد الماء
يجعل لون التربة أكثر سواداً

ب

يزيل المواد المغذية من التربة

أ

د

يضيف المواد المغذية إلى التربة

ج

التوصل إلى أن دوران الأرض حول نفسها يسبب الليل والنهار

المهارة المستهدفة

ما سبب تعاقب الليل والنهار؟

٩

مدار الأرض

ب

الحركة الدورانية

أ

دوران الأرض حول محورها

د

دوران الأرض حول الشمس

ج

توضيح العلاقة بين الكواكب والشمس

المهارة المستهدفة

كيف تتشابه الكواكب الثمانية في النظام الشمسي؟

١٠

جميعها تدور حول الشمس

ب

جميعها متساوية في الحجم

أ

جميعها يحيط بها حلقات

د

جميعها يدور حولها قمر واحد

ج