

تم تحميل هذا الملف من موقع المناهج السعودية



*للحصول على أوراق عمل لجميع الصفوف وجميع المواد اضغط هنا

<https://www.almanahj.com/sa>

[2/sa/com.almanahj//:https](https://www.almanahj.com/sa/2)

* للحصول على أوراق عمل لجميع مواد الصف الثاني اضغط هنا

* للحصول على جميع أوراق الصف الثاني في مادة رياضيات ولجميع الفصول, اضغط هنا

<https://www.almanahj.com/sa/2math>

* للحصول على أوراق عمل لجميع مواد الصف الثاني في مادة رياضيات الخاصة بـ الفصل الأول اضغط هنا

<https://www.almanahj.com/sa/2math1>

* لتحميل كتب جميع المواد في جميع الفصول للـ الصف الثاني اضغط هنا

<https://www.almanahj.com/sa/grade2>

[sacourse/me.t//:https](https://www.almanahj.com/sa/course)

للحصول على جميع روابط الصفوف على تلغرام وفيسبوك من قنوات وصفحات: اضغط هنا

أوراق قياس مهارات الصف الثاني الابتدائي

الفترة التقويمية الثانية

للعام الدراسي ١٤٤٠-١٤٤١هـ

اسم الطالبة : الصف : الثاني / ب




اعداد المعلمة : بهزاد طالب بخاري

الاختبار التحريري رقم (٦) للصف الثاني الابتدائي الفترة الاولى

درجة الاتقان				المهارة	رقم المهارة
د	ج	ب	أ		
				قراءة البيانات الممثلة بالصور والأعمدة .	١٤

س ١ / استعملي التمثيل بالأعمدة للإجابة عن الأسئلة الآتية :



- ٤- ما المادة التي اختارها اقل عدد من الطلبة ؟
- ٥- ما عدد الطلبة الذين يفضلون مادة القراءة ؟ طالبًا
- ٦- ما مجموع الطلبة الذين استجابوا للسؤال ؟ طالبًا

س ٢ / استعملي التمثيل بالصور للإجابة عن الأسئلة الآتية :

الفواكه المفضلة

					التفاح
					الفاولة
					العنب

المفتاح : كل رمز يمثل استجابة واحدة

١- كم عدد أنواع الفواكه المعروضه ؟
نوع

٢- ما مجموع الأشخاص الذين يفضلون
العنب و التفاح ؟

٣- ما هي الفاكهة الأكثر تفضيلا ؟
.....







دعواتي
لكن
بالتوفيق











الاختبار التحريري رقم (٧) للصف الثاني الابتدائي الفترة الاولى

درجة الاتقان				المهارة	رقم المهارة
د	ج	ب	أ		
				تحديد الحدث الأكيد والحدث المستحيل .	١٥
				وصف الحوادث وفق إمكانية وقوعها .	١٦


س ١ / احيطي الإجابة الصحيحة بدائرة فيما يأتي :

مستحيل	أكيد	اختيار  من هذا الصف	
مستحيل	أكيد	اختيار  من هذا الصف	
مستحيل	أكيد	اختيار  من هذا الصف	

س ٢ / صف كل حادث مما يأتي بأنه (أكثر إمكانية أو أقل إمكانية) :

أكثر إمكانية	أقل إمكانية	في كيس يوجد به  و  إمكانية سحب  من سحب 
أكثر إمكانية	أقل إمكانية	في كيس يوجد به  و  إمكانية سحب  من سحب 

دعواتي لكن
بالتوفيق



الاختبار التحريري رقم (٨) للصف الثاني الابتدائي الفترة الاولى

درجة الاتقان				المهارة	رقم المهارة
د	ج	ب	أ		
				طرح و جمع عددين مكون كل منهما من ٣ أرقام على الأكثر بإعادة التجميع و بدونه.	٢٠
				التحقق من صحة ناتج الطرح باستعمال الجمع ..	٢١

س ١ / وجدي ناتج جمع او طرح كل مما يأتي :

$$\begin{array}{r} 49 \\ + 34 \\ \hline \end{array}$$

$$\begin{array}{r} 87 \\ + 11 \\ \hline \end{array}$$

$$\begin{array}{r} 53 \\ + 26 \\ \hline \end{array}$$

$$\begin{array}{r} 46 \\ - 29 \\ \hline \end{array}$$

$$\begin{array}{r} 75 \\ - 2 \\ \hline \end{array}$$

$$\begin{array}{r} 32 \\ - 17 \\ \hline \end{array}$$

س ٢ / اوجدي ناتج الطرح ثم تحقق منه بالجمع :

$$\begin{array}{r} \\ + \\ \hline \end{array}$$

$$\begin{array}{r} 52 \\ - 26 \\ \hline \end{array}$$

$$\begin{array}{r} \\ + \\ \hline \end{array}$$

$$\begin{array}{r} 37 \\ - 15 \\ \hline \end{array}$$



دعواتي لكن
بالتوفيق

الاختبار التحريري رقم (٩) للصف الثاني الابتدائي الفترة الاولى

درجة الاتقان				المهارة	رقم المهارة
د	ج	ب	أ		
				حل مسائل رياضية باستعمال استراتيجيات ومهارات مناسبة مع اتباع الخطوات الأربع ..	٢

س ١ / احل المسألة باستعمال خطة : اكتب جملة عديدة ..

كان على الشجرة ١٢ برتقالة ، سقط منها ثلاث برتقالات .
كم برتقالة بقيت على الشجرة ؟



برتقالات ○ ○

دعواتي لكن
بالتوفيق

