


شكراً لتحميلك هذا الملف من موقع المناهج السعودية



اختبار تشخيصي لبرنامج تعزيز المهارات

[موقع المناهج](#) ⇨ [المناهج السعودية](#) ⇨ [الصف الثاني](#) ⇨ [رياضيات](#) ⇨ [الفصل الثالث](#) ⇨ [الملف](#)

تاريخ نشر الملف على موقع المناهج: 11:42:00 2023-03-24

التواصل الاجتماعي بحسب الصف الثاني





















































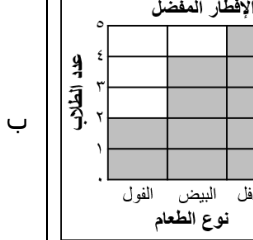





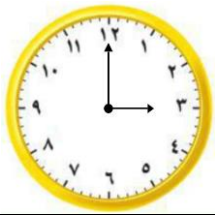
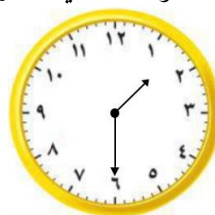
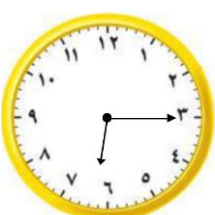
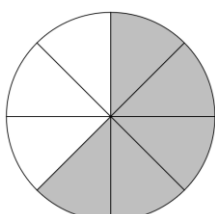
المزيد من الملفات بحسب الصف الثاني والمادة رياضيات في الفصل الثالث






مجموعة اختبارات نهائية	1
ملخص رائع لدروس المنهج	2
اختبار تحريبي للفترة الثانية	3
اختبار منتصف الفصل	4
الدرس الثالث الملتزمات اللترات	5

أسئلة اختبار التشخيص لبرنامج تعزيز المهارات للمرحلة الابتدائية

الدرجة المستحقة _____ ١٠	رياضيات		المادة
	الصف الثاني الابتدائي		الصف المستهدف
	المدرسة		اسم الطالب/ة
	قم باختيار الإجابة الصحيحة في كل مما يلي:		

المهارة المستهدفة		قراءة البيانات الممثلة بالصور والأعمدة																												
<p>الشكل أدناه يبين المواد المفضلة لدي الطلاب، ما مجموع الطلاب الذين يفضلون مادة الرياضيات أو العلوم؟</p> <div style="border: 1px solid black; padding: 10px; margin: 10px auto; width: 80%;"> <p style="text-align: center;">المادة المفضلة</p> <table border="1" style="width: 100%; text-align: center;"> <tr> <td></td> <td></td> <td></td> <td></td> <td></td> <td>الرياضيات </td> </tr> <tr> <td></td> <td></td> <td></td> <td></td> <td></td> <td>القراءة </td> </tr> <tr> <td></td> <td></td> <td></td> <td></td> <td></td> <td>العلوم </td> </tr> <tr> <td></td> <td></td> <td></td> <td></td> <td></td> <td>البدنية </td> </tr> </table> <p style="text-align: center; border: 1px solid black; padding: 5px; margin-top: 5px;">المفتاح: كل صورة = استجابة واحدة</p> </div>												الرياضيات 						القراءة 						العلوم 						البدنية 
					الرياضيات 																									
					القراءة 																									
					العلوم 																									
					البدنية 																									
أ	٣	ب	٤	ج	٦	د	٧																							
المهارة المستهدفة		قراءة البيانات الممثلة بالصور والأعمدة																												
<p>جدول الإشارات في الشكل أدناه يمثل الإفطار المفضل لدي الطلاب، ما الشكل الذي يمثل البيانات بالأعمدة؟</p> <table border="1" style="width: 100%; text-align: center;"> <tr> <th>الإشارات</th> <th>الإفطار المفضل</th> </tr> <tr> <td> </td> <td>الفول</td> </tr> <tr> <td> </td> <td>البيض</td> </tr> <tr> <td> /</td> <td>الفلافل</td> </tr> </table>							الإشارات	الإفطار المفضل		الفول		البيض	/	الفلافل																
الإشارات	الإفطار المفضل																													
	الفول																													
	البيض																													
/	الفلافل																													
أ	ب	ج	د																											
<div style="border: 1px solid black; padding: 5px;"> <p style="text-align: center;">الإفطار المفضل</p>  </div>		<div style="border: 1px solid black; padding: 5px;"> <p style="text-align: center;">الإفطار المفضل</p>  </div>		<div style="border: 1px solid black; padding: 5px;"> <p style="text-align: center;">الإفطار المفضل</p>  </div>		<div style="border: 1px solid black; padding: 5px;"> <p style="text-align: center;">الإفطار المفضل</p>  </div>																								
المهارة المستهدفة		قراءة البيانات الممثلة بالصور والأعمدة																												
<p>التمثيل بالأعمدة أدناه يمثل الطلاب المتفوقين من الصف الثاني، كم عدد الطلاب المتفوقين يوم الثلاثاء؟</p> <div style="border: 1px solid black; padding: 10px; margin: 10px auto; width: 80%;"> <p style="text-align: center;">الطلاب المتفوقين من الصف الثاني</p>  </div>																														
أ	٢	ب	٣	ج	٤	د	٥																							

٤	المهارة المستهدفة				قراءة الساعة وكتابة الوقت الذي تشير إليه الساعة			
	بدأت المباراة الساعة ٧:٠٥ وبعد عشرين دقيقة أحرز الفريق الأحمر الهدف الأول، فكم كانت الساعة وقت احراز الهدف؟							
٥	أ	٧:١٥	ب	٧:٢٥	ج	٧:٣٥	د	٧:٤٥
	المهارة المستهدفة				قراءة الساعة وكتابة الوقت الذي تشير إليه الساعة			
٦	وصل إبراهيم إلى المنزل بحسب الوقت أدناه، ما الوقت الذي تشير إليه الساعة؟							
								
٧	أ	٣:٠٠	ب	٣:١٥	ج	١٢:٠٠	د	١٢:١٥
	المهارة المستهدفة				قراءة الساعة وكتابة الوقت الذي تشير إليه الساعة			
٨	يبدأ محمد مراجعة الرياضيات بحسب الوقت أدناه، ما الوقت الذي تشير إليه الساعة؟							
								
٩	أ	١٢:٠٠	ب	١٢:٣٠	ج	١:٠٠	د	١:٣٠
	المهارة المستهدفة				قراءة الساعة وكتابة الوقت الذي تشير إليه الساعة			
١٠	ذهب سعد إلى سوق الخضار بحسب الوقت أدناه، ما الوقت الذي تشير إليه الساعة؟							
								
١١	أ	٣:٠٠	ب	٣:٣٠	ج	٦:١٥	د	٦:٢٠
	المهارة المستهدفة				تمثيل الكسر الدل على أكثر من جزء واحد من أجزاء الكل المتطابقة وقراءته وكتابته			
١٢	ما الكسر الذي يمثل الأجزاء المظللة من الشكل؟							
								
١٣	أ	$\frac{3}{8}$	ب	$\frac{4}{8}$	ج	$\frac{5}{8}$	د	$\frac{6}{8}$

المهارة المستهدفة		تمثيل الكسر الدل على أكثر من جزء واحد من أجزء الكل المتطابقة وقراءته وكتابته	
٩		ما الشكل الذي يمثل $\frac{3}{7}$ ؟	
أ		ب	
ج		د	
المهارة المستهدفة		التعبير بالكسور عن شيء أو أشياء متماثلة ضمن مجموعة	
١٠		ما الكسر الذي يمثل عدد الأسماك السوداء؟	
			
أ	$\frac{3}{7}$	ب	$\frac{3}{4}$
ج	$\frac{4}{7}$	د	$\frac{4}{4}$

انتهت الأسئلة..