

أسئلة نافس في مجال علوم الأرض والفضاء



تم تحميل هذا الملف من موقع المناهج السعودية

موقع المناهج ← المناهج السعودية ← الصف الثالث الثانوي ← علوم ← الفصل الثالث ← اختبارات ← الملف

تاريخ إضافة الملف على موقع المناهج: 08:42:48 2025-04-12

ملفات اكتب للمعلم اكتب للطالب ا اختبارات الكترونية ا اختبارات ا حلول ا عروض بوربوينت ا أوراق عمل
منهج انجليزي ا ملخصات وتقارير ا مذكرات وبنوك ا الامتحان النهائي ا للمدرس

المزيد من مادة
علوم:

التواصل الاجتماعي بحسب الصف الثالث الثانوي



صفحة المناهج
السعودية على
فيسبوك

الرياضيات

اللغة الانجليزية

اللغة العربية

التربية الاسلامية

المواد على تلغرام

المزيد من الملفات بحسب الصف الثالث الثانوي والمادة علوم في الفصل الثالث

اختبار نهائي الدور الأول علم الأرض والفضاء 1445هـ

1

أوراق عمل علوم الأرض والفضاء مسارات مع نموذج الإجابة

2

حل مذكرة علم الأرض والفضاء

3

مذكرة أوراق عمل شاملة غير محلولة علم الأرض والفضاء

4

ملخص شامل لفصول منهج علوم الأرض والفضاء


5

أسئلة محاكية لاختبارات نافس في مجال العلوم الأرض والفضاء

١- قام أربعة طلاب بوصف ظاهرة خسوف القمر من خلال الرسوم التوضيحية التالية أي مما يلي يصف الظاهرة بشكل صحيح ؟

أ		ج	
ب		د	

٢- من خلال الشكل أدناه ما الترتيب الصحيح لحركة صفائح القشرة الأرضية :



١ - ٤ - ٣ - ٢

ج

٣ - ٢ - ١ - ٤

أ

٤ - ١ - ٢ - ٣

د

٣ - ٢ - ٤ - ١

ب

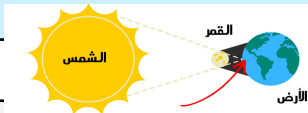
٣- لاحظ العلماء في بعض المناطق تغيراً في المناخ وزيادة ملحوظة في درجات الحرارة بالإضافة إلى قلة الأمطار ماذا يمكن أن يحدث نتيجة لذلك ؟

أ	ثوران البراكين	ج	هجرة الحيوانات
ب	هجرة بعض الحيوانات	د	زيادة تنوع الحيوانات

٤- عبارة عن جسم صخري أو فلزي صغير يدخل الغلاف الجوي للأرض ويحترق قبل ارتطامه بسطح الأرض ويظهر كخط لامع في السماء التعريف السابق هو ؟

أ	النيزك	ج	الكويكب
ب	المذنب	د	الشهاب

٥- من الشكل المجاور ما الذي يحدث في المنطقة المشار إليها بسهم الأحمر ؟



خسوف جزئي

ج

كسوف جزئي

أ

خسوف كلي

د

كسوف كلي

ب

٦- تدور الكواكب حول الشمس بسبب قوة الجذب وتزداد هذه القوة كلما ؟

أ	زادت كتلة الكوكب وابتعد عن الشمس	ج	زادت كتلة الكوكب واقترب من الشمس
ب	نقصت كتلة الكوكب واقترب من الشمس	د	نقصت كتلة الكوكب وابتعد عن الشمس

٧- أي مما يلي يمثل الموضع الصحيح للشمس حتى يتكون ظل الحيوان كما هو موضح في الشكل أدناه :



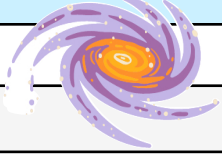
ج ٣

أ ١

د ٤

ب ٢

٨- في الشكل المجاور نوع من أنواع المجرات يوصف شكلها بأنه ؟



ج إهليلجي

أ غير المنتظم

د بيضاوي

ب لولبي

٩- أي مما يلي يمثل شكل مجرة درب التبانة والتي تقع فيه مجموعتنا الشمسية :

ج بيضاوي

أ لولبي

د غير منتظم

ب إهليلجي

١٠- من خلال الجدول أدناه أي النجوم التالية الأكثر حرارة :

اللون	النجم
أبيض مزرق	الرجل الصياد
أحمر	الجوزاء
أصفر	النجم القطبي
أبيض	الشمس

ج الشمس

أ الرجل الصياد

د النجم القطبي

ب يد الجوزاء

١١- سمعت في نشرة الأخبار عن تدمير منازل كثيرة في بعض الجزر بسبب ثوران أحد البراكين في المنطقة مانوع هذا البركان ؟



ج ساكن

أ نشط

د هادئ

ب هامد

١٢- ماذا نستخدم لقياس قوة زلزال ضرب إحدى المدن فخلف وراءه اثراً تدميرية ؟

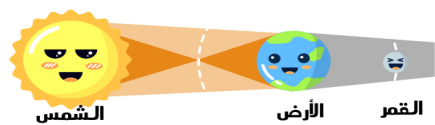
ج السيزمومتر

أ ميزاناً نابضياً

د ميزاناً زلزالياً

ب مقياس ريختر

١٣- أي الظواهر الفلكية التالية يعبر عنها الشكل أدناه ؟



ج خسوف القمر

أ خسوف الشمس

د كسوف الشمس

ب كسوف القمر

١٤- أي أطوار القمر الآتية يظهر عندما يكون موضع القمر بين الشمس والأرض ؟

أ		ج	
ب		د	


١٥- قامت ندى بأداة صلاة الظهر في وقت الزوال حيث يعود الفضل بعد الله في معرفتها لأوقات الصلاة إلى ؟

أ	التوقيت المعياري	ج	أطوار القمر
ب	حركة الشمس	د	المجموعة النجمية

١٦- ذهب أحمد في رحلة على منطاد وأثناء ارتفاعه في طبقات الغلاف الجوي لاحظ حدوث تغيرات الطقس تسمى طبقة ؟

أ	الميزوسفير	ج	الستراتوسفير
ب	التروبوسفير	د	الثيرموسفير

١٧- أي المخططات التالية يصف الحركة الصحيحة للأرض والقمر حول الشمس ؟



١٨- يوضح الشكل أدناه الأثر الذي خلفته أحد الظواهر الطبيعية التي تحدث على سطح الأرض ما الظاهرة المسؤولة عن ذلك ؟

أ	البراكين	ج	التعرية
ب	التجوية	د	الزلازل



١٩- سافر راكان بسيارته ليلا في اليوم التاسع من شهر الهجري وخلال سفره استمتع بمشاهد القمر أي الصور التالية تمثل شكل القمر الذي شاهده راكان أثناء سفره ؟



ج



أ

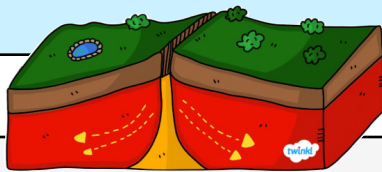


د



ب

٢٠- يسمى موقع حدوث الزلزال تحت سطح الأرض ؟



الصدع

ج

بؤرة الزلزال

أ

عين الزلزال

د

المركز السطحي

ب

٢١- أعلنت هيئة المساحة الجيولوجية السعودية عن اكتشاف بقايا حوت بدائي منقرض في منطقة الجوف شمال المملكة العربية السعودية تسمى هذه البقايا ؟

قواقع

ج

الأحافير

أ

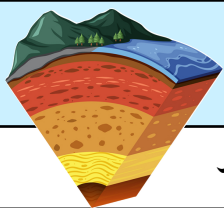
رسوبيات

د

أصداف

ب

٢٢- ما الترتيب الصحيح للطبقات الغلاف الصخري للأرض؟



اللب - القشرة الأرضية - الستار

ج

القشرة الأرضية - الستار - اللب

أ

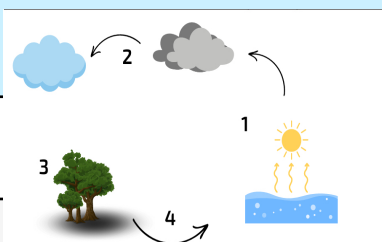
اللب - القشرة الأرضية - الستار

د

القشرة الأرضية - اللب - الستار

ب

٢٣- يمثل الشكل التوضيحي أدناه دورة الماء في الطبيعة أي مما يلي يمثل العامل الرئيس المحرك فيها ؟



الغيوم

ج

البحار

أ

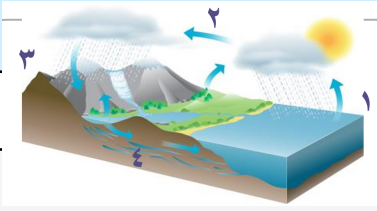
الرياح

د

الشمس

ب

٢٤- حسب الشكل المجاور أي العمليات الآتية تحدث في المرحلة رقم (١)



التبخر

ج

التجمد

أ

الهطول

د

التكثف

ب

٢٥- في أي الحالات التالية تقل قدرة النباتات المائية على القيام بعملية البناء الضوئي ؟

بالقرب من الشاطئ

ج

عند المد والجزر

أ

عند هطول الأمطار

د

بالقرب من قاع البحر

ب

٢٦- أي مما يلي يمثل نوع الطاقة الناتجة عن المياه الجارية وتستخدم في توليد الكهرباء ؟

الكهرومغناطيسية

ج

الكهروكيميائية

أ

الكهروضوئية

د

الكهرومائية

ب

٢٧- شاهدت ساره والدتها وهي تهم برمي علبة معدنية في سلة المهملات فقامت بأخذها وتحويلها إلى علبة مناديل جميلة كما في الصورة ماذا نسمي التصرف الذي قامت به سارة :



تدوير

ج

ترشيد

أ

تبذير

د

استهلاك

ب

٢٨- باستخدام المخطط أدناه أي مما يلي يمثل النجم العملاق الأزرق :



٣

ج

١

أ

٤

د

٢

ب

٢٩- أي الأعمال التالية يمكن أن يقوم بها المزارع ليحافظ على تربة مزرعته من جريان مياه الأمطار :

الحراثة الكنتورية باستخدام الحيوانات

ج

زراعة محصول الذرة في كل عام

أ

حفر عدد من الآبار للحصول على الماء

د

إضافة سماد حيواني للتربة

ب

الأسئلة تم جمعها من تجميعات
نافس لعام ١٤٤٥ هـ

لا نحلل بيعه أو نشره بدون وجود هذه
الصفحة وذكر المصدر
جمع وإعداد
المعلمتان
فاطمة صديق
غيمة أمل

اختبارات نافس

الوطنية بتفوق استثنائي