

تم تحميل هذا الملف من موقع المناهج السعودية

almanahj.com/sa

# موقع المناهج السعودية

\*للحصول على أوراق عمل لجميع الصفوف وجميع المواد اضغط هنا

<https://www.almanahj.com/sa>

\* للحصول على أوراق عمل لجميع مواد المستوى السادس اضغط هنا

<https://almanahj.com/sa/15>

\* للحصول على جميع أوراق المستوى السادس في مادة رياضيات ولجميع الفصول, اضغط هنا

<https://almanahj.com/sa/15>

\* للحصول على أوراق عمل لجميع مواد المستوى السادس في مادة رياضيات الخاصة بـ اضغط هنا

<https://www.almanahj.com/sa/153>

\* لتحميل كتب جميع المواد في جميع الفصول للمستوى السادس اضغط هنا

<https://www.almanahj.com/sa/grade15>

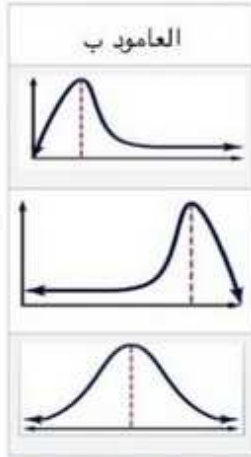
للحصول على جميع روابط الصفوف على تلغرام وفيسبوك من قنوات وصفحات: اضغط هنا <https://me.t://https://www.almanahj.com/sa/grade15>

## ورقة عمل الرياضيات درس التوزيع

### الطبيعي

اسم الطالبه :

صلي كل إجابة من العمود أ بما يناسبها من العمود ب :



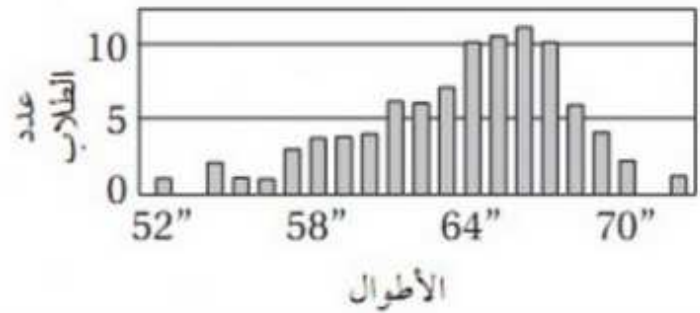
العمود أ
توزيع سالب الالتواء
توزيع طبيعي
توزيع موجب الالتواء

اجيبي بصح او خطأ فيما يلي :

( صح ، خطأ )

إذا توزعت بيانات شركة ما توزيعاً طبيعياً وكان:  $\mu=121$  ,  $\sigma=9$  فإن  $P(x<112)=16\%$

يوضح الشكل أدناه التمثيل البياني لأطوال طلاب المرحلتين المتوسطة والثانوية . فإن هذه البيانات موزعة توزيعاً طبيعياً



( صح ، خطأ )

( صح ، خطأ )

حسب القانون التجريبي، فإن معظم البيانات في التوزيع الطبيعي تقع ضمن الفترة  $(\mu-\sigma, \mu+\sigma)$

17

13.5%

2%

34%

13.5%

23

34%

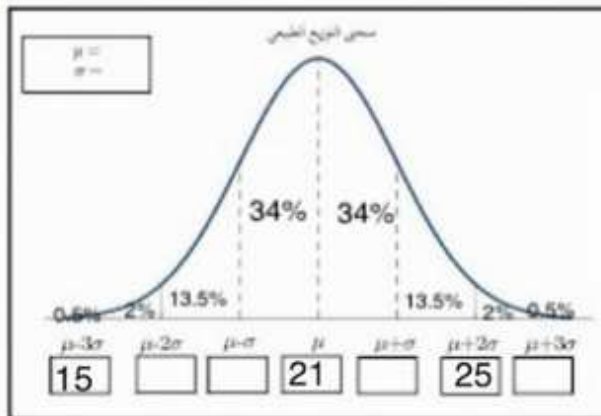
19

0.5%

27

29

68%



ضعي الاجابه الصحيحه من الجدول

في الخانه المناسبه لها :

أعطى عمران اختباراً قصيراً لطلبتة الذين يبلغ عددهم (50) طالباً، وكانت الدرجات موزعة توزيعاً طبيعياً بمتوسط حسابي 21، وانحراف معياري 2، فما العدد التقريبي للطلاب الذين تقع درجاتهم بين 19,23 ؟

اي ان

( ) + ( ) = ( )

عمل الطالبة : حصة المزند  
شعبة (17)  
إشراف : أ.أنوار المسند