

تم تحميل هذا الملف من موقع المناهج السعودية



## موقع المناهج المنهاج السعودي

\* للحصول على أوراق عمل لجميع الصفوف وجميع المواد اضغط هنا

<https://www.almanahj.com/sa>

\* للحصول على أوراق عمل لجميع مواد المستوى السادس اضغط هنا

<https://almanahj.com/sa/15>

\* للحصول على جميع أوراق المستوى السادس في مادة رياضيات ولجميع الفصول, اضغط هنا

<https://almanahj.com/sa/15math>

\* للحصول على أوراق عمل لجميع مواد المستوى السادس في مادة رياضيات الخاصة بالفصل الثاني اضغط هنا

<https://www.almanahj.com/sa/15math2>

\* لتحميل كتب جميع المواد في جميع الفصول للمستوى السادس اضغط هنا

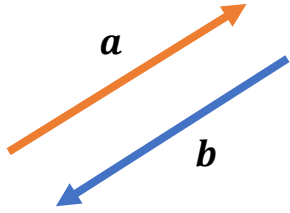
<https://www.almanahj.com/sa/grade15>

للحصول على جميع روابط الصفوف على تلغرام وفيسبوك من قنوات وصفحات: اضغط هنا

<https://t.me/sacourse>

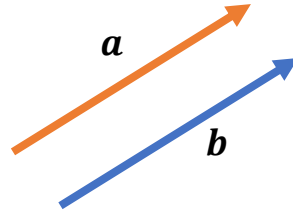
# المتجهات

المتجهان المتعاكسان



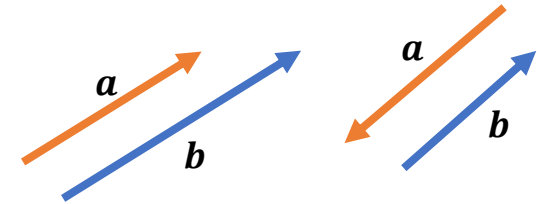
$$a = \dots\dots$$

المتجهات المتساوية  
(المتكافئة)



$$a \dots\dots b$$

المتجهات المتوازية



$$a \dots\dots b$$