

## نموذج اختبار أحياء 2 عملي



### تم تحميل هذا الملف من موقع المناهج السعودية

موقع المناهج ← المناهج السعودية ← الصف الثاني الثانوي ← علوم ← الفصل الثالث ← ملفات متنوعة ← الملف

تاريخ إضافة الملف على موقع المناهج: 20:01:49 2025-05-12

ملفات اكتب للمعلم اكتب للطالب | اختبارات الكترونية | اختبارات | حلول | عروض بوربوينت | أوراق عمل  
منهج انجليزي | ملخصات وتقارير | مذكرات وبنوك | الامتحان النهائي | للمدرس

المزيد من مادة  
علوم:

### التواصل الاجتماعي بحسب الصف الثاني الثانوي



صفحة المناهج  
السعودية على  
فيسبوك

الرياضيات

اللغة الانجليزية

اللغة العربية

التربية الاسلامية

المواد على تلغرام

### المزيد من الملفات بحسب الصف الثاني الثانوي والمادة علوم في الفصل الثالث

اختبار عملي أحياء 2 مسارات

1

اختبار نهائي أحياء 2

2

حل النموذج الثاني للاختبار العملي أحياء 2

3

حل النموذج الأول للاختبار العملي أحياء 2

4

اختبار تشخيصي قبلي أحياء 2

5

7	الأول	درجات الاختبار
3	الثاني	
10	المجموع	

اختبار عملي لمقرر أحياء 2-3  
الفصل الدراسي الثالث  
للعام الدراسي .....

الشعبة



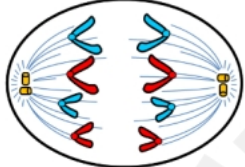
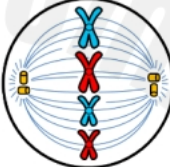
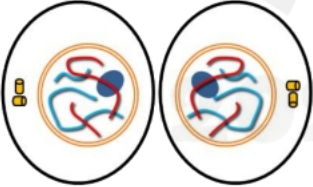
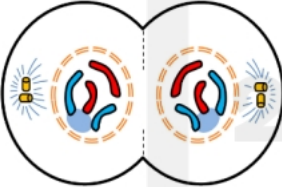
الاسم

ابدأ بذكر الله وبعد ذلك أكتب اسمك وشعبتك في الأعلى، واقرأ الأسئلة والفقرات بشكل جيد قبل أن تجيب عن أي سؤال.. بالتوفيق!

7	
---	--

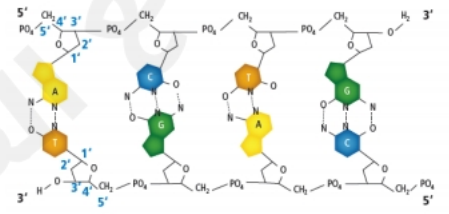
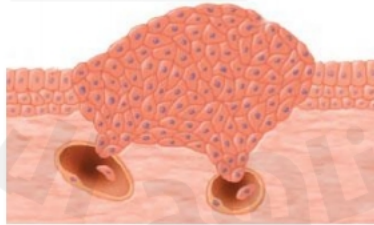
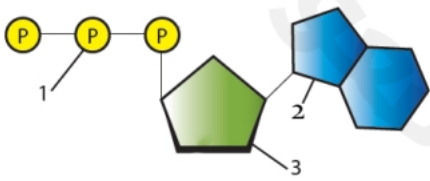
السؤال الأول: تعرف على الرسومات التالية وحدد اسم الطور من دورة الخلية

هذه الرسومات تمثل مراحل .....

	الطور .....	2		الطور .....	1
	الطور .....	4		الطور .....	3
	الطور .....	6		الطور .....	5

3	
---	--

السؤال الثاني: شاهد الصور التالية ثم اجب عن السؤال أسفلها.



ما هو اسم الجزيء الكيميائي في الصورة؟

.....

ما المشكلة الظاهر في الرسم؟

.....

ما هو التركيب الظاهر في الرسم؟

.....

انتهت الأسئلة